







おうちで、やろう。

Study at home. 小学校受験の家庭学習教材

言語：音の数8

それぞれの四角の中の絵の音の数を考えます。5つの中で同じ音の数のものを2つ見つけて○をつけます。



※1. このプリントは、しながわ・目黒こどもスクールのウェブサイトでダウンロードができます。無断複写・引用はご遠慮ください。

※2. このプリントを活用したオンライン授業のスケジュールは、しながわ・目黒こどもスクールのウェブサイトでご確認ください。










おうちで、やろう。

Study at home. 小学校受験の家庭学習教材

言語：音の数 9

それぞれの四角の中の絵の音の数を考えます。4つの中で音の数が違うものを見つけて×をつけます。



※1. このプリントは、しながわ・目黒こどもスクールのウェブサイトからダウンロードできます。無断複写・引用はご遠慮ください。
※2. このプリントを活用したオンライン授業のスケジュールは、しながわ・目黒こどもスクールのウェブサイトでご確認ください。

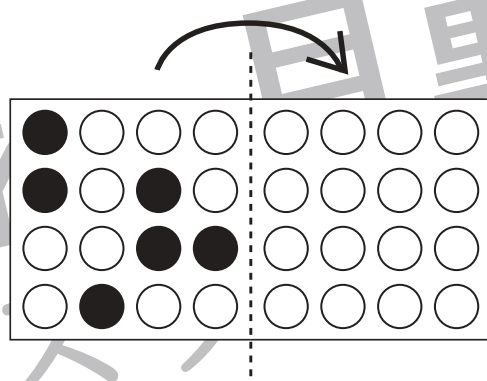
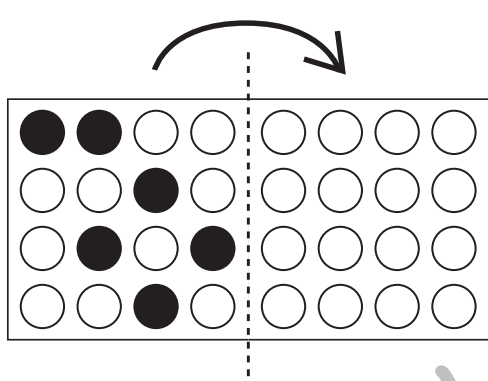
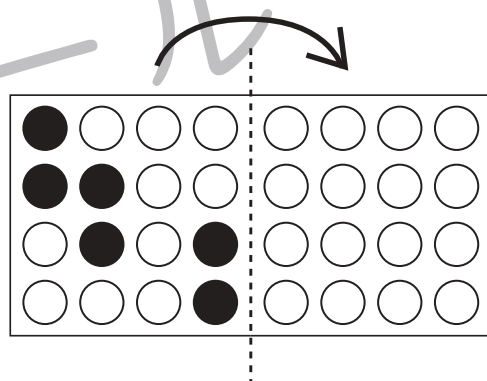
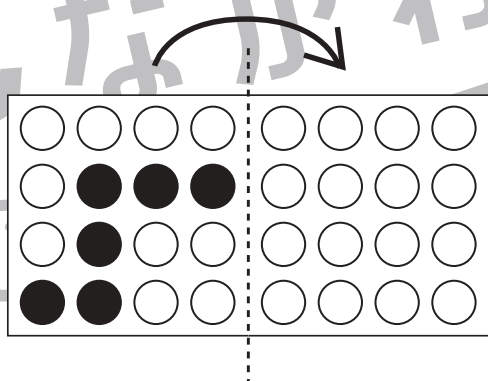
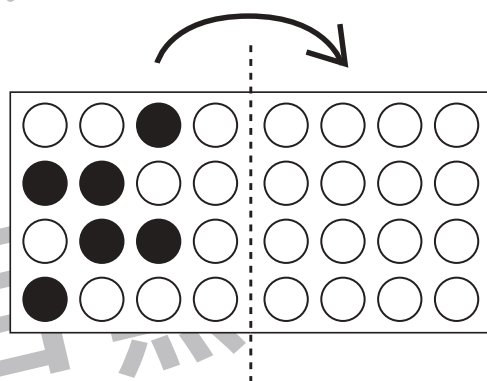
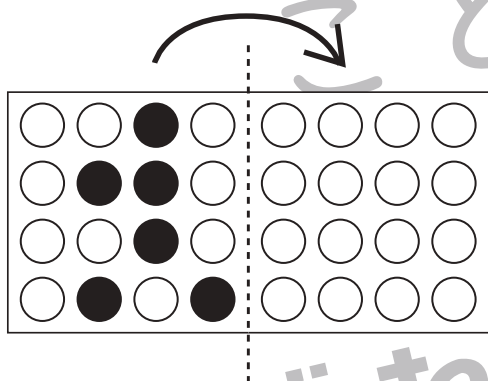
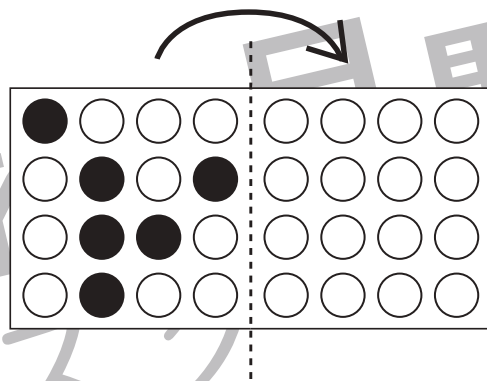
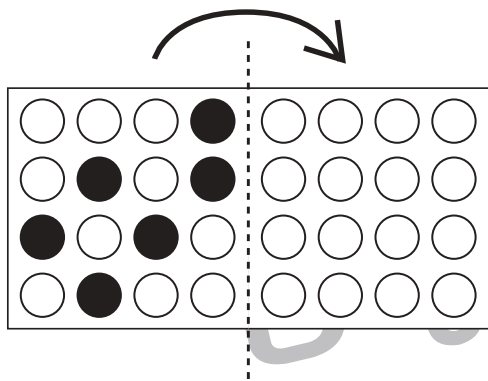


おうちで、やろう。

Study at home. 小学校受験の家庭学習教材

図形：折り重ね6

真ん中の太い線で矢印の方向へ折り重ねたときの見え方を考えて右の○を塗ります。



※1. このプリントは、しながわ・目黒こどもスクールのウェブサイトでダウンロードができます。無断複写・引用はご遠慮ください。
※2. このプリントを活用したオンライン授業のスケジュールは、しながわ・目黒こどもスクールのウェブサイトでご確認ください。



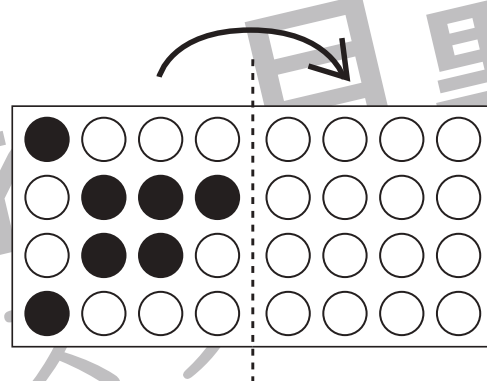
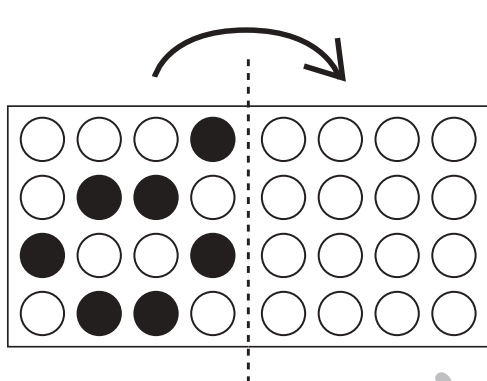
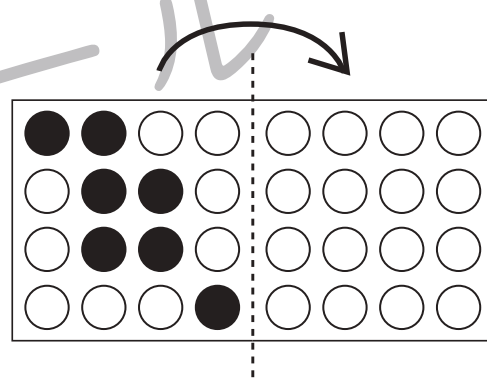
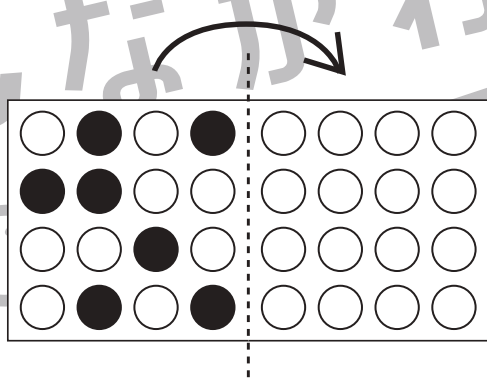
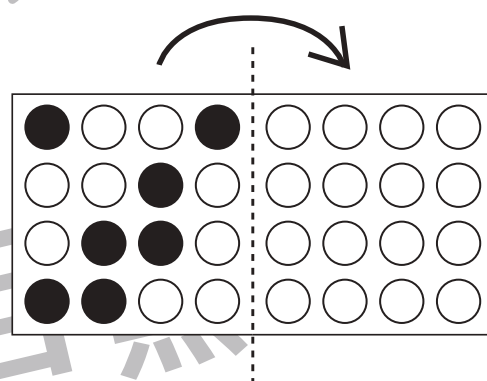
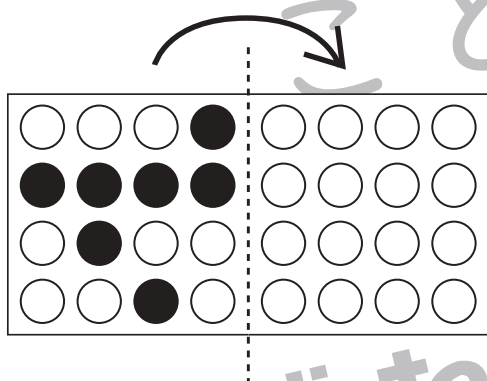
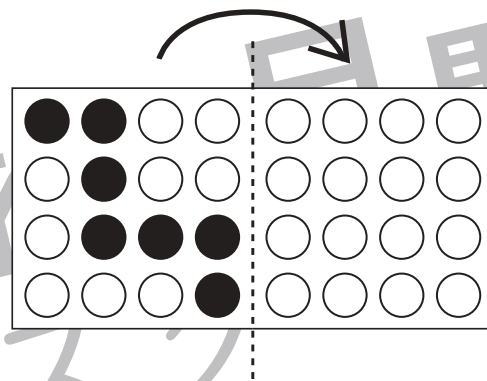
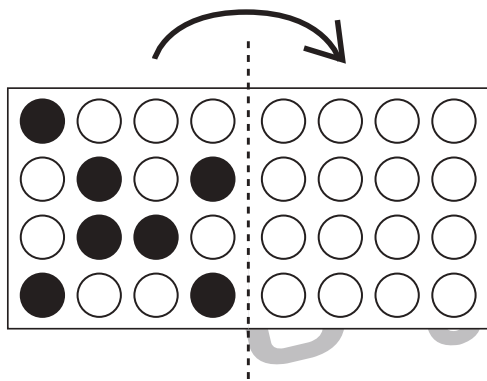


おうちで、やろう。

Study at home. 小学校受験の家庭学習教材

図形：折り重ね7

真ん中の太い線で矢印の方向へ折り重ねたときの見え方を考えて右の○を塗ります。



※1. このプリントは、しながわ・目黒こどもスクールのウェブサイトでダウンロードができます。無断複写・引用はご遠慮ください。
※2. このプリントを活用したオンライン授業のスケジュールは、しながわ・目黒こどもスクールのウェブサイトでご確認ください。



おうちで、やろう。

Study at home. 小学校受験の家庭学習教材

推理：系列完成 7

それぞれマスには記号がある約束で並んでいます。このとき、空いている太いマスに入る記号を考えてその記号をかきます。

①

| |
|---|
| ○ |
| × |
| ○ |
| △ |
| ○ |
| × |
| |
| △ |
| ○ |
| |
| ○ |
| |

②

| |
|---|
| ○ |
| △ |
| △ |
| × |
| ○ |
| |
| |
| × |
| |
| △ |
| △ |
| × |

③

| |
|---|
| |
| |
| □ |
| |
| □ |
| ○ |
| □ |
| × |
| □ |
| ○ |
| □ |
| × |

④

| |
|---|
| × |
| × |
| |
| ▽ |
| × |
| |
| |
| ▽ |
| × |
| × |
| ○ |
| ▽ |

⑤

| |
|---|
| ○ |
| ▽ |
| ○ |
| × |
| ○ |
| |
| ○ |
| |
| ○ |
| ▽ |
| |
| × |

※1. このプリントは、しながわ・目黒こどもスクールのウェブサイトでダウンロードができます。無断複写・引用はご遠慮ください。

※2. このプリントを活用したオンライン授業のスケジュールは、しながわ・目黒こどもスクールのウェブサイトでご確認ください。



おうちで、やろう。

Study at home. 小学校受験の家庭学習教材

推理：系列完成 8

それぞれマスには記号がある約束で並んでいます。このとき、空いている太いマスに入る記号を考えてその記号をかきます。

①

| |
|---|
| ○ |
| ○ |
| × |
| △ |
| ○ |
| ○ |
| ○ |
| × |
| △ |
| |
| ○ |
| ○ |
| ○ |

| |
|---|
| |
| |
| × |
| ○ |
| ○ |
| ○ |
| |
| × |
| |
| ○ |
| ○ |
| △ |

②

| |
|---|
| |
| □ |
| ○ |
| × |
| |
| × |
| |
| ○ |
| × |
| |
| × |
| |
| ○ |
| × |
| |

| |
|---|
| ○ |
| × |
| |
| |
| × |
| ○ |
| |
| ○ |
| □ |
| × |
| |
| ○ |
| × |
| |

| |
|---|
| ○ |
| × |
| |
| |
| × |
| ○ |
| |
| ○ |
| □ |
| × |
| |
| ○ |
| × |
| |

| |
|---|
| × |
| |
| × |
| |
| × |
| |
| ○ |
| × |
| ○ |
| × |
| □ |
| ○ |
| |

| |
|---|
| □ |
| |
| × |
| |
| × |
| |
| ○ |
| × |
| ○ |
| × |
| □ |
| ○ |
| |

※1. このプリントは、しながわ・目黒こどもスクールのウェブサイトでダウンロードができます。無断複写・引用はご遠慮ください。
※2. このプリントを活用したオンライン授業のスケジュールは、しながわ・目黒こどもスクールのウェブサイトでご確認ください。

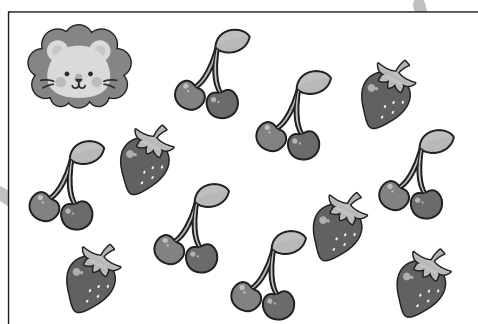
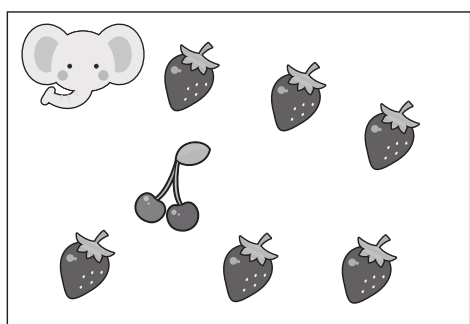
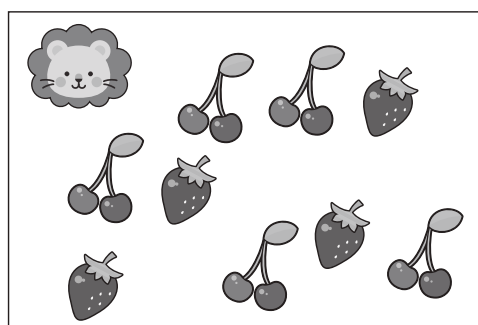
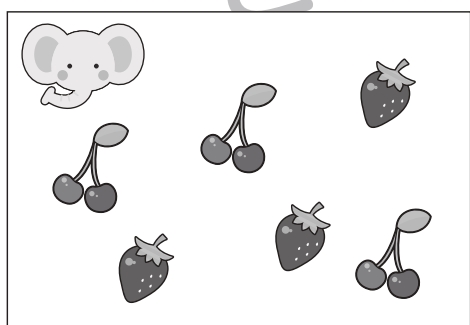


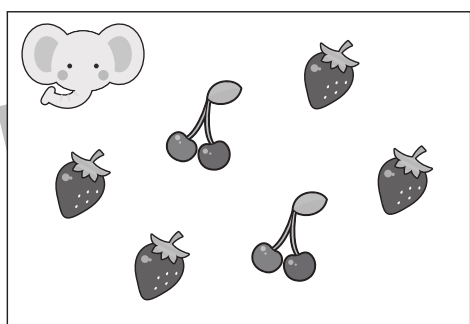
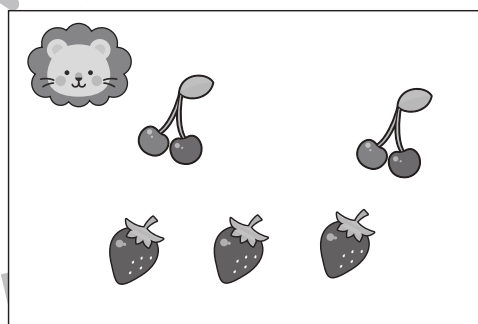
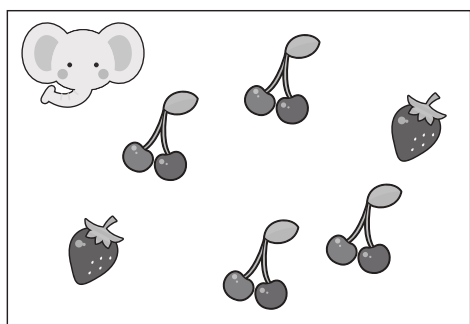

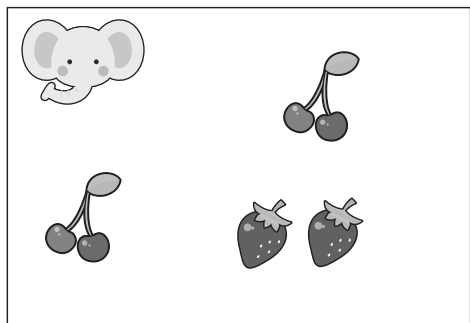


おうちで、やろう。

Study at home. 小学校受験の家庭学習教材

数量：違う数 4

ゾウちゃんとライオンくんはそれぞれサクランボとイチゴを持っています。2匹が持っている果物のうちサクランボの数の違いはいくつですか。その数だけ真ん中の四角に○をかきます。



※1. このプリントは、しながわ・目黒こどもスクールのウェブサイトでダウンロードができます。無断複写・引用はご遠慮ください。

※2. このプリントを活用したオンライン授業のスケジュールは、しながわ・目黒こどもスクールのウェブサイトでご確認ください。

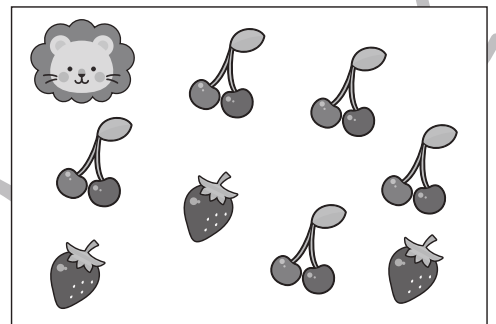

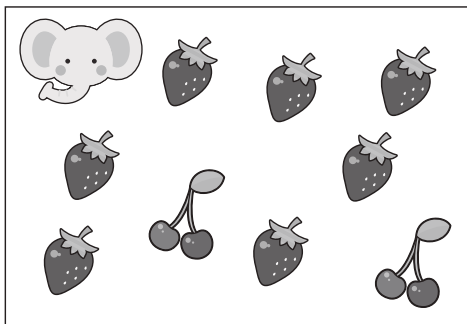
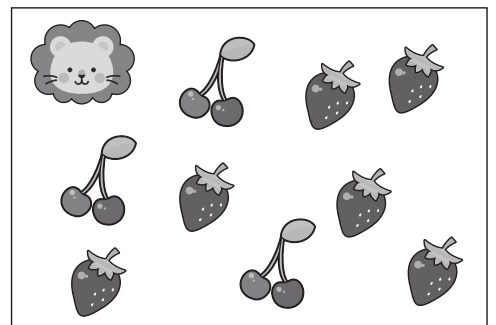
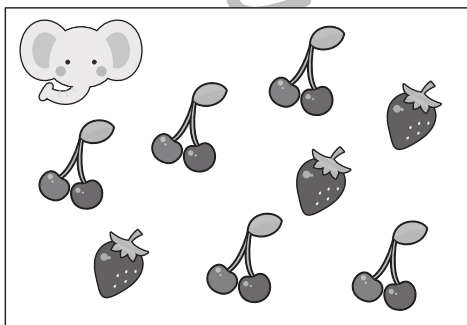
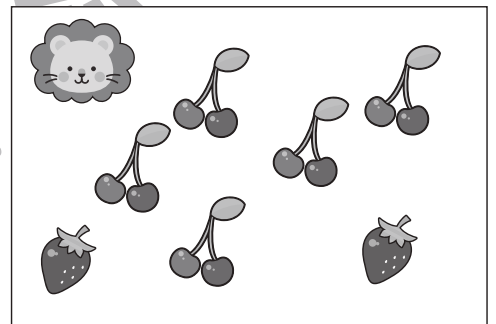

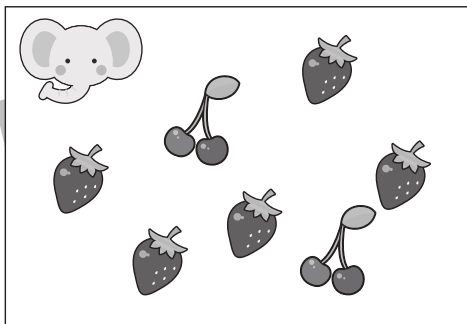
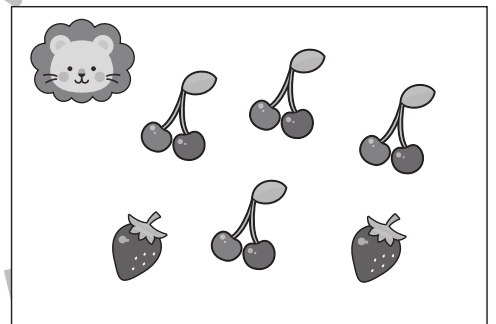

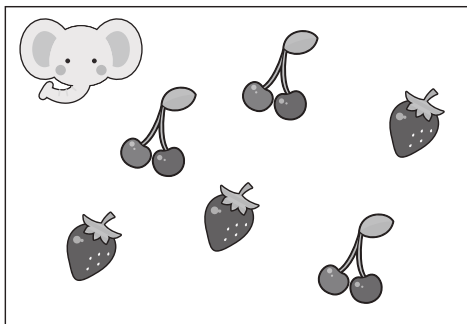


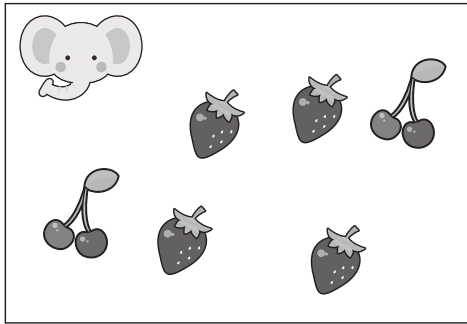


おうちで、やろう。

Study at home. 小学校受験の家庭学習教材

数量：違う数5

ゾウちゃんとライオンくんはそれぞれサクランボとイチゴを持っています。2匹が持っている果物のうちイチゴの数の違いはいくつですか。その数だけ真ん中の四角に○をかきます。



※1. このプリントは、しながわ・目黒こどもスクールのウェブサイトでダウンロードができます。無断複写・引用はご遠慮ください。

※2. このプリントを活用したオンライン授業のスケジュールは、しながわ・目黒こどもスクールのウェブサイトでご確認ください。




おうちで、やろう。

Study at home. 小学校受験の家庭学習教材

数量：計数6

上の大きな四角の中のそれぞれの形の数をかぞえます。かぞえた数だけ下の四角の同じ形の右に○をかきます。



| | |
|--|--|
| | |
| | |
| | |
| | |
| | |

※1. このプリントは、しながわ・目黒こどもスクールのウェブサイトでダウンロードができます。無断複写・引用はご遠慮ください。

※2. このプリントを活用したオンライン授業のスケジュールは、しながわ・目黒こどもスクールのウェブサイトでご確認ください。


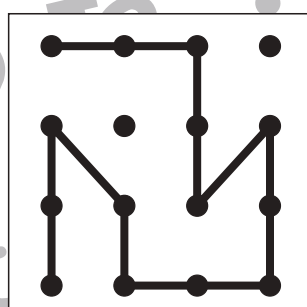

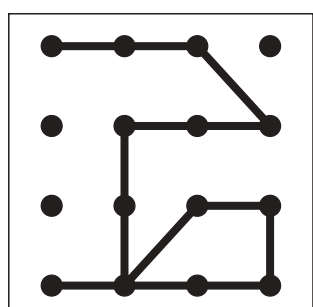

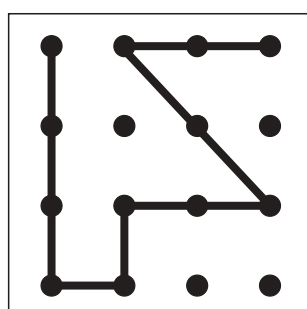

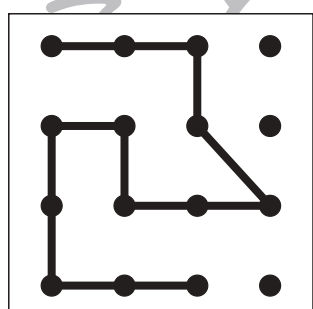

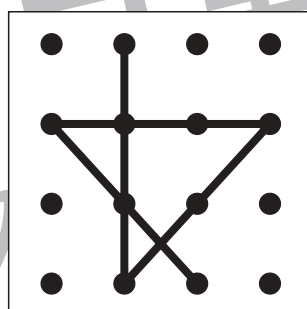

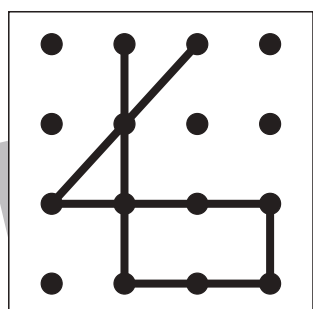

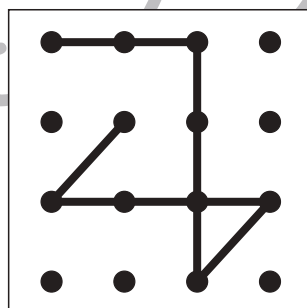

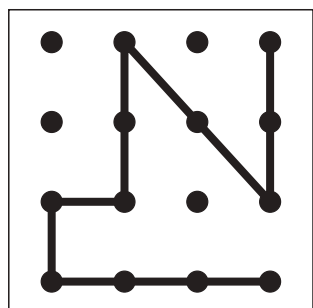

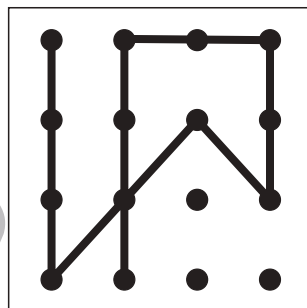

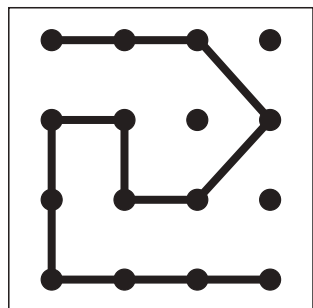


おうちで、やろう。

Study at home. 小学校受験の家庭学習教材

図形：点図形 17

左のお手本と同じになるように右の四角に線をかきます。 ※このプリントに解答はありません。



※1. このプリントは、しながわ・目黒こどもスクールのウェブサイトでダウンロードができます。無断複写・引用はご遠慮ください。
※2. このプリントを活用したオンライン授業のスケジュールは、しながわ・目黒こどもスクールのウェブサイトでご確認ください。