



# おうちで、やろう。

Study at home. 小学校受験の家庭学習教材

図形：回転8

左のお手本を矢印の方向へ1回倒した時の見え方を考えて右の四角にかきます。


※1. このプリントは、しながわ・目黒こどもスクールのウェブサイトでダウンロードができます。無断複写・引用はご遠慮ください。

※2. このプリントを活用したオンライン授業のスケジュールは、しながわ・目黒こどもスクールのウェブサイトでご確認ください。



# おうちで、やろう。

Study at home. 小学校受験の家庭学習教材

図形：回転9

左のお手本を矢印の方向へ1回倒した時の見え方を考えて右の四角にかきます。


※1. このプリントは、しながわ・目黒こどもスクールのウェブサイトからダウンロードできます。無断複写・引用はご遠慮ください。  
 ※2. このプリントを活用したオンライン授業のスケジュールは、しながわ・目黒こどもスクールのウェブサイトでご確認ください。



# おうちで、やろう。

Study at home. 小学校受験の家庭学習教材

## 推理：四方観察6

左の太い四角の中の積み木がお手本です。このお手本を男の子の方（右側）から見たときの見え方を考えます。正しいものを右の4つの中から選んで○をつけます。


※1. このプリントは、しながわ・目黒こどもスクールのウェブサイトでダウンロードができます。無断複写・引用はご遠慮ください。

※2. このプリントを活用したオンライン授業のスケジュールは、しながわ・目黒こどもスクールのウェブサイトでご確認ください。

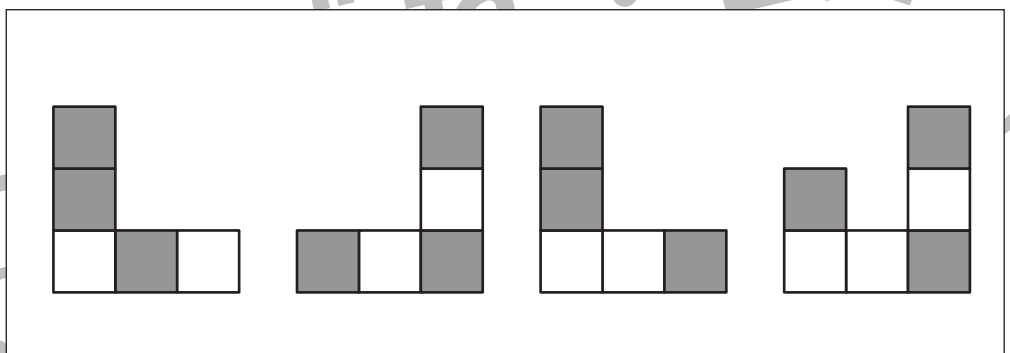

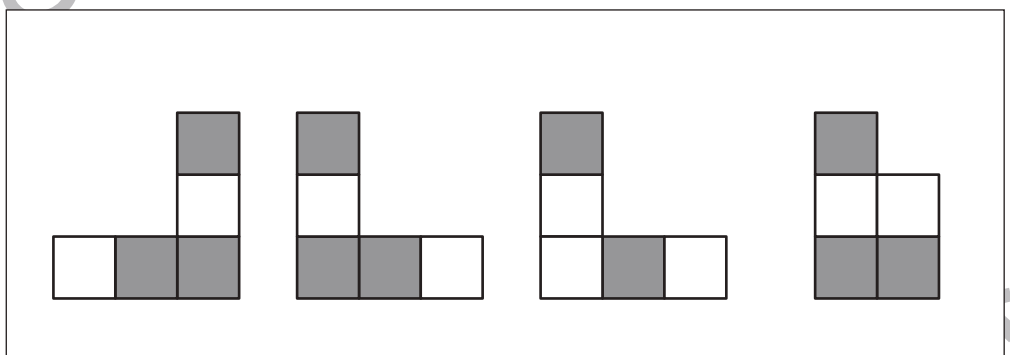

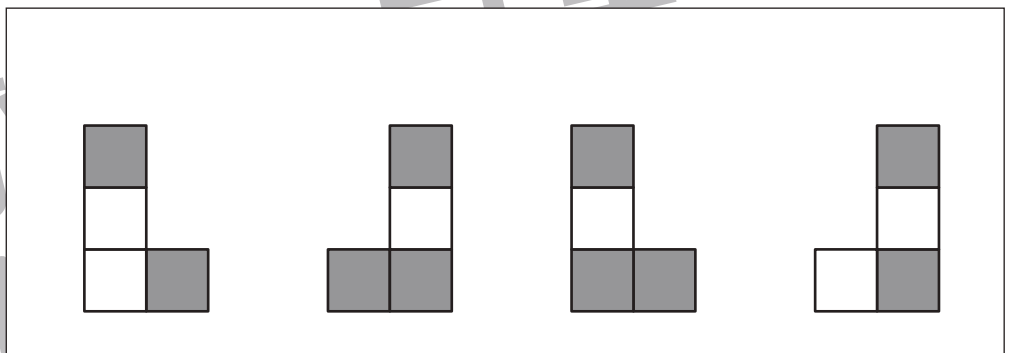

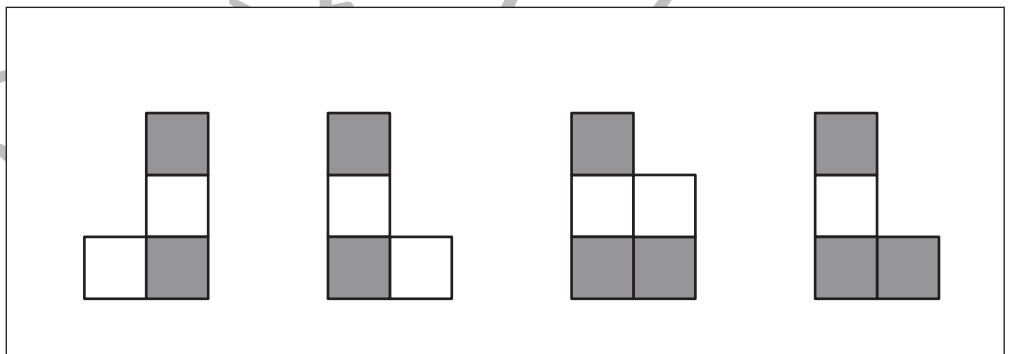

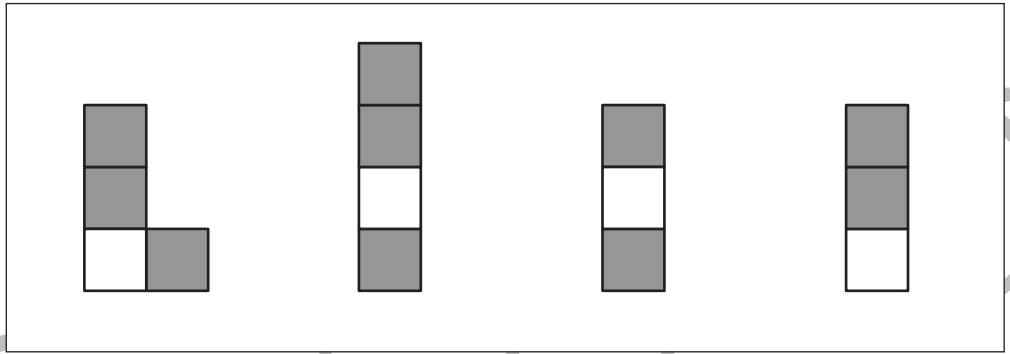



# おうちで、やろう。

Study at home. 小学校受験の家庭学習教材

## 推理：四方観察7

左の太い四角の中の積み木がお手本です。このお手本を女の子の方（左側）から見たときの見え方を考えます。正しいものを右の4つの中から選んで○をつけます。



※1. このプリントは、しながわ・目黒こどもスクールのウェブサイトでダウンロードができます。無断複写・引用はご遠慮ください。  
※2. このプリントを活用したオンライン授業のスケジュールは、しながわ・目黒こどもスクールのウェブサイトでご確認ください。

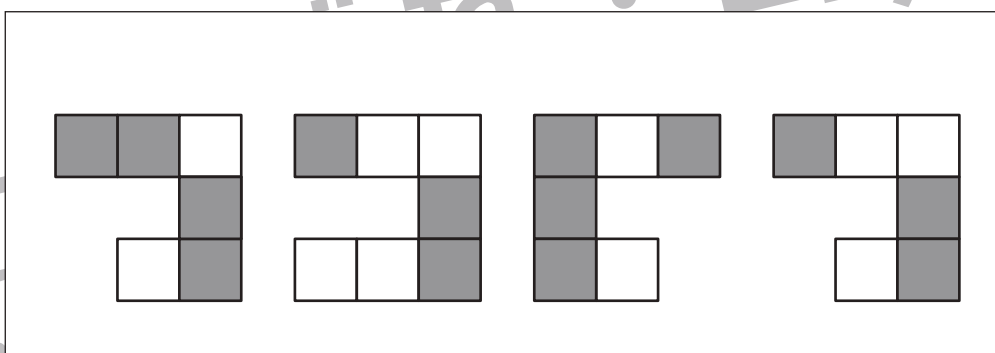

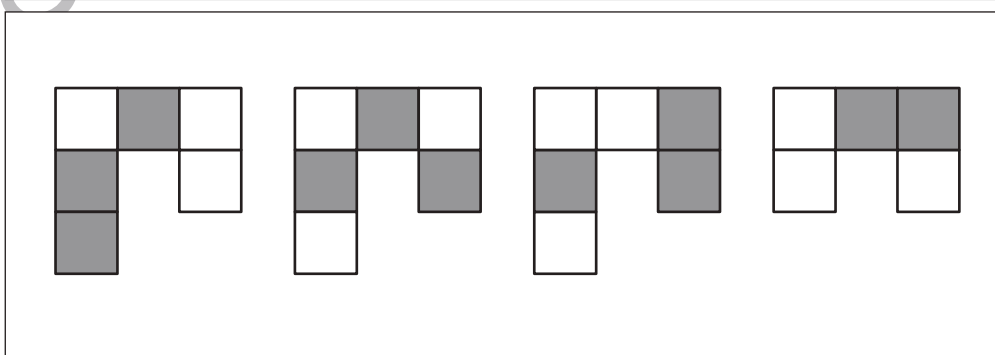

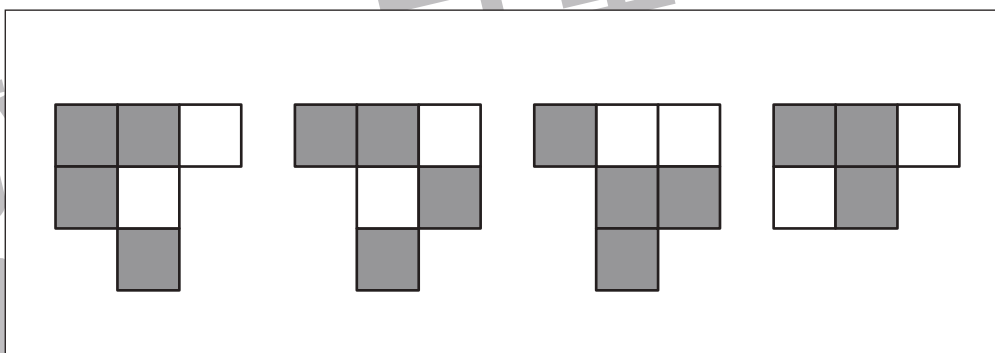

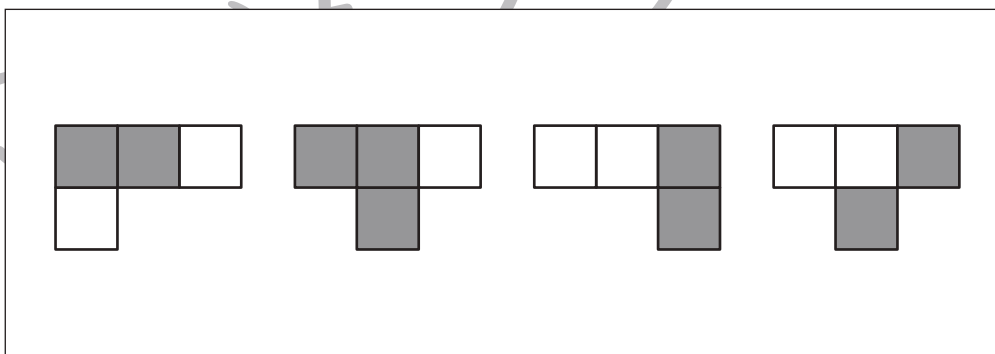

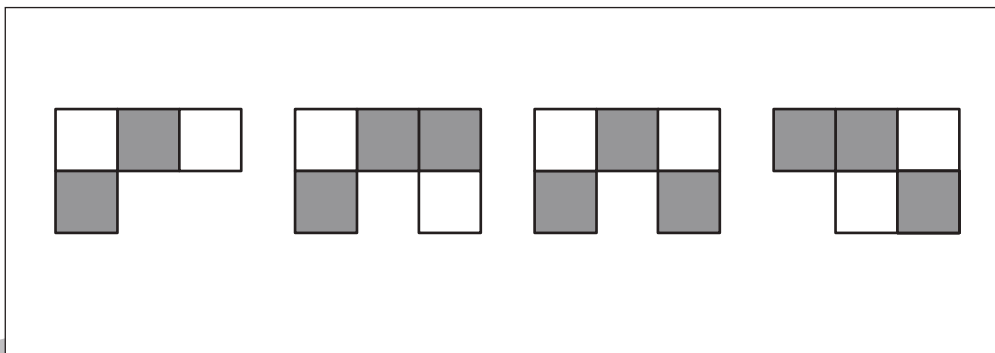



# おうちで、やろう。

Study at home. 小学校受験の家庭学習教材

## 推理：四方観察 8

左の太い四角の中の積み木がお手本です。このお手本を男の子が上からのぞいて（上から）見たときの見え方を考えます。正しいものを右の4つの中から選んで○をつけます。



※1. このプリントは、しながわ・目黒こどもスクールのウェブサイトでダウンロードができます。無断複写・引用はご遠慮ください。

※2. このプリントを活用したオンライン授業のスケジュールは、しながわ・目黒こどもスクールのウェブサイトでご確認ください。






# おうちで、やろう。


Study at home. 小学校受験の家庭学習教材




数量：分割 11

2人のお友だちで四角の中の三種類の野菜を仲良く同じ数に分けます。  
このとき、1人がもらえるそれぞれの野菜の数はいくつですか。その数だけ、下の野菜の隣に〇をかきます。



		
---	---	---



		
--	---	---

※1. このプリントは、しながわ・目黒こどもスクールのウェブサイトからダウンロードできます。無断複写・引用はご遠慮ください。  
※2. このプリントを活用したオンライン授業のスケジュールは、しながわ・目黒こどもスクールのウェブサイトでご確認ください。








# おうちで、やろう。

Study at home. 小学校受験の家庭学習教材

数量：分割 12

3人のお友だちで四角の中の2種類の果物を仲良く同じ数に分けます。  
このとき、1人がもらえるそれぞれの果物の数はいくつですか。その数だけ、下の果物の隣に○をかきます。



※1. このプリントは、しながわ・目黒こどもスクールのウェブサイトでダウンロードができます。無断複写・引用はご遠慮ください。  
※2. このプリントを活用したオンライン授業のスケジュールは、しながわ・目黒こどもスクールのウェブサイトでご確認ください。







# おうちで、やろう。

Study at home. 小学校受験の家庭学習教材

数量：分割 13

3人のお友だちで四角の中の2種類の花を仲良く同じ数に分けます。  
このとき、1人がもらえるそれぞれの花の数はいくつですか。その数だけ、下の花の隣に○をかきます。



※1. このプリントは、しながわ・目黒こどもスクールのウェブサイトでダウンロードができます。無断複写・引用はご遠慮ください。  
※2. このプリントを活用したオンライン授業のスケジュールは、しながわ・目黒こどもスクールのウェブサイトでご確認ください。








# おうちで、やろう。

Study at home. 小学校受験の家庭学習教材

数量：分割 14

3人のお友だちで四角の中の3種類の花を仲良く同じ数に分けます。  
このとき、1人がもらえるそれぞれの花の数はいくつですか。その数だけ、下の花の隣に○をかきます。



※1. このプリントは、しながわ・目黒こどもスクールのウェブサイトでダウンロードができます。無断複写・引用はご遠慮ください。  
※2. このプリントを活用したオンライン授業のスケジュールは、しながわ・目黒こどもスクールのウェブサイトでご確認ください。



# おうちで、やろう。

Study at home. 小学校受験の家庭学習教材

## 図形：点図形 18

左のお手本と同じになるように右の四角に線をかきます。 ※このプリントに解答はありません。


※1. このプリントは、しながわ・目黒こどもスクールのウェブサイトでダウンロードができます。無断複写・引用はご遠慮ください。

※2. このプリントを活用したオンライン授業のスケジュールは、しながわ・目黒こどもスクールのウェブサイトでご確認ください。