



# おうちで、やろう。

Study at home. 小学校受験の家庭学習教材

## 推理：四方観察 9

左の太い四角の中の積み木がお手本です。このお手本を男の子の方（右側）から見たときの見え方を考えます。男の子が見えている積み木の数だけ右の四角の○を囲みます。


※1. このプリントは、しながわ・目黒こどもスクールのウェブサイトでダウンロードができます。無断複写・引用はご遠慮ください。

※2. このプリントを活用したオンライン授業のスケジュールは、しながわ・目黒こどもスクールのウェブサイトでご確認ください。



# おうちで、やろう。

Study at home. 小学校受験の家庭学習教材

## 推理：四方観察 10

左の太い四角の中の積み木がお手本です。このお手本を女の子の方（左側）から見たときの見え方を考えます。正しいものを右の4つの中から選んで○をつけます。


※1. このプリントは、しながわ・目黒こどもスクールのウェブサイトでダウンロードができます。無断複写・引用はご遠慮ください。

※2. このプリントを活用したオンライン授業のスケジュールは、しながわ・目黒こどもスクールのウェブサイトでご確認ください。



# おうちで、やろう。

Study at home. 小学校受験の家庭学習教材

## 推理：四方観察 11

左の太い四角の中の積み木がお手本です。このお手本を男の子が上からのぞいて（上から）見たときの見え方を考えます。正しいものを右の4つの中から選んで○をつけます。


※1. このプリントは、しながわ・目黒こどもスクールのウェブサイトでダウンロードができます。無断複写・引用はご遠慮ください。

※2. このプリントを活用したオンライン授業のスケジュールは、しながわ・目黒こどもスクールのウェブサイトでご確認ください。


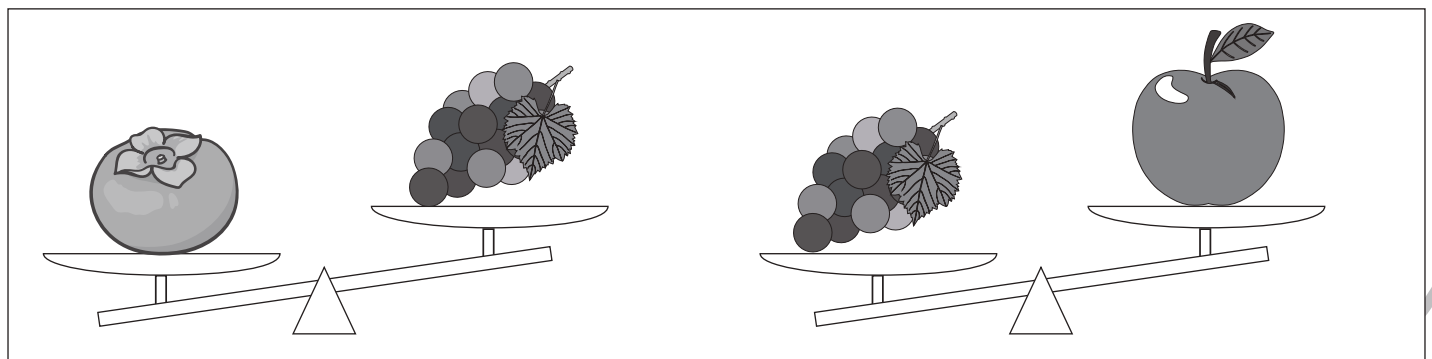
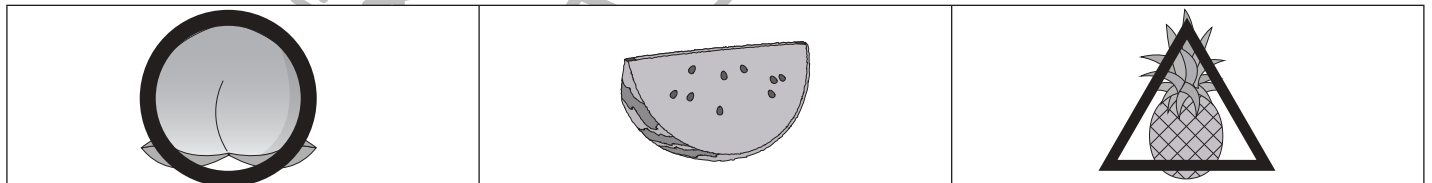
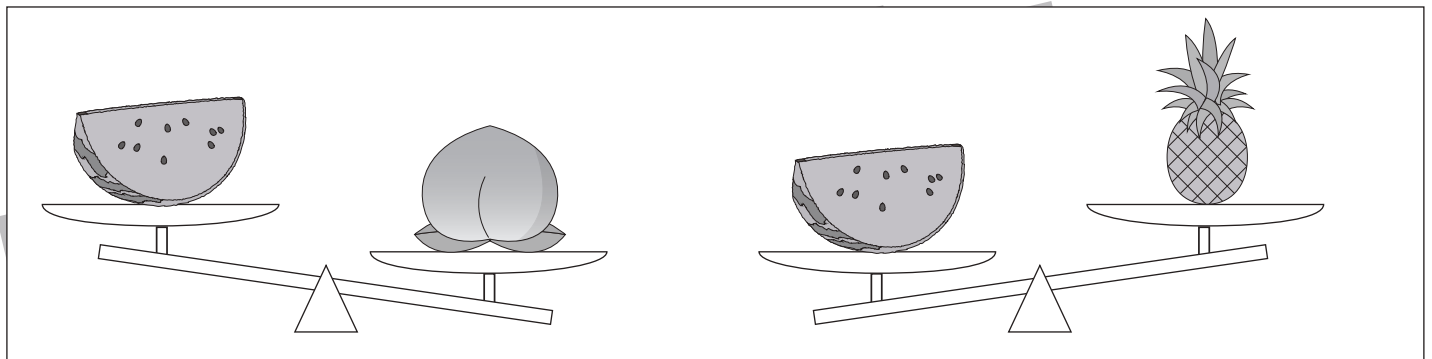
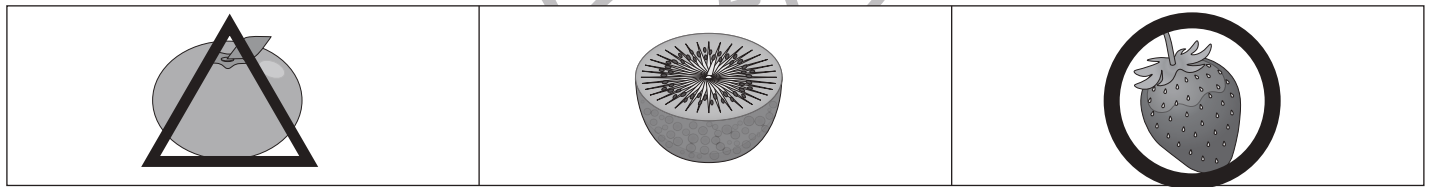
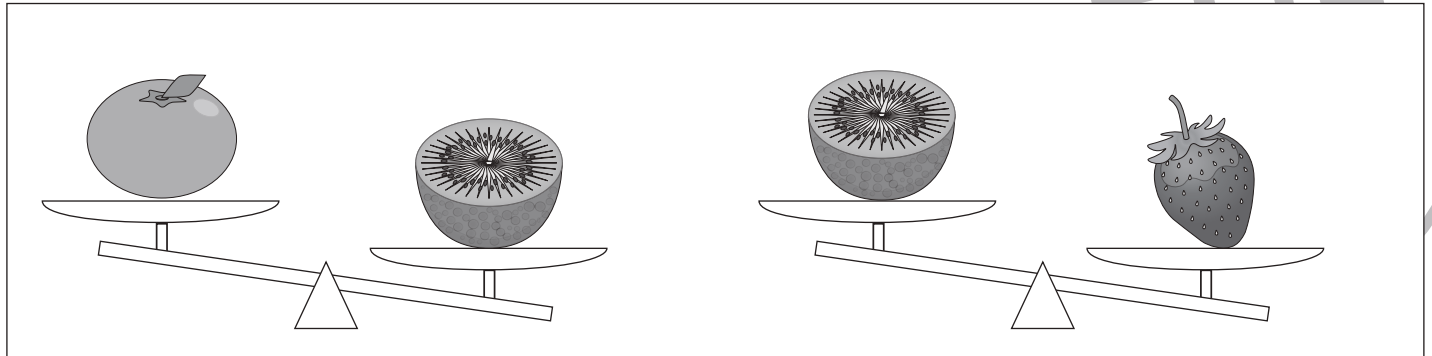


# おうちで、やろう。

Study at home. 小学校受験の家庭学習教材

推理：重さ6

三種類の果物をシーソーにのせて重さ比べをします。  
一番重い果物には○を、一番軽い果物には△をつけましょう。



※1. このプリントは、しながわ・目黒こどもスクールのウェブサイトからダウンロードできます。無断複写・引用はご遠慮ください。  
※2. このプリントを活用したオンライン授業のスケジュールは、しながわ・目黒こどもスクールのウェブサイトでご確認ください。



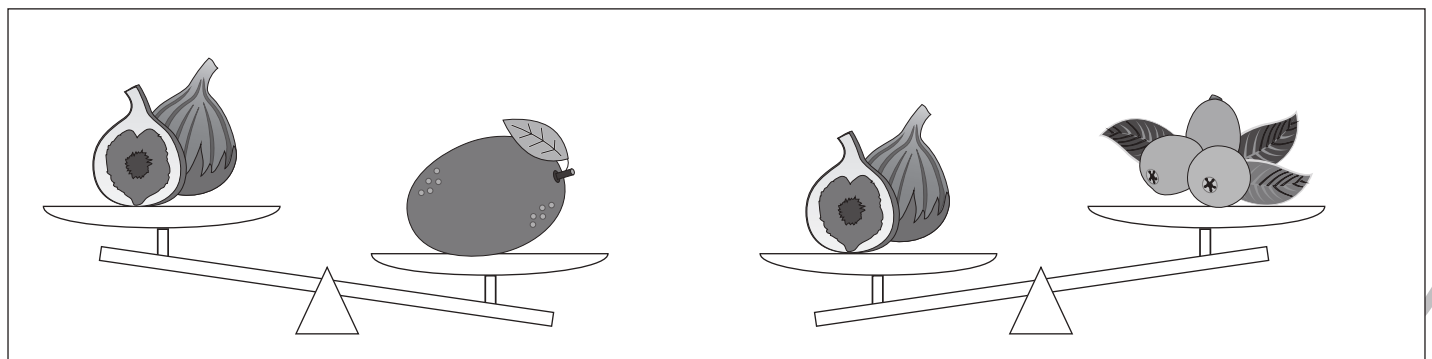
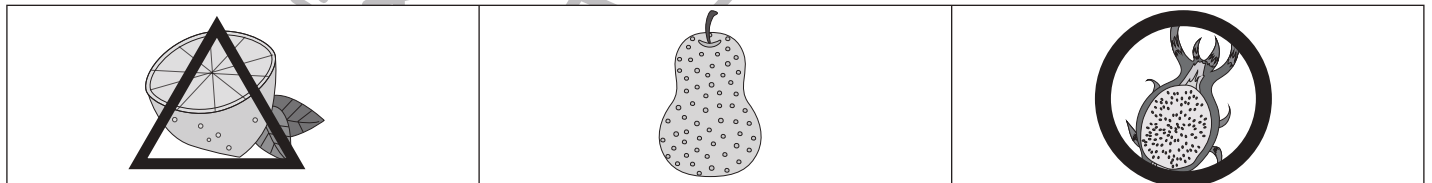
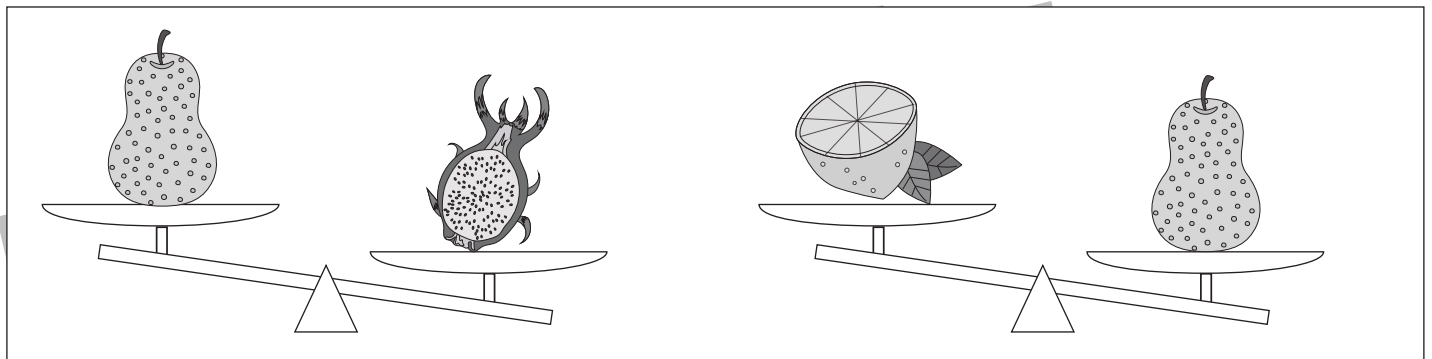
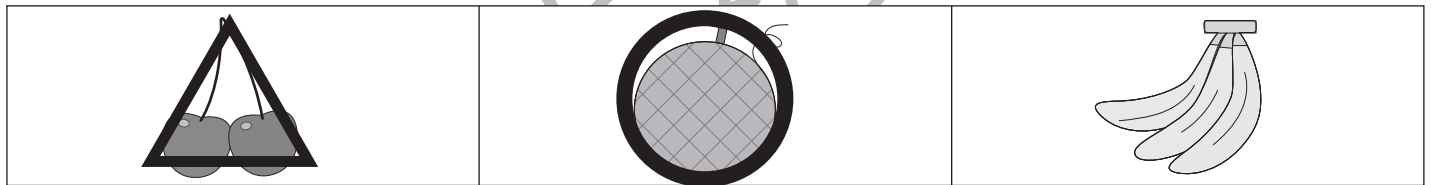
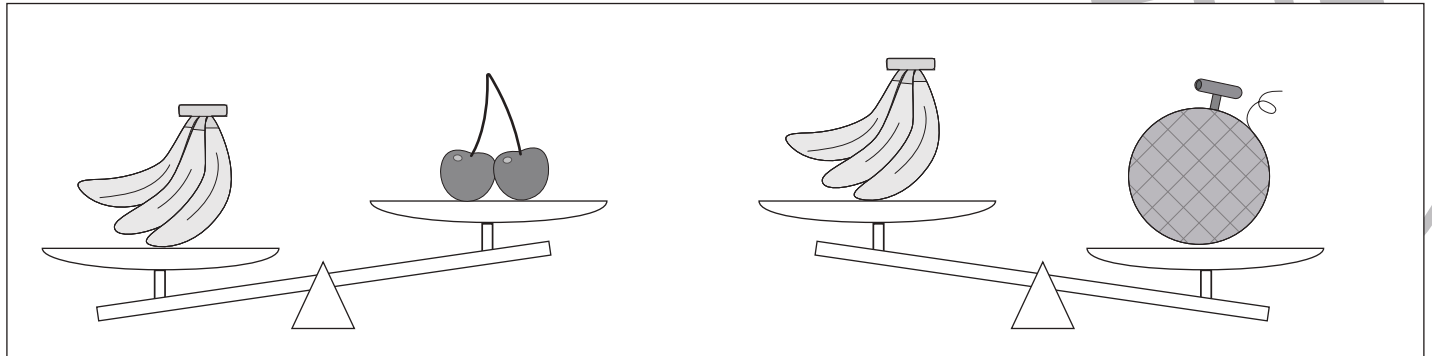


# おうちで、やろう。

Study at home. 小学校受験の家庭学習教材

推理：重さ7

三種類の果物をシーソーにのせて重さ比べをします。  
一番重い果物には○を、一番軽い果物には△をつけましょう。



※1. このプリントは、しながわ・目黒こどもスクールのウェブサイトでダウンロードができます。無断複写・引用はご遠慮ください。  
 ※2. このプリントを活用したオンライン授業のスケジュールは、しながわ・目黒こどもスクールのウェブサイトでご確認ください。

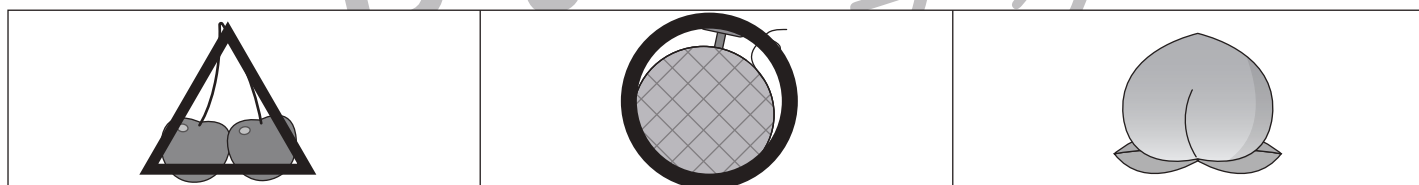
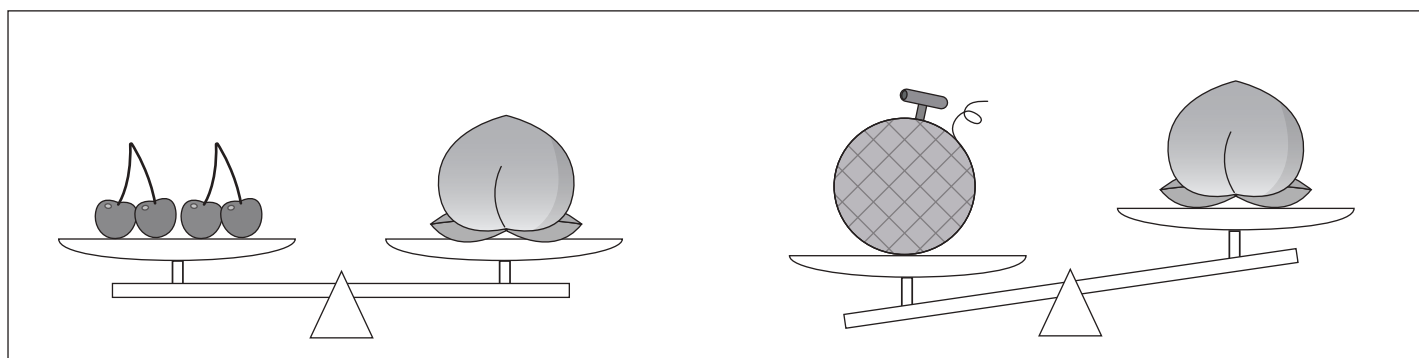
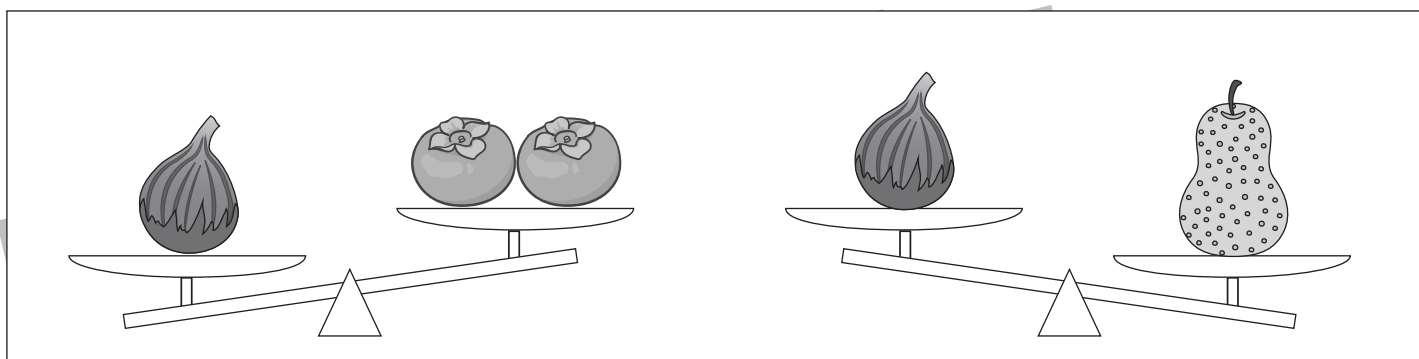

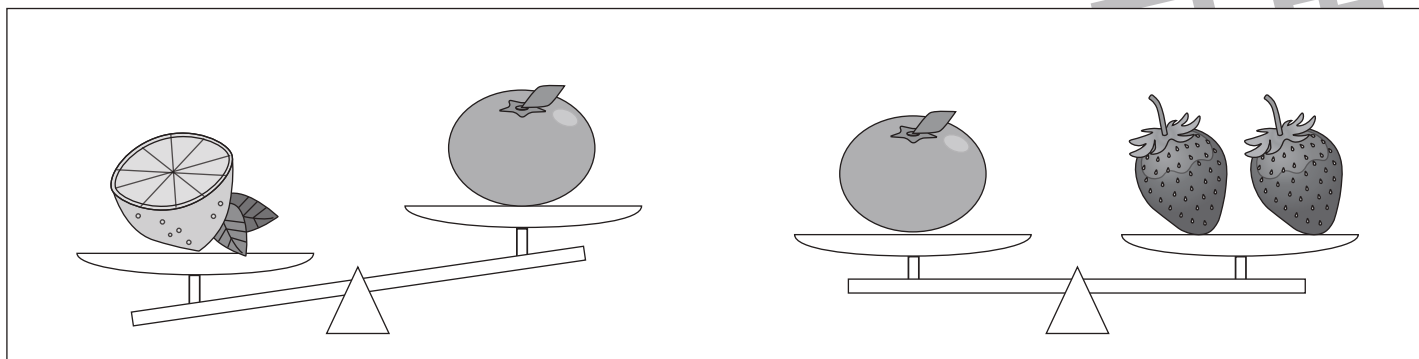


# おうちで、やろう。

Study at home. 小学校受験の家庭学習教材

推理：重さ 8

三種類の果物をシーソーにのせて重さ比べをします。  
一番重い果物には○を、一番軽い果物には△をつけましょう。



※1. このプリントは、しながわ・目黒こどもスクールのウェブサイトでダウンロードができます。無断複写・引用はご遠慮ください。

※2. このプリントを活用したオンライン授業のスケジュールは、しながわ・目黒こどもスクールのウェブサイトでご確認ください。


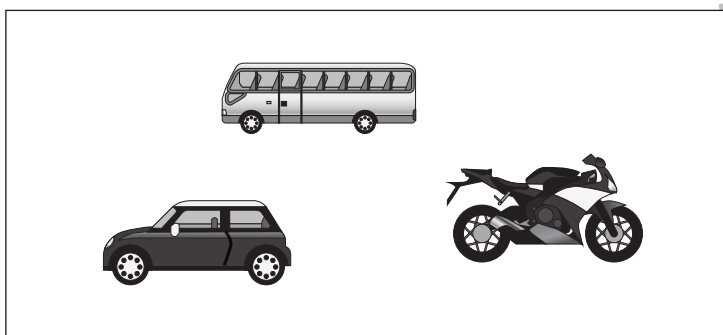

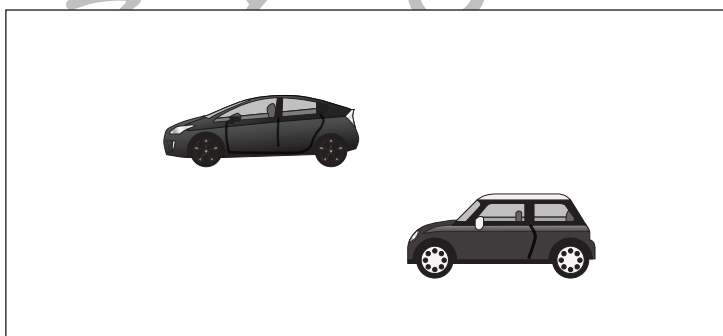








# おうちで、やろう。

Study at home. 小学校受験の家庭学習教材

## 数量：タイヤの数1

左の四角の中の乗り物のタイヤの数を合わせるといくつになりますか。その数だけ右の四角の中のタイヤに○をつけます。



※1. このプリントは、しながわ・目黒こどもスクールのウェブサイトでダウンロードができます。無断複写・引用はご遠慮ください。  
※2. このプリントを活用したオンライン授業のスケジュールは、しながわ・目黒こどもスクールのウェブサイトでご確認ください。










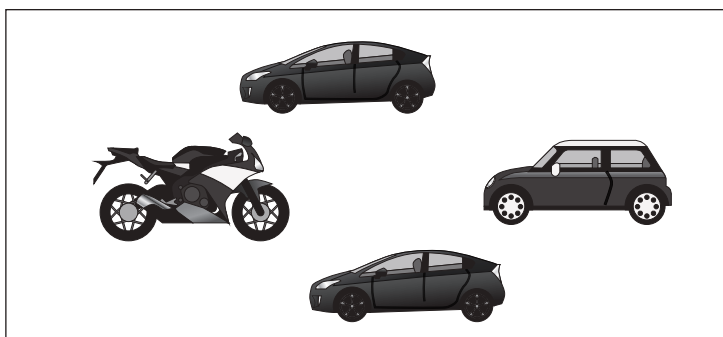
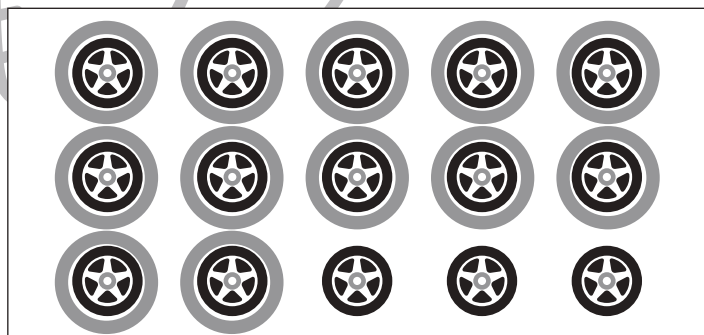





# おうちで、やろう。

Study at home. 小学校受験の家庭学習教材

## 数量：タイヤの数2

左の四角の中の乗り物のタイヤの数を合わせるといくつになりますか。その数だけ右の四角の中のタイヤに○をつけます。



※1. このプリントは、しながわ・目黒こどもスクールのウェブサイトでダウンロードができます。無断複写・引用はご遠慮ください。

※2. このプリントを活用したオンライン授業のスケジュールは、しながわ・目黒こどもスクールのウェブサイトでご確認ください。








# おうちで、やろう。

Study at home. 小学校受験の家庭学習教材

処理：計数3

上の四角の中の絵の数をかぞえて、下の四角の同じ絵の右にその数だけ〇をかきます。  
この問題はスピードを意識して取り組む練習をしてみましょう。(1分～1分30秒)



○×8



○×10



○×9



○×12



# おうちで、やろう。

Study at home. 小学校受験の家庭学習教材

処理：模写2

左のお手本の丸を右の四角の同じ場所にかきます。ただし、白丸○は黒丸●に、黒丸●は白丸○に色をかえてかきます。  
この問題はスピードを意識して取り組む練習をしてみましょう。(1分～1分30秒)


※1. このプリントは、しながわ・目黒こどもスクールのウェブサイトでダウンロードができます。無断複写・引用はご遠慮ください。  
※2. このプリントを活用したオンライン授業のスケジュールは、しながわ・目黒こどもスクールのウェブサイトでご確認ください。