



おうちで、やろう。

Study at home. 小学校受験の家庭学習教材

記憶：絵の記憶 3 記憶用紙

別紙『記憶 - 絵の記憶 3』を行う際に使用します。記憶用紙は点線で折って(切って)、①、②、③の問題の際にそれぞれ 20 秒間ずつ記憶させてください。記憶する際は問題用紙は裏返しにします。記憶後①、②、③それぞれの問題に答えましょう。

①～③: 記憶したものと同一場所に記号をかきます。

※2022 年 1 月 13 日(木)のオンライン授業では実施中に記憶する絵を画面で表示します。

①

	○	△			×	
--	---	---	--	--	---	--

②

	○		◎			△
○			×			△

③

	×		◎		△
	○			△	
○					

※1. このプリントは、しながわ・目黒こどもスクールのウェブサイトでダウンロードができます。無断複写・引用はご遠慮ください。

※2. このプリントを活用したオンライン授業のスケジュールは、しながわ・目黒こどもスクールのウェブサイトでご確認ください。



おうちで、よろう。

Study at home. 小学校受験の家庭学習教材

記憶：絵の記憶 3

別紙『記憶 - 絵の記憶 3 記憶用紙』を使用します。記憶用紙の形を見た後に①、②、③の問題に取り組みましょう。
※このプリントに解答は記憶用紙で確認してください。

①

--	--	--	--	--	--	--

②

③

※1. このプリントは、しながわ・目黒こどもスクールのウェブサイトからダウンロードできます。無断複写・引用はご遠慮ください。
※2. このプリントを活用したオンライン授業のスケジュールは、しながわ・目黒こどもスクールのウェブサイトでご確認ください。



おうちで、やろう。

Study at home. 小学校受験の家庭学習教材

図形：移動 13

左の四角がお手本です。このお手本の○を真ん中の太い四角の中の矢印の方向へ1マスずつ動かします。移動した後の場所を考えて、右の四角の中に○をかきます。

①

○	○	

↑
→
←

②

		○
		○

→
↑
←

③

○	○	

↑
→
↓

④

	○	○

←
↓
↓

⑤

○		
○		

↑
→
↓

⑥

	○	
		○

↓
←
→

⑦

	○	
○		

→
↓
←

⑧

	○	
		○

←
↓
→

⑨

	○	
○		

→
←
↑

⑩

○		
	○	

→
←
→

※1. このプリントは、しながわ・目黒こどもスクールのウェブサイトでダウンロードができます。無断複写・引用はご遠慮ください。
※2. このプリントを活用したオンライン授業のスケジュールは、しながわ・目黒こどもスクールのウェブサイトでご確認ください。





おうちで、やろう。

Study at home. 小学校受験の家庭学習教材

図形：移動 14

左の四角がお手本です。このお手本の○を真ん中の太い四角の中の矢印の方向へ1マスずつ動かします。移動した後の場所を考えて、右の四角の中に○をかきます。

①

	○	○

↑
↖
↓

②

		○
		○

←
↖
→

③

	○	○

↖
→
↑

④

		○
		○

↖
←
→

⑤

○	○	

→
↖
→

⑥

		○
	○	

←
↑
↖

⑦

○		
	○	

→
↖
↓

⑧

	○	
○		

↓
→
↖

⑨

	○	
		○

↖
↖
↑

⑩

		○
	○	

←
↖
←

※1. このプリントは、しながわ・目黒こどもスクールのウェブサイトでダウンロードができます。無断複写・引用はご遠慮ください。
※2. このプリントを活用したオンライン授業のスケジュールは、しながわ・目黒こどもスクールのウェブサイトでご確認ください。



おうちで、やろう。

Study at home. 小学校受験の家庭学習教材

図形：移動 15

左の四角がお手本です。このお手本の○を真ん中の太い四角の中の矢印の方向へ1マスずつ動かします。移動した後の場所を考えて、右の四角の中に○をかきます。

①

②

③

④

⑤

⑥

⑦

⑧

⑨

⑩

※1. このプリントは、しながわ・目黒こどもスクールのウェブサイトでダウンロードができます。無断複写・引用はご遠慮ください。
※2. このプリントを活用したオンライン授業のスケジュールは、しながわ・目黒こどもスクールのウェブサイトでご確認ください。



おうちで、やろう。

Study at home. 小学校受験の家庭学習教材

推理：シルエット3

①～⑤のお話に合う動物を見つけて○をつけます。





①ユーカリの葉を食べて、木の上にいることが多い動物に○をつけます。

②飛ぶことが出来ない鳥で、とさかがあって、この鳥が産んだ卵を料理に使うことが多い動物に○をつけます。

③ジャンプが上手で、尻尾で立つことができる動物に○をつけます。

④首が長くて、走るのが速い鳥の仲間の動物に○をつけます。

⑤草を食べていて、牛乳を作ってくれる動物に○をつけます。



※1. このプリントは、しながわ・目黒こどもスクールのウェブサイトからダウンロードできます。無断複写・引用はご遠慮ください。

※2. このプリントを活用したオンライン授業のスケジュールは、しながわ・目黒こどもスクールのウェブサイトでご確認ください。



おうちで、やろう。

Study at home. 小学校受験の家庭学習教材

数量：合わせた数 4

2つのサイコロの目の数を合わせて8にします。

左の四角の中のサイコロと合わせて8になるサイコロの目を右の四角の中から1つ見つけて○をつけます。

※1. このプリントは、しながわ・目黒こどもスクールのウェブサイトでダウンロードができます。無断複写・引用はご遠慮ください。

※2. このプリントを活用したオンライン授業のスケジュールは、しながわ・目黒こどもスクールのウェブサイトでご確認ください。



おうちで、やろう。

Study at home. 小学校受験の家庭学習教材

数量：合わせた数 5

3つのサイコロの目の数を合わせて10にします。

左の四角の中の2つのサイコロと合わせて10になるサイコロの目を右の四角の中から1つつけてOをつけます。

※1. このプリントは、しながわ・目黒こどもスクールのウェブサイトでダウンロードができます。無断複写・引用はご遠慮ください。

※2. このプリントを活用したオンライン授業のスケジュールは、しながわ・目黒こどもスクールのウェブサイトでご確認ください。



おうちで、やろう。

Study at home. 小学校受験の家庭学習教材

数量：合わせた数 6

3つのサイコロの目の数を合わせて12にします。

左の四角の中の2つのサイコロと合わせて12になるサイコロの目を右の四角の中から1つ見つけて○をつけます。

※1. このプリントは、しながわ・目黒こどもスクールのウェブサイトでダウンロードができます。無断複写・引用はご遠慮ください。

※2. このプリントを活用したオンライン授業のスケジュールは、しながわ・目黒こどもスクールのウェブサイトでご確認ください。



おうちで、やろう。

Study at home. 小学校受験の家庭学習教材

図形：点図形 19

左のお手本と同じになるように右の四角に線をかきます。 ※このプリントに解答はありません。

※1. このプリントは、しながわ・目黒こどもスクールのウェブサイトでダウンロードができます。無断複写・引用はご遠慮ください。

※2. このプリントを活用したオンライン授業のスケジュールは、しながわ・目黒こどもスクールのウェブサイトでご確認ください。






おうちで、やろう。

Study at home. 小学校受験の家庭学習教材

推理：たからさがし①

あなたは宝島にやってきました。宝箱をたくさん見つけにいきます。下からお手本にある「宝箱」「4つ刃の手裏剣」「クナイ」どこかに1つだけある「石板」を見つけて○をつけましょう。「もう空いている宝箱」と「ほかの忍者道具」はハズレですから何も印はつけません。宝探しの時間はたったの1分です。それまでに、できるだけ多くの「宝箱」「4つ刃の手裏剣」「クナイ」を見つけてみましょう。



※1. このプリントは、しながわ・目黒子どもスクールのウェブサイトでごダウンロードできます。無断複写・引用はご遠慮ください。
※2. このプリントを活用したオンライン授業のスケジュールは、しながわ・目黒子どもスクールのウェブサイトをご確認ください。

