



おうちで、やろう。

Study at home. 小学校受験の家庭学習教材

図形：移動 13

左の四角がお手本です。このお手本の○を真ん中の太い四角の中の矢印の方向へ1マスずつ動かします。移動した後の場所を考えて、右の四角の中に○をかきます。

①

○	○	

↑
→
←

○	○	

②

	○	
	○	

→
↑
←

	○	
	○	

③

○	○	

↑
→
↓

	○	○

④

	○	○

←
↓
↓

○	○	

⑤

○		
○		

↑
→
↓

	○	
	○	

⑥

	○	
		○

↓
←
→

	○	
		○

⑦

	○	
○		

→
↓
←

	○	
○		

⑧

	○	
		○

←
↓
→

	○	
		○

⑨

	○	
○		

→
←
↑

	○	
○		

⑩

○		
	○	

→
←
→

	○	
		○

※1. このプリントは、しながわ・目黒こどもスクールのウェブサイトからダウンロードできます。無断複製・引用はご遠慮ください。
※2. このプリントを活用したオンライン授業のスケジュールは、しながわ・目黒こどもスクールのウェブサイトでご確認ください。





おうちで、やろう。

Study at home. 小学校受験の家庭学習教材

図形：移動 14

左の四角がお手本です。このお手本の○を真ん中の太い四角の中の矢印の方向へ1マスずつ動かします。移動した後の場所を考えて、右の四角の中に○をかきます。

①

	○	○

↑
↖
↓

○	○	

②

		○
		○

←
↖
→

		○
		○

③

	○	○

↖
→
↑

	○	○

④

		○
		○

↖
←
→

		○
		○

⑤

○	○	

→
↖
→

		○
		○

⑥

		○
	○	

←
↑
↖

		○
	○	

⑦

○		
	○	

→
↖
↓

○		
	○	

⑧

	○	
○		

↓
→
↖

		○
○		

⑨

	○	
		○

↖
↖
↑

		○
		○

⑩

		○
	○	

←
↖
←

		○
○		

※1. このプリントは、しながわ・目黒こどもスクールのウェブサイトでダウンロードができます。無断複写・引用はご遠慮ください。
※2. このプリントを活用したオンライン授業のスケジュールは、しながわ・目黒こどもスクールのウェブサイトでご確認ください。



おうちで、やろう。

Study at home. 小学校受験の家庭学習教材

図形：移動 15

左の四角がお手本です。このお手本の○を真ん中の太い四角の中の矢印の方向へ1マスずつ動かします。移動した後の場所を考えて、右の四角の中に○をかきます。

①

		○	
		○	

↑
←
↓
↓

		○	
		○	

⑥

		○	
			○

↖
←
↓
→

		○	
			○

②

		○	○

←
↑
→
↓

		○	○

⑦

		○	
○			

→
↓
←
↘

			○
		○	

③

		○	
○			

←
↑
→
→

			○
			○

⑧

		○	
		○	

←
↘
↑
→

			○
			○

④

○		○	

→
↓
↓
←

○		○	

⑨

		○	
○			

↘
↑
←
↑

			○
		○	

⑤

		○	
○			

↖
→
→
↓

			○
			○

⑩

		○	

↓
↓
↖
↓

○			
			○

※1. このプリントは、しながわ・目黒こどもスクールのウェブサイトでダウンロードができます。無断複写・引用はご遠慮ください。
※2. このプリントを活用したオンライン授業のスケジュールは、しながわ・目黒こどもスクールのウェブサイトでご確認ください。



おうちで、やろう。

Study at home. 小学校受験の家庭学習教材

推理：シルエット3

①～⑤のお話に合う動物を見つけて○をつけます。

①ユーカリの葉を食べて、木の上にいることが多い動物に○をつけます。






②飛ぶことが出来ない鳥で、とさかがあって、この鳥が産んだ卵を料理に使うことが多い動物に○をつけます。

③ジャンプが上手で、尻尾で立つことができる動物に○をつけます。

④首が長くて、走るのが速い鳥の仲間の動物に○をつけます。

⑤草を食べていて、牛乳を作ってくれる動物に○をつけます。

目黒



※1. このプリントは、しながわ・目黒こどもスクールのウェブサイトからダウンロードできます。無断複写・引用はご遠慮ください。

※2. このプリントを活用したオンライン授業のスケジュールは、しながわ・目黒こどもスクールのウェブサイトでご確認ください。



おうちで、やろう。

Study at home. 小学校受験の家庭学習教材

数量：合わせた数 4

2つのサイコロの目の数を合わせて8にします。

左の四角の中のサイコロと合わせて8になるサイコロの目を右の四角の中から1つ見つけて○をつけます。

※1. このプリントは、しながわ・目黒こどもスクールのウェブサイトでダウンロードができます。無断複写・引用はご遠慮ください。

※2. このプリントを活用したオンライン授業のスケジュールは、しながわ・目黒こどもスクールのウェブサイトでご確認ください。



おうちで、やろう。

Study at home. 小学校受験の家庭学習教材

数量：合わせた数 5

3つのサイコロの目の数を合わせて 10 にします。

左の四角の中の 2 つのサイコロと合わせて 10 になるサイコロの目を右の四角の中から 1 つ見つけて○をつけます。

※1. このプリントは、しながわ・目黒こどもスクールのウェブサイトでダウンロードができます。無断複写・引用はご遠慮ください。

※2. このプリントを活用したオンライン授業のスケジュールは、しながわ・目黒こどもスクールのウェブサイトでご確認ください。



おうちで、よろう。

Study at home. 小学校受験の家庭学習教材

数量：合わせた数 6

3つのサイコロの目の数を合わせて12にします。

左の四角の中の2つのサイコロと合わせて12になるサイコロの目を右の四角の中から1つ見つけて○をつけます。

※1. このプリントは、しながわ・目黒こどもスクールのウェブサイトでダウンロードができます。無断複写・引用はご遠慮ください。

※2. このプリントを活用したオンライン授業のスケジュールは、しながわ・目黒こどもスクールのウェブサイトでご確認ください。