

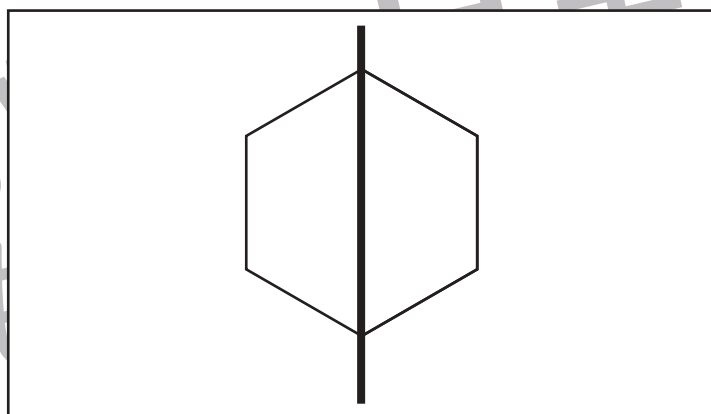
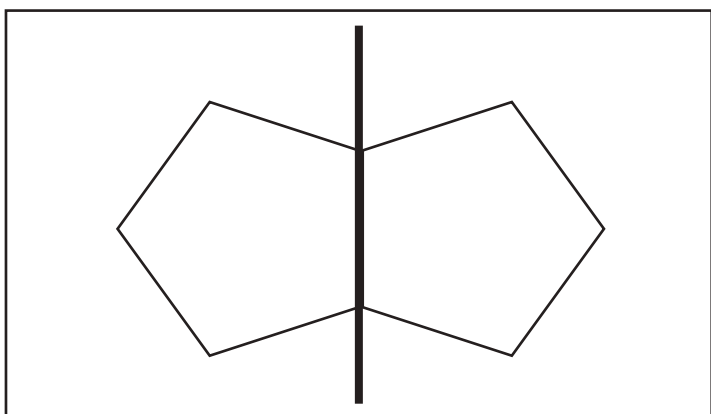
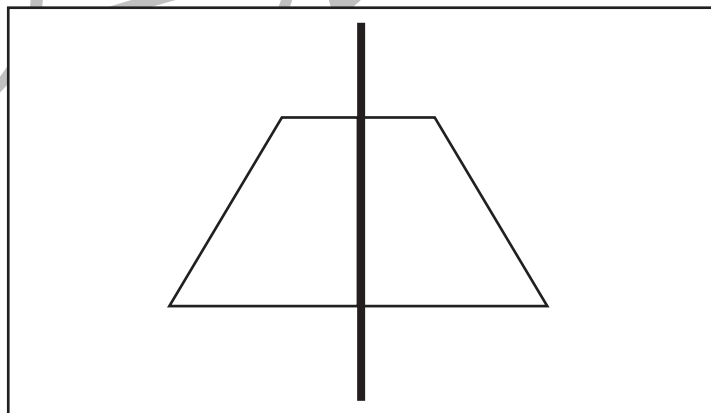
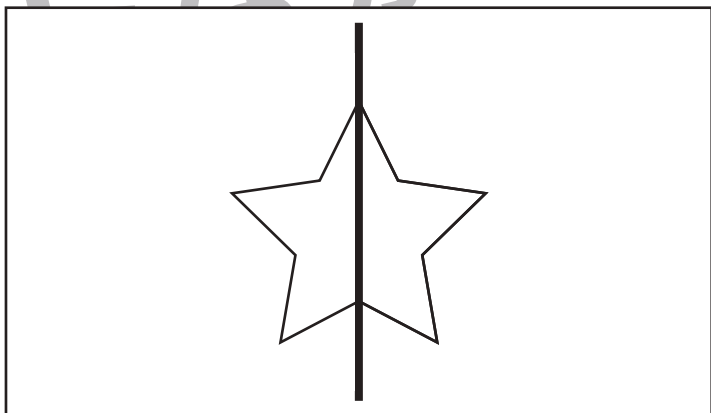

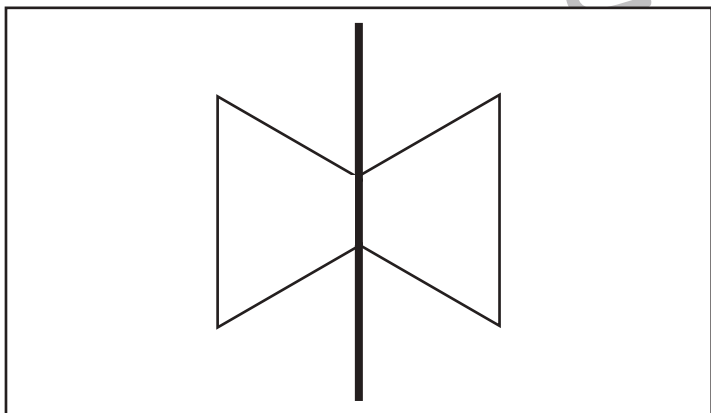
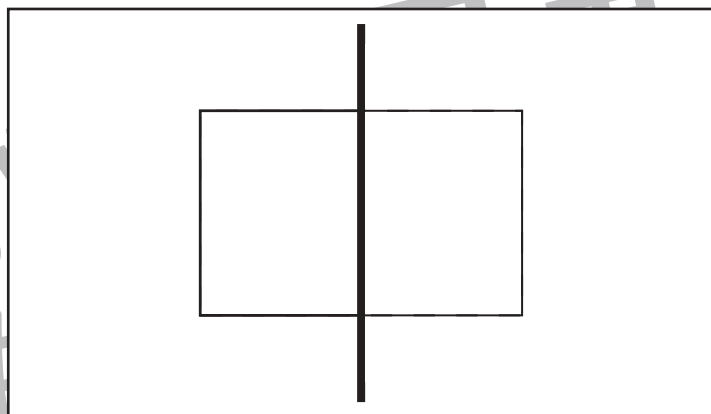
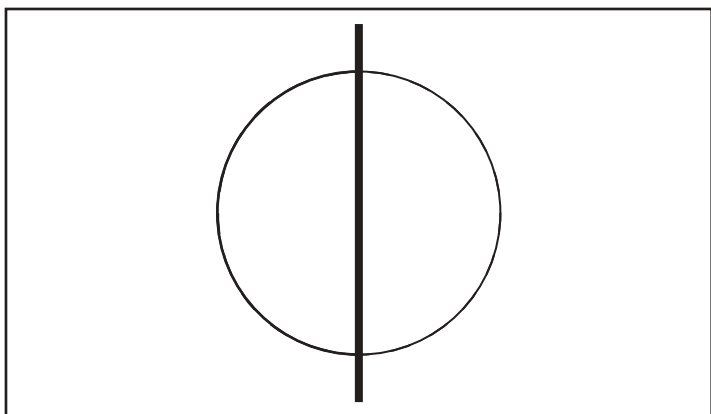


# おうちで、やろう。

Study at home. 小学校受験の家庭学習教材

## 図形：折り重ね8

それぞれの形を線で折ったときの反対側の形を考えてかきます。



※1. このプリントは、しながわ・目黒こどもスクールのウェブサイトからダウンロードできます。無断複写・引用はご遠慮ください。

※2. このプリントを活用したオンライン授業のスケジュールは、しながわ・目黒こどもスクールのウェブサイトでご確認ください。





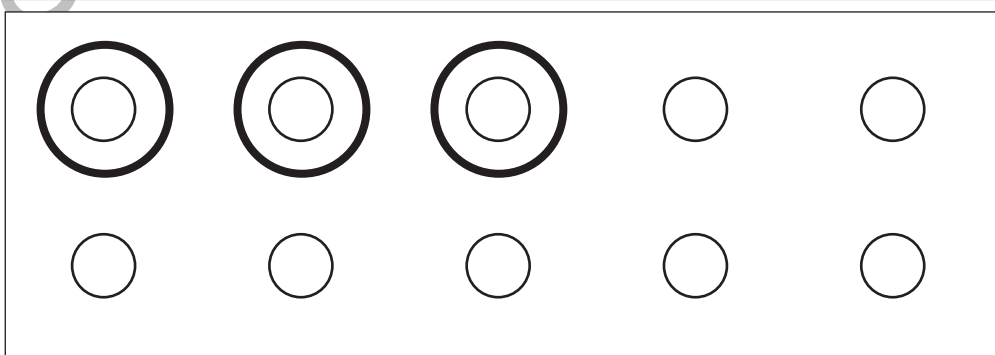

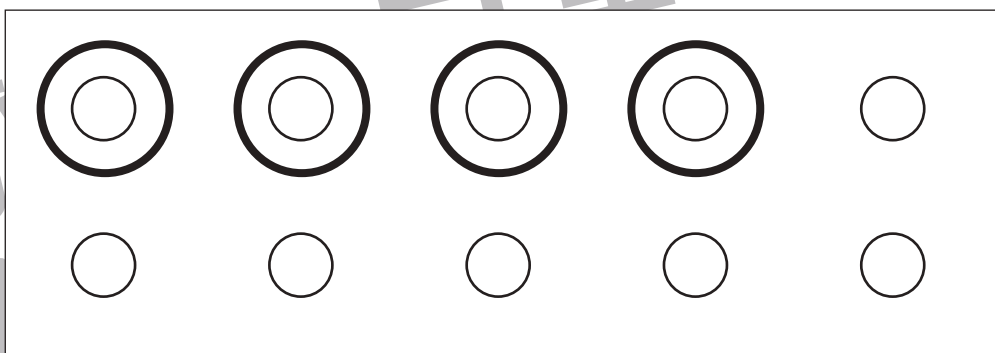



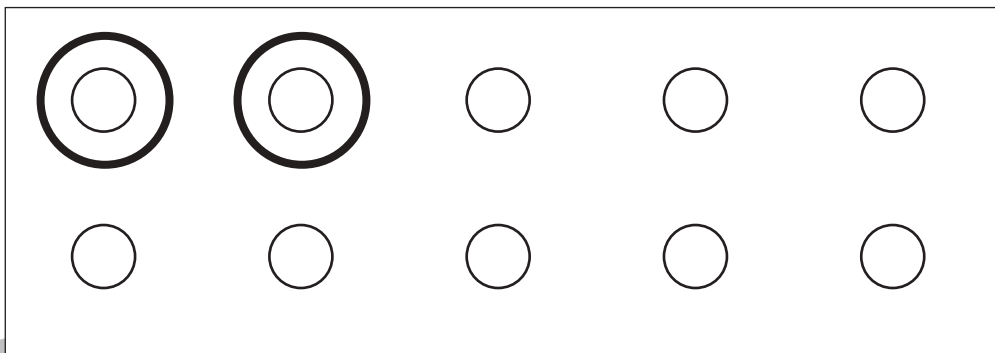



# おうちで、やろう。

Study at home. 小学校受験の家庭学習教材

## 推理：四方観察 12

左の太い四角の中の積み木がお手本です。このお手本を男の子の方（右側）から見たときの見え方を考えます。男の子が見えている白い積み木はいくつですか。その数だけ右の四角の○を囲みます。



※1. このプリントは、しながわ・目黒こどもスクールのウェブサイトからダウンロードできます。無断複写・引用はご遠慮ください。

※2. このプリントを活用したオンライン授業のスケジュールは、しながわ・目黒こどもスクールのウェブサイトでご確認ください。





# おうちで、やろう。

Study at home. 小学校受験の家庭学習教材

## 推理：四方観察 13

左の太い四角の中の積み木がお手本です。このお手本を女の子の方（左側）から見たときの見え方を考えます。女の子が見えている白い積み木はいくつですか。その数だけ右の四角の○を囲みます。

	<table border="1"> <tbody> <tr> <td><input type="checkbox"/></td> <td><input type="checkbox"/></td> <td><input type="checkbox"/></td> <td><input type="checkbox"/></td> <td><input type="checkbox"/></td> </tr> <tr> <td><input type="checkbox"/></td> <td><input type="checkbox"/></td> <td><input type="checkbox"/></td> <td><input type="checkbox"/></td> <td><input type="checkbox"/></td> </tr> </tbody> </table>	<input type="checkbox"/>	<input type="checkbox"/>	<input type="checkbox"/>	<input type="checkbox"/>	<input type="checkbox"/>	<input type="checkbox"/>	<input type="checkbox"/>	<input type="checkbox"/>	<input type="checkbox"/>	<input type="checkbox"/>
<input type="checkbox"/>	<input type="checkbox"/>	<input type="checkbox"/>	<input type="checkbox"/>	<input type="checkbox"/>							
<input type="checkbox"/>	<input type="checkbox"/>	<input type="checkbox"/>	<input type="checkbox"/>	<input type="checkbox"/>							
	<table border="1"> <tbody> <tr> <td><input type="checkbox"/></td> <td><input type="checkbox"/></td> <td><input type="checkbox"/></td> <td><input type="checkbox"/></td> <td><input type="checkbox"/></td> </tr> <tr> <td><input type="checkbox"/></td> <td><input type="checkbox"/></td> <td><input type="checkbox"/></td> <td><input type="checkbox"/></td> <td><input type="checkbox"/></td> </tr> </tbody> </table>	<input type="checkbox"/>	<input type="checkbox"/>	<input type="checkbox"/>	<input type="checkbox"/>	<input type="checkbox"/>	<input type="checkbox"/>	<input type="checkbox"/>	<input type="checkbox"/>	<input type="checkbox"/>	<input type="checkbox"/>
<input type="checkbox"/>	<input type="checkbox"/>	<input type="checkbox"/>	<input type="checkbox"/>	<input type="checkbox"/>							
<input type="checkbox"/>	<input type="checkbox"/>	<input type="checkbox"/>	<input type="checkbox"/>	<input type="checkbox"/>							
	<table border="1"> <tbody> <tr> <td><input type="checkbox"/></td> <td><input type="checkbox"/></td> <td><input type="checkbox"/></td> <td><input type="checkbox"/></td> <td><input type="checkbox"/></td> </tr> <tr> <td><input type="checkbox"/></td> <td><input type="checkbox"/></td> <td><input type="checkbox"/></td> <td><input type="checkbox"/></td> <td><input type="checkbox"/></td> </tr> </tbody> </table>	<input type="checkbox"/>	<input type="checkbox"/>	<input type="checkbox"/>	<input type="checkbox"/>	<input type="checkbox"/>	<input type="checkbox"/>	<input type="checkbox"/>	<input type="checkbox"/>	<input type="checkbox"/>	<input type="checkbox"/>
<input type="checkbox"/>	<input type="checkbox"/>	<input type="checkbox"/>	<input type="checkbox"/>	<input type="checkbox"/>							
<input type="checkbox"/>	<input type="checkbox"/>	<input type="checkbox"/>	<input type="checkbox"/>	<input type="checkbox"/>							
	<table border="1"> <tbody> <tr> <td><input type="checkbox"/></td> <td><input type="checkbox"/></td> <td><input type="checkbox"/></td> <td><input type="checkbox"/></td> <td><input type="checkbox"/></td> </tr> <tr> <td><input type="checkbox"/></td> <td><input type="checkbox"/></td> <td><input type="checkbox"/></td> <td><input type="checkbox"/></td> <td><input type="checkbox"/></td> </tr> </tbody> </table>	<input type="checkbox"/>	<input type="checkbox"/>	<input type="checkbox"/>	<input type="checkbox"/>	<input type="checkbox"/>	<input type="checkbox"/>	<input type="checkbox"/>	<input type="checkbox"/>	<input type="checkbox"/>	<input type="checkbox"/>
<input type="checkbox"/>	<input type="checkbox"/>	<input type="checkbox"/>	<input type="checkbox"/>	<input type="checkbox"/>							
<input type="checkbox"/>	<input type="checkbox"/>	<input type="checkbox"/>	<input type="checkbox"/>	<input type="checkbox"/>							
	<table border="1"> <tbody> <tr> <td><input type="checkbox"/></td> <td><input type="checkbox"/></td> <td><input type="checkbox"/></td> <td><input type="checkbox"/></td> <td><input type="checkbox"/></td> </tr> <tr> <td><input type="checkbox"/></td> <td><input type="checkbox"/></td> <td><input type="checkbox"/></td> <td><input type="checkbox"/></td> <td><input type="checkbox"/></td> </tr> </tbody> </table>	<input type="checkbox"/>	<input type="checkbox"/>	<input type="checkbox"/>	<input type="checkbox"/>	<input type="checkbox"/>	<input type="checkbox"/>	<input type="checkbox"/>	<input type="checkbox"/>	<input type="checkbox"/>	<input type="checkbox"/>
<input type="checkbox"/>	<input type="checkbox"/>	<input type="checkbox"/>	<input type="checkbox"/>	<input type="checkbox"/>							
<input type="checkbox"/>	<input type="checkbox"/>	<input type="checkbox"/>	<input type="checkbox"/>	<input type="checkbox"/>							

※1. このプリントは、しながわ・目黒こどもスクールのウェブサイトでダウンロードができます。無断複写・引用はご遠慮ください。

※2. このプリントを活用したオンライン授業のスケジュールは、しながわ・目黒こどもスクールのウェブサイトでご確認ください。



# おうちで、やろう。

Study at home. 小学校受験の家庭学習教材

## 推理：四方観察 14

左の太い四角の中の積み木がお手本です。このお手本を男の子が上からのぞいて（上から）見たときの見え方を考えます。男の子が見えている白い積み木はいくつですか。その数だけ右の四角の○を囲みます。

	<table border="1"> <tbody> <tr> <td><input type="checkbox"/></td> <td><input type="checkbox"/></td> <td><input type="checkbox"/></td> <td><input type="checkbox"/></td> <td><input type="checkbox"/></td> </tr> <tr> <td><input type="checkbox"/></td> <td><input type="checkbox"/></td> <td><input type="checkbox"/></td> <td><input type="checkbox"/></td> <td><input type="checkbox"/></td> </tr> </tbody> </table>	<input type="checkbox"/>	<input type="checkbox"/>	<input type="checkbox"/>	<input type="checkbox"/>	<input type="checkbox"/>	<input type="checkbox"/>	<input type="checkbox"/>	<input type="checkbox"/>	<input type="checkbox"/>	<input type="checkbox"/>
<input type="checkbox"/>	<input type="checkbox"/>	<input type="checkbox"/>	<input type="checkbox"/>	<input type="checkbox"/>							
<input type="checkbox"/>	<input type="checkbox"/>	<input type="checkbox"/>	<input type="checkbox"/>	<input type="checkbox"/>							
	<table border="1"> <tbody> <tr> <td><input type="checkbox"/></td> <td><input type="checkbox"/></td> <td><input type="checkbox"/></td> <td><input type="checkbox"/></td> <td><input type="checkbox"/></td> </tr> <tr> <td><input type="checkbox"/></td> <td><input type="checkbox"/></td> <td><input type="checkbox"/></td> <td><input type="checkbox"/></td> <td><input type="checkbox"/></td> </tr> </tbody> </table>	<input type="checkbox"/>	<input type="checkbox"/>	<input type="checkbox"/>	<input type="checkbox"/>	<input type="checkbox"/>	<input type="checkbox"/>	<input type="checkbox"/>	<input type="checkbox"/>	<input type="checkbox"/>	<input type="checkbox"/>
<input type="checkbox"/>	<input type="checkbox"/>	<input type="checkbox"/>	<input type="checkbox"/>	<input type="checkbox"/>							
<input type="checkbox"/>	<input type="checkbox"/>	<input type="checkbox"/>	<input type="checkbox"/>	<input type="checkbox"/>							
	<table border="1"> <tbody> <tr> <td><input type="checkbox"/></td> <td><input type="checkbox"/></td> <td><input type="checkbox"/></td> <td><input type="checkbox"/></td> <td><input type="checkbox"/></td> </tr> <tr> <td><input type="checkbox"/></td> <td><input type="checkbox"/></td> <td><input type="checkbox"/></td> <td><input type="checkbox"/></td> <td><input type="checkbox"/></td> </tr> </tbody> </table>	<input type="checkbox"/>	<input type="checkbox"/>	<input type="checkbox"/>	<input type="checkbox"/>	<input type="checkbox"/>	<input type="checkbox"/>	<input type="checkbox"/>	<input type="checkbox"/>	<input type="checkbox"/>	<input type="checkbox"/>
<input type="checkbox"/>	<input type="checkbox"/>	<input type="checkbox"/>	<input type="checkbox"/>	<input type="checkbox"/>							
<input type="checkbox"/>	<input type="checkbox"/>	<input type="checkbox"/>	<input type="checkbox"/>	<input type="checkbox"/>							
	<table border="1"> <tbody> <tr> <td><input type="checkbox"/></td> <td><input type="checkbox"/></td> <td><input type="checkbox"/></td> <td><input type="checkbox"/></td> <td><input type="checkbox"/></td> </tr> <tr> <td><input type="checkbox"/></td> <td><input type="checkbox"/></td> <td><input type="checkbox"/></td> <td><input type="checkbox"/></td> <td><input type="checkbox"/></td> </tr> </tbody> </table>	<input type="checkbox"/>	<input type="checkbox"/>	<input type="checkbox"/>	<input type="checkbox"/>	<input type="checkbox"/>	<input type="checkbox"/>	<input type="checkbox"/>	<input type="checkbox"/>	<input type="checkbox"/>	<input type="checkbox"/>
<input type="checkbox"/>	<input type="checkbox"/>	<input type="checkbox"/>	<input type="checkbox"/>	<input type="checkbox"/>							
<input type="checkbox"/>	<input type="checkbox"/>	<input type="checkbox"/>	<input type="checkbox"/>	<input type="checkbox"/>							
	<table border="1"> <tbody> <tr> <td><input type="checkbox"/></td> <td><input type="checkbox"/></td> <td><input type="checkbox"/></td> <td><input type="checkbox"/></td> <td><input type="checkbox"/></td> </tr> <tr> <td><input type="checkbox"/></td> <td><input type="checkbox"/></td> <td><input type="checkbox"/></td> <td><input type="checkbox"/></td> <td><input type="checkbox"/></td> </tr> </tbody> </table>	<input type="checkbox"/>	<input type="checkbox"/>	<input type="checkbox"/>	<input type="checkbox"/>	<input type="checkbox"/>	<input type="checkbox"/>	<input type="checkbox"/>	<input type="checkbox"/>	<input type="checkbox"/>	<input type="checkbox"/>
<input type="checkbox"/>	<input type="checkbox"/>	<input type="checkbox"/>	<input type="checkbox"/>	<input type="checkbox"/>							
<input type="checkbox"/>	<input type="checkbox"/>	<input type="checkbox"/>	<input type="checkbox"/>	<input type="checkbox"/>							

※1. このプリントは、しながわ・目黒こどもスクールのウェブサイトでダウンロードができます。無断複写・引用はご遠慮ください。

※2. このプリントを活用したオンライン授業のスケジュールは、しながわ・目黒こどもスクールのウェブサイトでご確認ください。

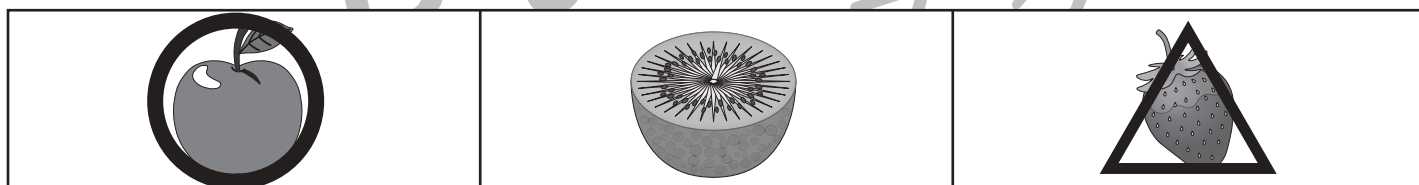


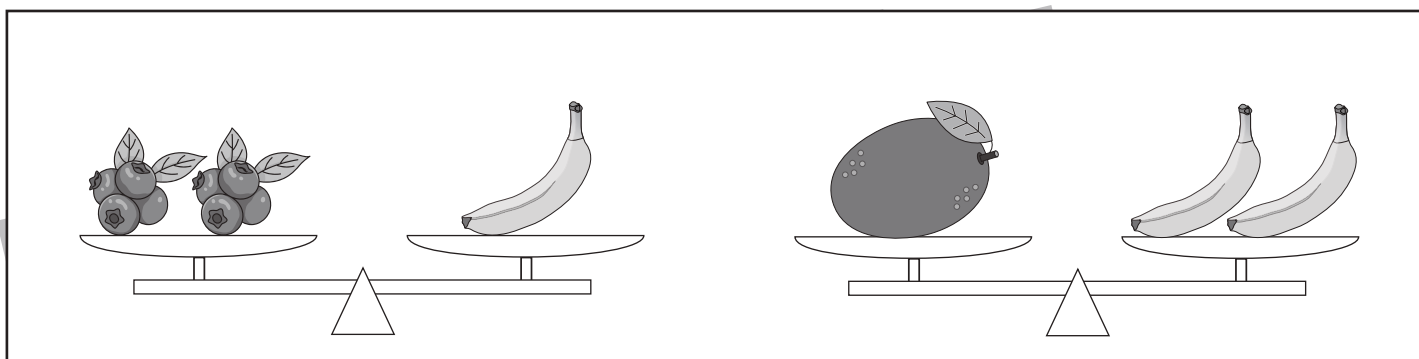
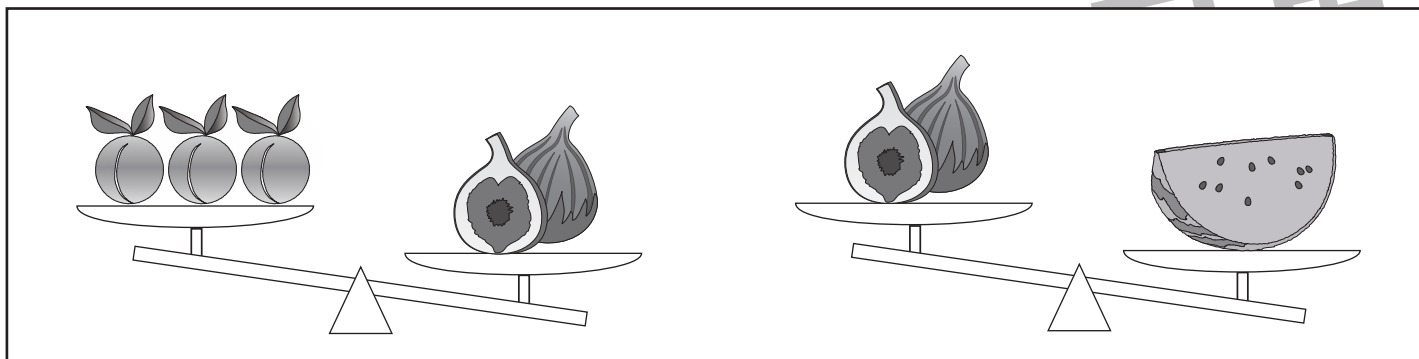


# おうちで、やろう。

Study at home. 小学校受験の家庭学習教材

推理：重さ9

3種類の果物をシーソーにのせて重さ比べをします。  
1番重い果物には○を、1番軽い果物には△をつけましょう。



※1. このプリントは、しながわ・目黒こどもスクールのウェブサイトでダウンロードができます。無断複写・引用はご遠慮ください。

※2. このプリントを活用したオンライン授業のスケジュールは、しながわ・目黒こどもスクールのウェブサイトでご確認ください。

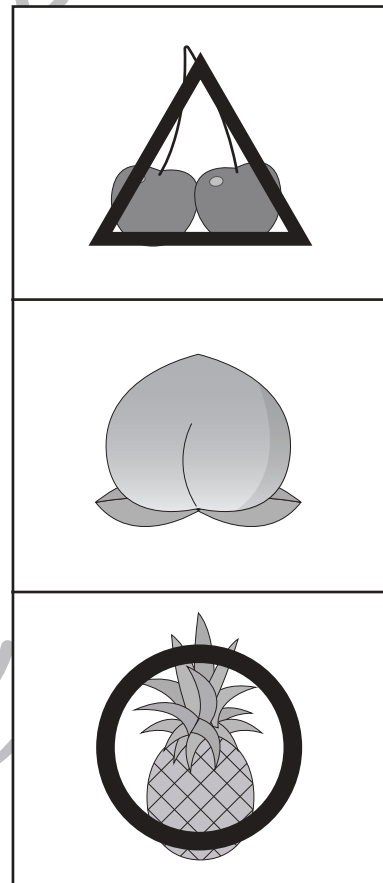

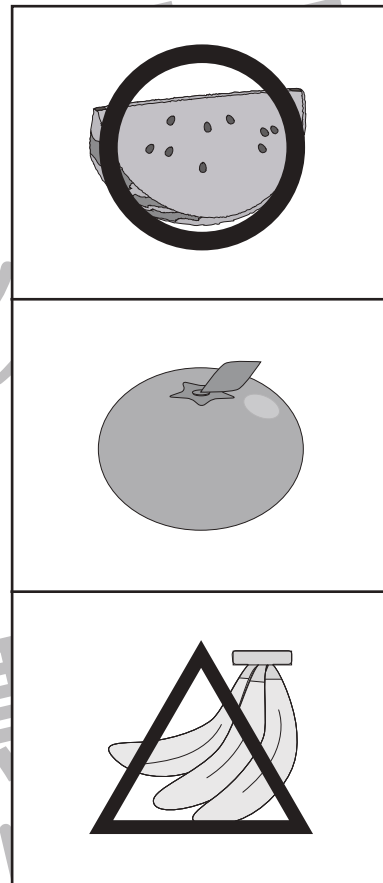
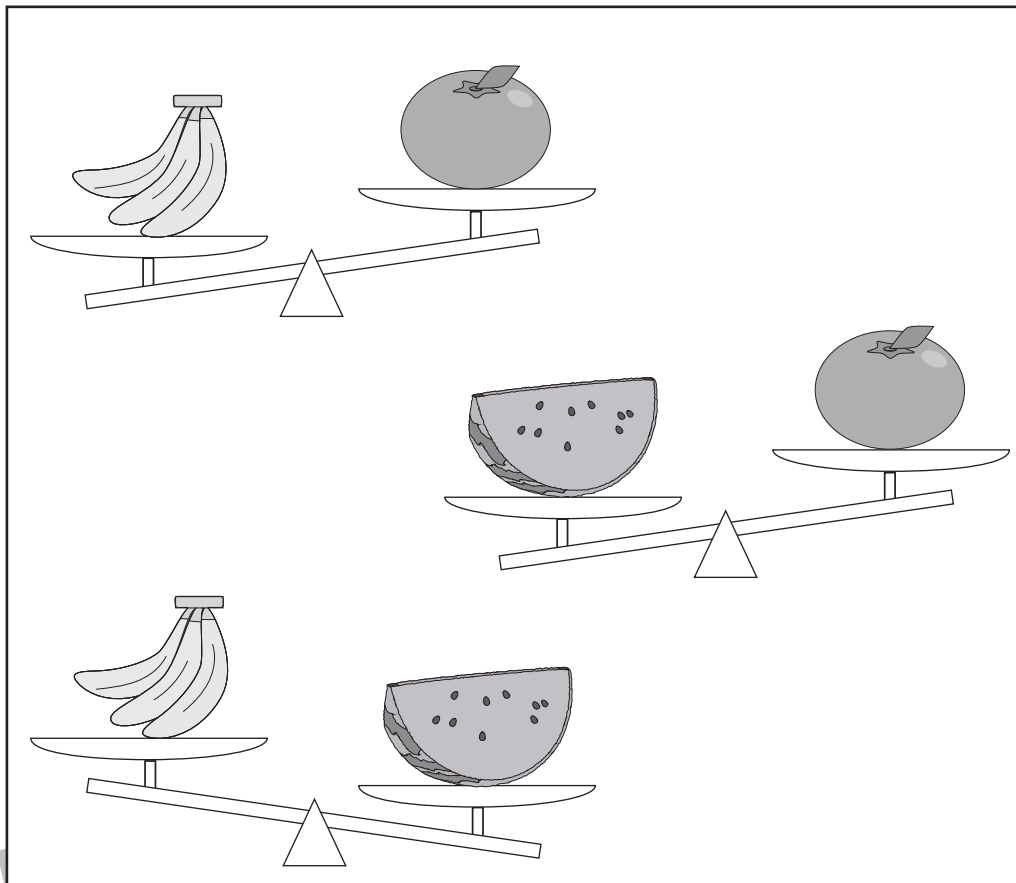


# おうちで、やろう。

Study at home. 小学校受験の家庭学習教材

推理：重さ 10

3種類の果物をシーソーにのせて重さ比べをします。  
1番重い果物には○を、1番軽い果物には△をつけましょう。



※1. このプリントは、しながわ・目黒こどもスクールのウェブサイトでダウンロードができます。無断複写・引用はご遠慮ください。  
 ※2. このプリントを活用したオンライン授業のスケジュールは、しながわ・目黒こどもスクールのウェブサイトでご確認ください。



# おうちで、やろう。

Study at home. 小学校受験の家庭学習教材

## 数量：合わせた数7

3つのサイコロの目の数を合わせて13にします。

左の四角の中の2つのサイコロと合わせて13になるサイコロの目を右の四角の中から1つ見つけて○をつけます。


※1. このプリントは、しながわ・目黒こどもスクールのウェブサイトでダウンロードができます。無断複写・引用はご遠慮ください。

※2. このプリントを活用したオンライン授業のスケジュールは、しながわ・目黒こどもスクールのウェブサイトでご確認ください。



# おうちで、やろう。

Study at home. 小学校受験の家庭学習教材

数量：合わせた数8

3つのサイコロの目の数を合わせて9にします。

左の四角の中の2つのサイコロと合わせて9になるサイコロの目を右の四角の中から1つ見つけて○をつけます。


※1. このプリントは、しながわ・目黒こどもスクールのウェブサイトでダウンロードができます。無断複写・引用はご遠慮ください。

※2. このプリントを活用したオンライン授業のスケジュールは、しながわ・目黒こどもスクールのウェブサイトでご確認ください。





# おうちで、やろう。

Study at home. 小学校受験の家庭学習教材

処理：模写3

左のお手本の丸を右の四角の同じ場所にかきます。ただし、白丸○は黒丸●に、黒丸●は白丸○に色をかえてかきます。  
この問題はスピードを意識して取り組む練習をしてみましょう。(1分～1分30秒)

<table border="1"><tr><td>○</td><td>●</td><td>●</td></tr><tr><td></td><td>○</td><td></td></tr><tr><td></td><td></td><td>●</td></tr></table>	○	●	●		○				●	<table border="1"><tr><td>●</td><td>○</td><td>○</td></tr><tr><td></td><td>●</td><td></td></tr><tr><td></td><td></td><td>○</td></tr></table>	●	○	○		●				○	<table border="1"><tr><td>●</td><td></td><td>○</td></tr><tr><td>●</td><td></td><td>●</td></tr><tr><td>○</td><td>●</td><td>●</td></tr></table>	●		○	●		●	○	●	●	<table border="1"><tr><td>○</td><td></td><td>●</td></tr><tr><td>○</td><td></td><td>○</td></tr><tr><td>●</td><td>○</td><td>○</td></tr></table>	○		●	○		○	●	○	○
○	●	●																																					
	○																																						
		●																																					
●	○	○																																					
	●																																						
		○																																					
●		○																																					
●		●																																					
○	●	●																																					
○		●																																					
○		○																																					
●	○	○																																					
<table border="1"><tr><td>○</td><td>○</td><td></td></tr><tr><td></td><td>●</td><td></td></tr><tr><td>●</td><td></td><td>●</td></tr></table>	○	○			●		●		●	<table border="1"><tr><td>●</td><td>●</td><td></td></tr><tr><td></td><td>○</td><td></td></tr><tr><td>○</td><td></td><td>○</td></tr></table>	●	●			○		○		○	<table border="1"><tr><td></td><td>○</td><td>○</td></tr><tr><td>○</td><td>●</td><td></td></tr><tr><td>●</td><td>●</td><td>●</td></tr></table>		○	○	○	●		●	●	●	<table border="1"><tr><td></td><td>●</td><td>●</td></tr><tr><td>●</td><td>○</td><td></td></tr><tr><td>○</td><td>○</td><td>○</td></tr></table>		●	●	●	○		○	○	○
○	○																																						
	●																																						
●		●																																					
●	●																																						
	○																																						
○		○																																					
	○	○																																					
○	●																																						
●	●	●																																					
	●	●																																					
●	○																																						
○	○	○																																					
<table border="1"><tr><td>○</td><td></td><td>●</td></tr><tr><td></td><td>●</td><td>●</td></tr><tr><td>○</td><td>○</td><td></td></tr></table>	○		●		●	●	○	○		<table border="1"><tr><td>●</td><td></td><td>○</td></tr><tr><td></td><td>○</td><td>○</td></tr><tr><td>●</td><td>●</td><td></td></tr></table>	●		○		○	○	●	●		<table border="1"><tr><td>○</td><td>●</td><td>○</td></tr><tr><td>○</td><td>●</td><td>○</td></tr><tr><td>●</td><td></td><td></td></tr></table>	○	●	○	○	●	○	●			<table border="1"><tr><td>●</td><td>○</td><td>●</td></tr><tr><td>●</td><td>○</td><td>●</td></tr><tr><td>○</td><td></td><td></td></tr></table>	●	○	●	●	○	●	○		
○		●																																					
	●	●																																					
○	○																																						
●		○																																					
	○	○																																					
●	●																																						
○	●	○																																					
○	●	○																																					
●																																							
●	○	●																																					
●	○	●																																					
○																																							
<table border="1"><tr><td>○</td><td>●</td><td></td></tr><tr><td></td><td>○</td><td></td></tr><tr><td>○</td><td>●</td><td>●</td></tr></table>	○	●			○		○	●	●	<table border="1"><tr><td>●</td><td>○</td><td></td></tr><tr><td></td><td>●</td><td></td></tr><tr><td>●</td><td>○</td><td>○</td></tr></table>	●	○			●		●	○	○	<table border="1"><tr><td>●</td><td>○</td><td>○</td></tr><tr><td></td><td></td><td>●</td></tr><tr><td>○</td><td>●</td><td></td></tr></table>	●	○	○			●	○	●		<table border="1"><tr><td>○</td><td>●</td><td>●</td></tr><tr><td></td><td></td><td>○</td></tr><tr><td>●</td><td>○</td><td></td></tr></table>	○	●	●			○	●	○	
○	●																																						
	○																																						
○	●	●																																					
●	○																																						
	●																																						
●	○	○																																					
●	○	○																																					
		●																																					
○	●																																						
○	●	●																																					
		○																																					
●	○																																						
<table border="1"><tr><td>●</td><td>○</td><td>●</td></tr><tr><td></td><td>○</td><td></td></tr><tr><td>○</td><td></td><td>●</td></tr></table>	●	○	●		○		○		●	<table border="1"><tr><td>○</td><td>●</td><td>○</td></tr><tr><td></td><td>●</td><td></td></tr><tr><td>●</td><td></td><td>○</td></tr></table>	○	●	○		●		●		○	<table border="1"><tr><td>○</td><td></td><td>●</td></tr><tr><td>○</td><td>●</td><td></td></tr><tr><td>●</td><td></td><td>○</td></tr></table>	○		●	○	●		●		○	<table border="1"><tr><td>●</td><td></td><td>○</td></tr><tr><td>●</td><td>○</td><td></td></tr><tr><td>○</td><td></td><td>●</td></tr></table>	●		○	●	○		○		●
●	○	●																																					
	○																																						
○		●																																					
○	●	○																																					
	●																																						
●		○																																					
○		●																																					
○	●																																						
●		○																																					
●		○																																					
●	○																																						
○		●																																					

※1. このプリントは、しながわ・目黒こどもスクールのウェブサイトでダウンロードができます。無断複写・引用はご遠慮ください。  
※2. このプリントを活用したオンライン授業のスケジュールは、しながわ・目黒こどもスクールのウェブサイトでご確認ください。