



おうちで、やろう。

Study at home. 小学校受験の家庭学習教材

記憶：絵の記憶 1 記憶用紙

別紙『記憶 - 絵の記憶 1』を行う際に使用します。記憶用紙は点線で折って(切って)、①、②、③の問題の際にそれぞれ 20 秒間ずつ記憶させてください。記憶する際は問題用紙は裏返しにします。記憶後①、②、③それぞれの問題に答えましょう。

①～③黒丸の場所を塗ります。

※2022 年 1 月 6 日(木)のオンライン授業では実施中に記憶する絵を画面で表示します。

①

②

③

※1. このプリントは、しながわ・目黒こどもスクールのウェブサイトでダウンロードができます。無断複写・引用はご遠慮ください。

※2. このプリントを活用したオンライン授業のスケジュールは、しながわ・目黒こどもスクールのウェブサイトでご確認ください。



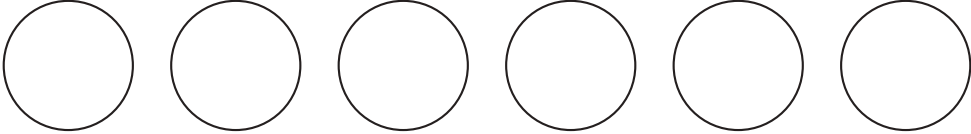
おうちで、やろう。

Study at home. 小学校受験の家庭学習教材

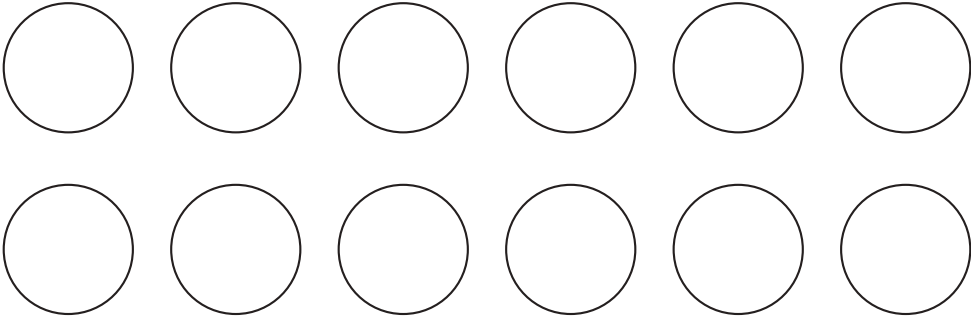
記憶：絵の記憶 1

別紙『記憶 - 絵の記憶 1 記憶用紙』を使用します。記憶用紙の形を見た後に①、②、③の問題に取り組みましょう。
※この問題の解答は別紙『記憶 - 絵の記憶 1 記憶用紙』にて確認してください。

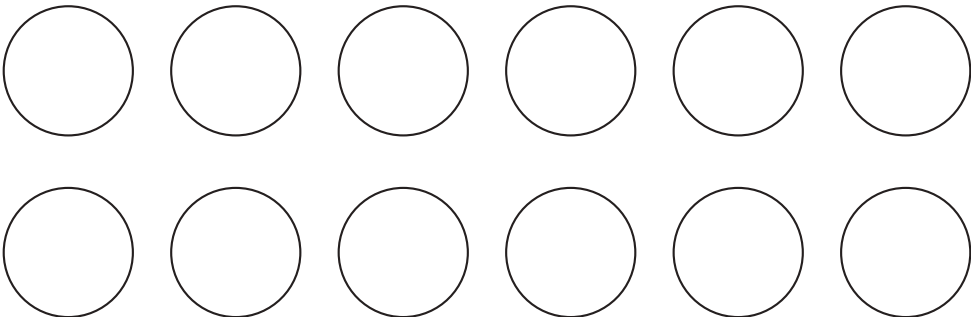
①



②



③



※1. このプリントは、しながわ・目黒こどもスクールのウェブサイトでダウンロードができます。無断複写・引用はご遠慮ください。

※2. このプリントを活用したオンライン授業のスケジュールは、しながわ・目黒こどもスクールのウェブサイトでご確認ください。







おうちで、やろう。

Study at home. 小学校受験の家庭学習教材

言語：しりとり2

左上の水筒から右下の柿まで、しりとりでつなげていきます。太い四角の中に入る絵を下の四角の中から選んで、それぞれの四角中の記号をつけます。



※1. このプリントは、しながわ・目黒こどもスクールのウェブサイトからダウンロードできます。無断複写・引用はご遠慮ください。
 ※2. このプリントを活用したオンライン授業のスケジュールは、しながわ・目黒こどもスクールのウェブサイトでご確認ください。



おうちで、やろう。

Study at home. 小学校受験の家庭学習教材

言語：しりとり3

左上のマスクから右下まで、しりとりでつなげていきます。太い四角の中に入る絵を下の四角の中から選んで、それぞれの四角の中の記号をつけます。

※1. このプリントは、しながわ・目黒こどもスクールのウェブサイトからダウンロードできます。無断複写・引用はご遠慮ください。
 ※2. このプリントを活用したオンライン授業のスケジュールは、しながわ・目黒こどもスクールのウェブサイトでご確認ください。



おうちで、よろう。

Study at home. 小学校受験の家庭学習教材

図形：回転5

左のお手本を矢印の方向へ1回倒した時の見え方を考えて右の四角にかきます。

※1. このプリントは、しながわ・目黒こどもスクールのウェブサイトでダウンロードができます。無断複写・引用はご遠慮ください。
 ※2. このプリントを活用したオンライン授業のスケジュールは、しながわ・目黒こどもスクールのウェブサイトでご確認ください。



おうちで、よろう。

Study at home. 小学校受験の家庭学習教材

図形：回転6

左のお手本を矢印の方向へ1回倒した時の見え方を考えて右の四角にかきます。

	↘			↘	
	↘			↘	
	↘			↘	
	↘			↘	
	↘			↘	

※1. このプリントは、しながわ・目黒こどもスクールのウェブサイトでダウンロードができます。無断複写・引用はご遠慮ください。
 ※2. このプリントを活用したオンライン授業のスケジュールは、しながわ・目黒こどもスクールのウェブサイトでご確認ください。



おうちで、やろう。

Study at home. 小学校受験の家庭学習教材

図形：回転7

左のお手本を矢印の方向へ1回倒した時の見え方を考えて右の四角にかきます。

※1. このプリントは、しながわ・目黒こどもスクールのウェブサイトでダウンロードができます。無断複写・引用はご遠慮ください。
 ※2. このプリントを活用したオンライン授業のスケジュールは、しながわ・目黒こどもスクールのウェブサイトでご確認ください。








おうちで、やろう。

Study at home. 小学校受験の家庭学習教材

数量：分割 8

2人のお友だちで四角の中の二種類の果物を仲良く同じ数に分けます。
このとき、1人がもらえるそれぞれの果物の数はいくつですか。その数だけ、下の果物の隣に○をかきます。



※1. このプリントは、しながわ・目黒こどもスクールのウェブサイトからダウンロードできます。無断複写・引用はご遠慮ください。
※2. このプリントを活用したオンライン授業のスケジュールは、しながわ・目黒こどもスクールのウェブサイトでご確認ください。



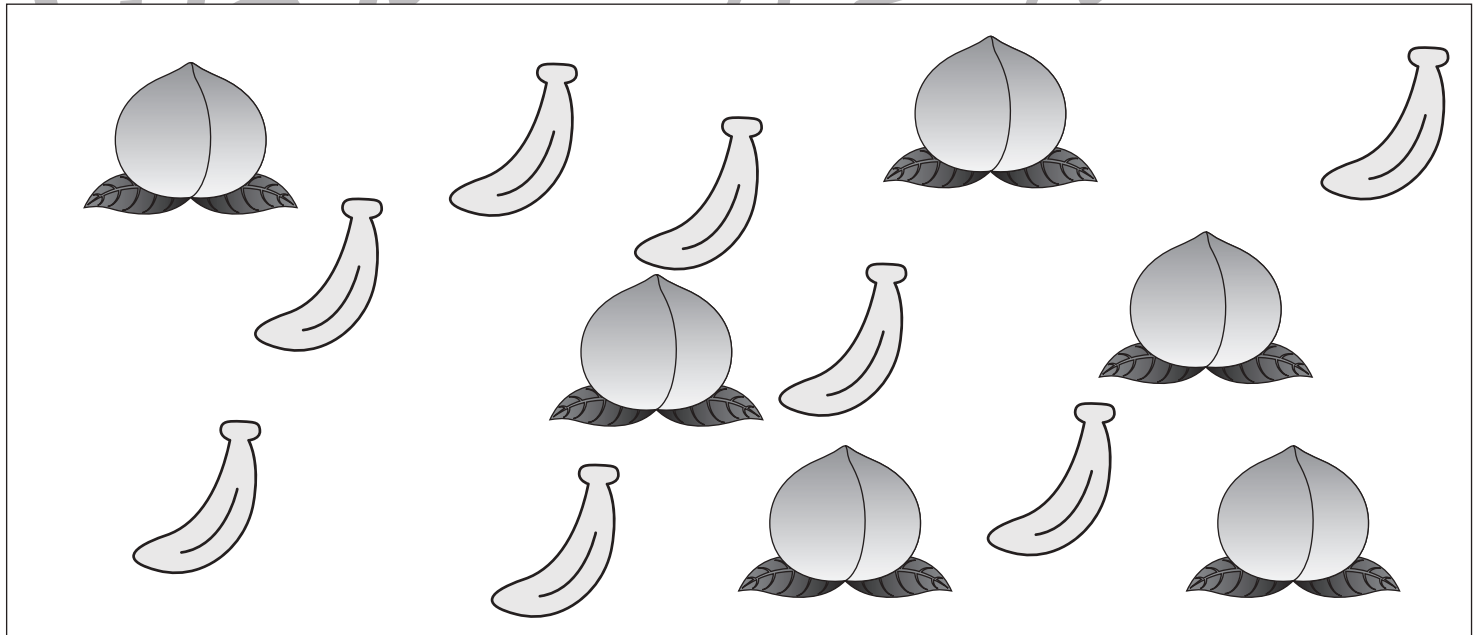
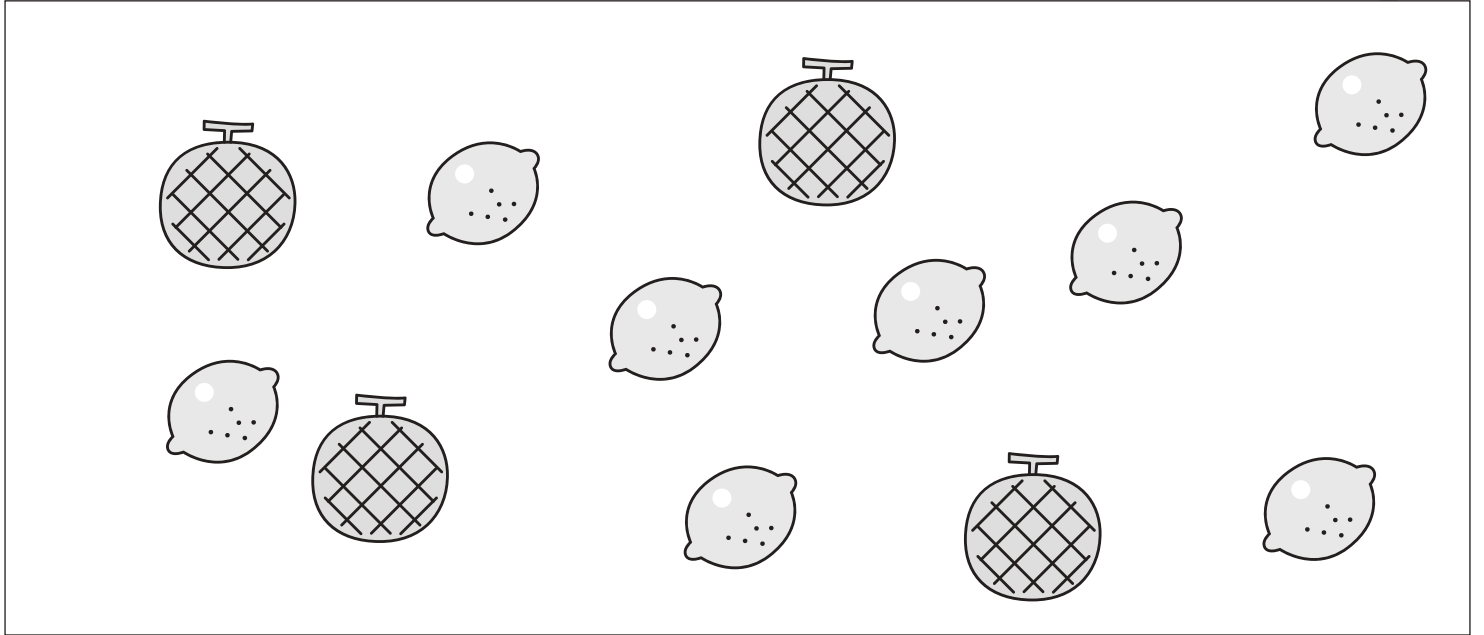


おうちで、やろう。

Study at home. 小学校受験の家庭学習教材

数量：分割 9

2人のお友だちで四角の中の二種類の果物を仲良く同じ数に分けます。
このとき、1人がもらえるそれぞれの果物の数はいくつですか。その数だけ、下の果物の隣に〇をかきます。



※1. このプリントは、しながわ・目黒こどもスクールのウェブサイトでダウンロードができます。無断複写・引用はご遠慮ください。
※2. このプリントを活用したオンライン授業のスケジュールは、しながわ・目黒こどもスクールのウェブサイトでご確認ください。






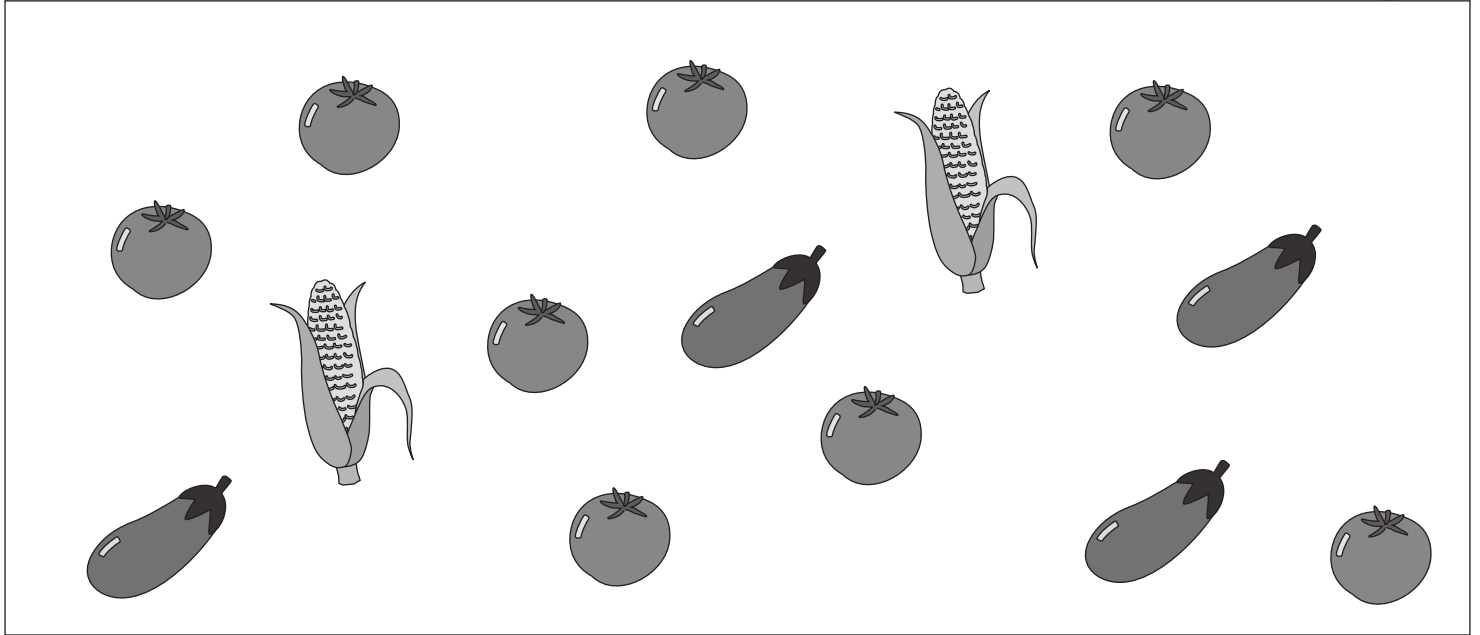
おうちで、やろう。

Study at home. 小学校受験の家庭学習教材

数量：分割 10

2人のお友だちで四角の中の三種類の野菜を仲良く同じ数に分けます。

このとき、1人がもらえるそれぞれの野菜の数はいくつですか。その数だけ、下の野菜の隣に〇をかきます。



※1. このプリントは、しながわ・目黒こどもスクールのウェブサイトでダウンロードができます。無断複写・引用はご遠慮ください。

※2. このプリントを活用したオンライン授業のスケジュールは、しながわ・目黒こどもスクールのウェブサイトでご確認ください。



おうちで、やろう。

Study at home. 小学校受験の家庭学習教材

処理：模写1

左のお手本の白丸の場所を考えます。右の四角の同じ場所の黒丸を○で囲みます。

○ ● ● ● ● ● ○ ● ● ○ ● ● ● ● ● ○	● ● ● ● ● ● ● ● ● ● ● ● ● ● ● ●	● ● ● ○ ○ ● ○ ● ● ○ ● ● ● ● ○ ○	● ● ● ● ● ● ● ● ● ● ● ● ● ● ● ●
● ● ● ● ● ● ○ ○ ● ○ ● ● ● ○ ● ●	● ● ● ● ● ● ● ● ● ● ● ● ● ● ● ●	○ ● ● ● ● ○ ● ● ● ● ○ ● ● ○ ● ●	● ● ● ● ● ● ● ● ● ● ● ● ● ● ● ●
● ● ● ● ● ● ● ○ ○ ● ○ ● ● ● ○ ●	● ● ● ● ● ● ● ● ● ● ● ● ● ● ● ●	○ ● ● ● ● ● ○ ● ● ○ ● ○ ○ ● ○ ●	● ● ● ● ● ● ● ● ● ● ● ● ● ● ● ●
● ● ● ● ● ○ ○ ● ● ● ○ ● ● ● ● ○	● ● ● ● ● ● ● ● ● ● ● ● ● ● ● ●	● ○ ● ○ ○ ● ● ● ● ○ ● ○ ● ● ○ ●	● ● ● ● ● ● ● ● ● ● ● ● ● ● ● ●
● ● ● ○ ● ● ○ ● ● ● ○ ● ○ ● ● ●	● ● ● ● ● ● ● ● ● ● ● ● ● ● ● ●	● ● ○ ● ● ○ ● ○ ○ ● ● ● ● ● ○ ●	● ● ● ● ● ● ● ● ● ● ● ● ● ● ● ●

※1. このプリントは、しながわ・目黒こどもスクールのウェブサイトでダウンロードができます。無断複写・引用はご遠慮ください。
 ※2. このプリントを活用したオンライン授業のスケジュールは、しながわ・目黒こどもスクールのウェブサイトでご確認ください。