








# おうちで、やろう。

Study at home. 小学校受験の家庭学習教材

言語：しりとり2

左上の水筒から右下の柿まで、しりとりでつなげていきます。太い四角の中に入る絵を下の四角の中から選んで、それぞれの四角中の記号をつけます。



※1. このプリントは、しながわ・目黒こどもスクールのウェブサイトでダウンロードができます。無断複写・引用はご遠慮ください。

※2. このプリントを活用したオンライン授業のスケジュールは、しながわ・目黒こどもスクールのウェブサイトでご確認ください。



# おうちで、やろう。

Study at home. 小学校受験の家庭学習教材

言語：しりとり3

左上のマスクから右下まで、しりとりでつなげていきます。太い四角の中に入る絵を下の四角の中から選んで、それぞれの四角の中の記号をつけます。


※1. このプリントは、しながわ・目黒こどもスクールのウェブサイトからダウンロードできます。無断複写・引用はご遠慮ください。  
 ※2. このプリントを活用したオンライン授業のスケジュールは、しながわ・目黒こどもスクールのウェブサイトでご確認ください。



# おうちで、よろう。

Study at home. 小学校受験の家庭学習教材

図形：回転5

左のお手本を矢印の方向へ1回倒した時の見え方を考えて右の四角にかきます。

A 5x2 grid of visual puzzles. Each puzzle consists of two 2x2 grids. A curved arrow points from the left grid to the right grid, indicating a 90-degree clockwise rotation of the entire 2x2 grid.

- Row 1:** Left: Triangle in top-left. Right: Triangle in top-right.
- Row 2:** Left: Triangle in bottom-right. Right: Triangle in top-right.
- Row 3:** Left: Triangle in top-right. Right: Triangle in bottom-right.
- Row 4:** Left: Triangle in bottom-left. Right: Triangle in top-left.
- Row 5:** Left: Triangle in top-right. Right: Triangle in bottom-right.

※1. このプリントは、しながわ・目黒こどもスクールのウェブサイトでダウンロードができます。無断複写・引用はご遠慮ください。  
 ※2. このプリントを活用したオンライン授業のスケジュールは、しながわ・目黒こどもスクールのウェブサイトでご確認ください。



# おうちで、よろう。

Study at home. 小学校受験の家庭学習教材

図形：回転6

左のお手本を矢印の方向へ1回倒した時の見え方を考えて右の四角にかきます。

A 5x2 grid of visual puzzles. Each puzzle consists of two 2x2 grids. The left grid is the 'original' state, and the right grid is the state after a 90-degree clockwise rotation. A curved arrow indicates the rotation direction.

- Row 1:** Original: Top-left and top-right cells contain upward-pointing triangles. Rotated: Right column contains rightward-pointing triangles.
- Row 2:** Original: Bottom-left and bottom-right cells contain upward-pointing triangles. Rotated: Left column contains rightward-pointing triangles.
- Row 3:** Original: Top-right and bottom-right cells contain upward-pointing triangles. Rotated: Top row contains downward-pointing triangles.
- Row 4:** Original: Top-left and bottom-right cells contain upward-pointing triangles. Rotated: Right column contains rightward-pointing triangles.
- Row 5:** Original: Top-left and bottom-left cells contain upward-pointing triangles. Rotated: Left column contains rightward-pointing triangles.

※1. このプリントは、しながわ・目黒こどもスクールのウェブサイトでダウンロードができます。無断複写・引用はご遠慮ください。  
 ※2. このプリントを活用したオンライン授業のスケジュールは、しながわ・目黒こどもスクールのウェブサイトでご確認ください。



# おうちで、やろう。

Study at home. 小学校受験の家庭学習教材

図形：回転7

左のお手本を矢印の方向へ1回倒した時の見え方を考えて右の四角にかきます。

	↘			↘	
	↘			↘	
	↘			↘	
	↘			↘	
	↘			↘	

※1. このプリントは、しながわ・目黒こどもスクールのウェブサイトからダウンロードできます。無断複写・引用はご遠慮ください。  
 ※2. このプリントを活用したオンライン授業のスケジュールは、しながわ・目黒こどもスクールのウェブサイトでご確認ください。




# おうちで、やろう。

Study at home. 小学校受験の家庭学習教材


数量：分割 8

2人のお友だちで四角の中の二種類の果物を仲良く同じ数に分けます。  
このとき、1人がもらえるそれぞれの果物の数はいくつですか。その数だけ、下の果物の隣に○をかきます。



 ○ ○ ○

 ○ ○



 ○ ○ ○ ○ ○

 ○ ○ ○

※1. このプリントは、しながわ・目黒こどもスクールのウェブサイトからダウンロードできます。無断複写・引用はご遠慮ください。  
※2. このプリントを活用したオンライン授業のスケジュールは、しながわ・目黒こどもスクールのウェブサイトでご確認ください。



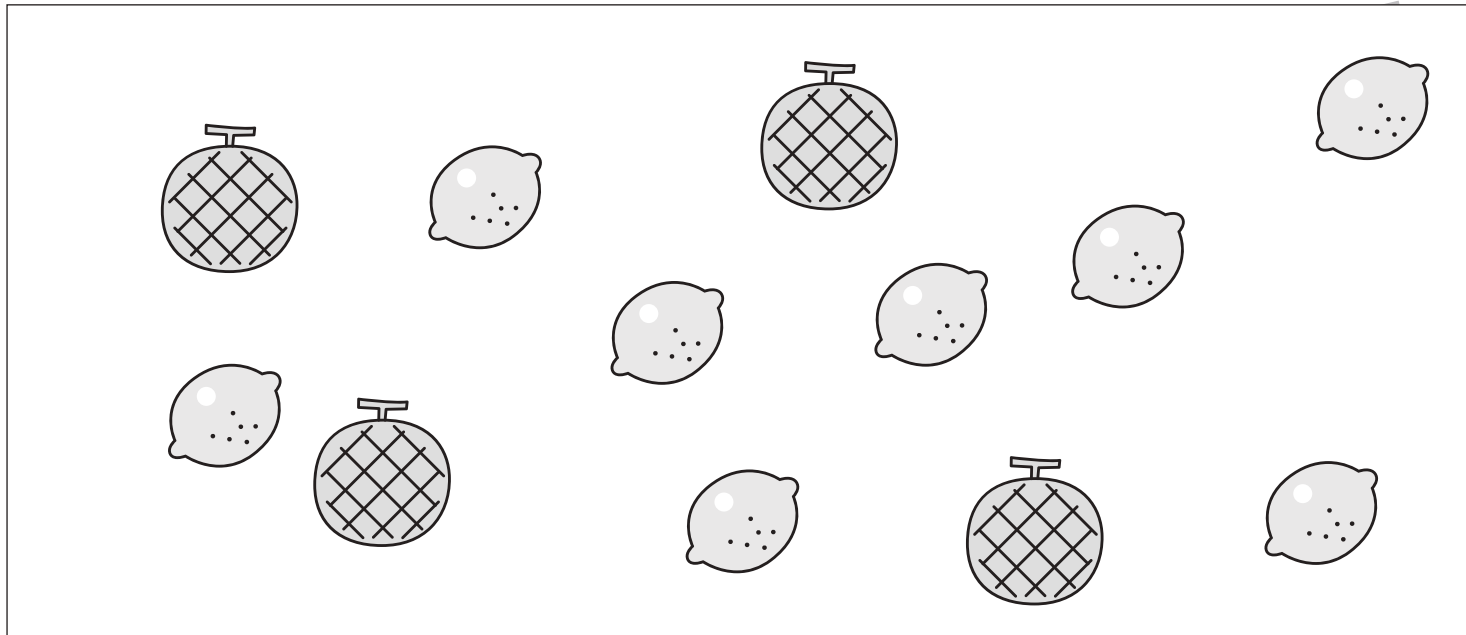


# おうちで、やろう。

Study at home. 小学校受験の家庭学習教材

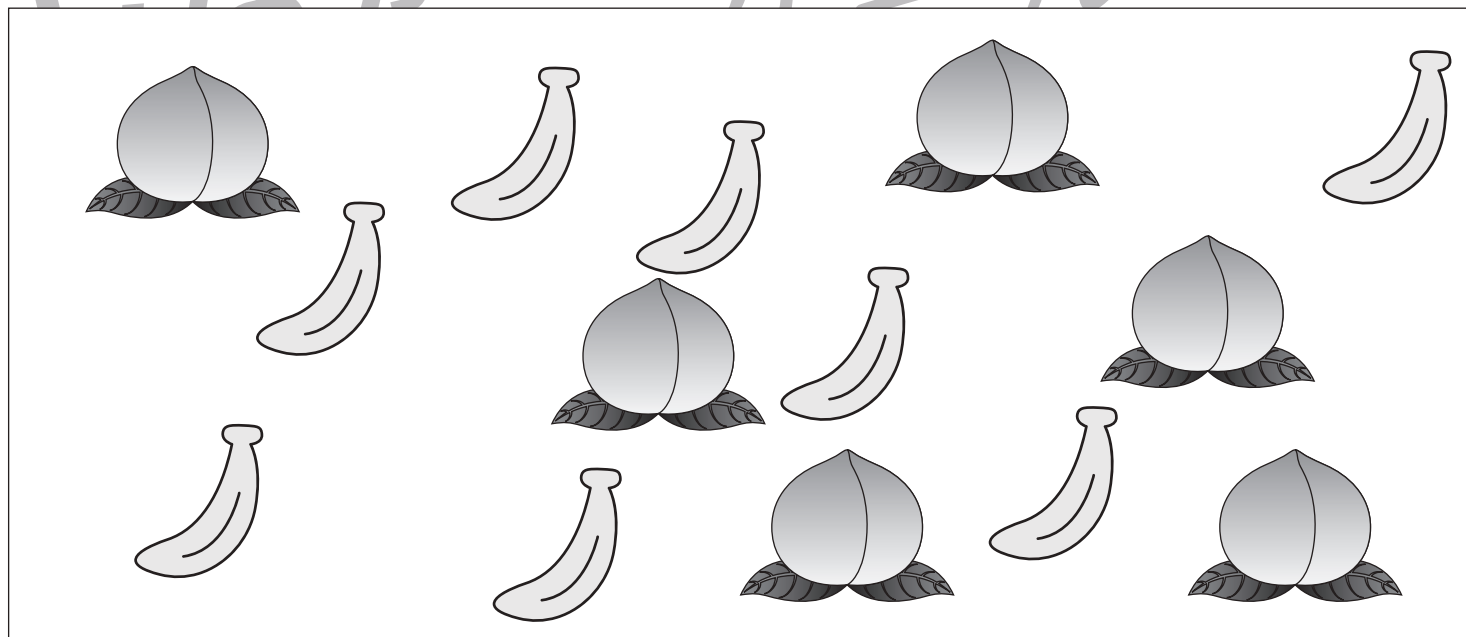
数量：分割 9

2人のお友だちで四角の中の二種類の果物を仲良く同じ数に分けます。  
このとき、1人がもらえるそれぞれの果物の数はいくつですか。その数だけ、下の果物の隣に○をかきます。



	○ ○
---	-----

	○ ○ ○ ○ ○ ○ ○ ○ ○ ○ ○ ○
---	-------------------------



	○ ○ ○ ○ ○ ○ ○ ○ ○ ○ ○ ○
--	-------------------------

	○ ○ ○ ○ ○ ○ ○ ○ ○ ○ ○ ○
---	-------------------------

※1. このプリントは、しながわ・目黒こどもスクールのウェブサイトでダウンロードができます。無断複写・引用はご遠慮ください。  
※2. このプリントを活用したオンライン授業のスケジュールは、しながわ・目黒こどもスクールのウェブサイトでご確認ください。



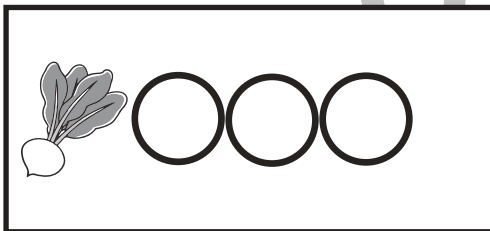

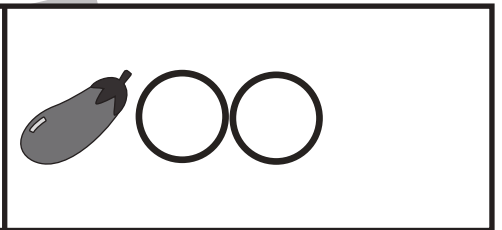
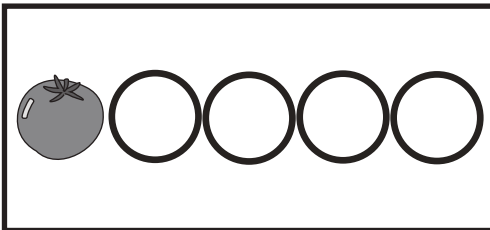
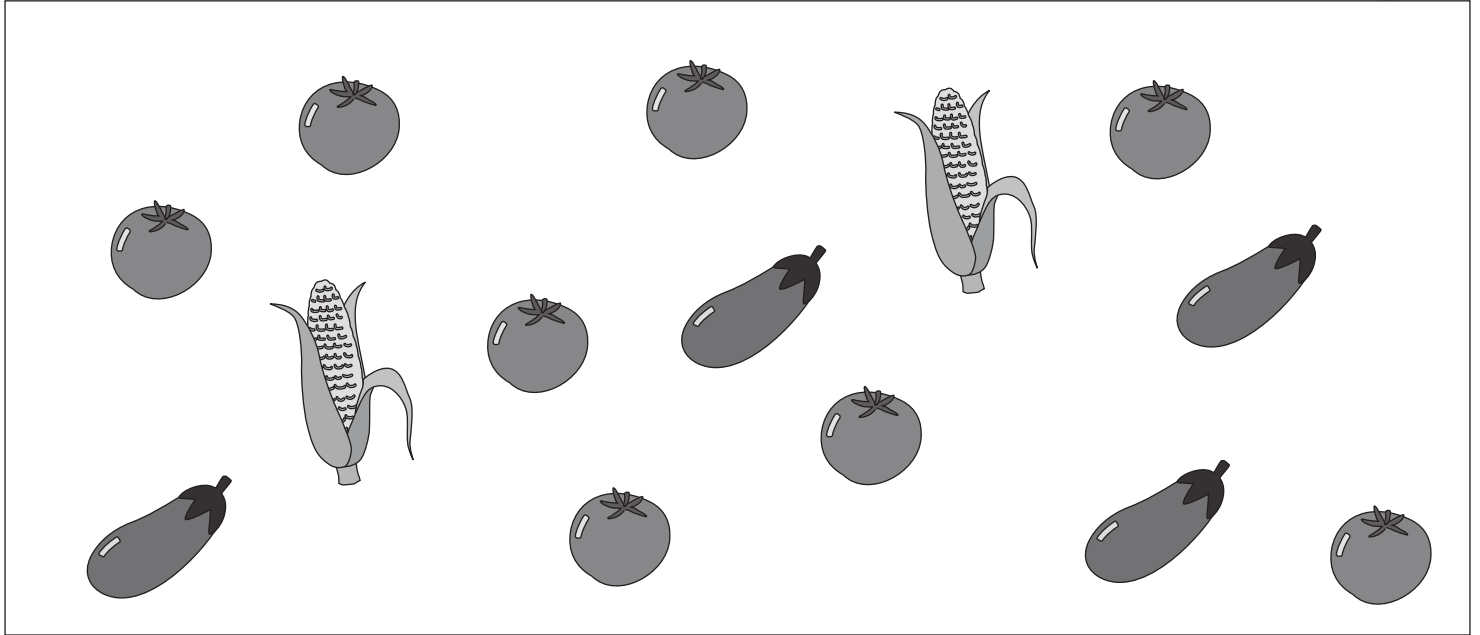


# おうちで、やろう。

Study at home. 小学校受験の家庭学習教材

数量：分割 10

2人のお友だちで四角の中の三種類の野菜を仲良く同じ数に分けます。  
このとき、1人がもらえるそれぞれの野菜の数はいくつですか。その数だけ、下の野菜の隣に○をかきます。



※1. このプリントは、しながわ・目黒こどもスクールのウェブサイトでダウンロードができます。無断複写・引用はご遠慮ください。  
※2. このプリントを活用したオンライン授業のスケジュールは、しながわ・目黒こどもスクールのウェブサイトでご確認ください。





# おうちで、やろう。

Study at home. 小学校受験の家庭学習教材

処理：模写1

左のお手本の白丸の場所を考えます。右の四角の同じ場所の黒丸を○で囲みます。


※1. このプリントは、しながわ・目黒こどもスクールのウェブサイトでダウンロードができます。無断複写・引用はご遠慮ください。  
 ※2. このプリントを活用したオンライン授業のスケジュールは、しながわ・目黒こどもスクールのウェブサイトでご確認ください。