



# おうちで、やろう。

Study at home. 小学校受験の家庭学習教材

## 図形：パズル1

左の四角のパズルの抜けている部分を右の中から見つけて○をつけます。

パズル1: 熊と花

パズル2: ケーキ

パズル3: ジンジャーブレッドハウス

パズル4: 子供たち

パズル5: 熊と音楽

※1. このプリントは、しながわ・目黒こどもスクールのウェブサイトでダウンロードができます。無断複写・引用はご遠慮ください。  
 ※2. このプリントを活用したオンライン授業のスケジュールは、しながわ・目黒こどもスクールのウェブサイトでご確認ください。

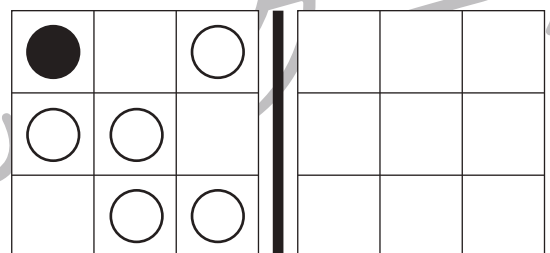
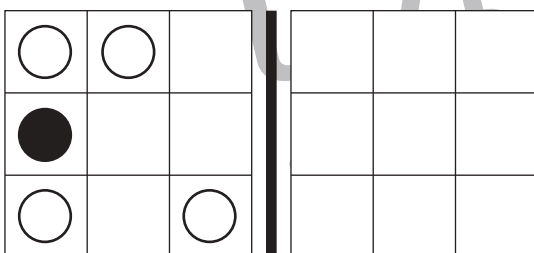
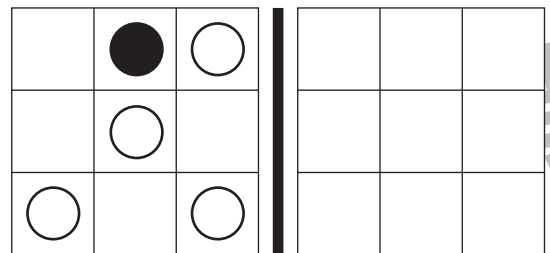
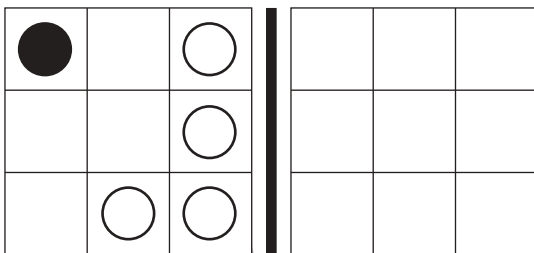
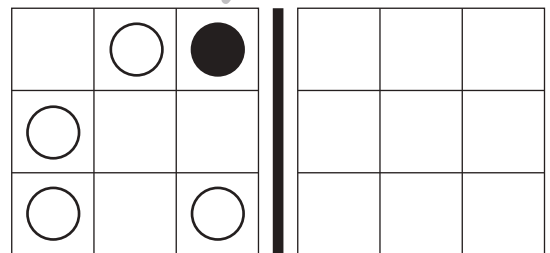
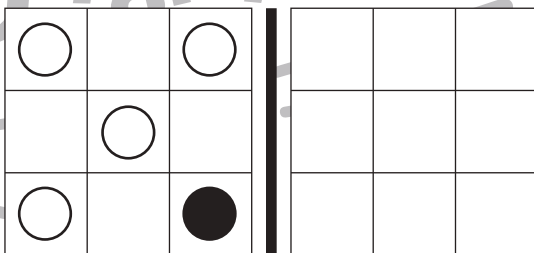
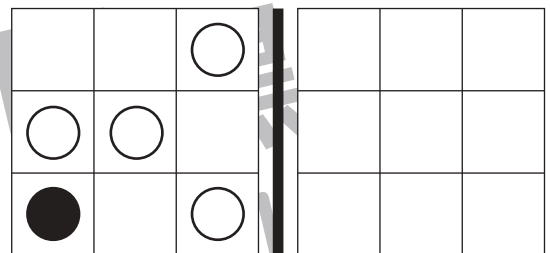

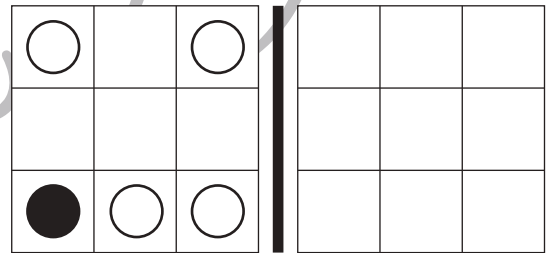
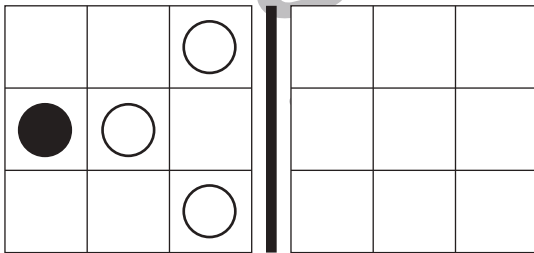

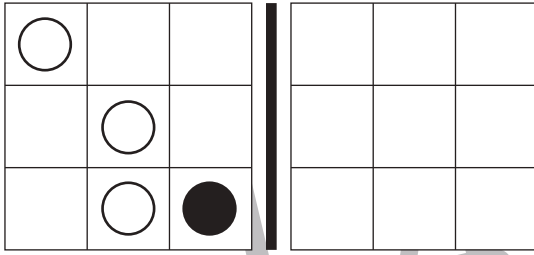


# おうちで、やろう。

Study at home. 小学校受験の家庭学習教材

図形：鏡8

左の見本を真ん中の太い線の上に鏡を置いて見た時の見え方を右の四角にかきます。



※1. このプリントは、しながわ・目黒こどもスクールのウェブサイトでダウンロードができます。無断複写・引用はご遠慮ください。  
 ※2. このプリントを活用したオンライン授業のスケジュールは、しながわ・目黒こどもスクールのウェブサイトでご確認ください。

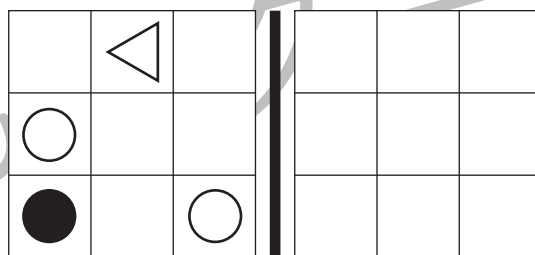

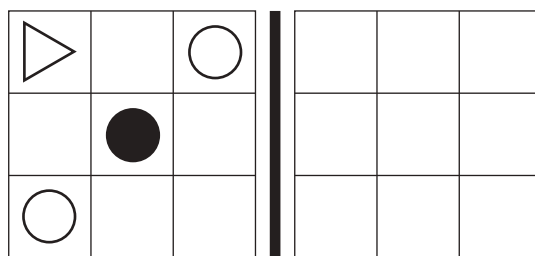
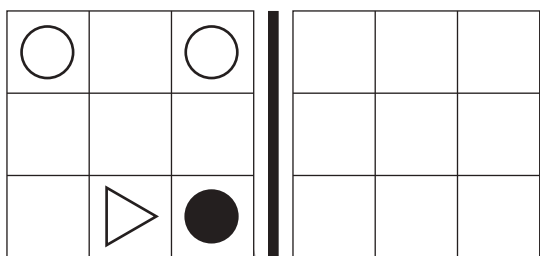
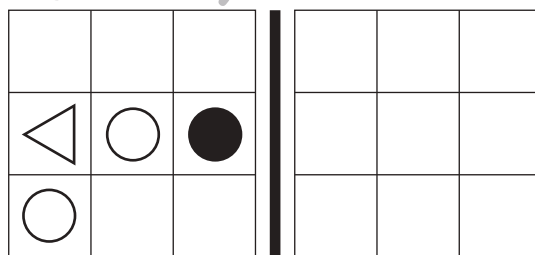



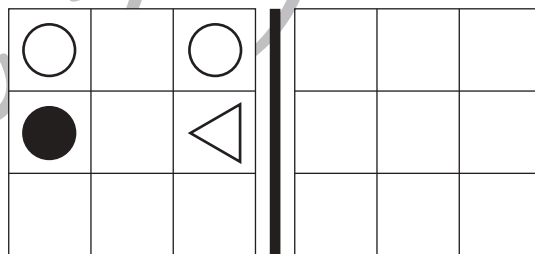

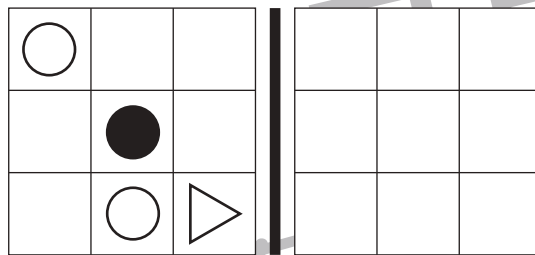
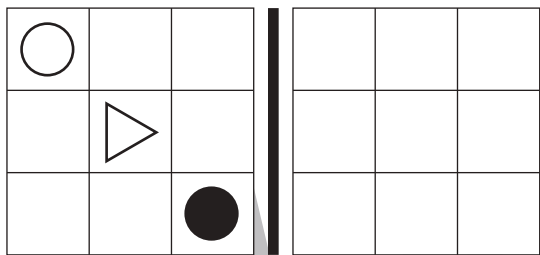


# おうちで、やろう。

Study at home. 小学校受験の家庭学習教材

図形：鏡9

左の見本を真ん中の太い線の上に鏡を置いて見た時の見え方を右の四角にかきます。



※1. このプリントは、しながわ・目黒こどもスクールのウェブサイトでダウンロードができます。無断複写・引用はご遠慮ください。  
 ※2. このプリントを活用したオンライン授業のスケジュールは、しながわ・目黒こどもスクールのウェブサイトでご確認ください。



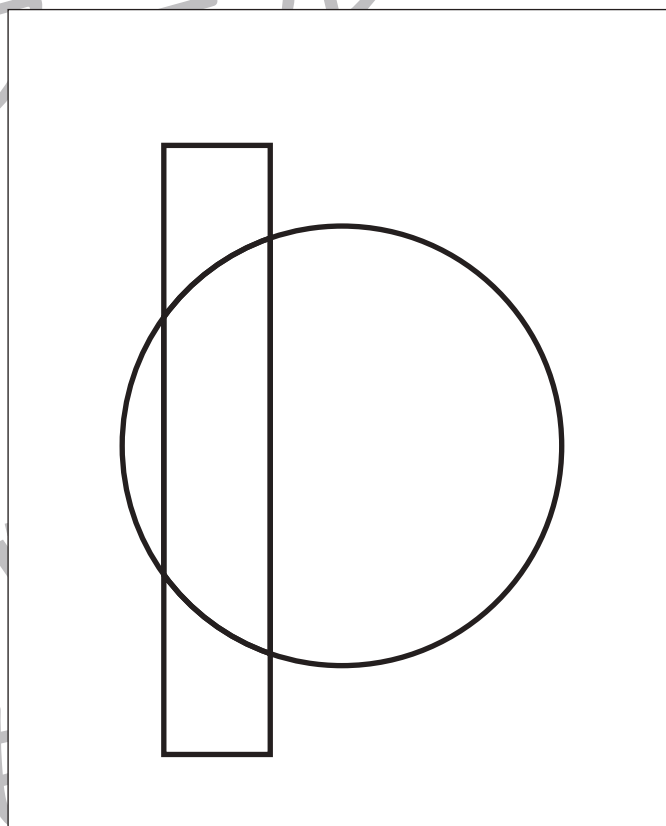
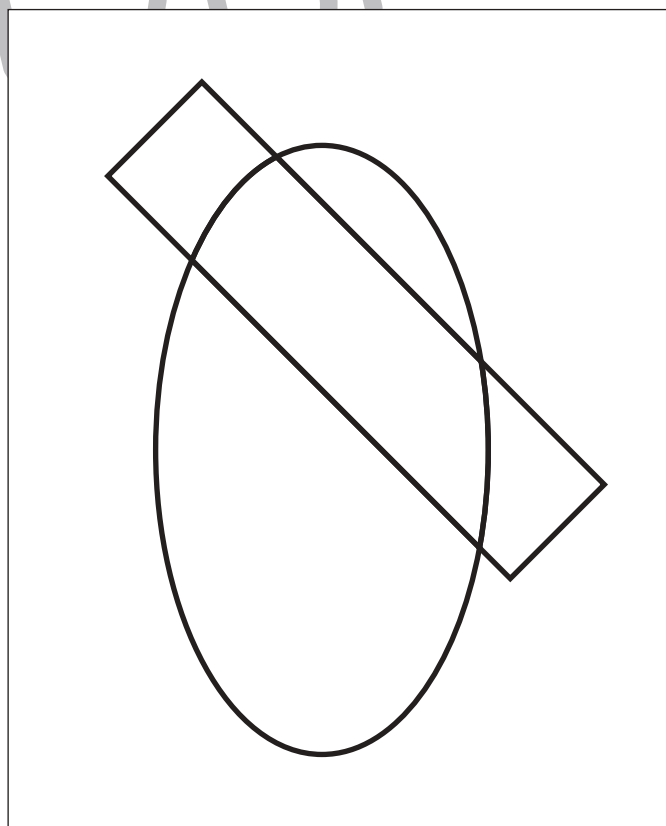
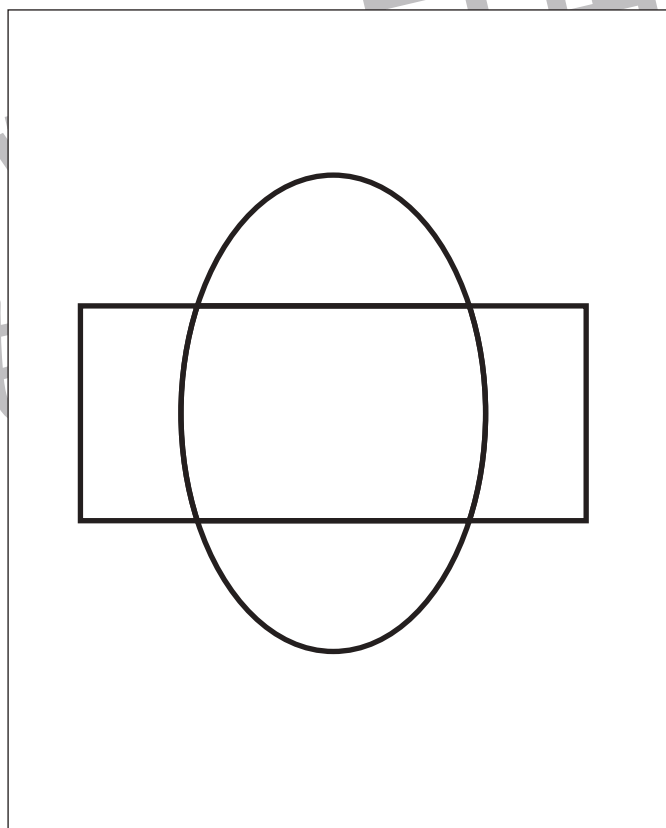
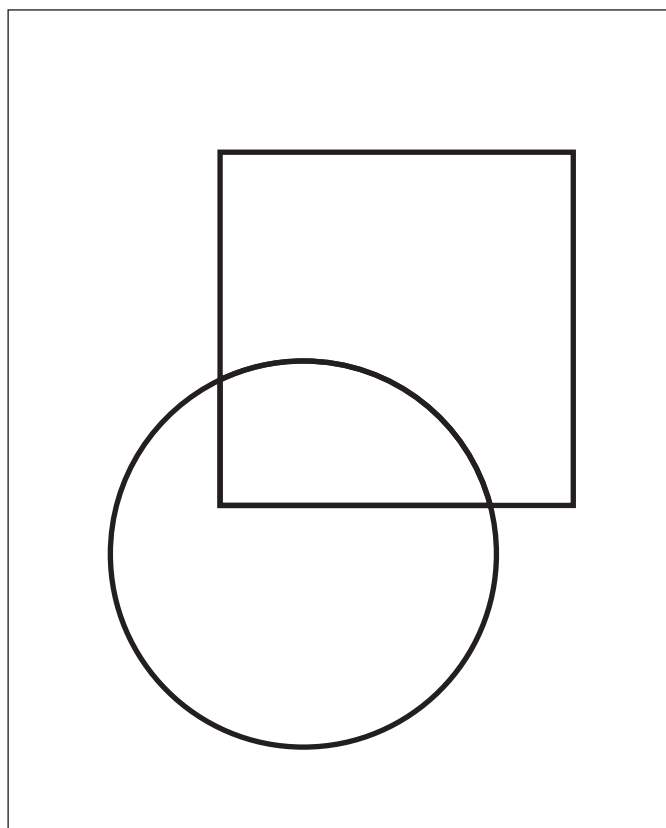


# おうちで、やろう。

Study at home. 小学校受験の家庭学習教材

図形：重なり 8

四角の中には2つの形が重なったものがあります。この2つの形が重なっているところを見つけて色を塗ります。



※1. このプリントは、しながわ・目黒こどもスクールのウェブサイトでダウンロードができます。無断複写・引用はご遠慮ください。  
※2. このプリントを活用したオンライン授業のスケジュールは、しながわ・目黒こどもスクールのウェブサイトでご確認ください。



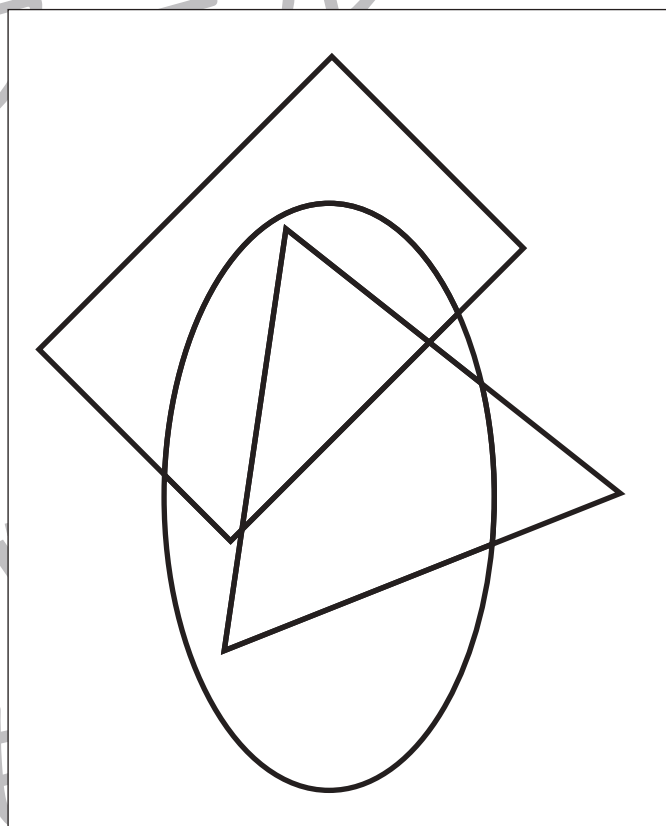





# おうちで、やろう。

Study at home. 小学校受験の家庭学習教材

## 図形：重なり9

四角の中には3つの形が重なったものがあります。この3つの形が重なっているところを見つけて色を塗ります。



※1. このプリントは、しながわ・目黒こどもスクールのウェブサイトでダウンロードができます。無断複写・引用はご遠慮ください。  
※2. このプリントを活用したオンライン授業のスケジュールは、しながわ・目黒こどもスクールのウェブサイトでご確認ください。





# おうちで、やろう。

Study at home. 小学校受験の家庭学習教材

数量：セットの数 1

左の四角の中はお手本です。この左の四角の中のセットはいくつできるかを考えて、下の四角にその数だけ〇をかきます。

--	--

--	--

--	--

--	--

※1. このプリントは、しながわ・目黒こどもスクールのウェブサイトでダウンロードができます。無断複写・引用はご遠慮ください。

※2. このプリントを活用したオンライン授業のスケジュールは、しながわ・目黒こどもスクールのウェブサイトでご確認ください。






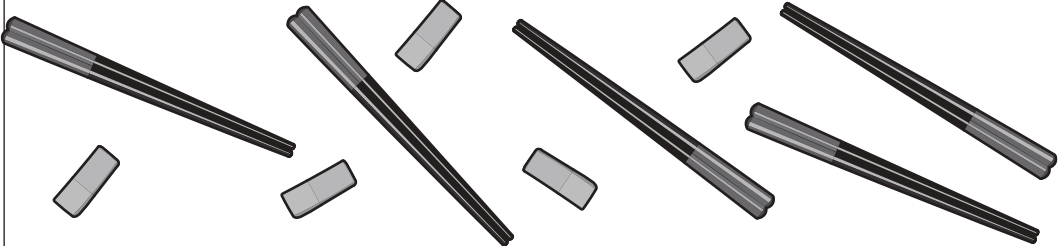
# おうちで、やろう。



Study at home. 小学校受験の家庭学習教材



数量：セットの数2

左の四角の中はお手本です。この左の四角の中のセットはいくつできるかを考えて、下の四角にその数だけ〇をかきます。

※1. このプリントは、しながわ・目黒こどもスクールのウェブサイトからダウンロードができます。無断複写・引用はご遠慮ください。

※2. このプリントを活用したオンライン授業のスケジュールは、しながわ・目黒こどもスクールのウェブサイトでご確認ください。



# おうちで、やろう。

Study at home. 小学校受験の家庭学習教材

数量：セットの数3

左の四角の中はお手本です。この左の四角の中のセットはいくつできるかを考えて、下の四角にその数だけ〇をかきます。

--	--

--	--

--	--

--	--

※1. このプリントは、しながわ・目黒こどもスクールのウェブサイトでダウンロードができます。無断複写・引用はご遠慮ください。  
 ※2. このプリントを活用したオンライン授業のスケジュールは、しながわ・目黒こどもスクールのウェブサイトでご確認ください。




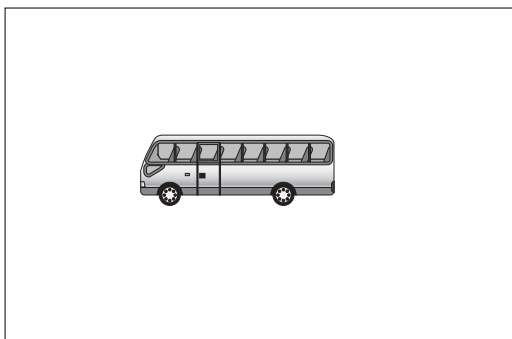


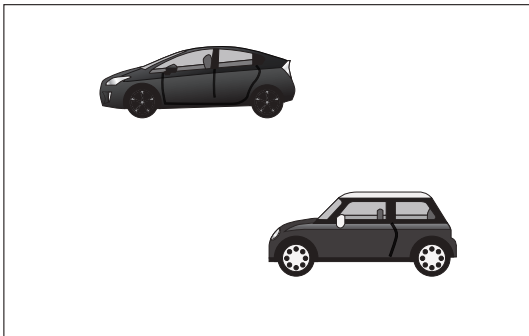

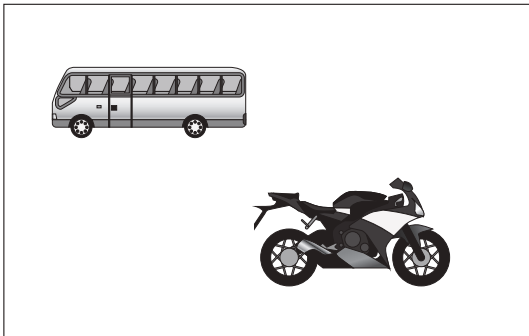




# おうちで、やろう。

Study at home. 小学校受験の家庭学習教材

## 数量：タイヤの数 3

左の2つの四角の中の乗り物のタイヤの数を合わせるといくつになりますか。  
合わせた数が10になるものには○、10にならないものには×を右の四角の中にかきます。



※1. このプリントは、しながわ・目黒こどもスクールのウェブサイトでダウンロードができます。無断複写・引用はご遠慮ください。  
※2. このプリントを活用したオンライン授業のスケジュールは、しながわ・目黒こどもスクールのウェブサイトでご確認ください。





# おうちで、やろう。

Study at home. 小学校受験の家庭学習教材

処理：模写 4

左のお手本の白いマスを考えて、右の四角の同じ場所に○をかきます。  
この問題はスピードを意識して取り組む練習をしてみましょう。(1分～1分30秒)


※1. このプリントは、しながわ・目黒こどもスクールのウェブサイトでダウンロードができます。無断複写・引用はご遠慮ください。  
※2. このプリントを活用したオンライン授業のスケジュールは、しながわ・目黒こどもスクールのウェブサイトでご確認ください。