

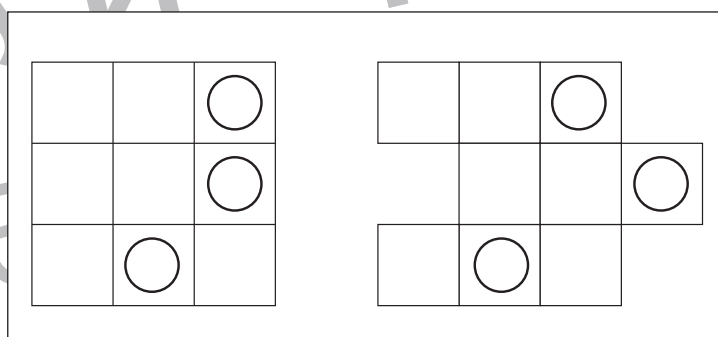
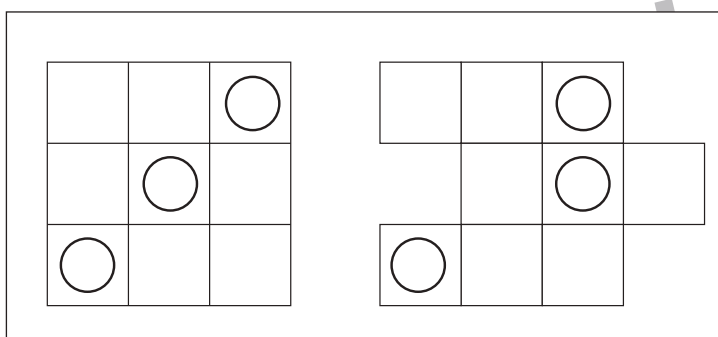
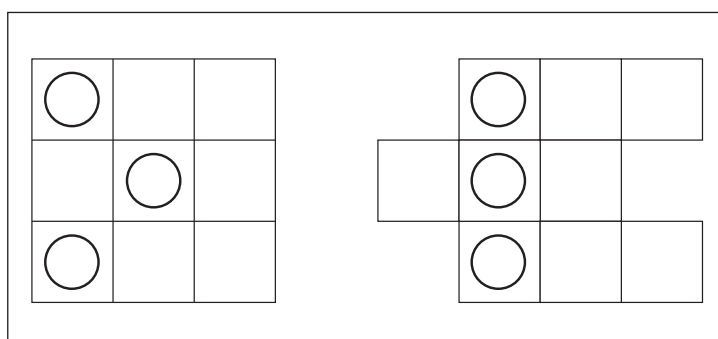
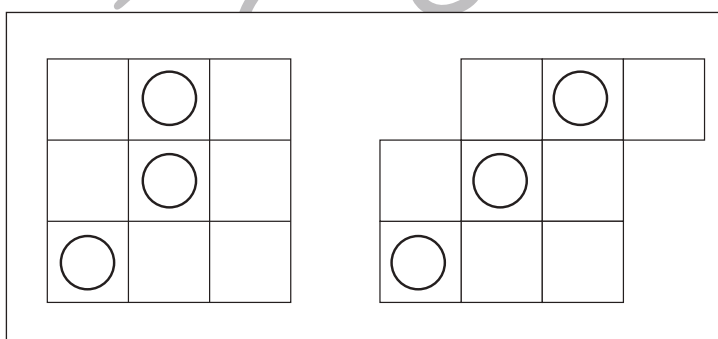
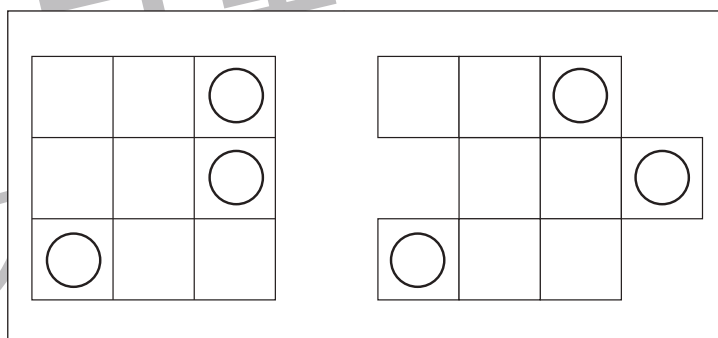
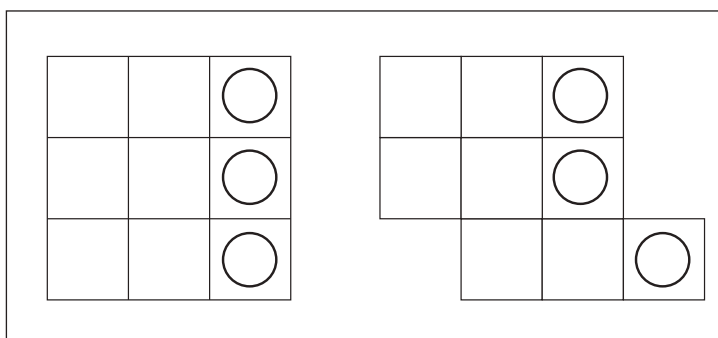
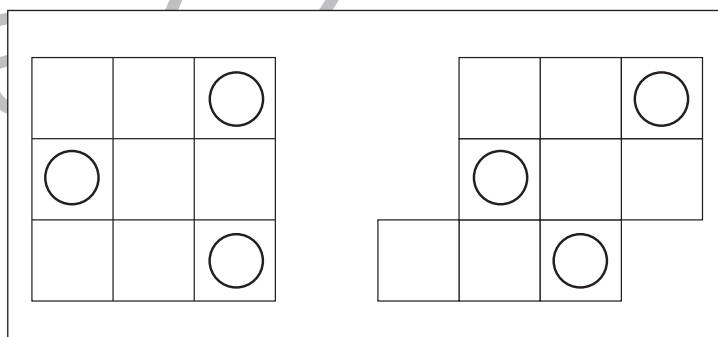
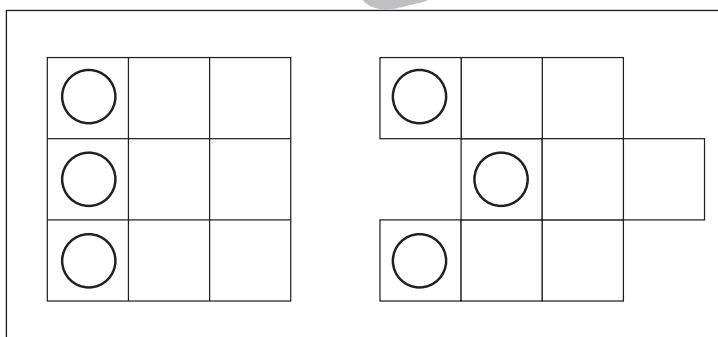
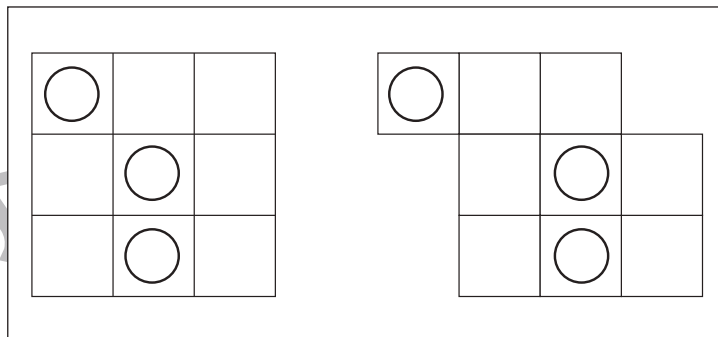
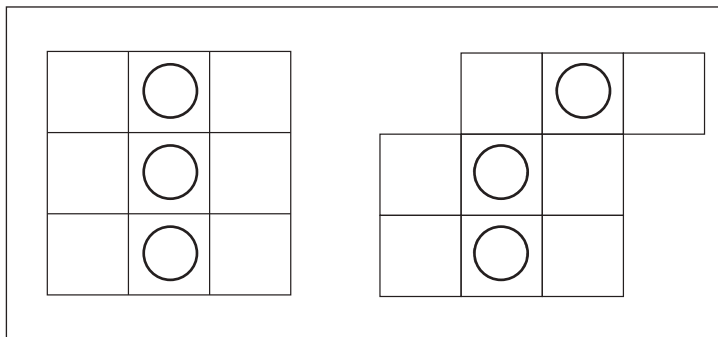


# おうちで、やろう。

Study at home. 小学校受験の家庭学習教材

## 図形：移動 16

左の四角がお手本です。このお手本の○を右の四角の同じ場所にかきます。ただし、右の四角はマスがずれています。どのマスにかけばよいのかを考えましょう。



※1. このプリントは、しながわ・目黒こどもスクールのウェブサイトでダウンロードができます。無断複写・引用はご遠慮ください。  
 ※2. このプリントを活用したオンライン授業のスケジュールは、しながわ・目黒こどもスクールのウェブサイトでご確認ください。

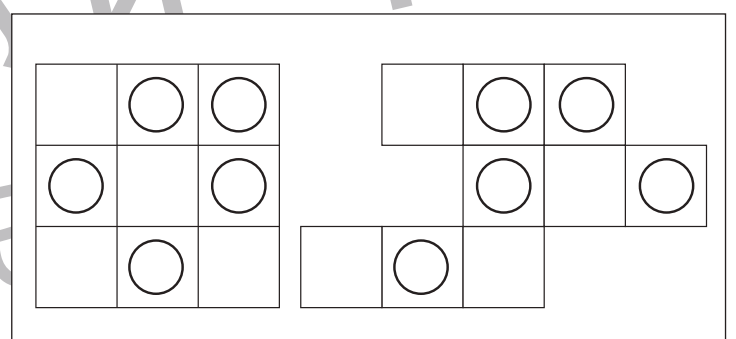
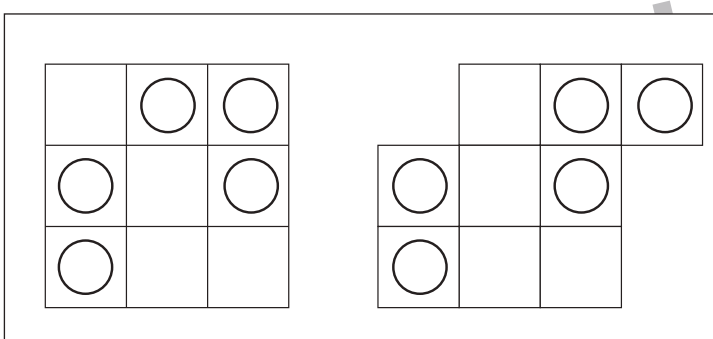
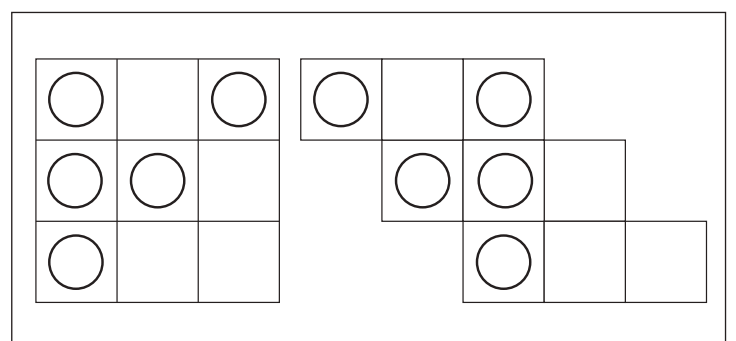
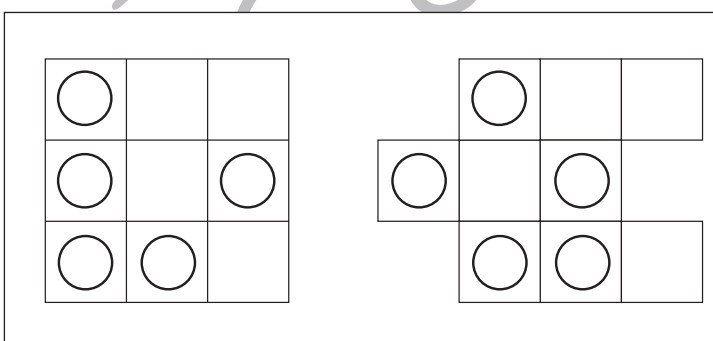
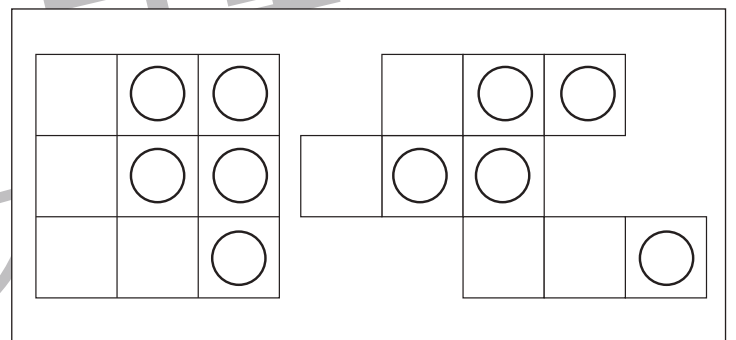
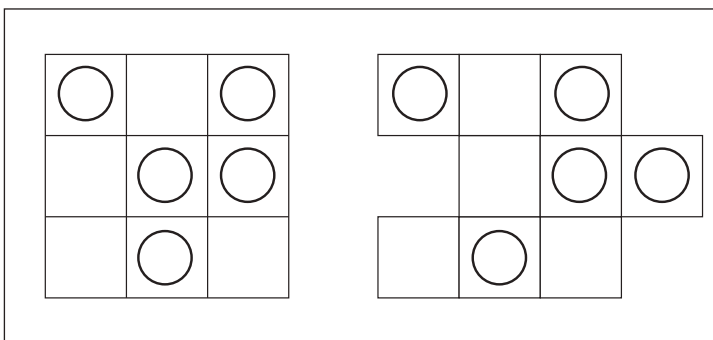
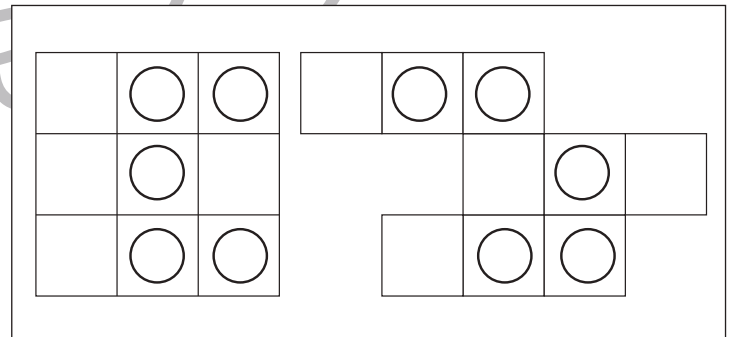
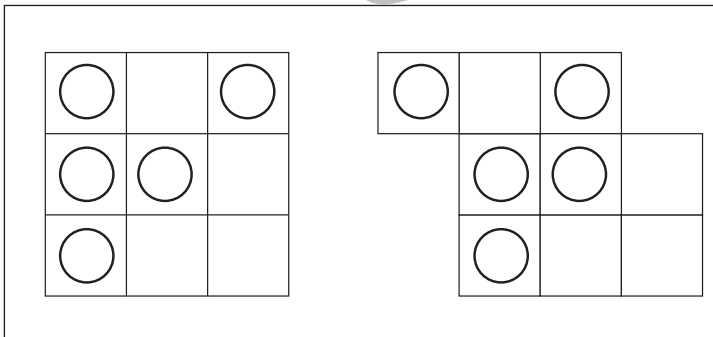
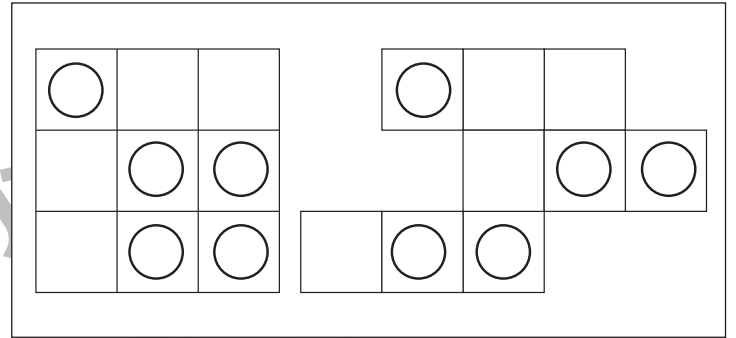
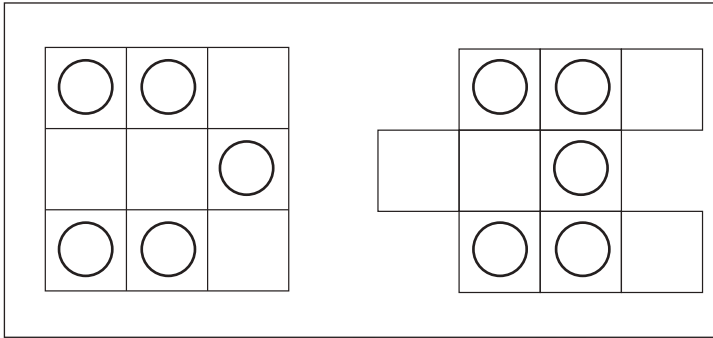


# おうちで、やろう。

Study at home. 小学校受験の家庭学習教材

## 図形：移動 17

左の四角がお手本です。このお手本の○を右の四角の同じ場所にかきます。ただし、右の四角はマスがずれています。どのマスにかけばよいのかを考えましょう。



※1. このプリントは、しながわ・目黒こどもスクールのウェブサイトでダウンロードができます。無断複写・引用はご遠慮ください。  
 ※2. このプリントを活用したオンライン授業のスケジュールは、しながわ・目黒こどもスクールのウェブサイトでご確認ください。

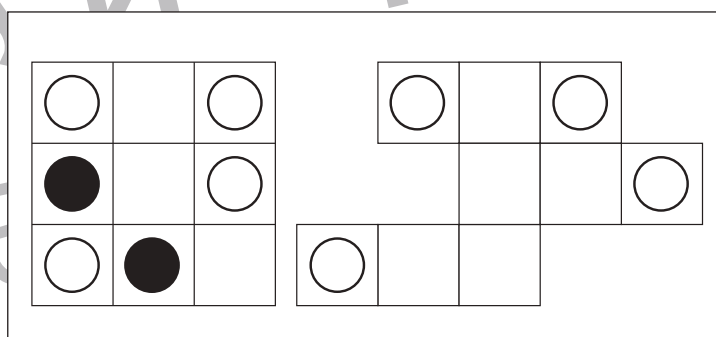
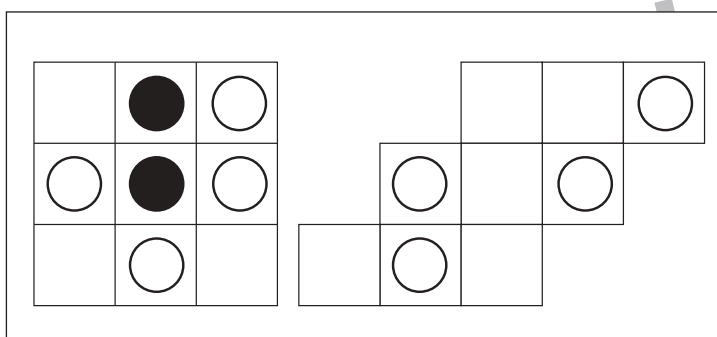
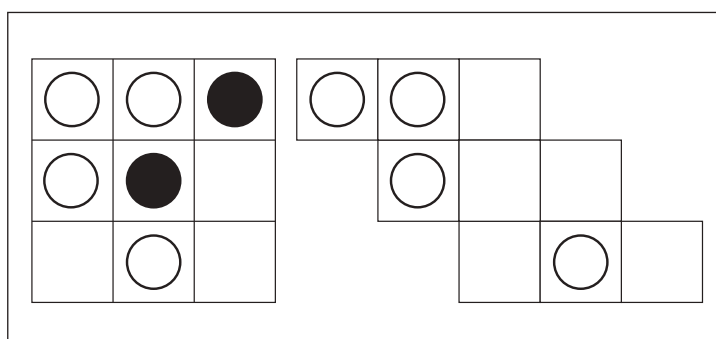
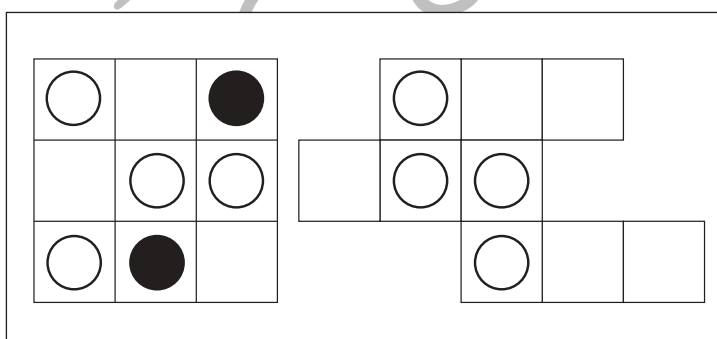
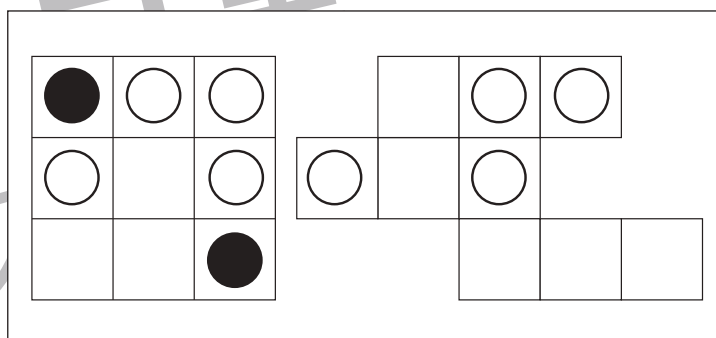
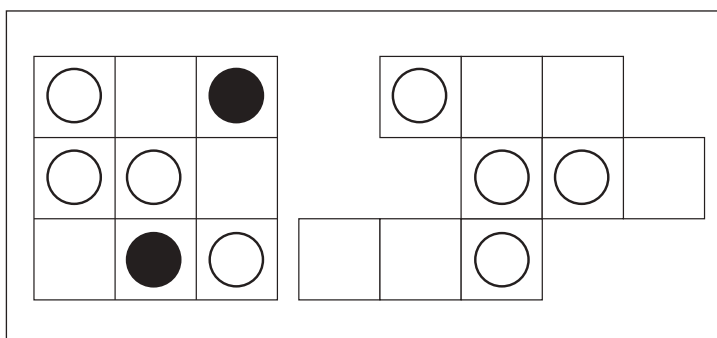
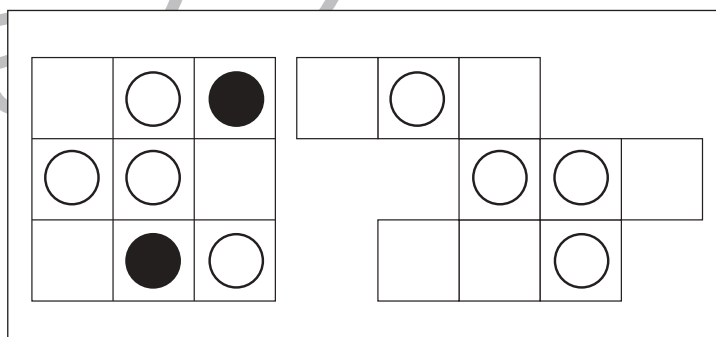
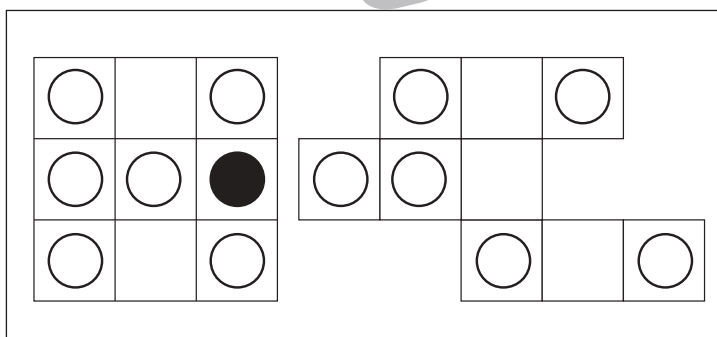
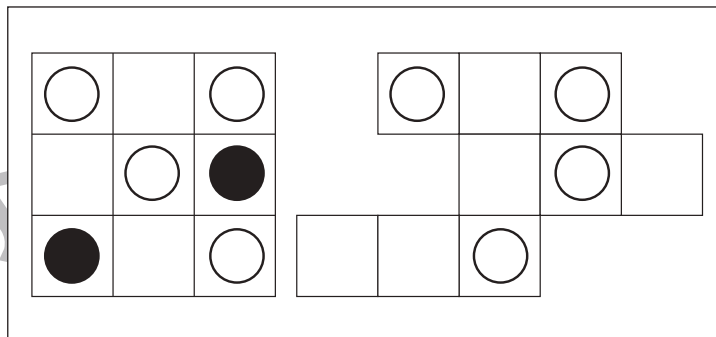
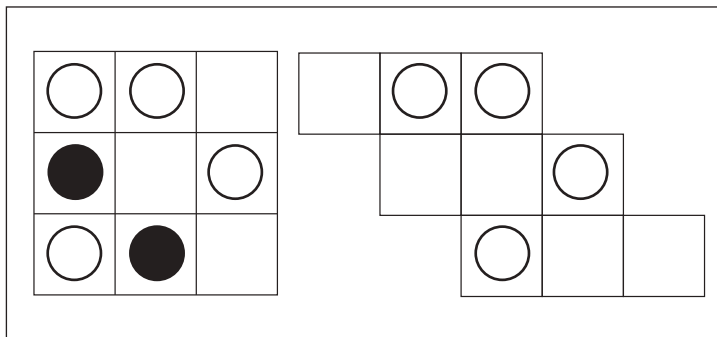


# おうちで、やろう。

Study at home. 小学校受験の家庭学習教材

## 図形：移動 18

左の四角がお手本です。このお手本の○を右の四角の同じ場所にかきます。ただし、右の四角はマスがずれています。どのマスにかけばよいのかを考えましょう。また、●はかきません。



※1. このプリントは、しながわ・目黒こどもスクールのウェブサイトでダウンロードができます。無断複写・引用はご遠慮ください。  
 ※2. このプリントを活用したオンライン授業のスケジュールは、しながわ・目黒こどもスクールのウェブサイトでご確認ください。



# おうちで、やろう。

Study at home. 小学校受験の家庭学習教材

## 推理：積み木 9

上の四角の中の積み木の数だけ下の四角に○をかきます。

○	○	○	○
○	○	○	○
○	○	○	

○	○	○	○
○	○	○	○
○	○		

○	○	○	○
○	○	○	○
○	○		

○	○	○	○
○	○	○	○
○	○		

○	○	○	○
○	○	○	○
○	○	○	

○	○	○	○
○	○	○	○
○			

※1. このプリントは、しながわ・目黒こどもスクールのウェブサイトでダウンロードができます。無断複写・引用はご遠慮ください。  
 ※2. このプリントを活用したオンライン授業のスケジュールは、しながわ・目黒こどもスクールのウェブサイトでご確認ください。



# おうちで、やろう。

Study at home. 小学校受験の家庭学習教材

推理：積み木 10

上の四角の中の積み木の数だけ下の四角に○をかきます。

○	○	○	○
○	○	○	○
○	○	○	○
○	○		

○	○	○	○
○	○	○	○
○	○	○	○
○			

○	○	○	○
○	○	○	○
○	○	○	○
○	○	○	○

○	○	○	○
○	○	○	○
○	○	○	○
○	○	○	

○	○	○	○
○	○	○	○
○	○	○	○
○	○	○	

○	○	○	○
○	○	○	○
○	○	○	○
○	○	○	○

※1. このプリントは、しながわ・目黒こどもスクールのウェブサイトでダウンロードができます。無断複写・引用はご遠慮ください。  
 ※2. このプリントを活用したオンライン授業のスケジュールは、しながわ・目黒こどもスクールのウェブサイトでご確認ください。



# おうちで、やろう。

Study at home. 小学校受験の家庭学習教材

## 推理：じゃんけん7

お友だちが袋の中のクッキーを持って動物たちと順番にじゃんけんをしていきます。お友だちがじゃんけんで勝つと動物たちからクッキーを2枚もらえます。負けてしまうと、動物たちにクッキーを1枚あげます。あいこのときはなにもありません。この約束のとき、最後の動物とじゃんけんをした後、お友だちが持っているクッキーの数だけ右の四角の中に○をかきます。それぞれが出す手は上の吹き出しの中にあります。

		→				$\bigcirc \times 7$
--	--	---	--	--	--	---------------------

		→				$\bigcirc \times 2$
--	--	---	--	--	--	---------------------

		→					$\bigcirc \times 5$
--	--	---	--	--	--	--	---------------------

		→					$\bigcirc \times 4$
--	--	---	--	--	--	--	---------------------

		→					$\bigcirc \times 8$
--	--	---	--	--	--	--	---------------------

※1. このプリントは、しながわ・目黒こどもスクールのウェブサイトからダウンロードできます。無断複写・引用はご遠慮ください。  
※2. このプリントを活用したオンライン授業のスケジュールは、しながわ・目黒こどもスクールのウェブサイトでご確認ください。



# おうちで、やろう。

Study at home. 小学校受験の家庭学習教材

## 推理：じゃんけん8

お友だちが袋の中のクッキーを持って動物たちと順番にじゃんけんをしていきます。お友だちがじゃんけんで勝つと動物たちからクッキーを3枚もらえます。負けてしまうと動物たちにクッキーを2枚あげます。あいこのときは動物たちから1枚もらえます。この約束のとき、最後の動物とじゃんけんをした後、お友だちが持っているクッキーの数だけ右の四角の中に○をかきます。それぞれが出す手は上の吹き出しの中にあります。

	$\bigcirc \times 7$
--	---------------------

	$\bigcirc \times 6$
--	---------------------

	$\bigcirc \times 2$
--	---------------------

	$\bigcirc \times 2$
--	---------------------

	$\bigcirc \times 6$
--	---------------------

※1. このプリントは、しながわ・目黒こどもスクールのウェブサイトからダウンロードできます。無断複写・引用はご遠慮ください。  
 ※2. このプリントを活用したオンライン授業のスケジュールは、しながわ・目黒こどもスクールのウェブサイトでご確認ください。





# おうちで、やろう。

Study at home. 小学校受験の家庭学習教材

数量：同数 10

左の四角の中の果物の数がお手本です。右の4つの四角のうち、2つの四角の果物の数を合わせるとお手本と同じ数になります。正しい組み合わせを考えて2つの四角に○をつけます。


※1. このプリントは、しながわ・目黒こどもスクールのウェブサイトでダウンロードができます。無断複写・引用はご遠慮ください。

※2. このプリントを活用したオンライン授業のスケジュールは、しながわ・目黒こどもスクールのウェブサイトでご確認ください。





# おうちで、やろう。

Study at home. 小学校受験の家庭学習教材

数量：同数 11

左の四角の中の果物の数がお手本です。右の4つの四角のうち、2つの四角の果物の数を合わせるとお手本と同じ数になります。正しい組み合わせを考えて2つの四角に○をつけます。


※1. このプリントは、しながわ・目黒こどもスクールのウェブサイトでダウンロードができます。無断複写・引用はご遠慮ください。

※2. このプリントを活用したオンライン授業のスケジュールは、しながわ・目黒こどもスクールのウェブサイトでご確認ください。