

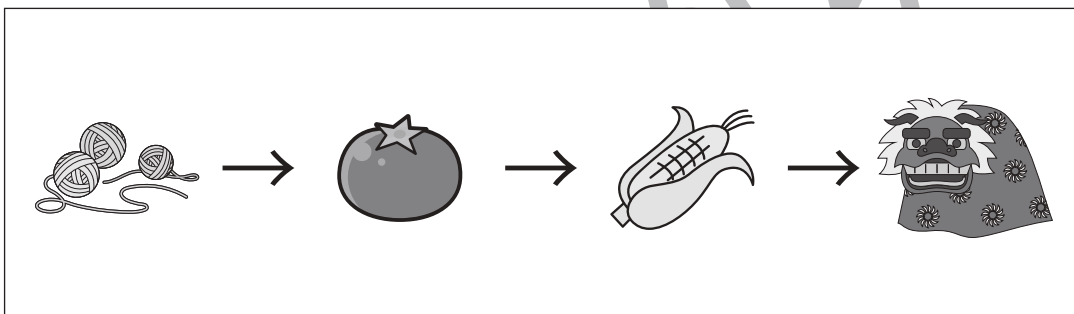

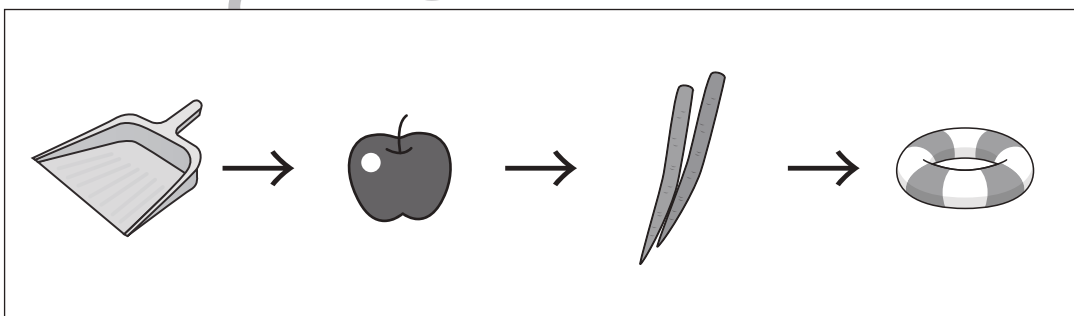
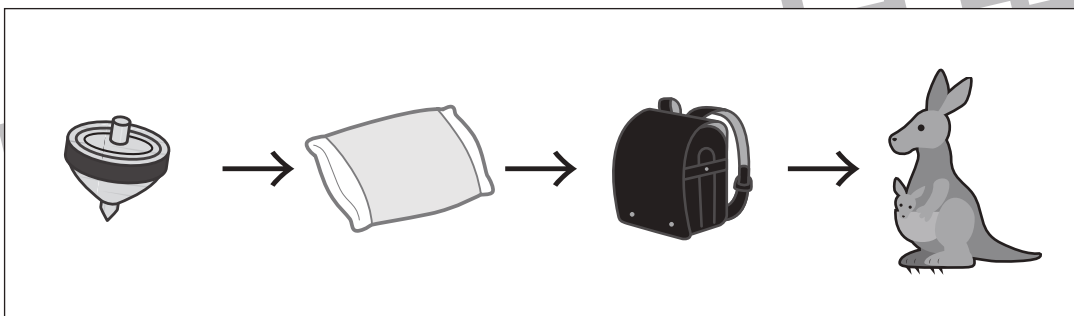



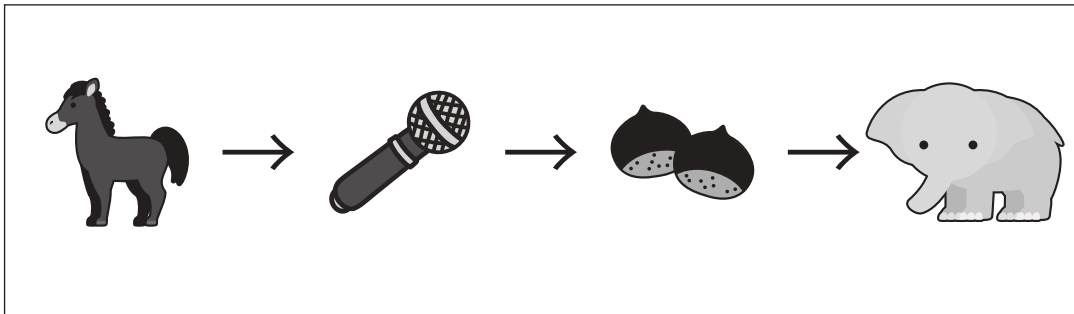


おうちで、やろう。

Study at home. 小学校受験の家庭学習教材

言語：しりとり4

左から順番にしりとりをします。最後までしりとりでつながるときは○、つながらないときは×を一番右の四角の中にかきます。



※1. このプリントは、しながわ・目黒こどもスクールのウェブサイトからダウンロードできます。無断複写・引用はご遠慮ください。
※2. このプリントを活用したオンライン授業のスケジュールは、しながわ・目黒こどもスクールのウェブサイトでご確認ください。








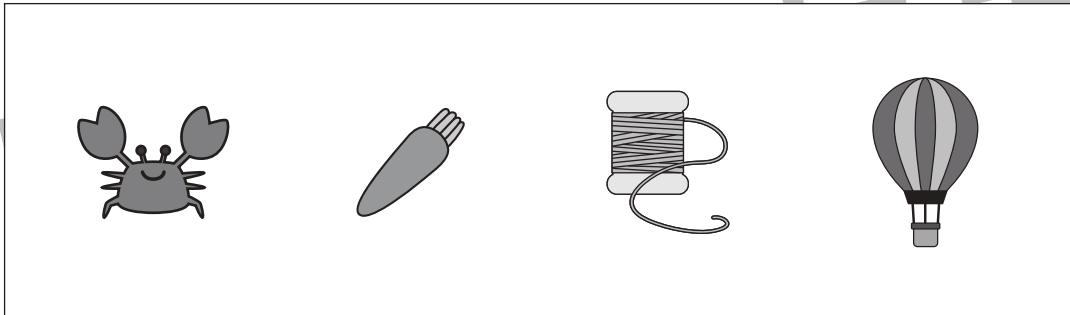

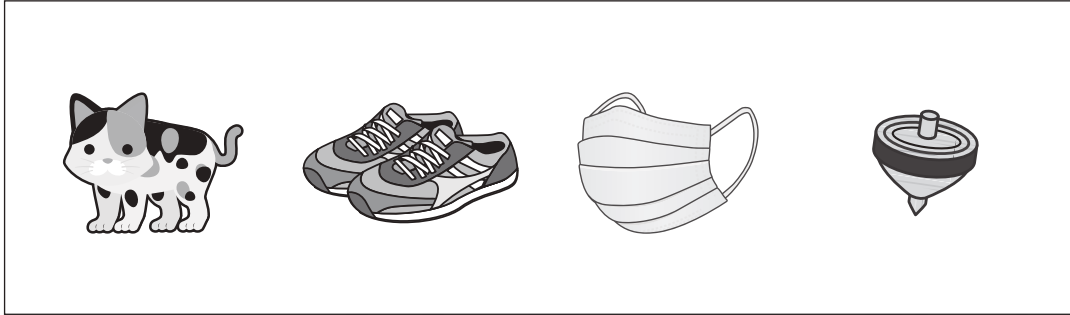


おうちで、やろう。

Study at home. 小学校受験の家庭学習教材

言語：しりとり5

四角の中の4つの絵でしりとりをします。どのようにつながるのかを考えて、4つの絵がすべてしりとりでつながるときは○、つながらないときは×を一番右の四角の中にかきます。



※1. このプリントは、しながわ・目黒こどもスクールのウェブサイトからダウンロードできます。無断複写・引用はご遠慮ください。
※2. このプリントを活用したオンライン授業のスケジュールは、しながわ・目黒こどもスクールのウェブサイトでご確認ください。











おうちで、やろう。

Study at home. 小学校受験の家庭学習教材

言語：しりとり6

四角の中の4つの絵でしりとりをします。どのようにつながるかを考えて、4つの絵がすべてしりとりでつながるときは○、つながらないときは×を一番右の四角の中にかきます。



※1. このプリントは、しながわ・目黒こどもスクールのウェブサイトでダウンロードができます。無断複写・引用はご遠慮ください。
※2. このプリントを活用したオンライン授業のスケジュールは、しながわ・目黒こどもスクールのウェブサイトでご確認ください。



おうちで、やろう。

Study at home. 小学校受験の家庭学習教材

図形：観察力 1

左の四角に、表が灰色で裏が白のカードを並べました。カードを何枚が裏返したら、右の四角のようになりました。色が変わったカードに○をつけましょう。○は右の四角につけましょう。

※1. このプリントは、しながわ・目黒こどもスクールのウェブサイトでダウンロードができます。無断複写・引用はご遠慮ください。
 ※2. このプリントを活用したオンライン授業のスケジュールは、しながわ・目黒こどもスクールのウェブサイトでご確認ください。

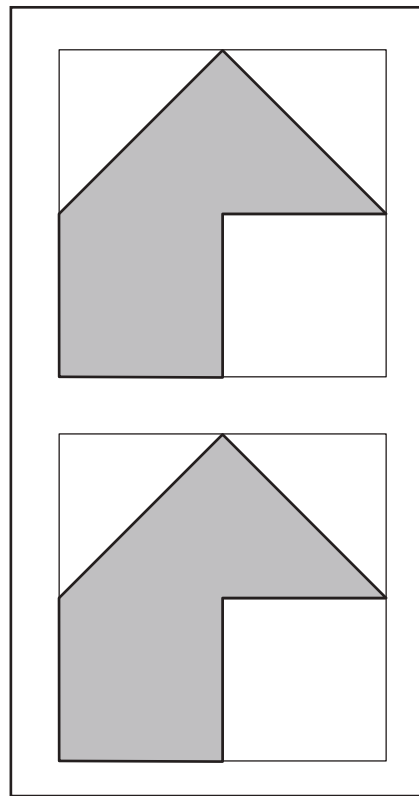
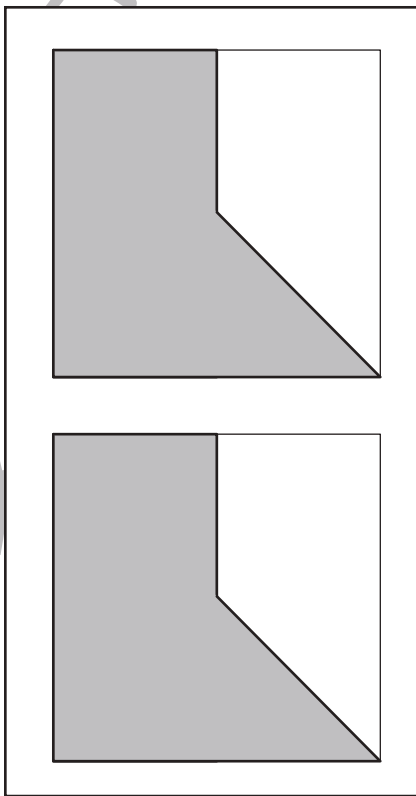
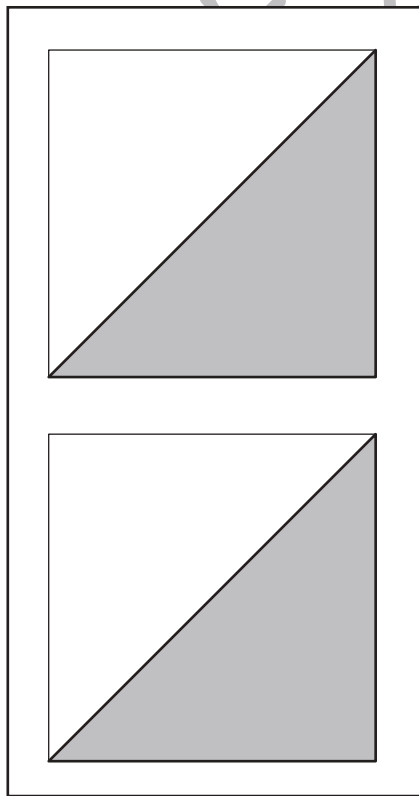

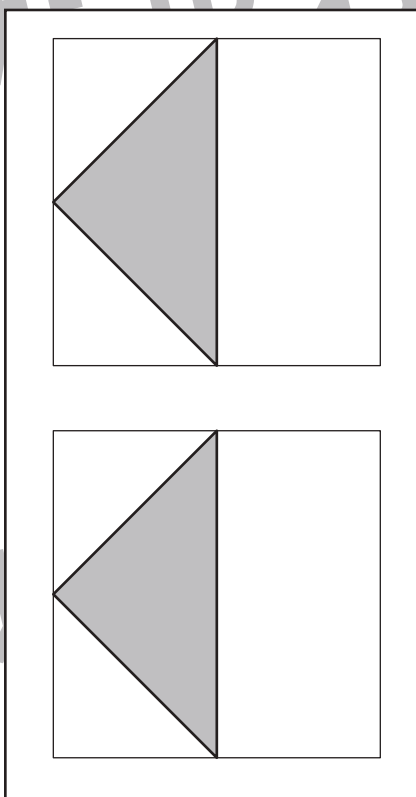
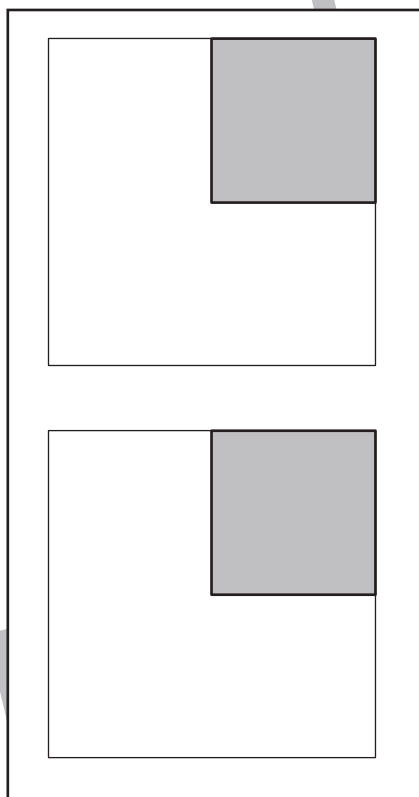
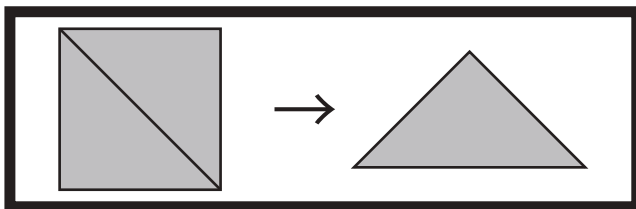


おうちで、やろう。

Study at home. 小学校受験の家庭学習教材

図形：三角パズル1

上の太い四角の中の四角を半分にして三角パズルを作りました。この三角パズルを使ってそれぞれの形を作ります。それぞれ形は三角パズルをどのように置けばできるのかを考えて、形の中に線をかきましょう。間違えてしまった場合は下の図形に線を引きましょう。



※1. このプリントは、しながわ・目黒こどもスクールのウェブサイトでダウンロードができます。無断複写・引用はご遠慮ください。

※2. このプリントを活用したオンライン授業のスケジュールは、しながわ・目黒こどもスクールのウェブサイトでご確認ください。



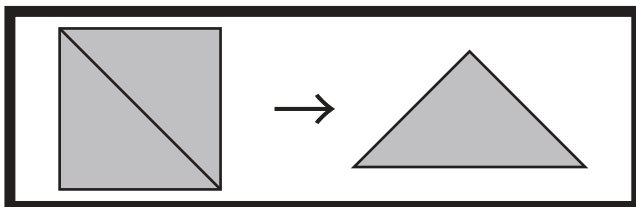


おうちで、やろう。



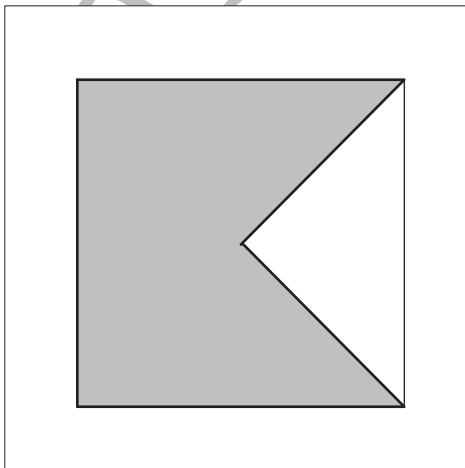
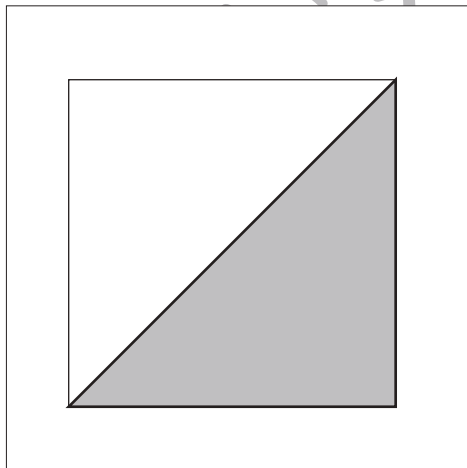
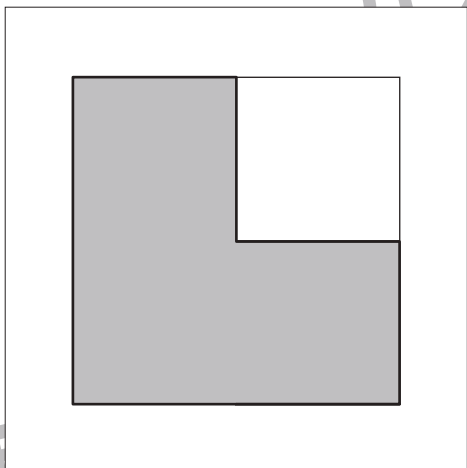
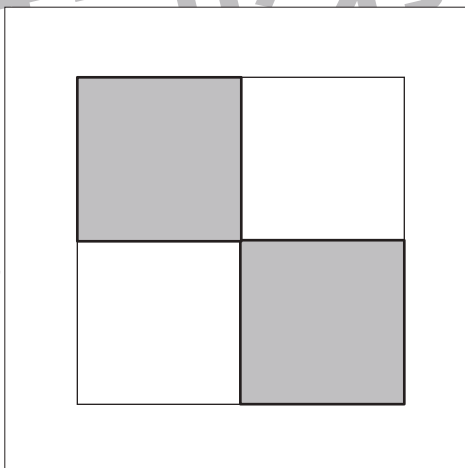
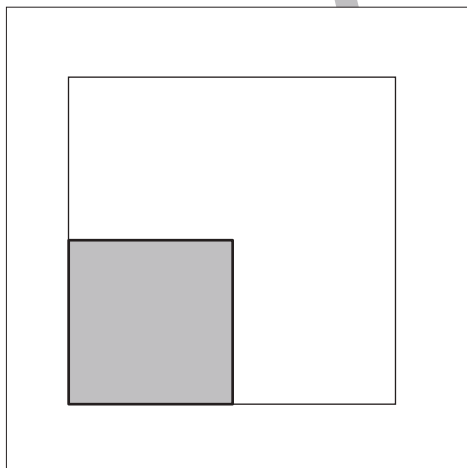
Study at home. 小学校受験の家庭学習教材

図形：三角パズル2

上の太い四角の中の四角を半分にして三角パズルを作りました。この三角パズルを使ってそれぞれの形を作ります。それぞれ形は三角パズルを何枚使えばできるのかを考えて、下の四角の中にその数だけ〇をかきます。



目黒



※1. このプリントは、しながわ・目黒こどもスクールのウェブサイトでダウンロードができます。無断複写・引用はご遠慮ください。
※2. このプリントを活用したオンライン授業のスケジュールは、しながわ・目黒こどもスクールのウェブサイトでご確認ください。

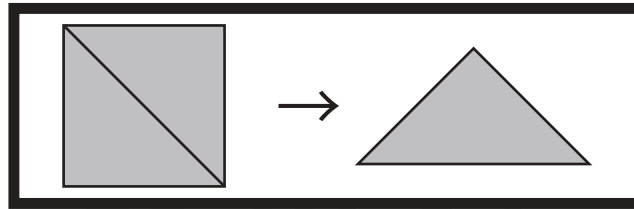


おうちで、やろう。

Study at home. 小学校受験の家庭学習教材

図形：三角パズル3

上の太い四角の中の四角を半分にして三角パズルを作りました。この三角パズルを使ってそれぞれの形を作ります。それぞれ形は三角パズルを何枚使えばできるのかを考えて、下の四角の中にその数だけ〇をかきます。



目黒

※1. このプリントは、しながわ・目黒こどもスクールのウェブサイトでダウンロードができます。無断複写・引用はご遠慮ください。
※2. このプリントを活用したオンライン授業のスケジュールは、しながわ・目黒こどもスクールのウェブサイトでご確認ください。

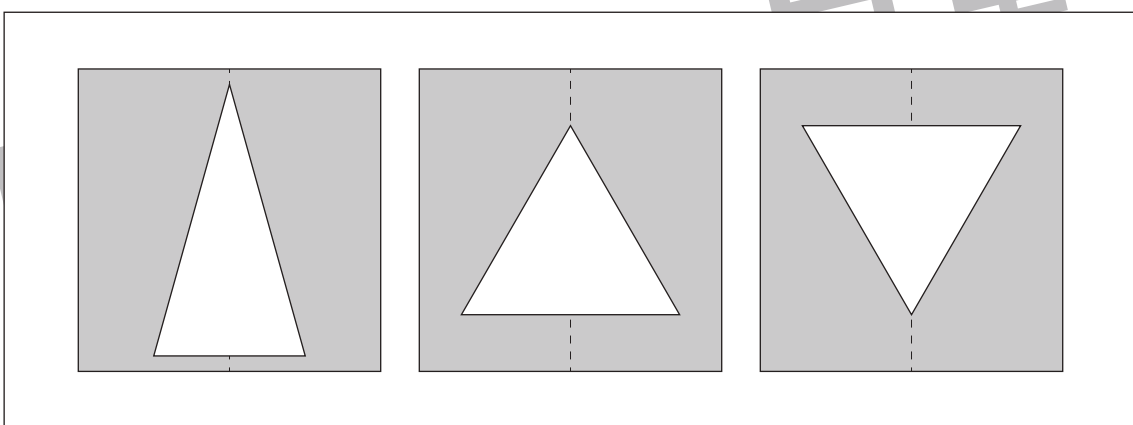
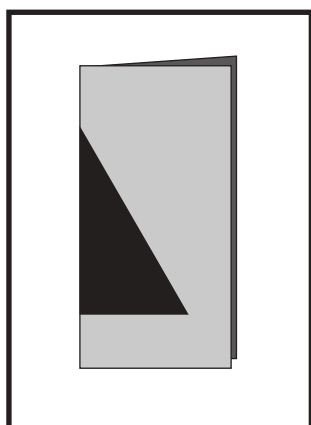
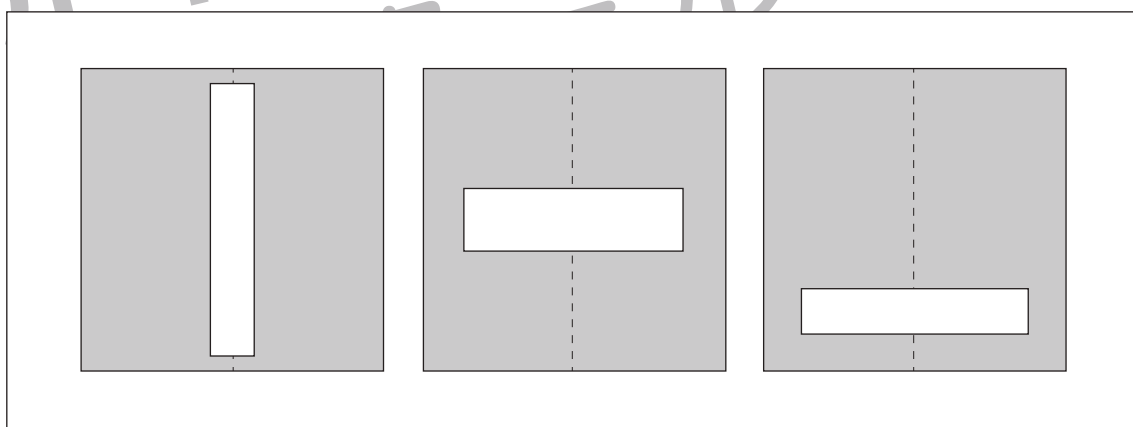
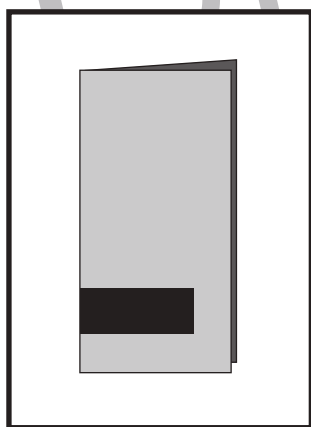
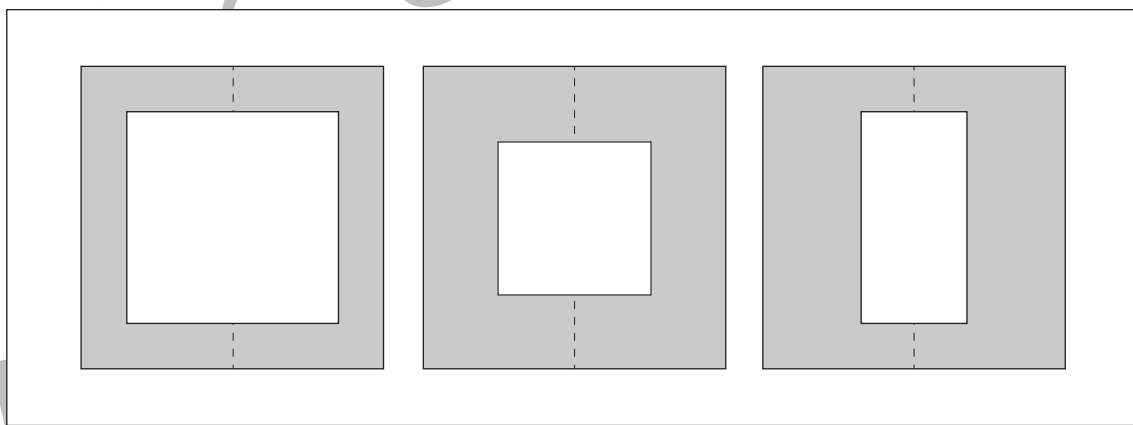
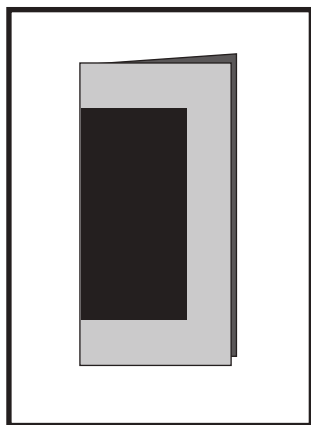
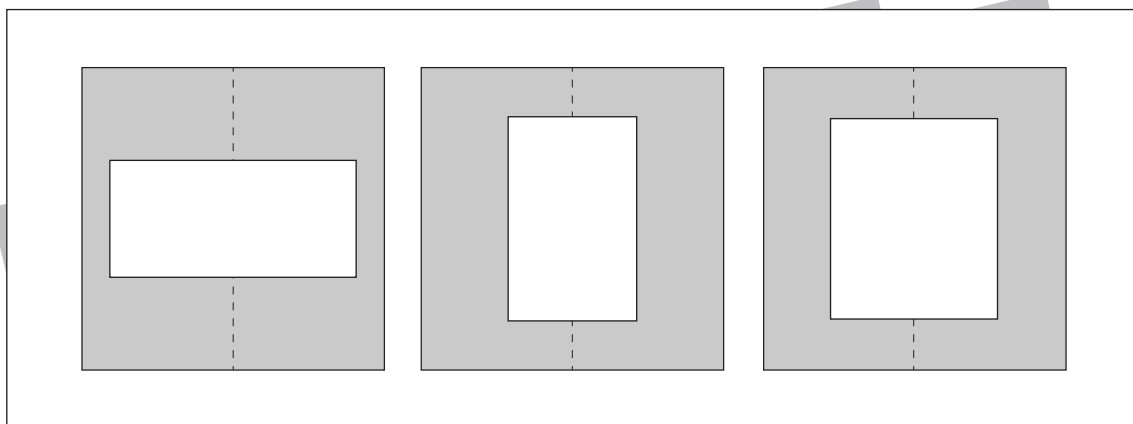
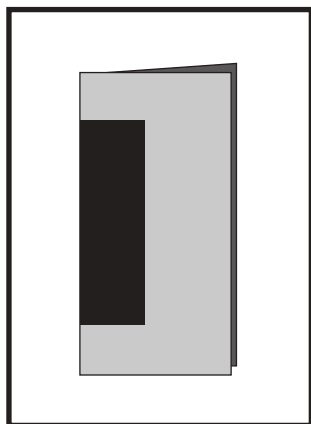


おうちで、やろう。

Study at home. 小学校受験の家庭学習教材

図形：切り抜き 4

左の四角の中の折り紙の黒い模様をはさみで切って広げました。
広げたときの見え方を考えて右の四角の中から正しいものを選び○をつけます。



※1. このプリントは、しながわ・目黒こどもスクールのウェブサイトからダウンロードできます。無断複写・引用はご遠慮ください。

※2. このプリントを活用したオンライン授業のスケジュールは、しながわ・目黒こどもスクールのウェブサイトでご確認ください。



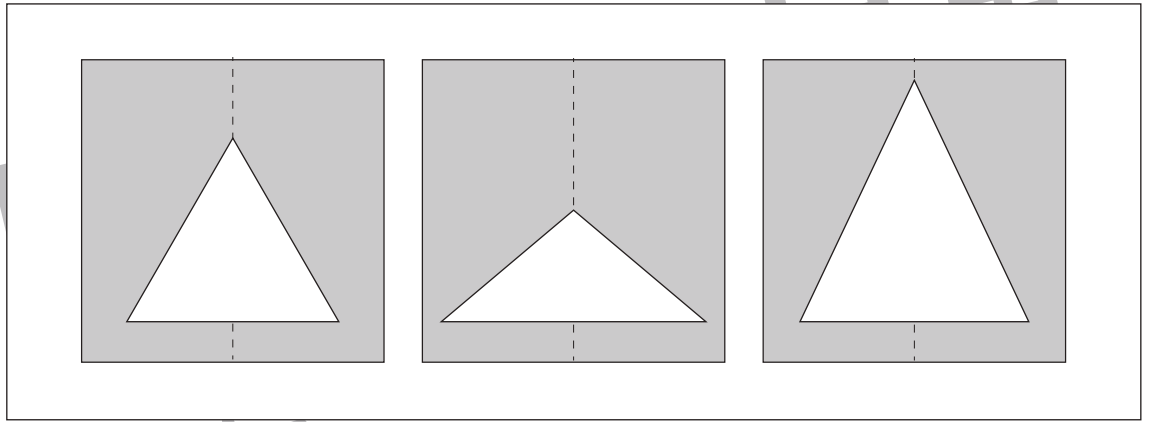
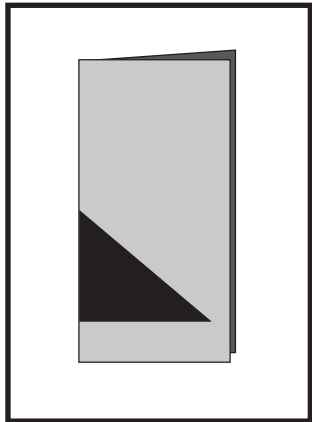
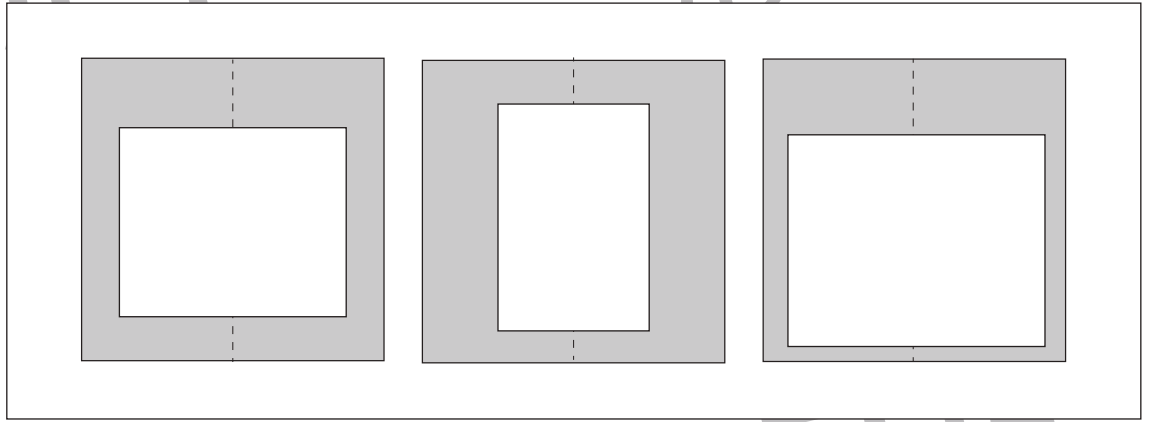

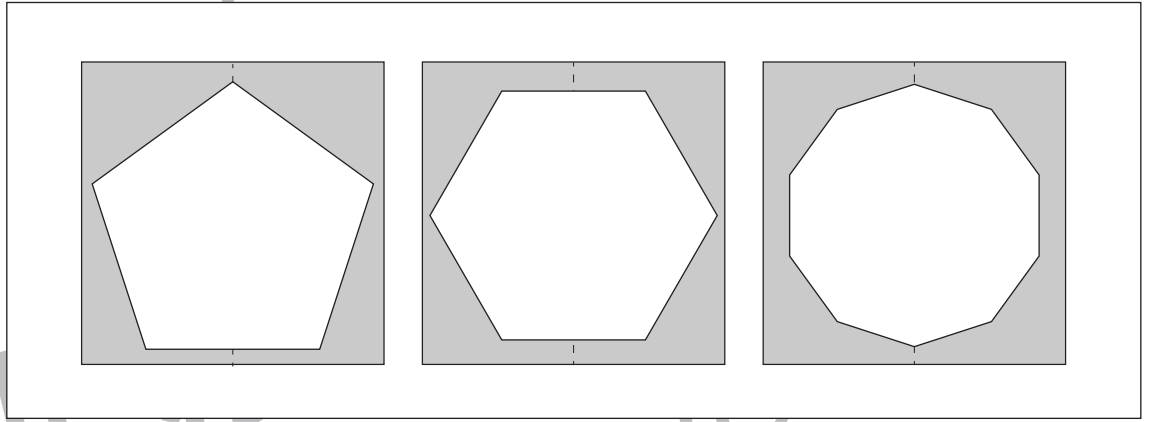
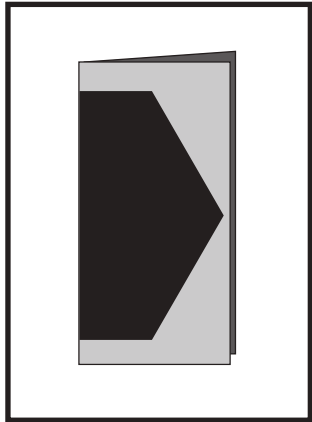
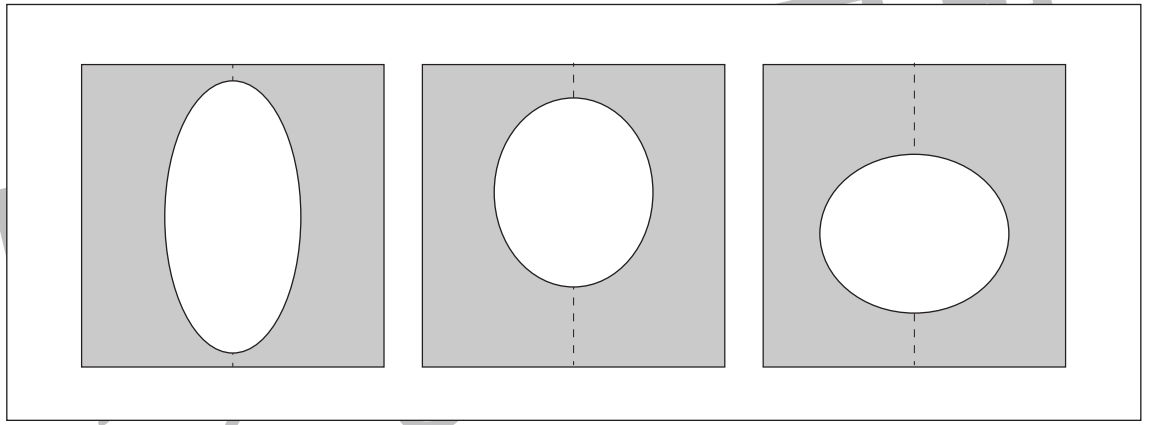
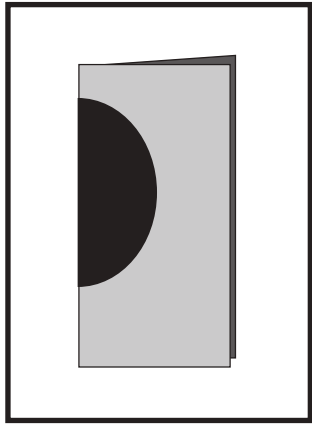


おうちで、やろう。

Study at home. 小学校受験の家庭学習教材

図形：切り抜き5

左の四角の中の折り紙の黒い模様をはさみで切って広げました。
広げたときの見え方を考えて右の四角の中から正しいものを選び○をつけます。



※1. このプリントは、しながわ・目黒こどもスクールのウェブサイトでダウンロードができます。無断複写・引用はご遠慮ください。
※2. このプリントを活用したオンライン授業のスケジュールは、しながわ・目黒こどもスクールのウェブサイトでご確認ください。



おうちで、やろう。

Study at home. 小学校受験の家庭学習教材

図形：切り抜き6

左の四角の中の折り紙の黒い模様をはさみで切って広げました。
広げたときの見え方を考えて右の四角の中から正しいものを選び○をつけます。

	→			
	→			
	→			
	→			
	→			

※1. このプリントは、しながわ・目黒こどもスクールのウェブサイトでダウンロードができます。無断複写・引用はご遠慮ください。

※2. このプリントを活用したオンライン授業のスケジュールは、しながわ・目黒こどもスクールのウェブサイトでご確認ください。