



おうちで、やろう。

Study at home. 小学校受験の家庭学習教材

図形：観察力 2

左の四角に、表が灰色で裏が白のカードを並べました。カードを何枚か裏返したら、右の四角のようになりました。色が変わったカードに○をつけます。印は右側につけましょう。

※1. このプリントは、しながわ・目黒こどもスクールのウェブサイトでダウンロードができます。無断複写・引用はご遠慮ください。
※2. このプリントを活用したオンライン授業のスケジュールは、しながわ・目黒こどもスクールのウェブサイトでご確認ください。



おうちで、やろう。

Study at home. 小学校受験の家庭学習教材

図形：観察力 3

左の四角に、表が灰色で裏が白のカードを並べました。カードを何枚か裏返したら、右の四角のようになりました。色が変わったカードに○をつけます。印は右側につけましょう。

※1. このプリントは、しながわ・目黒こどもスクールのウェブサイトでダウンロードができます。無断複写・引用はご遠慮ください。
 ※2. このプリントを活用したオンライン授業のスケジュールは、しながわ・目黒こどもスクールのウェブサイトでご確認ください。



おうちで、やろう。

Study at home. 小学校受験の家庭学習教材

図形：構成5

左の太い四角の中がお手本です。このお手本の形を真ん中の点線の四角の中の形と右の四角の中の形を組み合わせで作ります。右の四角の中から正しいものを1つ見つけて○をつけます。

※1. このプリントは、しながわ・目黒こどもスクールのウェブサイトでダウンロードができます。無断複写・引用はご遠慮ください。
※2. このプリントを活用したオンライン授業のスケジュールは、しながわ・目黒こどもスクールのウェブサイトでご確認ください。

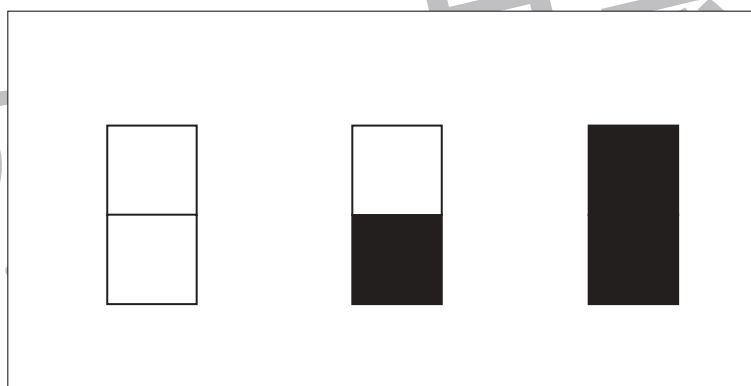
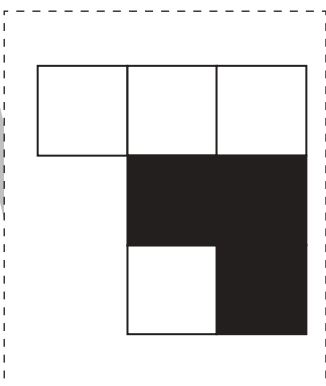
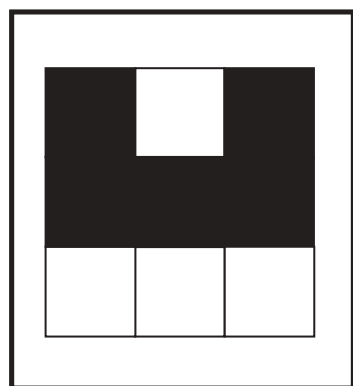
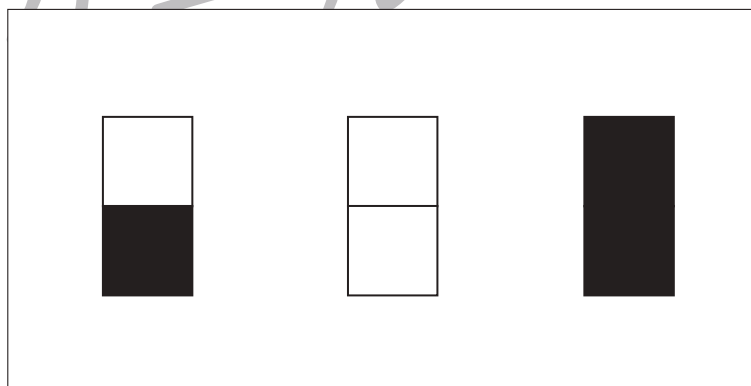
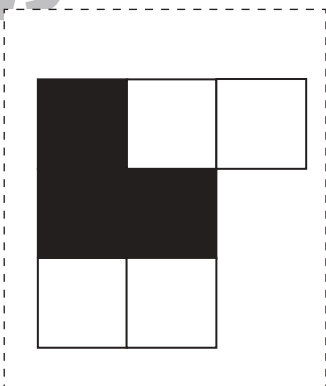
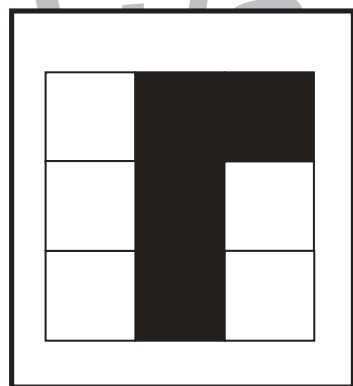
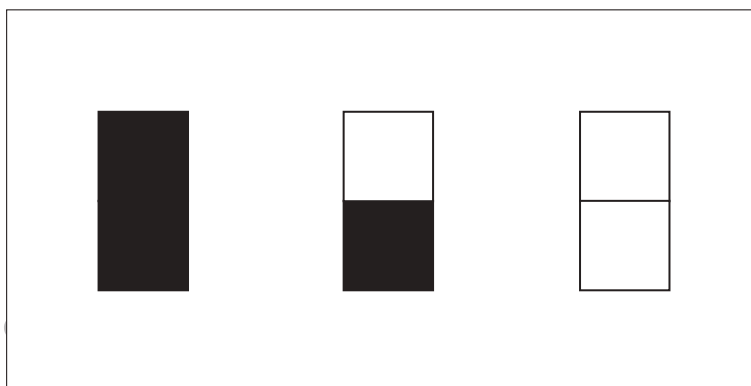
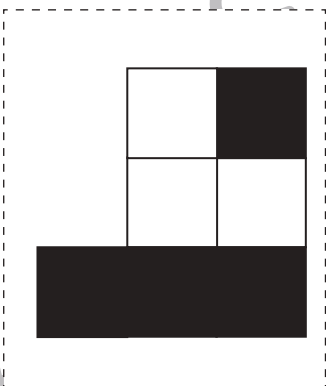

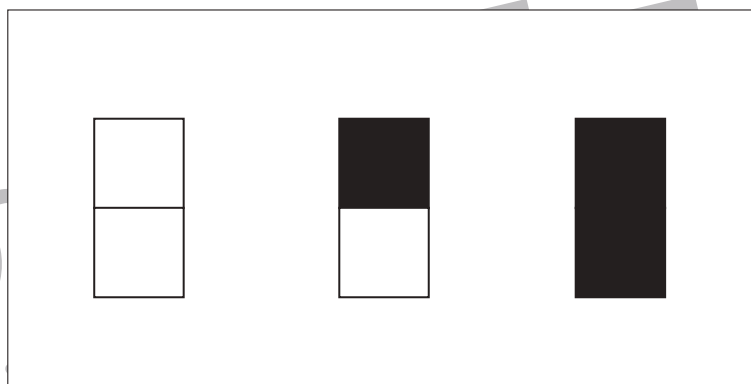
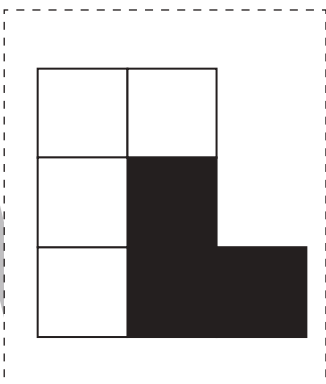
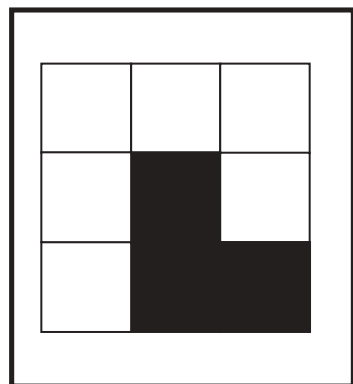


おうちで、やろう。

Study at home. 小学校受験の家庭学習教材

図形：構成6

左の太い四角の中がお手本です。このお手本の形を真ん中の点線の四角の中の形と右の四角の中の形を組み合わせて作ります。右の四角の中から正しいものを1つ見つけて○をつけます。



※1. このプリントは、しながわ・目黒こどもスクールのウェブサイトでダウンロードができます。無断複写・引用はご遠慮ください。
※2. このプリントを活用したオンライン授業のスケジュールは、しながわ・目黒こどもスクールのウェブサイトでご確認ください。



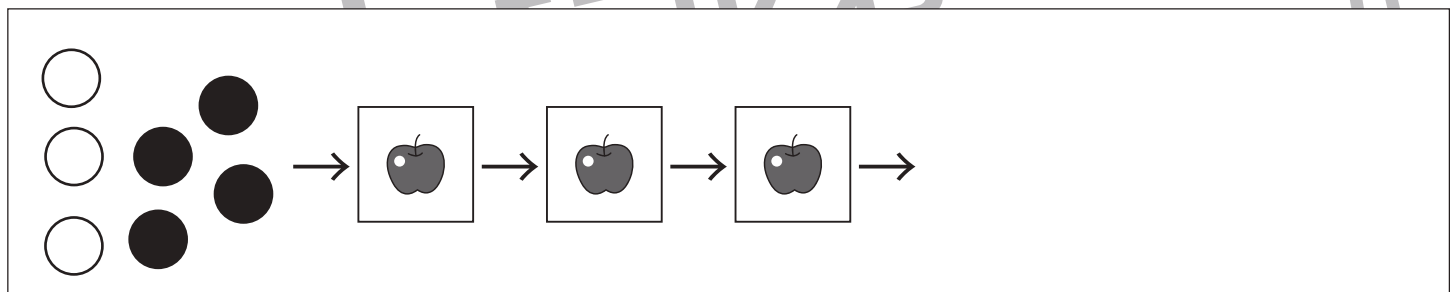
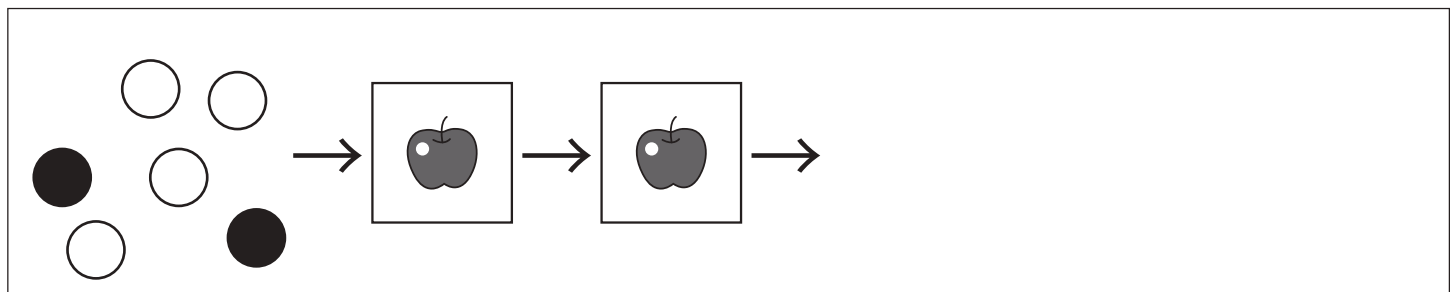

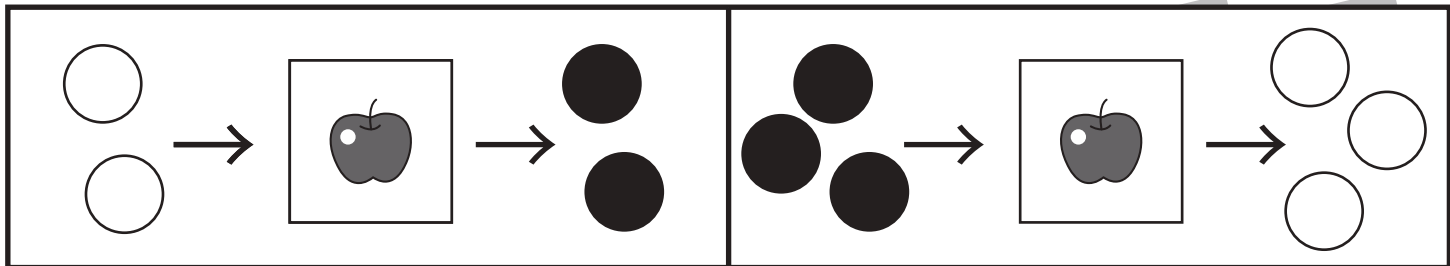


おうちで、やろう。

Study at home. 小学校受験の家庭学習教材

推理：ブラックボックス1

上の太い四角の中が約束です。リンゴの箱は魔法で、この箱の左にある丸をリンゴの箱にいれると矢印の右のようになって出てきます。リンゴの箱にはどんな約束がありますか。リンゴの箱の約束を考えて、それぞれ箱の左の丸が箱から出てきたときを考えて、矢印の右の空いている場所にかきます。箱がいくつか並んでいるときは、一度出てきた形が次の箱に入り、最後に出てきた丸をかきます。



※1. このプリントは、しながわ・目黒こどもスクールのウェブサイトでダウンロードができます。無断複写・引用はご遠慮ください。
※2. このプリントを活用したオンライン授業のスケジュールは、しながわ・目黒こどもスクールのウェブサイトでご確認ください。





おうちで、やろう。

Study at home. 小学校受験の家庭学習教材

推理：ブラックボックス2

上の太い四角の中が約束です。リンゴの箱は魔法で、この箱の左にある形をリンゴの箱にいれるとその形が矢印の右のようになってきます。リンゴの箱にはどんな約束がありますか。リンゴの箱の約束を考えて、それぞれ箱の左にある形が箱から出てきたときの形を考えて、矢印の右の空いている場所にかきます。箱がいくつか並んでいるときは、一度出てきた形が次の箱に入り、最後に出てきた形を考えてかきます。

	→		→	
	→		→	

	→		→	
--	---	--	---	--

	→		→	
--	---	--	---	--

	→		→	
--	---	--	---	--

	→		→		→	
--	---	--	---	--	---	--

	→		→		→		→	
--	---	--	---	--	---	--	---	--

※1. このプリントは、しながわ・目黒こどもスクールのウェブサイトでダウンロードができます。無断複写・引用はご遠慮ください。
 ※2. このプリントを活用したオンライン授業のスケジュールは、しながわ・目黒こどもスクールのウェブサイトでご確認ください。



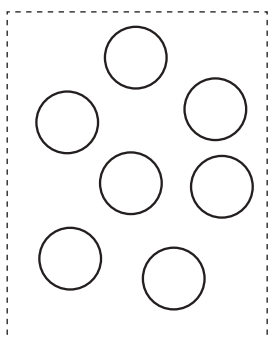
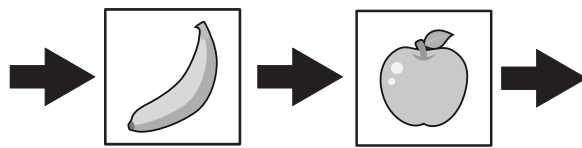
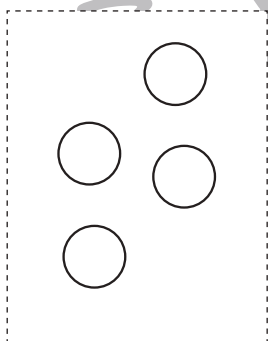

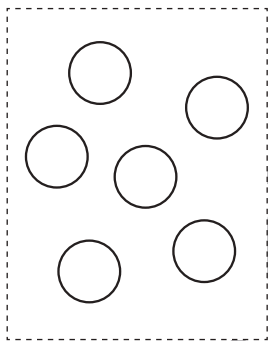


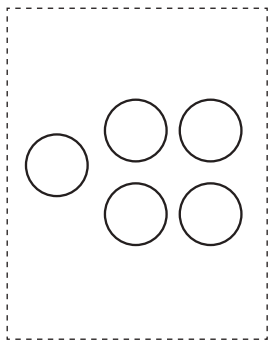
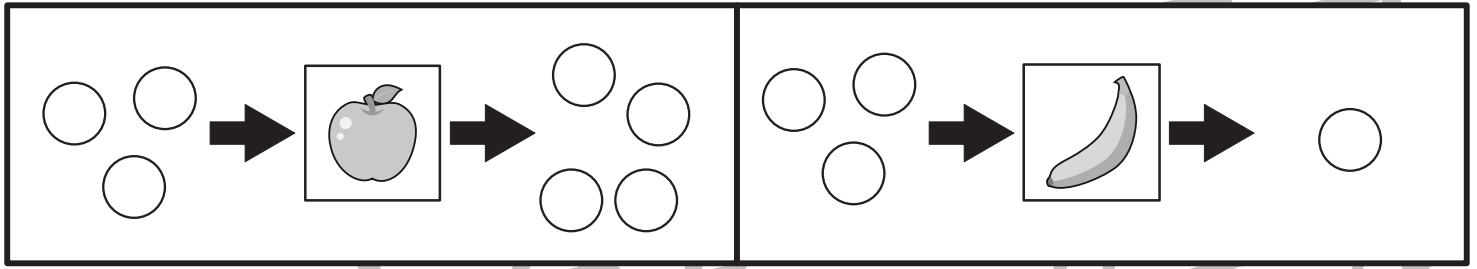


おうちで、やろう。

Study at home.

推理：ブラックボックス3

上の太い四角の中が約束です。リンゴの絵の箱の中に白い○を入れると1つ増えて出てきます。バナナの絵の箱の中に白い○を入れると2つ減って出てきます。このお約束の通りに左にある○を矢印の順番に箱の中に入れていきます。最後に出てきた○を右の四角にかきます。



※1. このプリントは、しながわ・目黒こどもスクールのウェブサイトでダウンロードができます。無断複写・引用はご遠慮ください。

※2. このプリントを活用したオンライン授業のスケジュールは、しながわ・目黒こどもスクールのウェブサイトでご確認ください。



おうちで、やろう。

Study at home. 小学校受験の家庭学習教材

数量：加減4

①～④の問題をよく聞いて、答えの数だけ右の四角に○をかきます。

①けんたくんはハンバーガーを6個買いました。

そのうち、自分で2個食べて、お母さんが1個食べました残ったハンバーガーの数だけ○をかきます。

②あきさんはフランクフルト5本作りました。

お姉ちゃんに2本、弟に1本あげました。残ったフランクフルトはいくつですか。その数だけ○をかきます。


③ともさんは大きなピザを8枚に分けました。

お父さんとお母さんが2枚ずつ食べて残ったピザをともさんが食べました。ともさんが食べたピザの数だけ○をかきます。

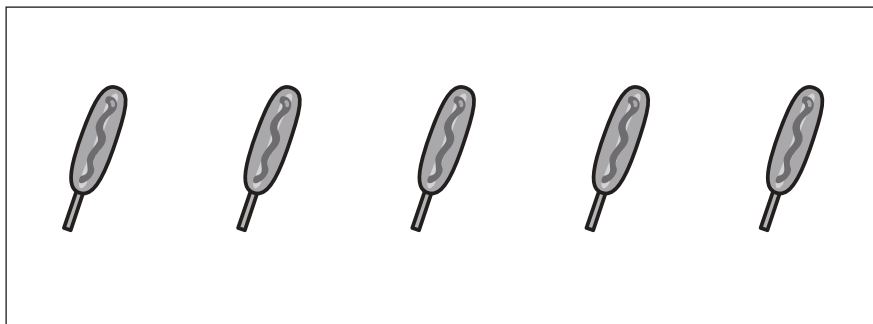
④みきさんはお弁当のおにぎりを2つ作りました。

その後、お姉さんが2つ、お母さんが3つ作りました。できたおにぎりは全部でいくつですか。その数だけ○をかきます。

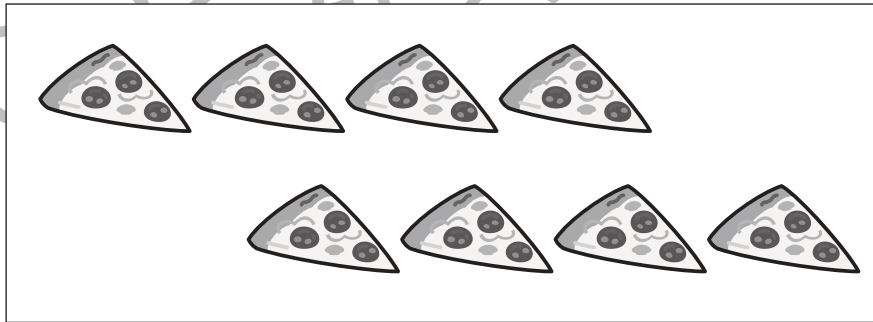
①



②



③



④



※1. このプリントは、しながわ・目黒こどもスクールのウェブサイトでダウンロードができます。無断複写・引用はご遠慮ください。

※2. このプリントを活用したオンライン授業のスケジュールは、しながわ・目黒こどもスクールのウェブサイトでご確認ください。





おうちで、やろう。

Study at home. 小学校受験の家庭学習教材

数量：加減5

①～④の問題をよく聞いて、答えの数だけ右の四角に○をかきます。

①あきとくんはケーキを6つ買って帰りました。

あきとくんは4人兄弟なので、4人が1つずつケーキを食べました。残ったケーキはいくつですか。その数だけ○をかきます。

②お団子屋さんにお団子が10本並んでいます。1人目のお客さんが3本、2人目のお客さんが4本買っていきました。

今、お店に並んでいるお団子は何本ですか。その数だけ○をかきます。


③ともみさんがお友だちにあげるドーナツを作ります。お友だち3人に2つずつあげようと思います。

この時、ともみさんは全部でいくつのドーナツを作ればよいですか。その数だけ○をかきます。

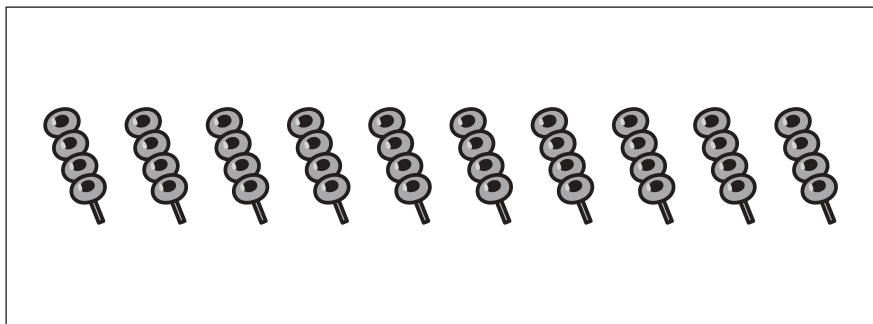
④みきおくんがお菓子の袋を買うと中にペロペロキャンディーが4本入っていました。

みきおくんがこのお菓子の袋を3つ買ったとき、ペロペロキャンディーは全部で何本になりますか。その数だけ○をかきます。

①





②



③



④



※1. このプリントは、しながわ・目黒こどもスクールのウェブサイトでダウンロードができます。無断複写・引用はご遠慮ください。

※2. このプリントを活用したオンライン授業のスケジュールは、しながわ・目黒こどもスクールのウェブサイトでご確認ください。






おうちで、やろう。

Study at home. 小学校受験の家庭学習教材

処理：計数 4

上の四角の中の絵の数をかぞえて、下の四角の同じ絵の右にその数だけ〇をかきます。
この問題はスピードを意識して取り組む練習をしてみましょう。(1分～1分30秒)



※1. このプリントは、しながわ・目黒こどもスクールのウェブサイトでダウンロードができます。無断複写・引用はご遠慮ください。
※2. このプリントを活用したオンライン授業のスケジュールは、しながわ・目黒こどもスクールのウェブサイトでご確認ください。