




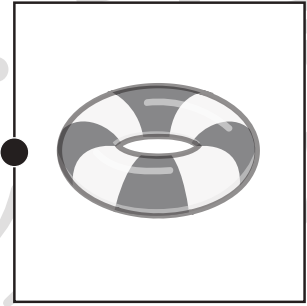



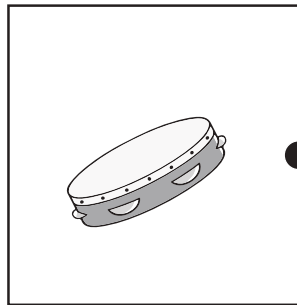



おうちで、やろう。

Study at home. 小学校受験の家庭学習教材

言語：音の理解 15

左の四角の中の絵の終りの音2つと同じ音からはじまるものを右の四角の中から見つけて線で結びます。



※1. このプリントは、しながわ・目黒こどもスクールのウェブサイトでダウンロードができます。無断複写・引用はご遠慮ください。
※2. このプリントを活用したオンライン授業のスケジュールは、しながわ・目黒こどもスクールのウェブサイトでご確認ください。

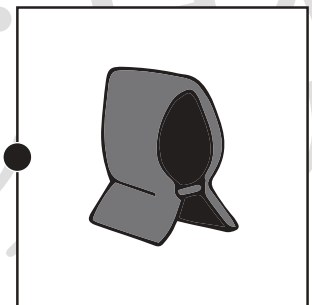











おうちで、やろう。

Study at home. 小学校受験の家庭学習教材

言語：音の理解 16

左の四角の中の絵の終りの音2つと同じ音からはじまるものを右の四角の中から見つけて線で結びます。



※1. このプリントは、しながわ・目黒こどもスクールのウェブサイトでダウンロードができます。無断複写・引用はご遠慮ください。
※2. このプリントを活用したオンライン授業のスケジュールは、しながわ・目黒こどもスクールのウェブサイトでご確認ください。



おうちで、やろう。

Study at home. 小学校受験の家庭学習教材

指示の聞き取り 7

お友だちが並んでいます。それぞれのお話を聞いて答えます。

①左から3番目の子に○、左から5番目の子に△をつけます。


②右から4番目の子に○、右から7番目の子に△をつけます。

③右から2番目の子に×、左から6番目の子に□をつけます。


④真ん中の子に◎をつけます。

⑤女の子だけ数えて右から5番目の子に○をつけます。


①




②




③



④



⑤



※1. このプリントは、しながわ・目黒こどもスクールのウェブサイトでダウンロードができます。無断複写・引用はご遠慮ください。

※2. このプリントを活用したオンライン授業のスケジュールは、しながわ・目黒こどもスクールのウェブサイトでご確認ください。





おうちで、やろう。

Study at home. 小学校受験の家庭学習教材

図形：模様 3

左のマスにある●は裏返すと○になり、○は裏返すと●になります。この約束で右のマスにすべてのマルを裏返して置きます。どのマルが●になるのかを考えて、右のマスの○を塗りましょう。

○	○	●
○	●	●
●	○	●

○	○	○
○	○	○
○	○	○

○	○	●
●	●	●
○	○	●

○	○	○
○	○	○
○	○	○

○	●	●
○	●	●
○	○	○

○	○	○
○	○	○
○	○	○

○	●	●
○	○	○
●	●	○

○	○	○
○	○	○
○	○	○

○	●	●
●	○	○
●	○	○

○	○	○
○	○	○
○	○	○

●	○	●
●	●	○
●	○	●

○	○	○
○	○	○
○	○	○

●	●	○
●	●	○
●	○	●

○	○	○
○	○	○
○	○	○

○	○	●
●	●	○
●	○	●

○	○	○
○	○	○
○	○	○

※1. このプリントは、しながわ・目黒こどもスクールのウェブサイトでダウンロードができます。無断複写・引用はご遠慮ください。

※2. このプリントを活用したオンライン授業のスケジュールは、しながわ・目黒こどもスクールのウェブサイトでご確認ください。



おうちで、やろう。

Study at home. 小学校受験の家庭学習教材

図形：模様 4

左のマスにある●は裏返すと○になり、○は裏返すと●になります。この約束で右のマスにすべてのマルを裏返して置きます。どのマルが●になるのかを考えて、右のマスの○を塗りましょう。

●	○	●
○	●	○
●	○	●

○	○	○
○	○	○
○	○	○

●	○	○
●	●	●
○	○	●

○	○	○
○	○	○
○	○	○

○	●	○
○	●	●
●	●	○

○	○	○
○	○	○
○	○	○

○	●	●
●	●	○
○	●	●

○	○	○
○	○	○
○	○	○

○	●	○
○	●	○
●	●	●

○	○	○
○	○	○
○	○	○

●	●	○
●	●	●
○	●	○

○	○	○
○	○	○
○	○	○

○	●	○
●	●	○
○	●	●

○	○	○
○	○	○
○	○	○

●	○	●
○	●	●
●	●	○

○	○	○
○	○	○
○	○	○

※1. このプリントは、しながわ・目黒こどもスクールのウェブサイトからダウンロードできます。無断複写・引用はご遠慮ください。
※2. このプリントを活用したオンライン授業のスケジュールは、しながわ・目黒こどもスクールのウェブサイトでご確認ください。



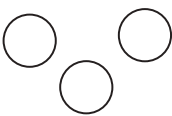
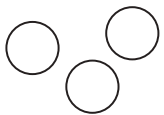

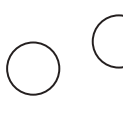

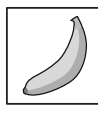


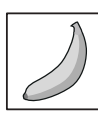



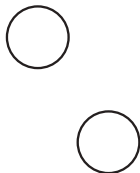

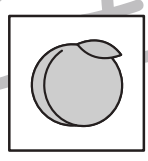


おうちで、やろう。

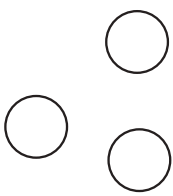
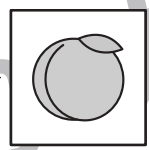
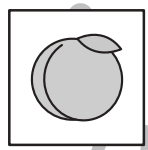


Study at home.


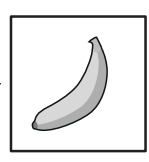
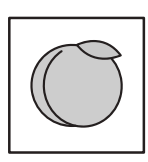
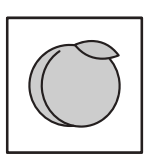

推理：ブラックボックス4

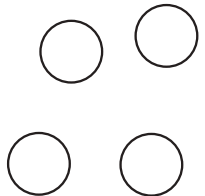

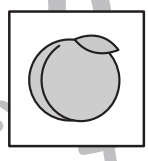


上の太い四角の中が約束です。リンゴの絵の箱の中に白い○を入れると2つ増えて出てきます。モモの絵の箱の中に白い○を入れると1つ減って出てきます。バナナの絵の箱の中に白い○を入れると色が変わって出てきます。このお約束の通りに左にある○を矢印の順番に箱の中に入れていきます。最後に出てきた○を右の四角にかきます。

	→		→	
	→		→	
	→		→	
	→		→	

	→		→		→		→	
---	---	---	---	---	---	--	---	---

	→		→		→		→	
---	---	---	---	---	---	--	---	---

	→		→		→		→	
--	---	---	---	---	---	--	---	---

	→		→		→		→	
--	---	---	---	---	---	--	---	---

※1. このプリントは、しながわ・目黒こどもスクールのウェブサイトでダウンロードができます。無断複写・引用はご遠慮ください。
 ※2. このプリントを活用したオンライン授業のスケジュールは、しながわ・目黒こどもスクールのウェブサイトでご確認ください。











おうちで、やろう。

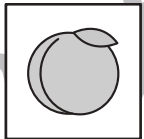

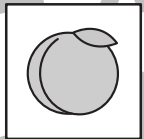

Study at home.

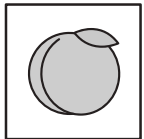

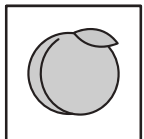

推理：ブラックボックス5


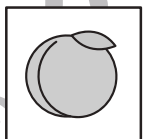


上の太い四角の中が約束です。リンゴの絵の箱の中に白い○を入れると1つ増えて出てきます。モモの絵の箱の中に白い○を入れると2つ減って出てきます。バナナの絵の箱の中に白い○を入れると色が変わって出てきます。このお約束の通りに左にある○を矢印の順番に箱の中に入れていきます。最後に出てきた○を右の四角にかきます。

○ →  → ○ ○	○ →  → ●
○ ○ ○ →  → ○	● →  → ○

○ ○ ○	→ 	→ 	→ 	→	
-------	---	---	--	---	---

○ ○ ○ ○ ○ ○	→ 	→ 	→ 	→	
-------------	---	---	--	---	---

○ ○ ○ ○ ○ ○ ○ ○	→ 	→ 	→ 	→	
-----------------	---	---	--	---	---

○ ○ ○ ○ ○ ○ ○ ○	→ 	→ 	→ 	→	
-----------------	---	---	--	---	---

※1. このプリントは、しながわ・目黒こどもスクールのウェブサイトでダウンロードができます。無断複写・引用はご遠慮ください。
 ※2. このプリントを活用したオンライン授業のスケジュールは、しながわ・目黒こどもスクールのウェブサイトでご確認ください。




おうちで、やろう。

Study at home. 小学校受験の家庭学習教材


数量：長さ 1

- ① ひもの長さが 1 番長いものに○、3 番目に長いものに△をつけます。
- ② ひもの長さが 2 番目に短いものに○、4 番目に短いものに△をつけます。

①



②



※1. このプリントは、しながわ・目黒こどもスクールのウェブサイトでダウンロードができます。無断複写・引用はご遠慮ください。
 ※2. このプリントを活用したオンライン授業のスケジュールは、しながわ・目黒こどもスクールのウェブサイトでご確認ください。



おうちで、やろう。

Study at home. 小学校受験の家庭学習教材

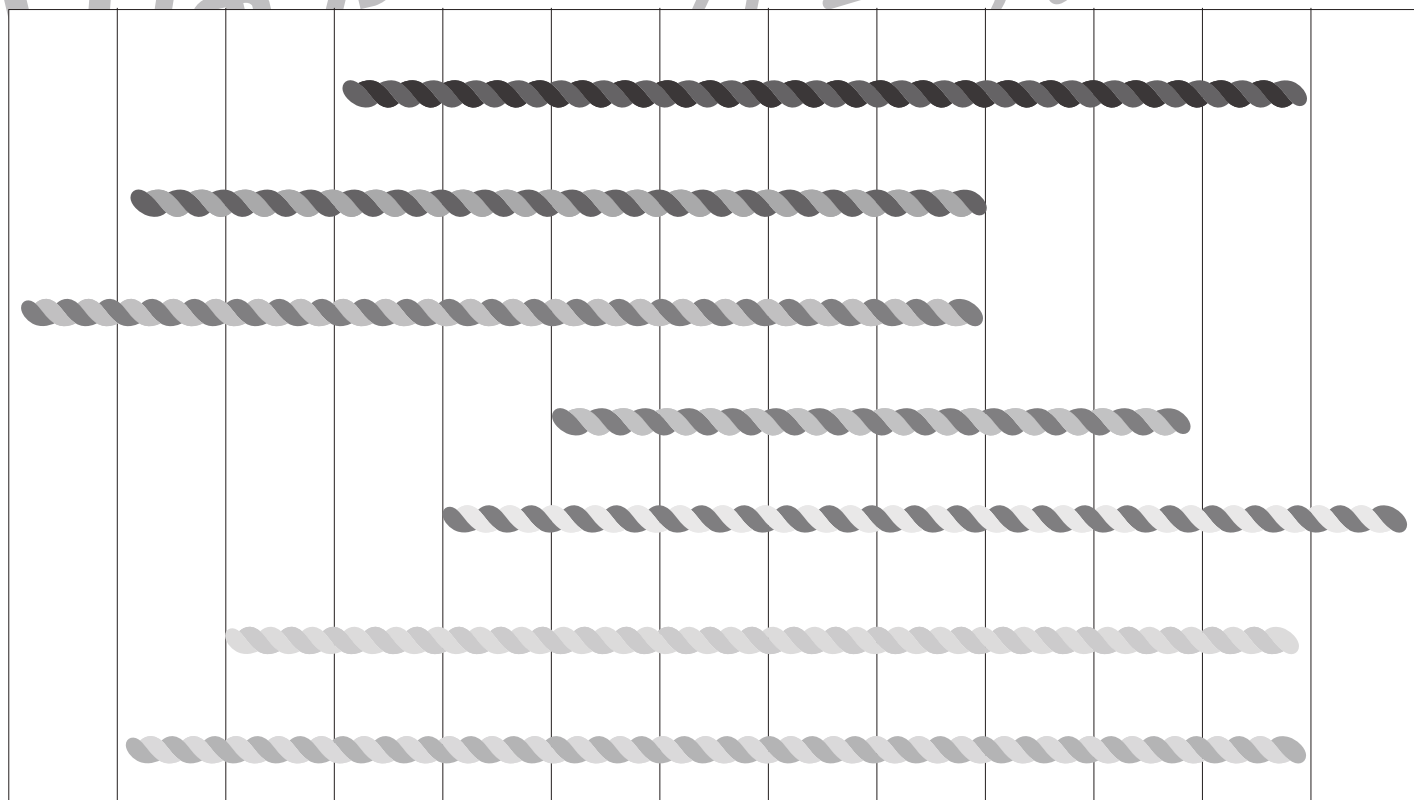
数量：長さ2

- ① 同じ長さのひもを3つ見つけて○をつけます。
- ② 同じ長さのひもを3つ見つけて○をつけます。

①



②



※1. このプリントは、しながわ・目黒こどもスクールのウェブサイトでダウンロードができます。無断複写・引用はご遠慮ください。
※2. このプリントを活用したオンライン授業のスケジュールは、しながわ・目黒こどもスクールのウェブサイトでご確認ください。



おうちで、よろう。

Study at home. 小学校受験の家庭学習教材

図形：点図形 24

左のお手本と同じになるように右の四角に線をかきます。 ※このプリントに解答はありません。

※1. このプリントは、しながわ・目黒こどもスクールのウェブサイトでダウンロードができます。無断複写・引用はご遠慮ください。
 ※2. このプリントを活用したオンライン授業のスケジュールは、しながわ・目黒こどもスクールのウェブサイトでご確認ください。