



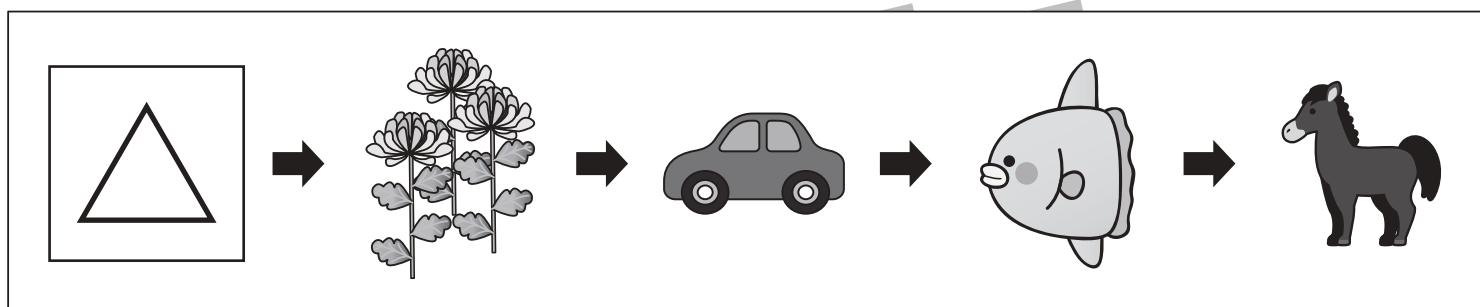
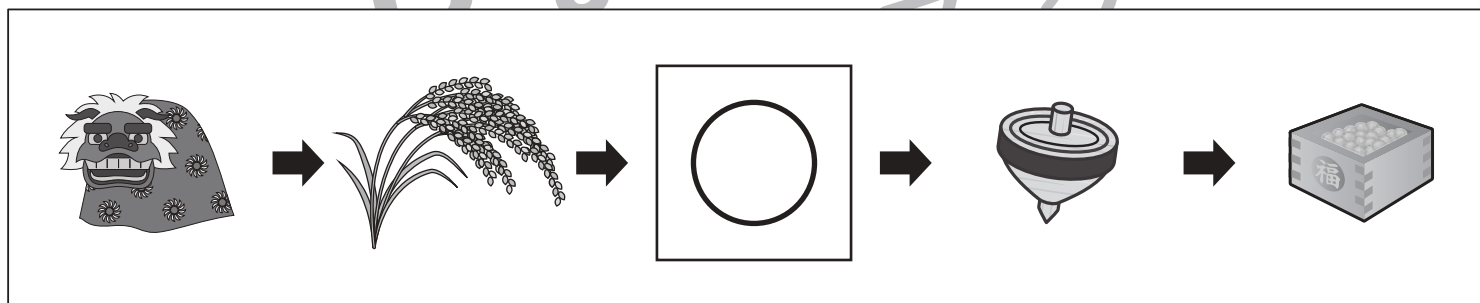
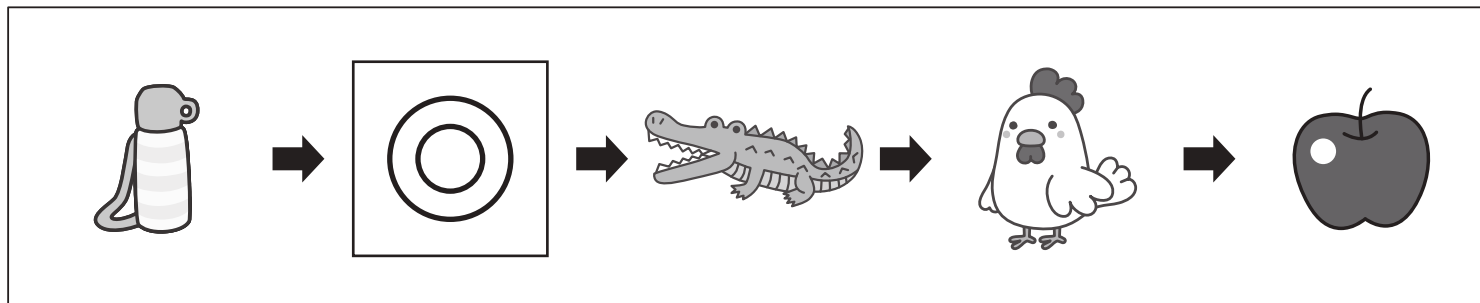


おうちで、やろう。

Study at home. 小学校受験の家庭学習教材

言語：しりとり 7

左から順番にしりとりをします。記号のある四角の中に入る絵を下の四角の中から選んで、それぞれの四角の中の記号をつけます。



※1. このプリントは、しながわ・目黒こどもスクールのウェブサイトダウンロードができます。無断複写・引用はご遠慮ください。

※2. このプリントを活用したオンライン授業のスケジュールは、しながわ・目黒こどもスクールのウェブサイトでご確認ください。



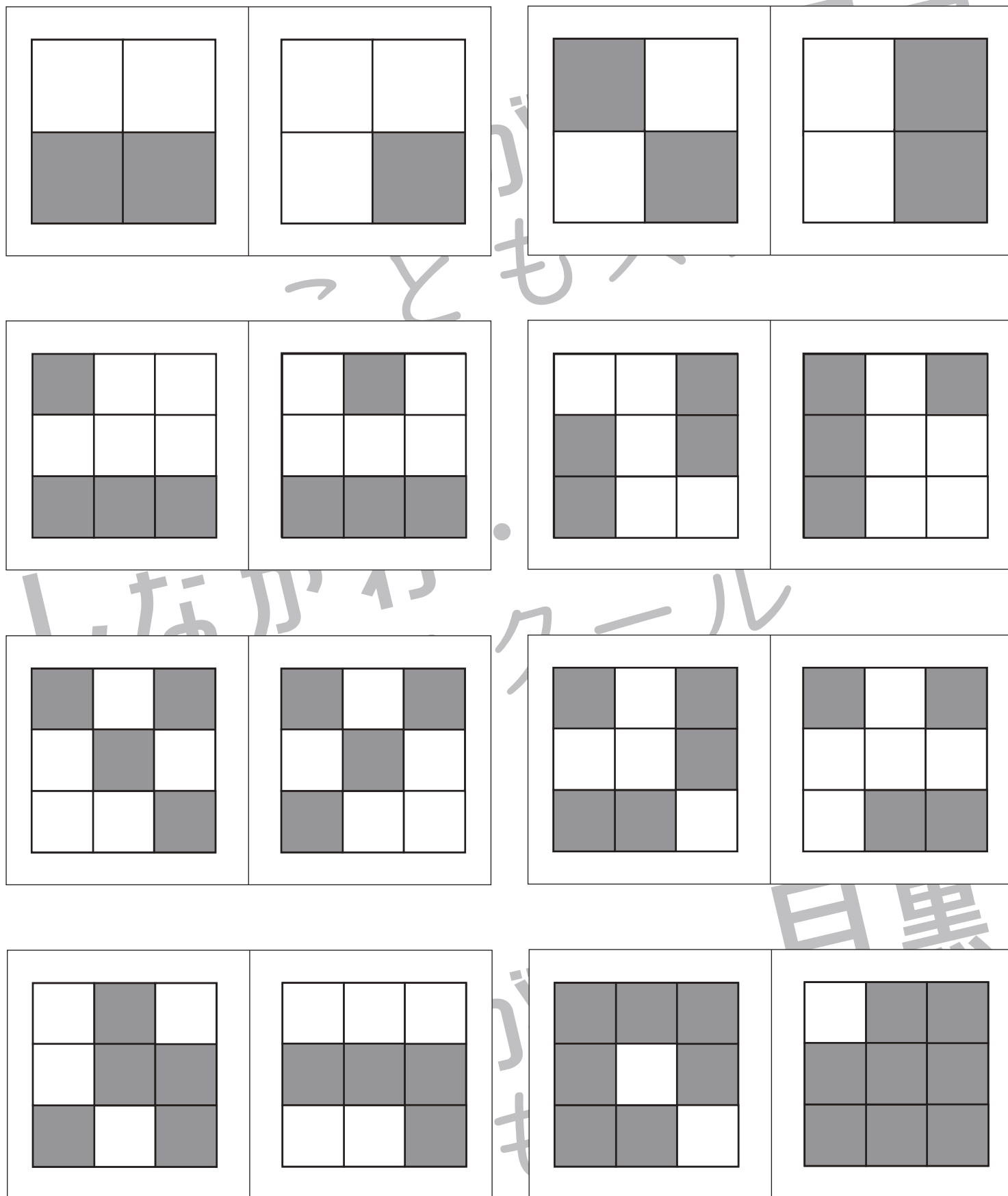


おうちで、やろう。

Study at home. 小学校受験の家庭学習教材

図形：観察力 4

左の四角に、表が灰色で裏が白のカードを並べました。カードを何枚か裏返したら、右の四角のようになりました。
白から灰色に変わったカードには○、灰色から白に変わったカードには×をつけます。印は右側につけましょう。



※1. このプリントは、しながわ・目黒こどもスクールのウェブサイトでダウンロードができます。無断複写・引用はご遠慮ください。

※2. このプリントを活用したオンライン授業のスケジュールは、しながわ・目黒こどもスクールのウェブサイトでご確認ください。



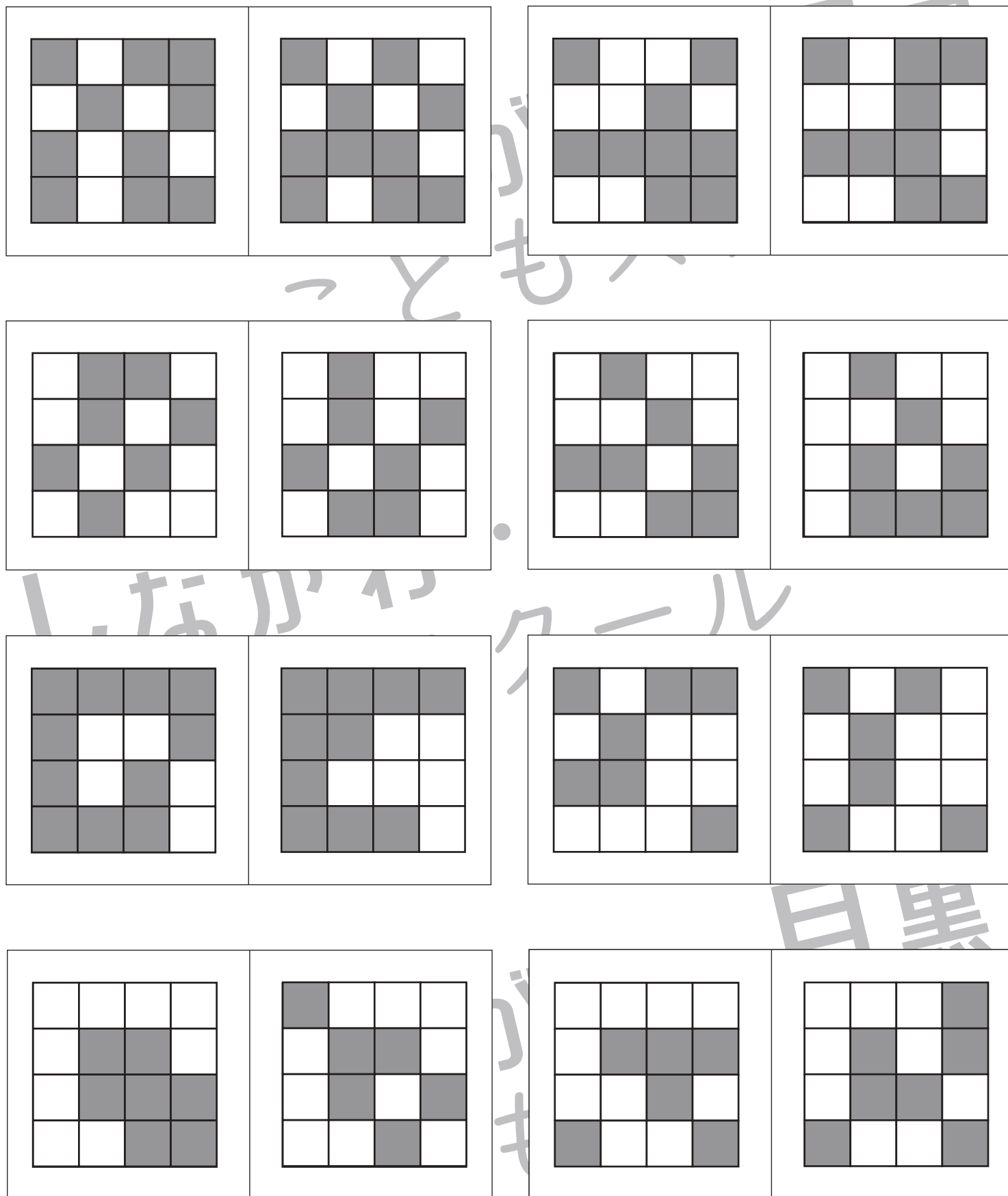


おうちで、やろう。

Study at home. 小学校受験の家庭学習教材

図形：観察力 5

左の四角に、表が灰色で裏が白のカードを並べました。カードを何枚か裏返したら、右の四角のようになりました。
白から灰色に変わったカードには○、灰色から白に変わったカードには×をつけます。印は右側につけましょう。



※1. このプリントは、しながわ・目黒こどもスクールのウェブサイトでダウンロードができます。無断複写・引用はご遠慮ください。

※2. このプリントを活用したオンライン授業のスケジュールは、しながわ・目黒こどもスクールのウェブサイトでご確認ください。



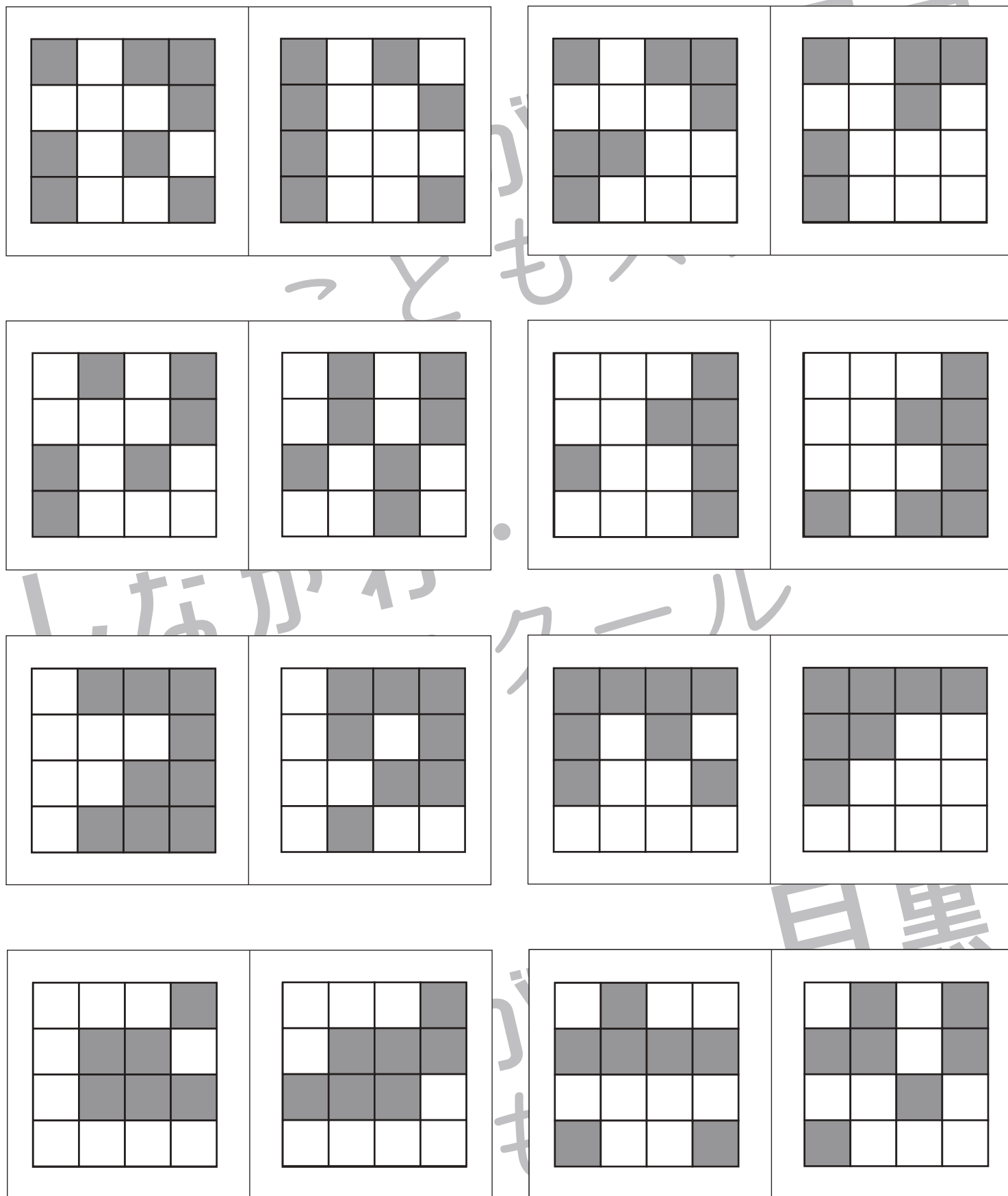


おうちで、やろう。

Study at home. 小学校受験の家庭学習教材

図形：観察力 6

左の四角に、表が灰色で裏が白のカードを並べました。カードを何枚か裏返したら、右の四角のようになりました。
白から灰色に変わったカードには○、灰色から白に変わったカードには×をつけます。印は右側につけましょう。



※1. このプリントは、しながわ・目黒こどもスクールのウェブサイトでダウンロードができます。無断複写・引用はご遠慮ください。

※2. このプリントを活用したオンライン授業のスケジュールは、しながわ・目黒こどもスクールのウェブサイトでご確認ください。





おうちで、やろう。

Study at home. 小学校受験の家庭学習教材

図形：模様 5

左のマスにある●は裏返すと○になり、○は裏返すと●になります。この約束で右のマスにすべてのマルを裏返して置きます。
どのマルが●になるのかを考えて、右のマスの○を塗りましょう。

●	●	●	○
○	○	●	○
●	●	●	○
○	○	○	○

○	○	○	○
○	○	○	○
○	○	○	○
○	○	○	○

●	○	●	○
○	●	○	●
●	○	●	○
●	○	●	○

○	○	○	○
○	○	○	○
○	○	○	○
○	○	○	○

●	○	○	●
○	●	●	○
○	●	●	○
●	○	○	●

○	○	○	○
○	○	○	○
○	○	○	○
○	○	○	○

○	○	●	○
●	●	●	○
○	●	●	●
○	●	○	○

○	○	○	○
○	○	○	○
○	○	○	○
○	○	○	○

○	●	○	○
○	●	●	○
○	●	●	○
○	○	●	○

○	○	○	○
○	○	○	○
○	○	○	○
○	○	○	○

●	●	●	●
●	○	○	●
●	○	○	●
●	●	●	●

○	○	○	○
○	○	○	○
○	○	○	○
○	○	○	○

●	●	○	○
●	○	●	●
●	○	●	●
●	●	○	○

○	○	○	○
○	○	○	○
○	○	○	○
○	○	○	○

○	○	○	○
○	●	●	●
○	●	○	●
○	●	●	●

○	○	○	○
○	○	○	○
○	○	○	○
○	○	○	○

※1. このプリントは、しながわ・目黒こどもスクールのウェブサイトでダウンロードができます。無断複写・引用はご遠慮ください。

※2. このプリントを活用したオンライン授業のスケジュールは、しながわ・目黒こどもスクールのウェブサイトでご確認ください。







おうちで、やろう。

Study at home. 小学校受験の家庭学習教材

推理：左右1

①左手に○をつけます。 ②右手に○をつけます。



※1. このプリントは、しながわ・目黒こどもスクールのウェブサイトでダウンロードができます。無断複写・引用はご遠慮ください。

※2. このプリントを活用したオンライン授業のスケジュールは、しながわ・目黒こどもスクールのウェブサイトでご確認ください。




おうちで、やろう。

Study at home. 小学校受験の家庭学習教材


推理：左右 2

①右手に○をつけます。 ②左手に○をつけます。

①



②



※1. このプリントは、しながわ・目黒こどもスクールのウェブサイトでダウンロードができます。無断複写・引用はご遠慮ください。

※2. このプリントを活用したオンライン授業のスケジュールは、しながわ・目黒こどもスクールのウェブサイトでご確認ください。





おうちで、やろう。

Study at home. 小学校受験の家庭学習教材

数量：加減 6

上の灰色の星の数がお手本の数です。

左の白い星と右の黒い星を合わせると灰色の星の数になる組み合わせを考えて点を点を結びます。

Top row of stars: 6 gray stars.

5 white stars	4 black stars
2 white stars	6 black stars
1 white star	3 black stars
4 white stars	5 black stars
3 white stars	2 black stars

※ 1. このプリントは、しながわ・目黒こどもスクールのウェブサイトでダウンロードができます。無断複写・引用はご遠慮ください。

※ 2. このプリントを活用したオンライン授業のスケジュールは、しながわ・目黒こどもスクールのウェブサイトでご確認ください。




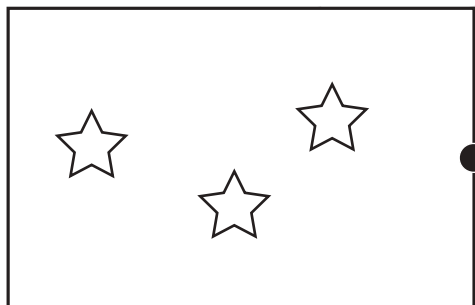




おうちで、やろう。

Study at home. 小学校受験の家庭学習教材

数量：加減 7

上の灰色の星の数がお手本の数です。

左の白い星と右の黒い星を合わせると灰色の星の数になる組み合わせを考えて点を点を結びます。



※1. このプリントは、しながわ・目黒こどもスクールのウェブサイトでダウンロードができます。無断複写・引用はご遠慮ください。

※2. このプリントを活用したオンライン授業のスケジュールは、しながわ・目黒こどもスクールのウェブサイトでご確認ください。






おうちで、やろう。

Study at home. 小学校受験の家庭学習教材

図形：点図形 25

左のお手本と同じになるように右の四角に足りない線をかきます。 ※このプリントに解答はありません。



※1. このプリントは、しながわ・目黒こどもスクールのウェブサイトでダウンロードができます。無断複写・引用はご遠慮ください。

※2. このプリントを活用したオンライン授業のスケジュールは、しながわ・目黒こどもスクールのウェブサイトでご確認ください。

