



# おうちで、やろう。

Study at home. 小学校受験の家庭学習教材

## 記憶：お話の記憶 1

お話の本文を読んで別紙「記憶：お話の記憶 1-1、1-2」に取り組みます。

(本文)

動物たちが住む森の中に、靴屋さんがオープンしました。お店の名前は、“チューリップ”です。まず一番にお店に来たのはうさぎさんです。スニーカーを買ったうさぎさんは、靴をととても気に入って、「そうだ。今度、かえるさんと会う時にこれを履いていこう。かえるさん、きっと褒めてくれるだろうな。」と言いました。次に来たのは、くまさんです。くまさんは、お店まで自転車でやってきました。くまさんは、長靴かサンダルを買うかで迷っていましたが、長い時間悩んでサンダルを買いました。ただ、お店を出て少し後悔したようすで、「うーん、このところじめじめして雨が多いし、この時期はやっぱり長靴を買った方がよかったな。」と言って、帰っていきました。次にやってきたのは、かえるさんです。かえるさんは、たくさんの靴を見てとても喜びましたが、残念ながらかえるさんに合うサイズの靴はありませんでした。「僕の靴はなかったけど、かめさんに靴をプレゼントしてあげよう。いつもお世話になっているからお礼がしたいな。」と言って、長靴を買っていきました。次にやってきたのは、ねこのお母さんと、その子どもです。ねこのお母さんは、「うちの子でも履ける、小さなスニーカーが欲しいわ。うちの子は、お庭でたくさん遊ぶから靴がすごく汚れてしまっているの。今日は、3足買おうわ。」と言いました。それを聞いて、ねこの子どもは「わーい。」とびよんびよん飛びはねて喜んでいます。ねこの親子は、仲良くお店の中の靴を眺めて、お母さんの靴も合わせて4足買っていきました。そのあとやってきたのは、水玉模様のスカート履いたたぬきさんです。たぬきさんは、「せっかくだから、いつも履いているスニーカーじゃなくて、私の着ている洋服に似合う素敵な靴が欲しいな。」と言って、真っ赤な靴を買っていきました。そのあともたくさんの動物たちがやってきて、靴屋さんはたちまち森の人気店になりました。にぎわう店内でお客さんと話しているのは、お店のお庭に住んでいるカタツムリです。実は、カタツムリはこのお店の店長でした。小さな身体ですが、誰にも負けないくらい大きな声で「いらっしゃいませ!」と、お店に来るたくさんの動物たちを歓迎していました。

- ①新しくできたお店の名前と同じ花に○をつけます。
- ②最初にお店にやってきた動物に○をつけます。
- ③くまさんが乗ってきた乗り物に○をつけます。
- ④かえるさんが、かめさんへのプレゼントに買った靴に○をつけます。
- ⑤ねこの親子が買った靴の数だけ○をかきます。
- ⑥たぬきさんが着ていたスカートの模様にも○をつけます。
- ⑦このお話に出てこなかった動物に○をつけます。
- ⑧このお話と同じ季節の絵にも○をつけます。

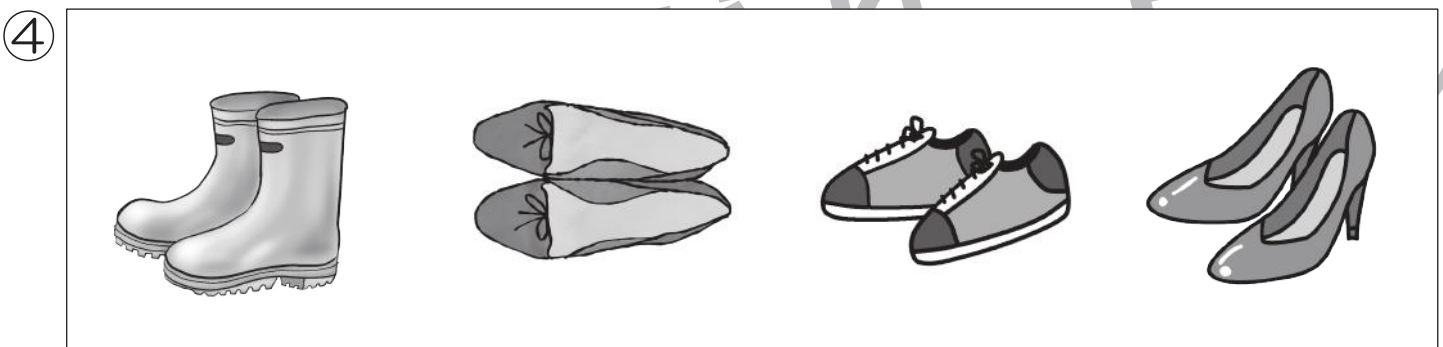


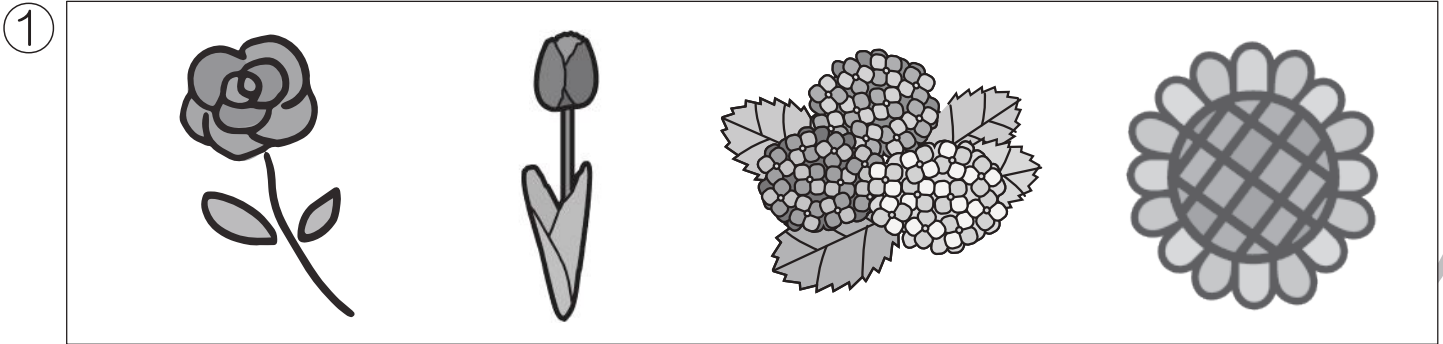


# おうちで、やろう。

Study at home. 小学校受験の家庭学習教材

## 記憶：お話の記憶 1-①

別紙「お話の記憶 1 本文」のお話を聞いて、問題に答えましょう。



※1. このプリントは、しながわ・目黒こどもスクールのウェブサイトでダウンロードができます。無断複写・引用はご遠慮ください。

※2. このプリントを活用したオンライン授業のスケジュールは、しながわ・目黒こどもスクールのウェブサイトでご確認ください。



# おうちで、やろう。

Study at home. 小学校受験の家庭学習教材

## 記憶：お話の記憶 1-②



別紙「お話の記憶 本文」のお話を聞いて、問題に答えましょう。

⑤


⑥



⑦



⑧



※1. このプリントは、しながわ・目黒こどもスクールのウェブサイトでダウンロードができます。無断複写・引用はご遠慮ください。  
※2. このプリントを活用したオンライン授業のスケジュールは、しながわ・目黒こどもスクールのウェブサイトでご確認ください。



# おうちで、やろう。

Study at home. 小学校受験の家庭学習教材

## 図形：構成7

左の四角の中の2つの形を同じにするために、灰色部分に入る形を右の四角の中から選んで○をつけます。  
右の四角の中の形は回転しているものもあります。


※1. このプリントは、しながわ・目黒こどもスクールのウェブサイトでダウンロードができます。無断複写・引用はご遠慮ください。  
※2. このプリントを活用したオンライン授業のスケジュールは、しながわ・目黒こどもスクールのウェブサイトでご確認ください。



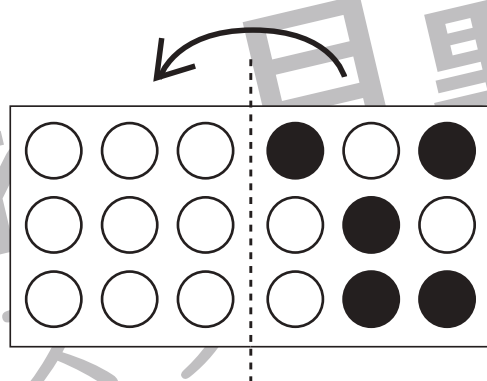
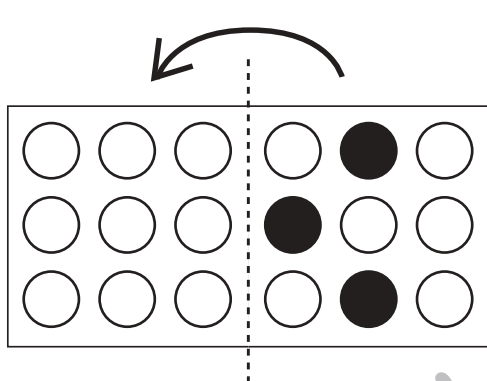
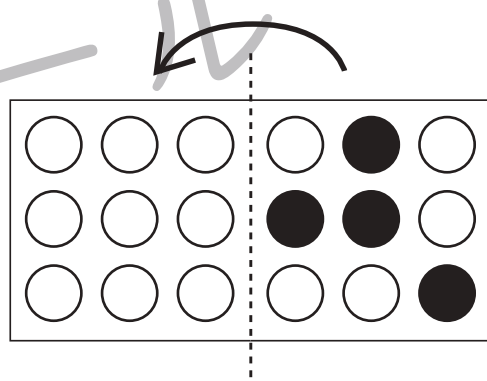
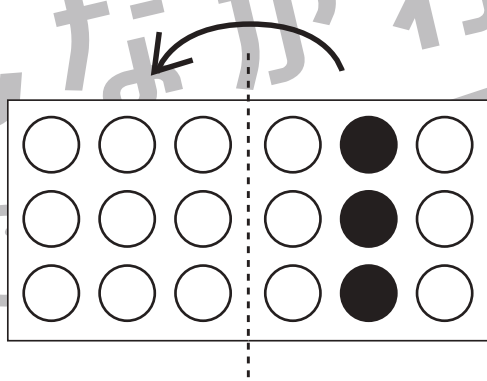
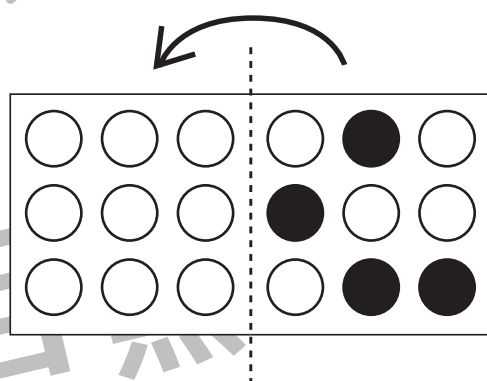
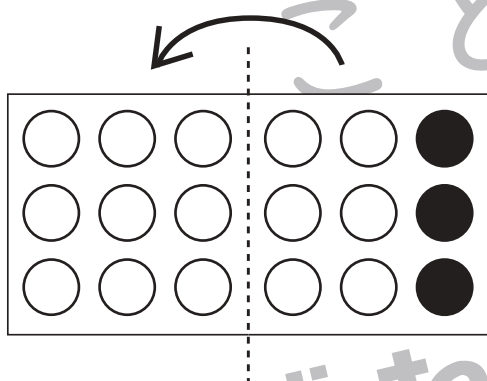
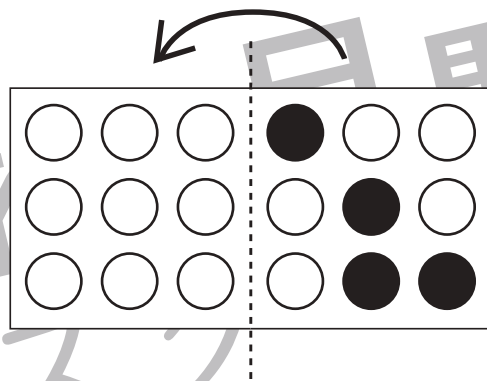
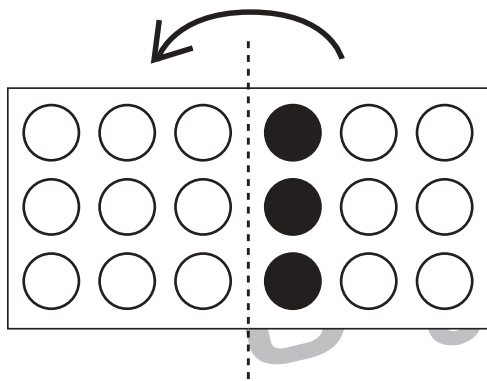


# おうちで、やろう。

Study at home. 小学校受験の家庭学習教材

## 図形：折り重ね 12

真ん中の太い線で矢印の方向へ折り重ねたときの見え方を考えて左の四角の○を塗ります。



※1. このプリントは、しながわ・目黒こどもスクールのウェブサイトでダウンロードができます。無断複写・引用はご遠慮ください。  
※2. このプリントを活用したオンライン授業のスケジュールは、しながわ・目黒こどもスクールのウェブサイトでご確認ください。

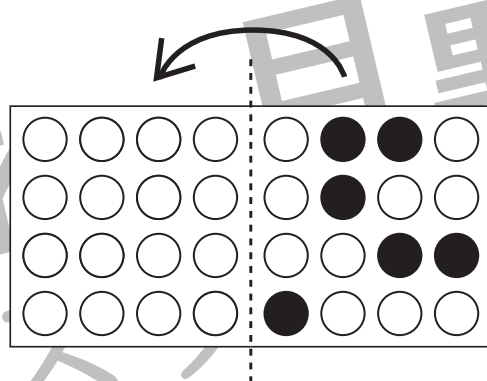
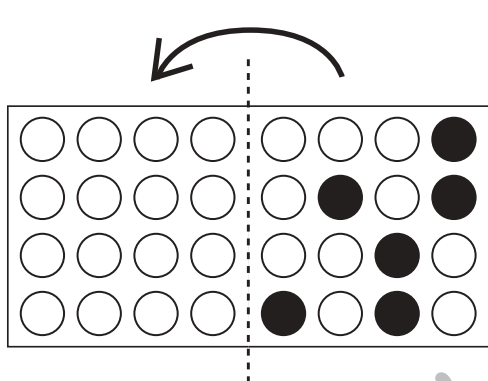
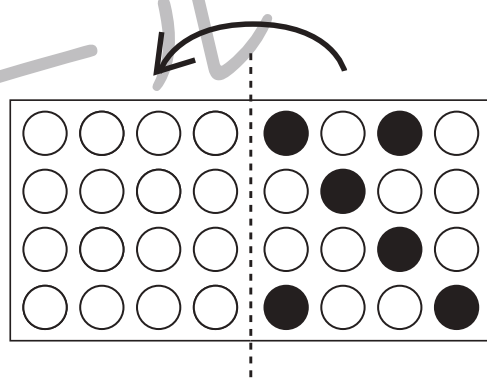
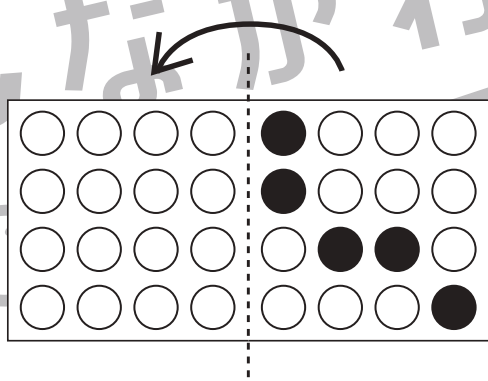
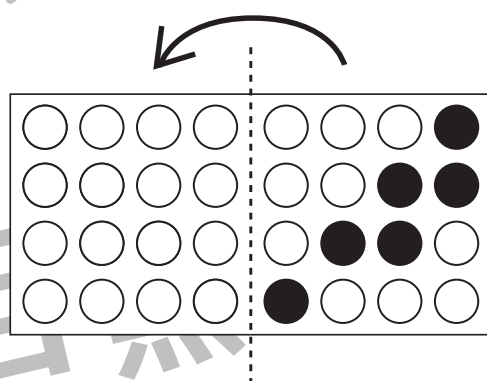
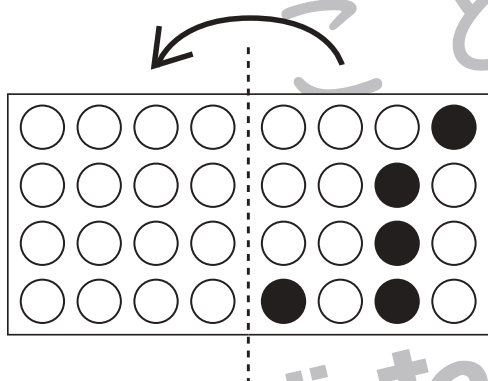
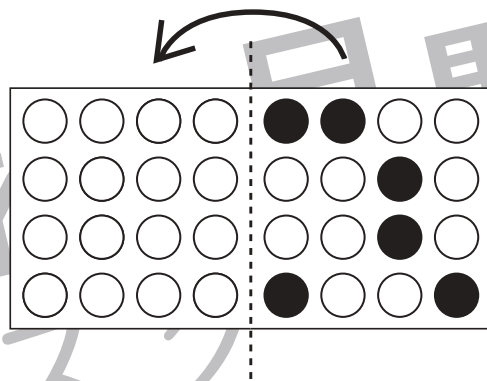
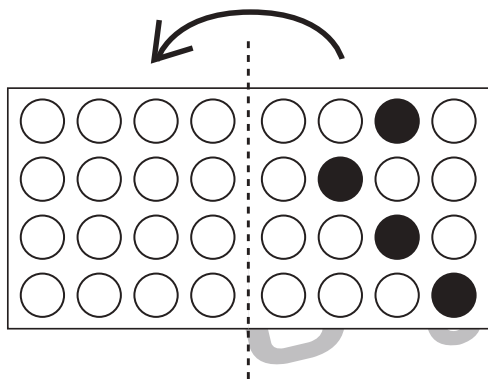


# おうちで、やろう。

Study at home. 小学校受験の家庭学習教材

## 図形：折り重ね 13

真ん中の太い線で矢印の方向へ折り重ねたときの見え方を考えて左の四角の○を塗ります。



※1. このプリントは、しながわ・目黒こどもスクールのウェブサイトでダウンロードができます。無断複写・引用はご遠慮ください。  
※2. このプリントを活用したオンライン授業のスケジュールは、しながわ・目黒こどもスクールのウェブサイトでご確認ください。



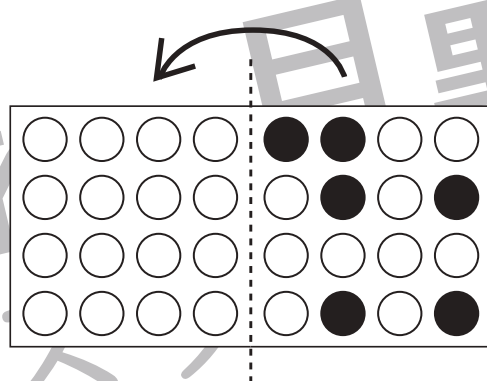
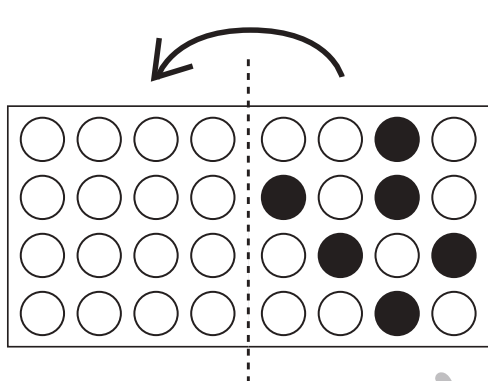
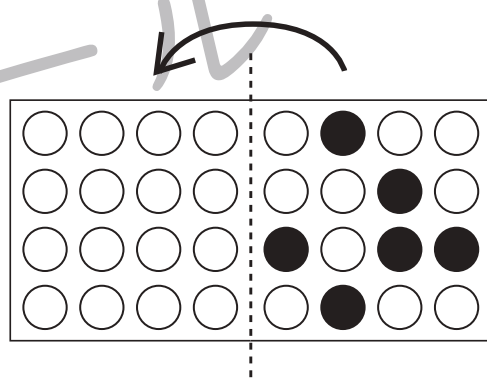
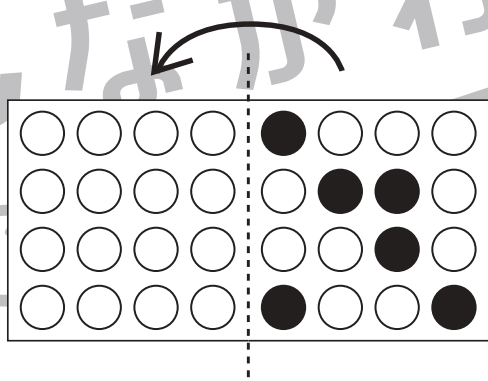
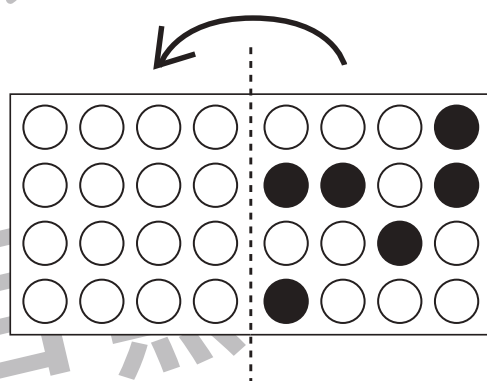
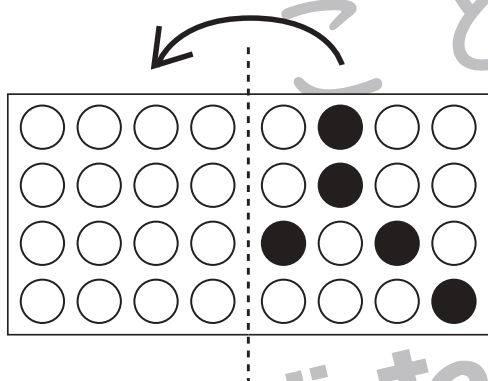
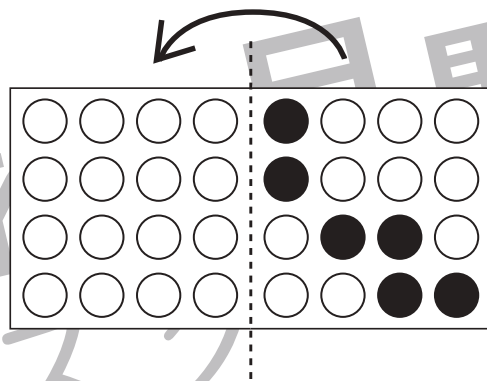
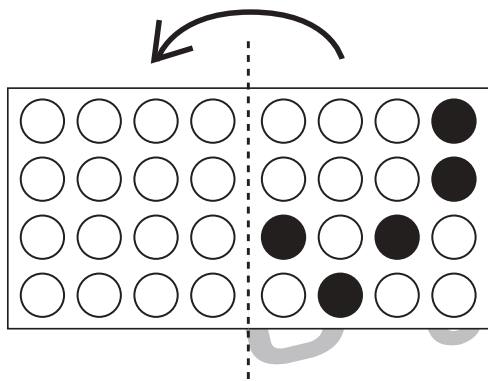


# おうちで、やろう。

Study at home. 小学校受験の家庭学習教材

## 図形：折り重ね 14

真ん中の太い線で矢印の方向へ折り重ねたときの見え方を考えて左の四角の○を塗ります。



※1. このプリントは、しながわ・目黒こどもスクールのウェブサイトでダウンロードができます。無断複写・引用はご遠慮ください。  
※2. このプリントを活用したオンライン授業のスケジュールは、しながわ・目黒こどもスクールのウェブサイトでご確認ください。

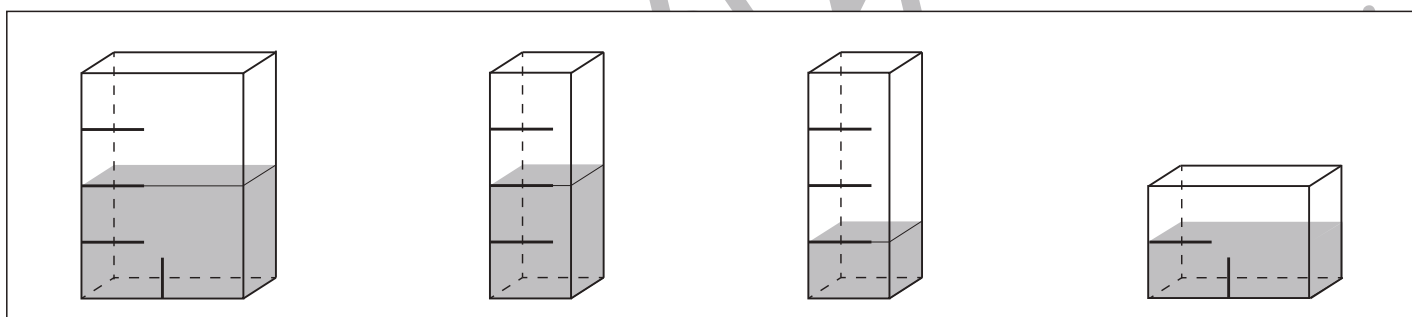
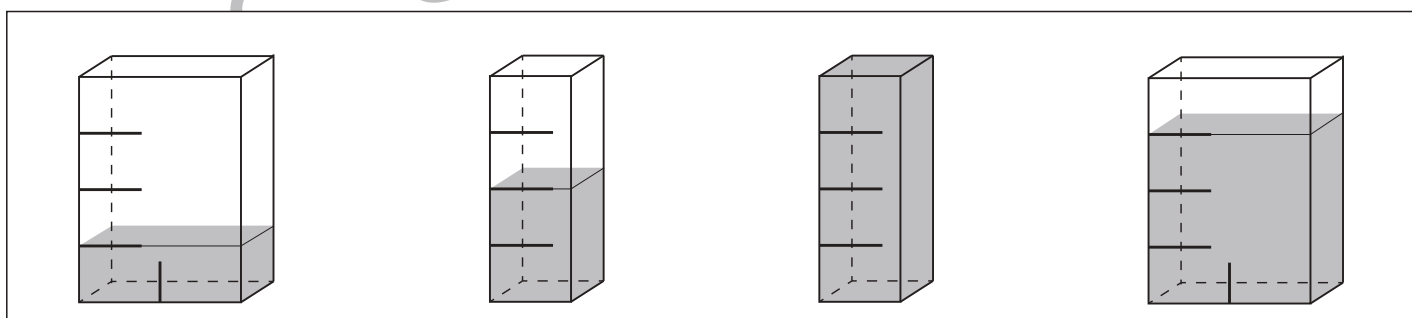
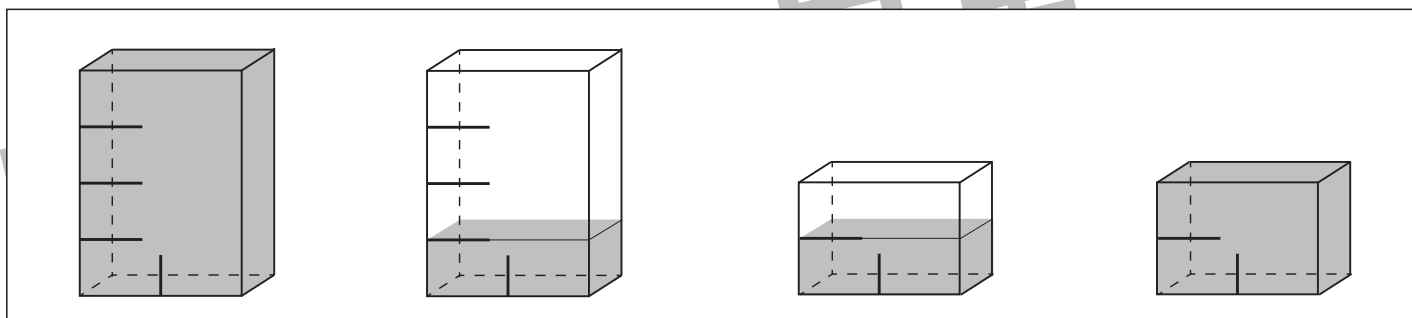
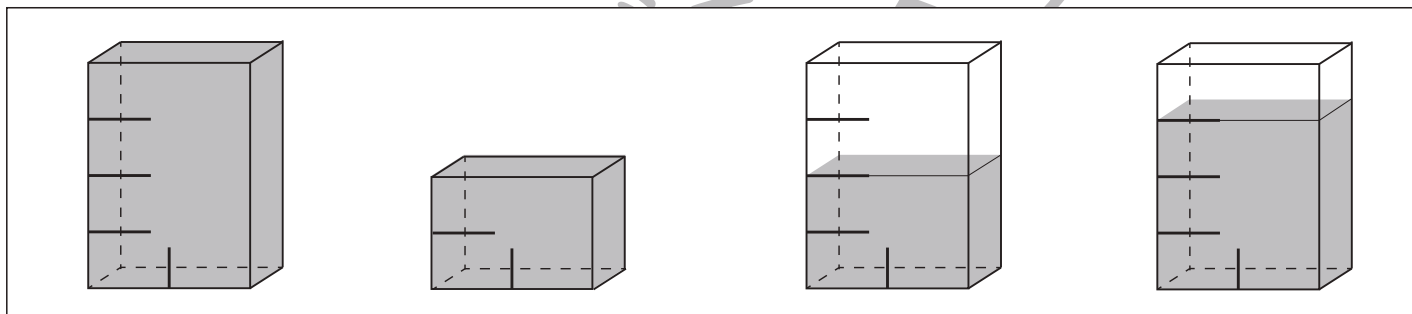
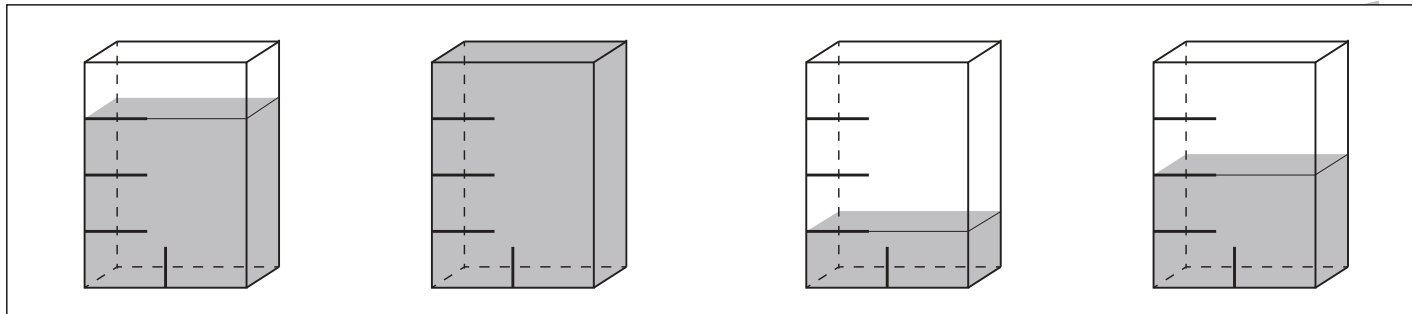


# おうちで、やろう。

Study at home. 小学校受験の家庭学習教材

推理：水量3

それぞれの四角の中の容器には水が入っています。  
4つの容器の中で水の量が1番多いものに○をつけます。



※1. このプリントは、しながわ・目黒こどもスクールのウェブサイトでダウンロードができます。無断複写・引用はご遠慮ください。  
※2. このプリントを活用したオンライン授業のスケジュールは、しながわ・目黒こどもスクールのウェブサイトでご確認ください。





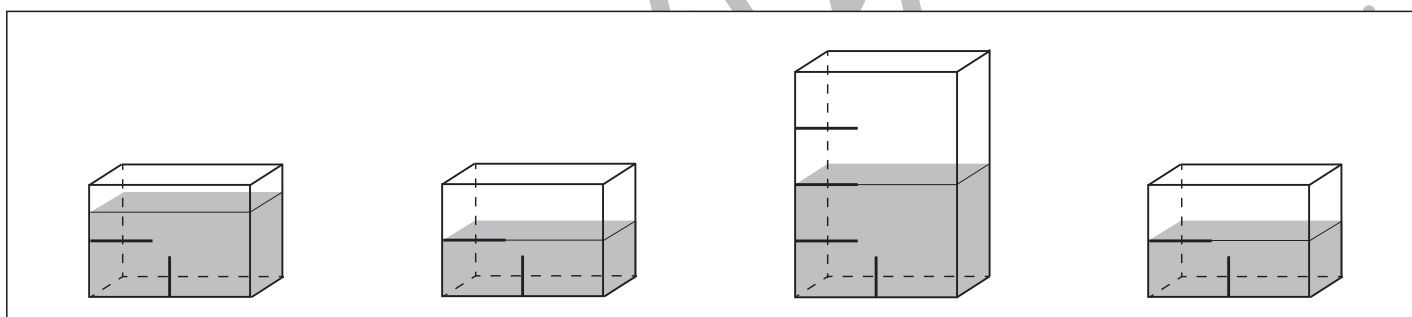
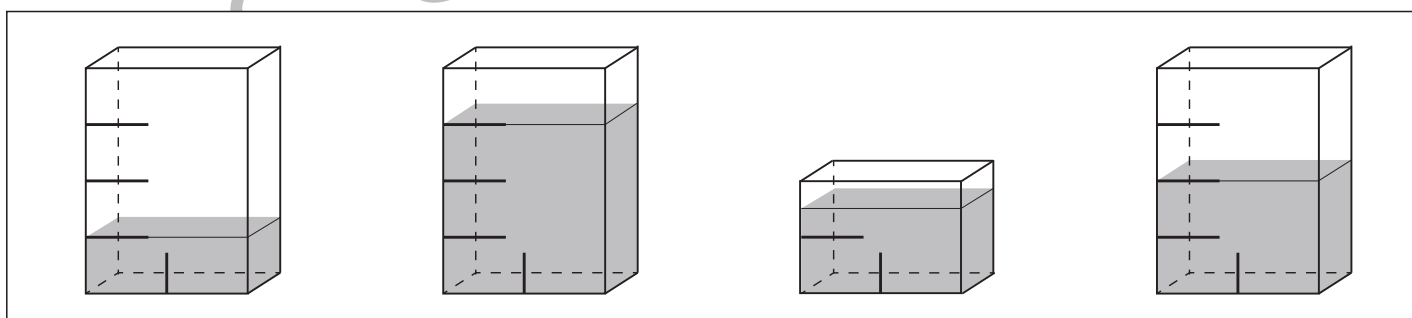
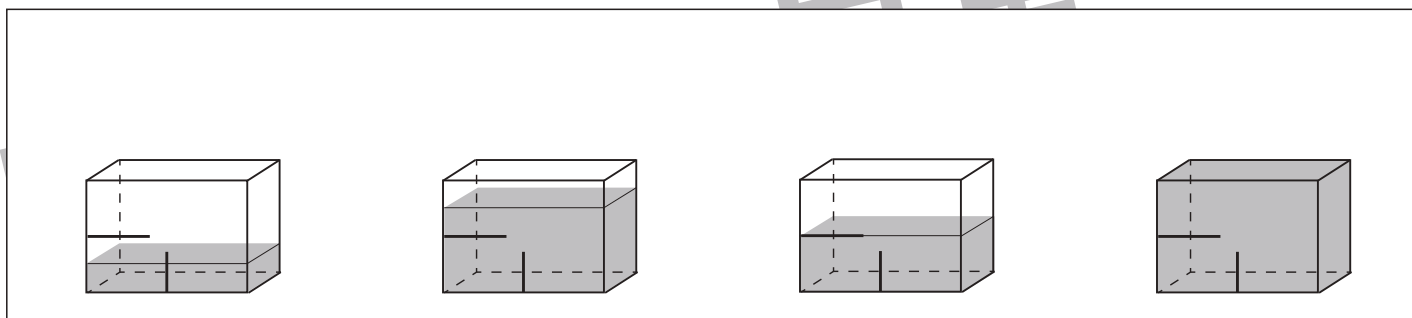
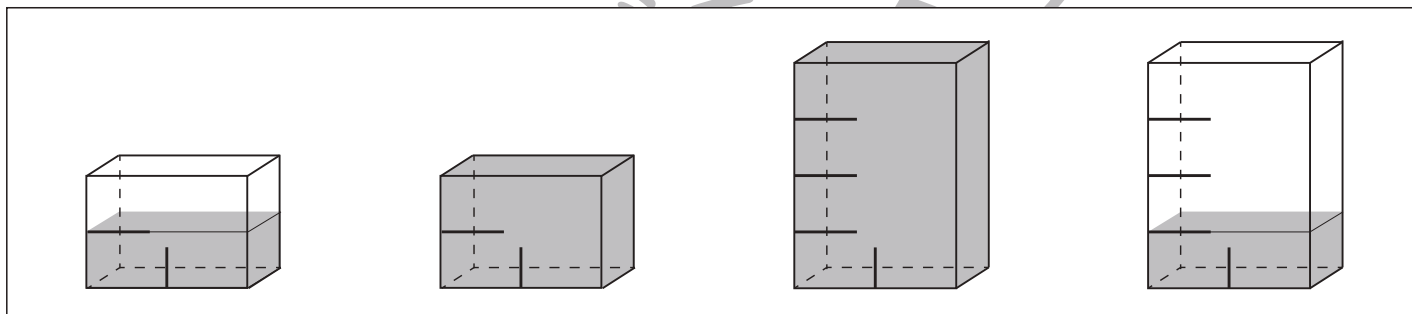
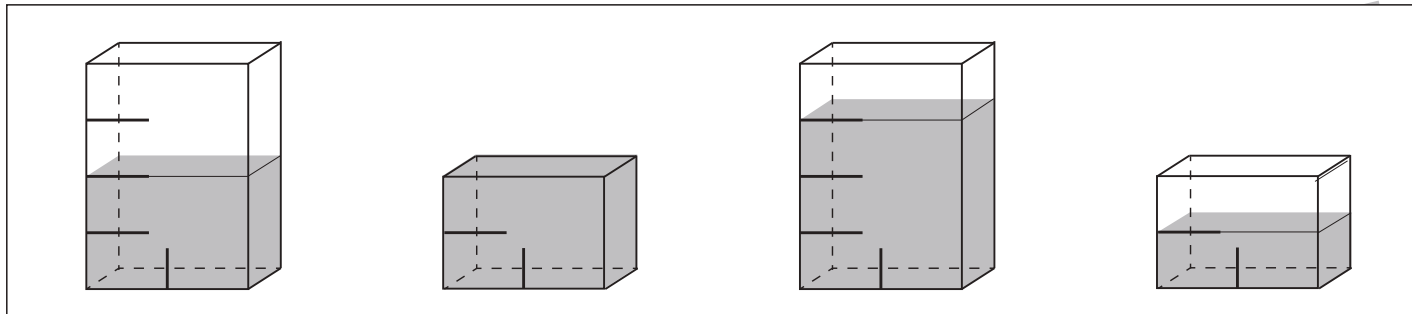


# おうちで、やろう。

Study at home. 小学校受験の家庭学習教材

## 推理：水量 4

それぞれの四角の中の容器には水が入っています。  
4つの容器の中で水の量が1番多いものに○をつけます。



※1. このプリントは、しながわ・目黒こどもスクールのウェブサイトでダウンロードができます。無断複写・引用はご遠慮ください。  
 ※2. このプリントを活用したオンライン授業のスケジュールは、しながわ・目黒こどもスクールのウェブサイトでご確認ください。

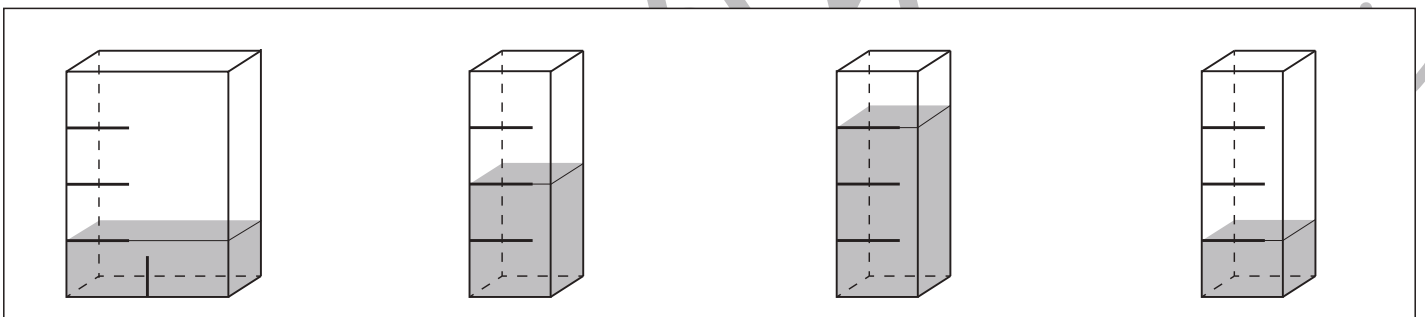
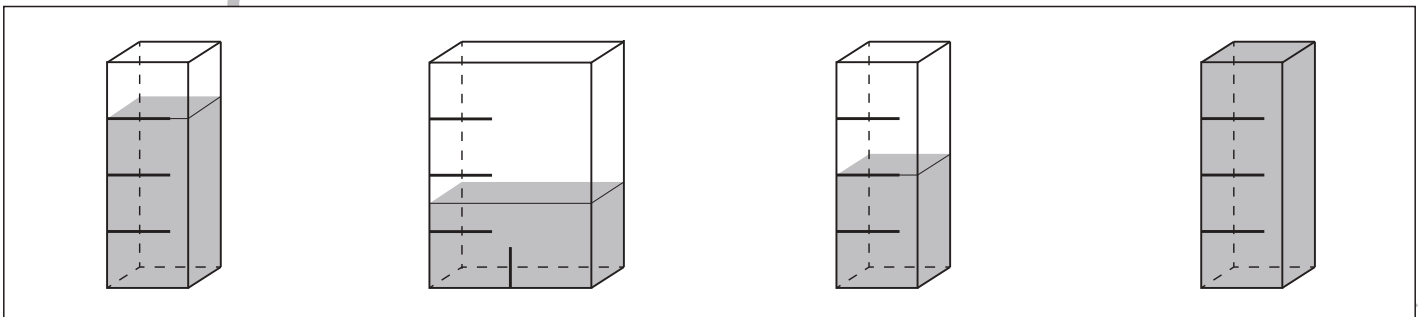
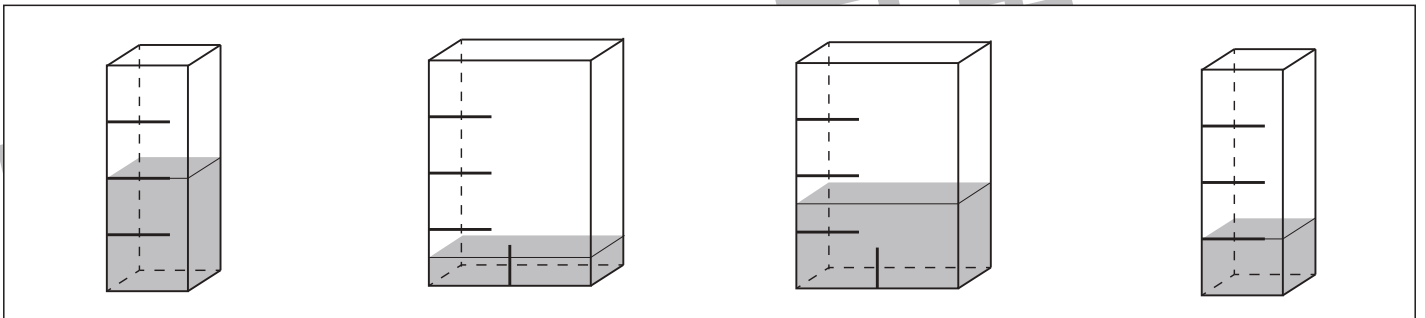
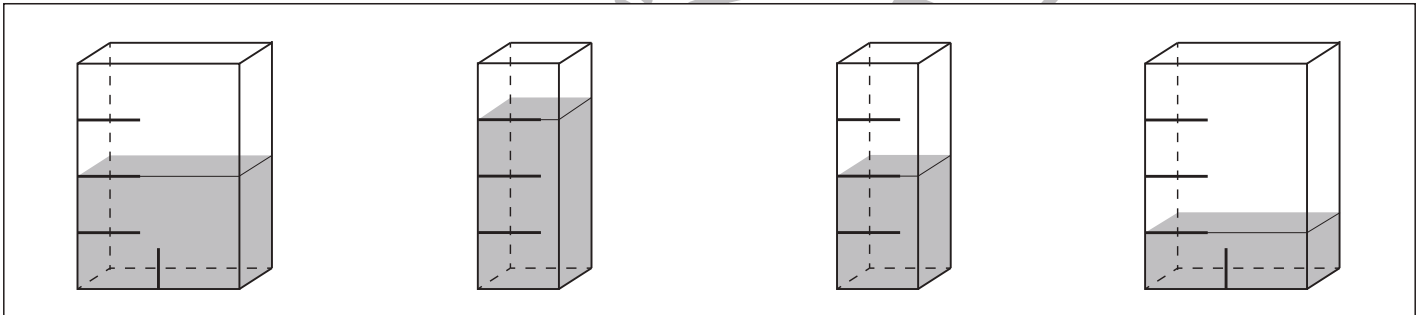
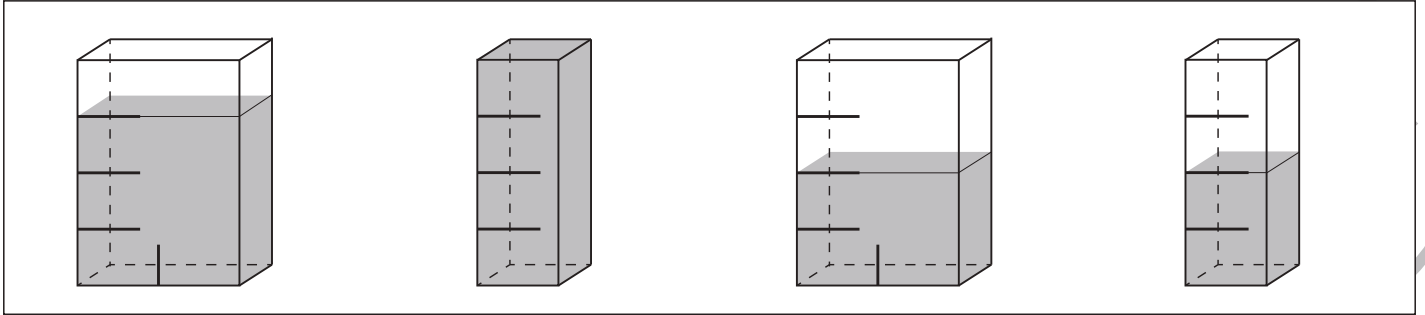


# おうちで、やろう。

Study at home. 小学校受験の家庭学習教材

## 推理：水量5

それぞれの四角の中の容器には水が入っています。  
4つの容器の中で水の量が1番多いものに○をつけます。



※1. このプリントは、しながわ・目黒こどもスクールのウェブサイトでダウンロードができます。無断複写・引用はご遠慮ください。  
 ※2. このプリントを活用したオンライン授業のスケジュールは、しながわ・目黒こどもスクールのウェブサイトでご確認ください。



# おうちで、やろう。

Study at home. 小学校受験の家庭学習教材

数量：複合1

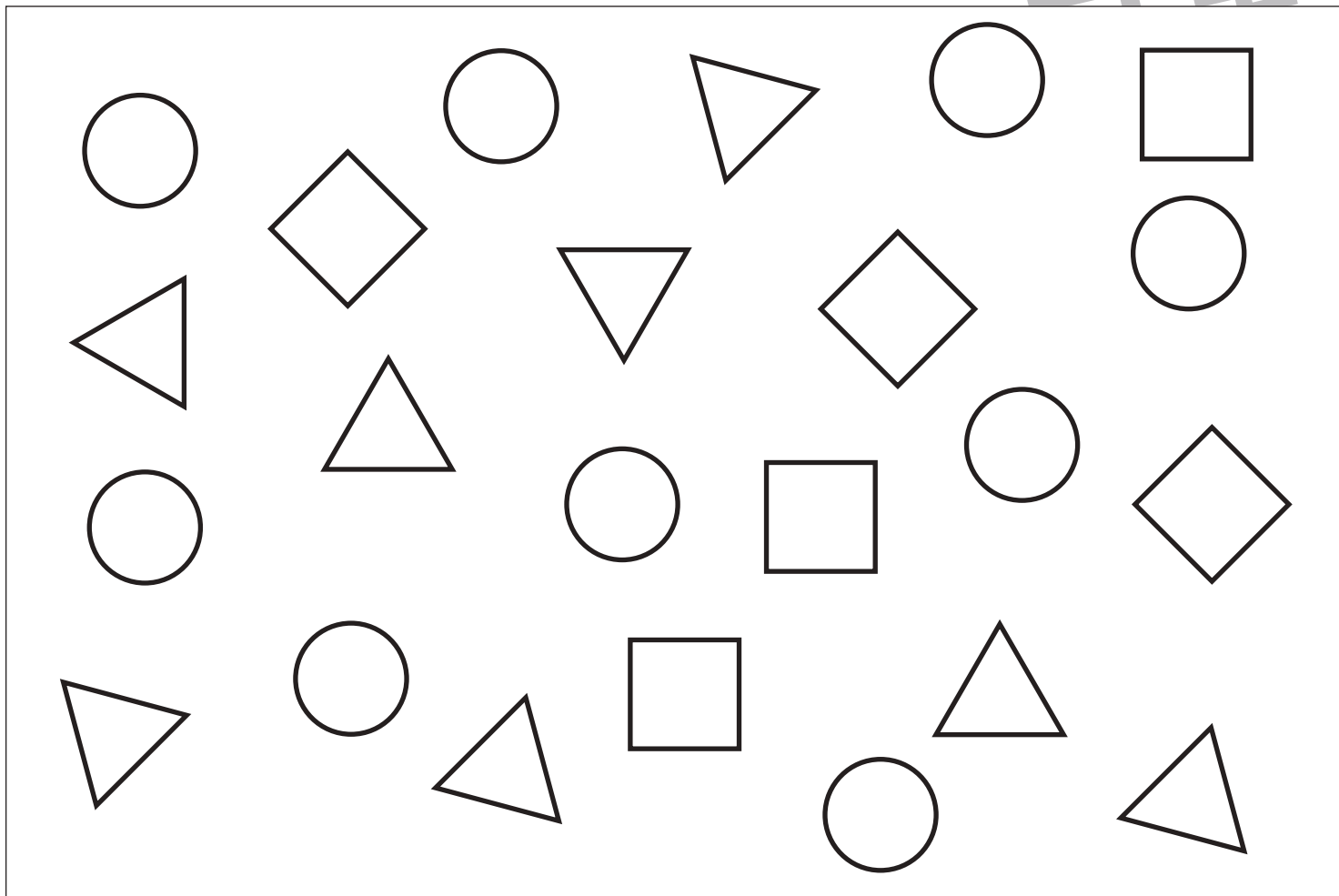
上の大きな四角を見て①～④の問題を聞いて取り組みます。

①○の数をかぞえてその数だけ○をかきます。

②△の数をかぞえてその数より2つ多い数だけ○をかきます。

③□の数をかぞえてその数より2つ少ない数だけ○をかきます。

④○と□の数の違いはいくつですか。その数だけ○をかきます。



①

②

③

④

※1. このプリントは、しながわ・目黒こどもスクールのウェブサイトでダウンロードができます。無断複写・引用はご遠慮ください。

※2. このプリントを活用したオンライン授業のスケジュールは、しながわ・目黒こどもスクールのウェブサイトでご確認ください。




# おうちで、やろう。

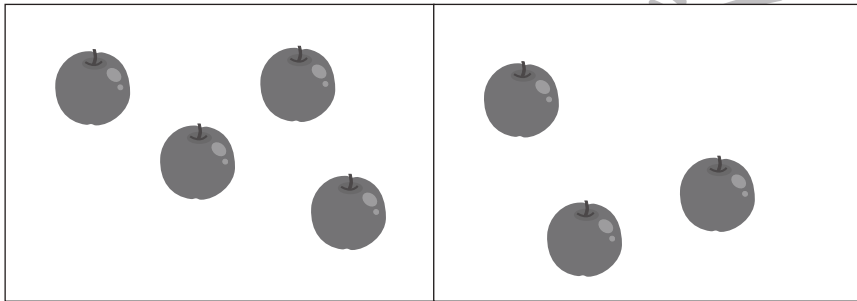

Study at home. 小学校受験の家庭学習教材

処理：加減1

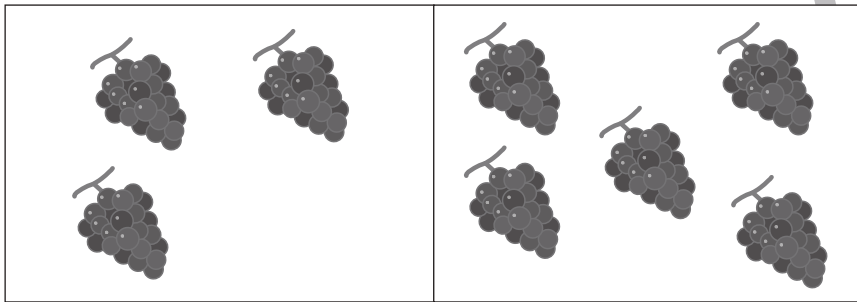

左の2つの四角の中の果物を合わせるといくつになりますか。その数だけ右の四角に〇をかきます。  
この問題はスピードを意識して取り組みます。(目安時間 1分～1分30秒)



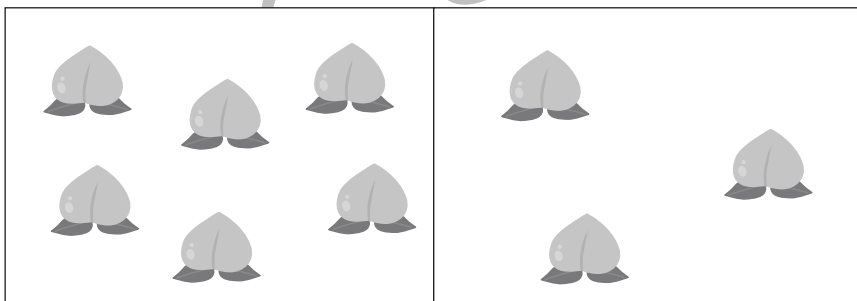

＝



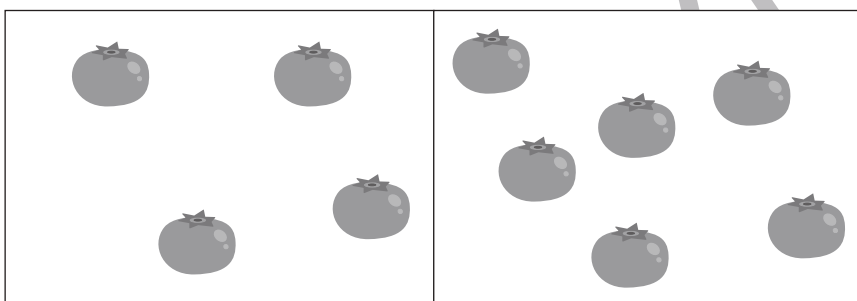
＝




＝



＝



＝



※1. このプリントは、しながわ・目黒こどもスクールのウェブサイトでダウンロードができます。無断複写・引用はご遠慮ください。  
※2. このプリントを活用したオンライン授業のスケジュールは、しながわ・目黒こどもスクールのウェブサイトでご確認ください。

