



おうちで、やろう。

Study at home. 小学校受験の家庭学習教材

図形：観察力 7

左の四角に、表が灰色で裏が白のカードを並べました。カードを何枚か裏返したら、右の四角のようになりました。白から灰色に変わったカードには○、灰色から白に変わったカードには×をつけます。印は右側につけましょう。

※1. このプリントは、しながわ・目黒こどもスクールのウェブサイトでダウンロードができます。無断複写・引用はご遠慮ください。
※2. このプリントを活用したオンライン授業のスケジュールは、しながわ・目黒こどもスクールのウェブサイトでご確認ください。





おうちで、やろう。

Study at home. 小学校受験の家庭学習教材

図形：観察力 8

左の四角に、表が灰色で裏が白のカードを並べました。カードを何枚か裏返したら、右の四角のようになりました。白から灰色に変わったカードには○、灰色から白に変わったカードには×をつけます。印は右側につけましょう。

※1. このプリントは、しながわ・目黒こどもスクールのウェブサイトでダウンロードができます。無断複写・引用はご遠慮ください。
 ※2. このプリントを活用したオンライン授業のスケジュールは、しながわ・目黒こどもスクールのウェブサイトでご確認ください。



おうちで、やろう。

Study at home. 小学校受験の家庭学習教材

図形：置き換え 4

上の四角の中がお手本の形です。このお手本の白い四角を○に置き換えます。
この約束で下の四角に○をかきます。間違えてしまった場合は一番下の四角にかきましょう。

※1. このプリントは、しながわ・目黒こどもスクールのウェブサイトからダウンロードできます。無断複写・引用はご遠慮ください。
※2. このプリントを活用したオンライン授業のスケジュールは、しながわ・目黒こどもスクールのウェブサイトでご確認ください。



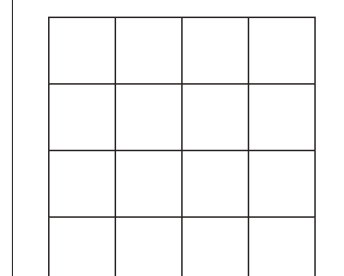
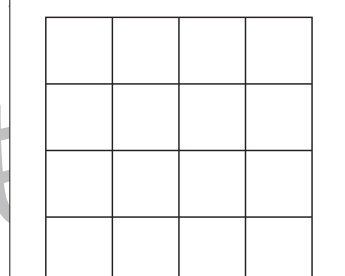
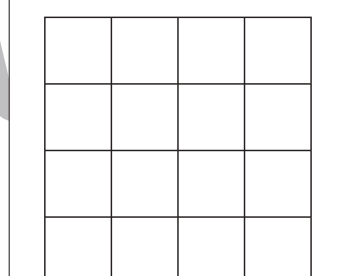
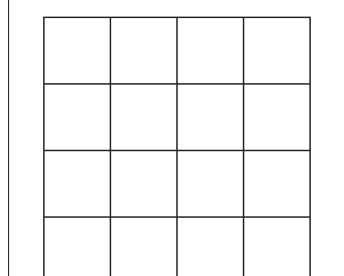
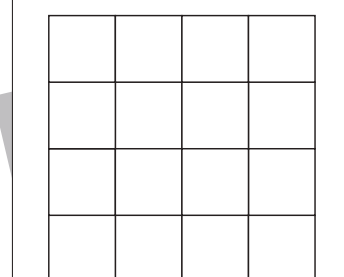
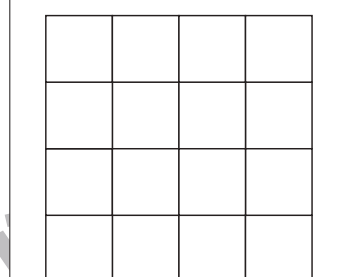
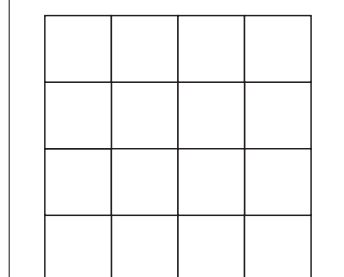
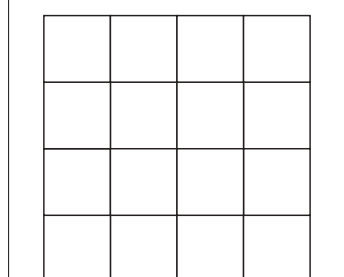




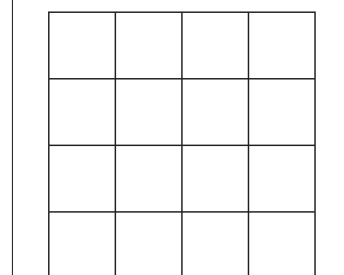
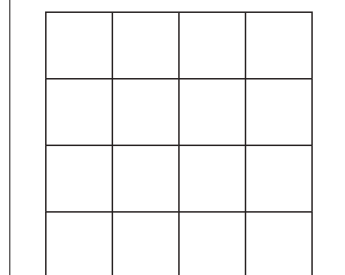
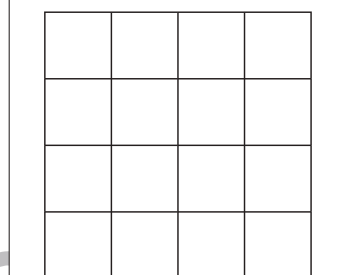
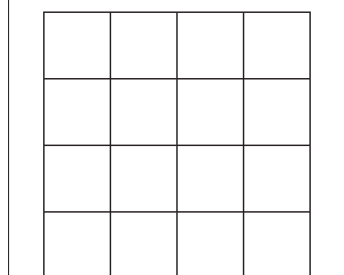
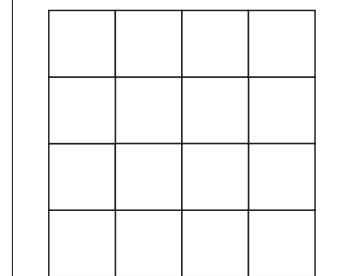
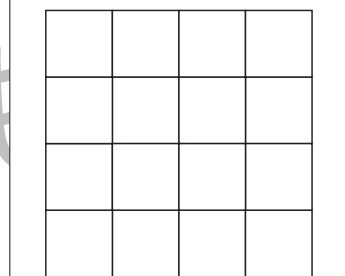
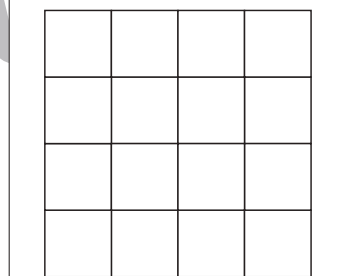





おうちで、やろう。

Study at home. 小学校受験の家庭学習教材

図形：置き換え5

上の四角の中がお手本の形です。このお手本の白い四角を○に置き換えます。

この約束で下の四角に○をかきます。間違えてしまった場合は一番下の四角にかきましょう。



※1. このプリントは、しながわ・目黒こどもスクールのウェブサイトでダウンロードができます。無断複写・引用はご遠慮ください。

※2. このプリントを活用したオンライン授業のスケジュールは、しながわ・目黒こどもスクールのウェブサイトでご確認ください。





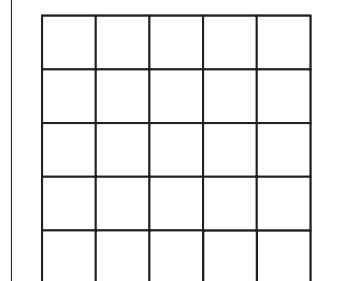
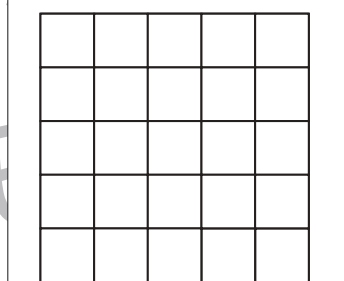
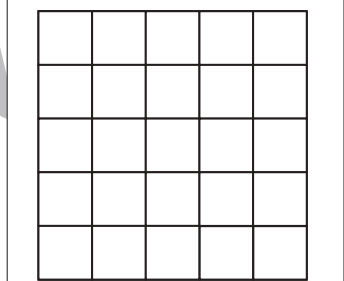
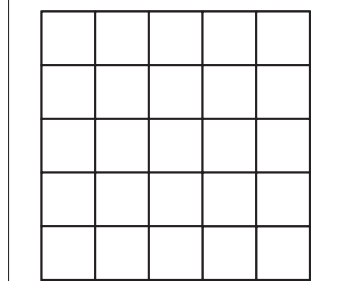
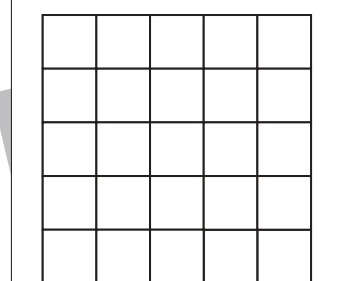
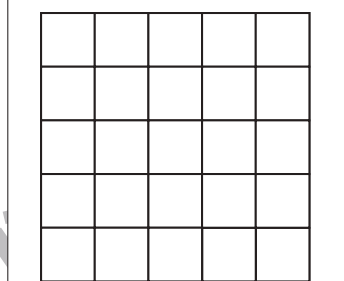
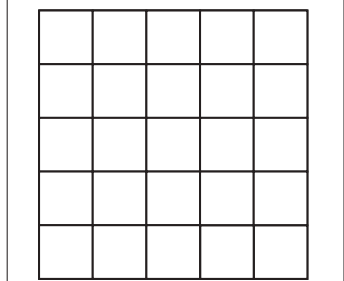
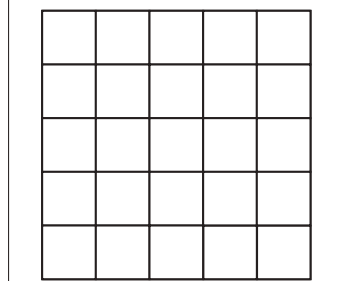




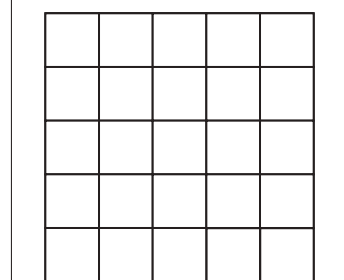
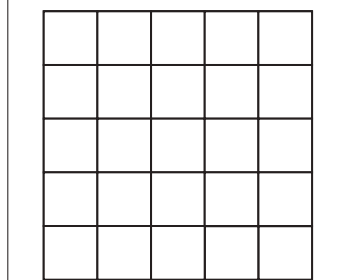
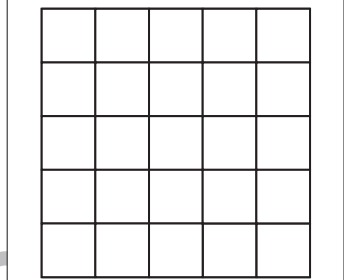
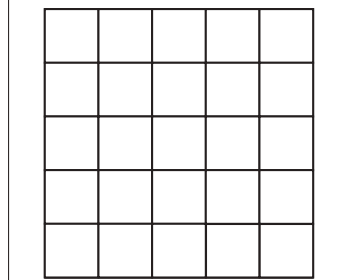
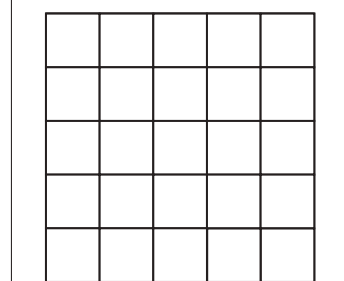
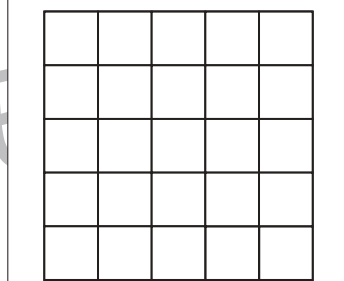
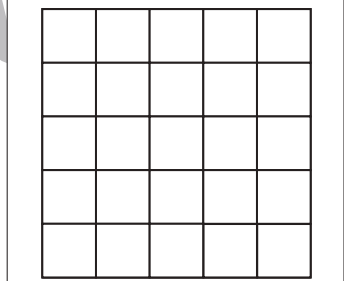
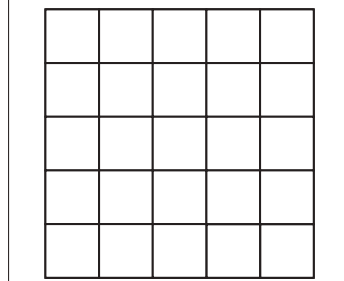




おうちで、やろう。

Study at home. 小学校受験の家庭学習教材

図形：置き換え 6

上の四角の中がお手本の形です。このお手本の白い四角を○に置き換えます。

この約束で下の四角に○をかきます。間違えてしまった場合は一番下の四角にかきましょう。



※1. このプリントは、しながわ・目黒こどもスクールのウェブサイトからダウンロードできます。無断複写・引用はご遠慮ください。

※2. このプリントを活用したオンライン授業のスケジュールは、しながわ・目黒こどもスクールのウェブサイトでご確認ください。



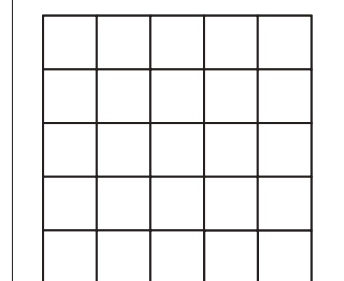
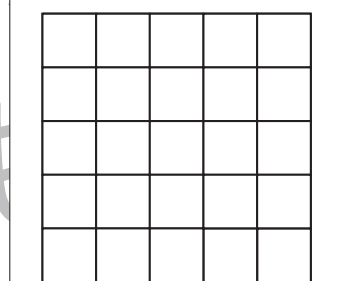
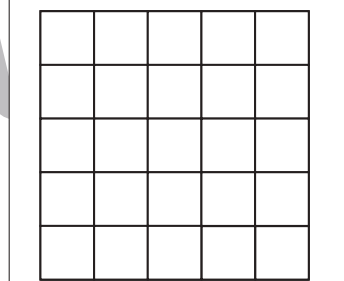
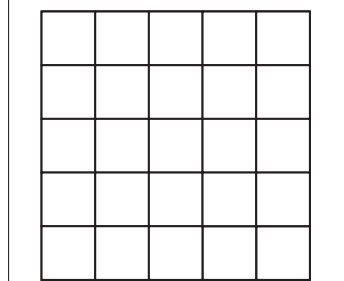
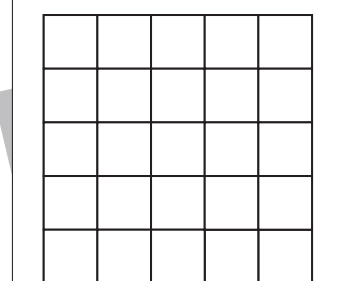
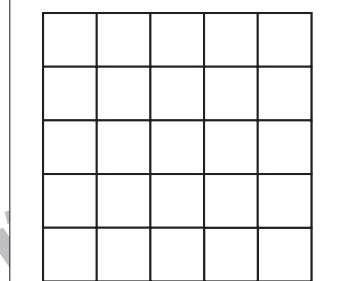
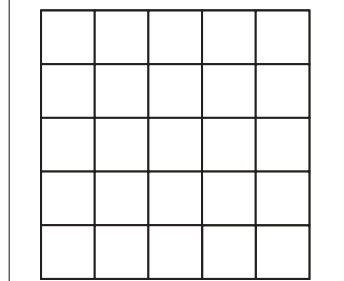
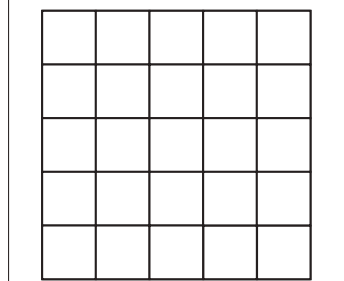




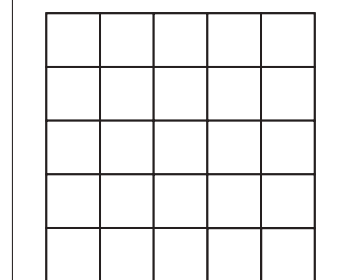
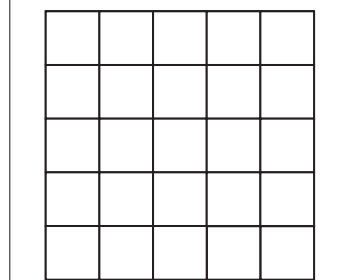
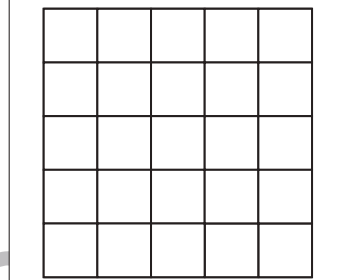
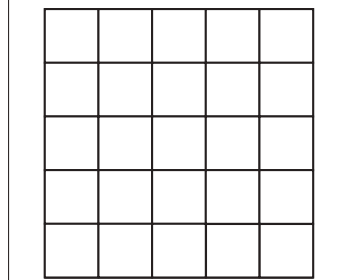
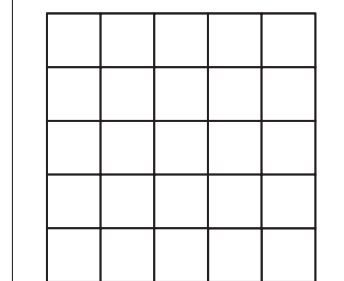
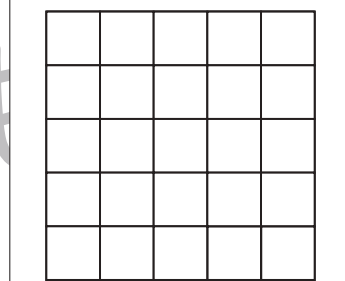
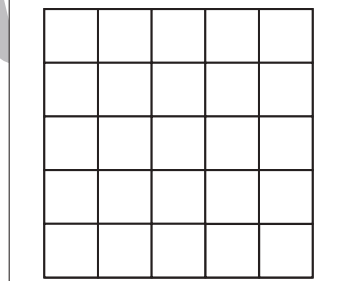
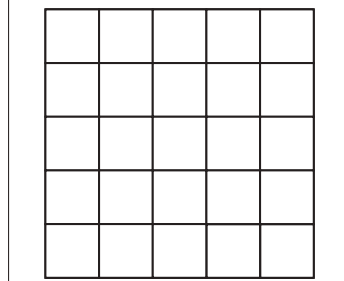
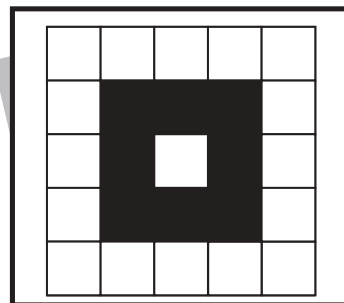



おうちで、やろう。

Study at home. 小学校受験の家庭学習教材

図形：置き換え 7

上の四角の中がお手本の形です。このお手本の白い四角を○に置き換えます。

この約束で下の四角に○をかきます。間違えてしまった場合は一番下の四角にかきましょう。



※1. このプリントは、しながわ・目黒こどもスクールのウェブサイトからダウンロードできます。無断複写・引用はご遠慮ください。

※2. このプリントを活用したオンライン授業のスケジュールは、しながわ・目黒こどもスクールのウェブサイトでご確認ください。



おうちで、やろう。

Study at home. 小学校受験の家庭学習教材

図形：点図形 26

左のお手本と同じになるように右の四角に足りない線をかきます。 ※このプリントに解答はありません。

※1. このプリントは、しながわ・目黒こどもスクールのウェブサイトでダウンロードができます。無断複写・引用はご遠慮ください。
 ※2. このプリントを活用したオンライン授業のスケジュールは、しながわ・目黒こどもスクールのウェブサイトでご確認ください。

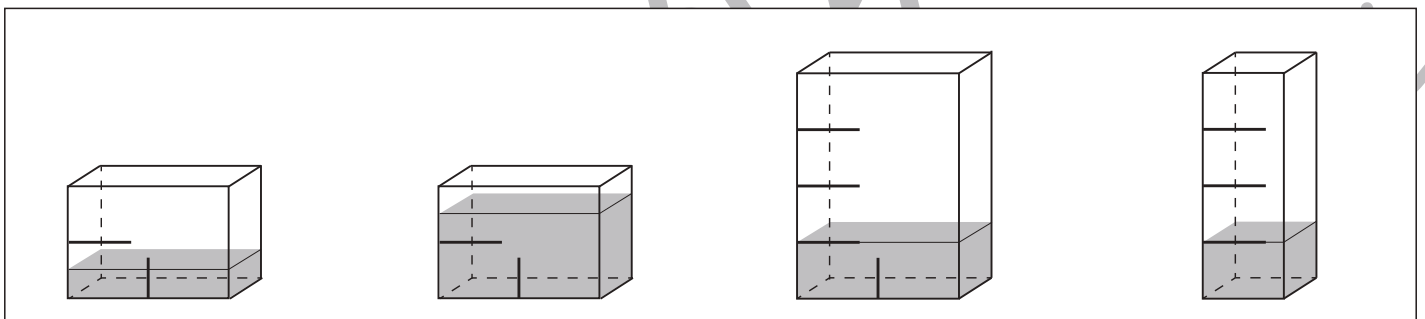
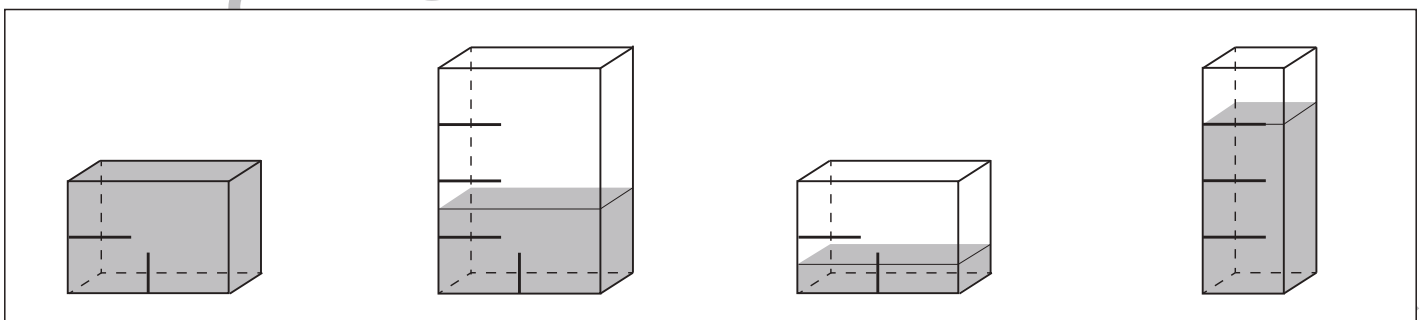
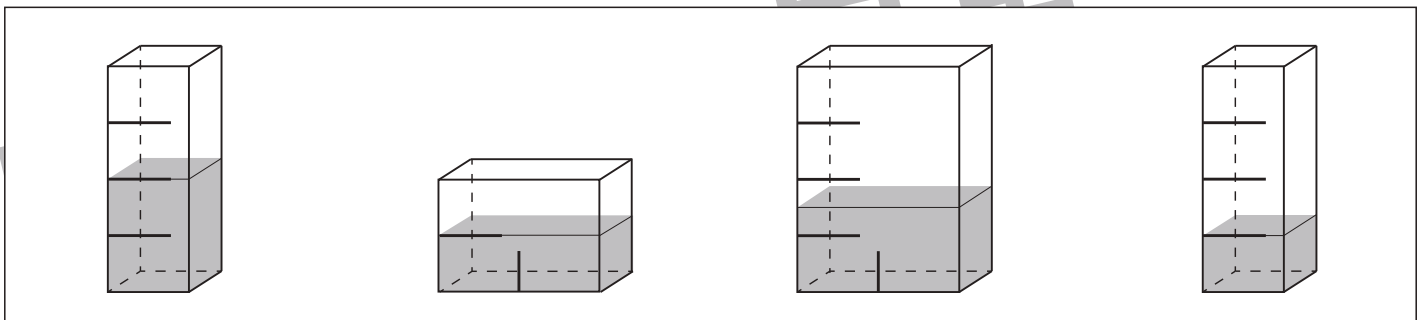
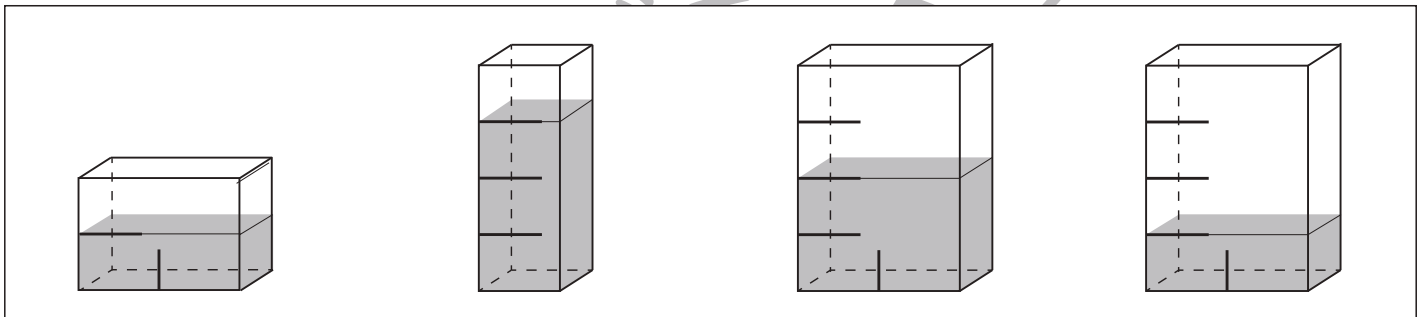
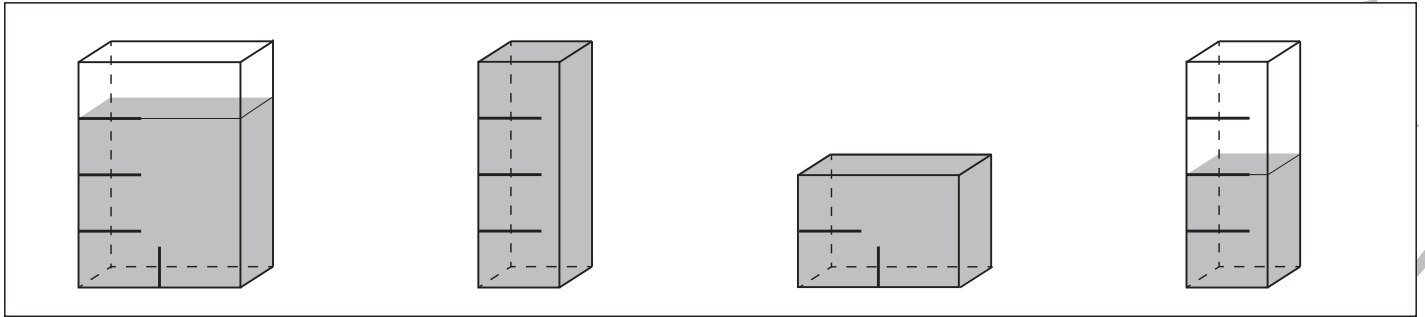


おうちで、やろう。

Study at home. 小学校受験の家庭学習教材

推理：水量6

それぞれの四角の中の容器には水が入っています。
4つの容器の中で水の量が同じもの2つに○をつけます。



※1. このプリントは、しながわ・目黒こどもスクールのウェブサイトからダウンロードできます。無断複写・引用はご遠慮ください。
※2. このプリントを活用したオンライン授業のスケジュールは、しながわ・目黒こどもスクールのウェブサイトでご確認ください。



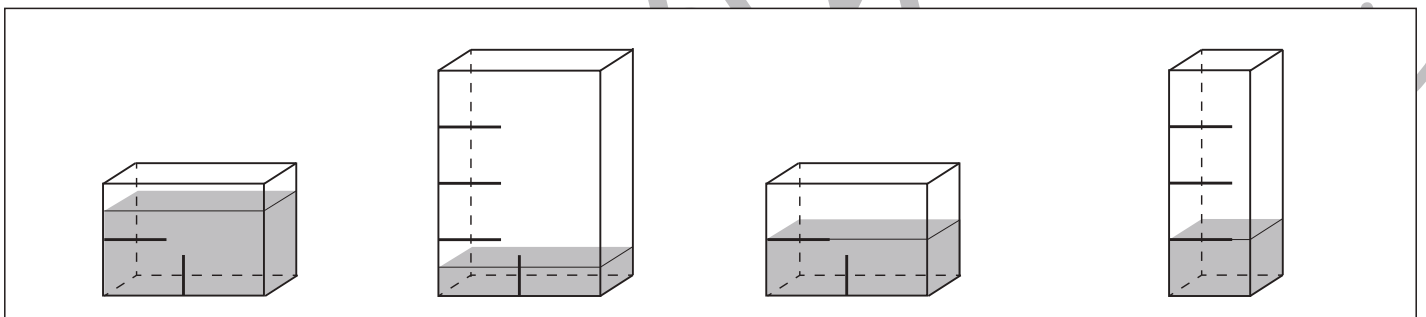
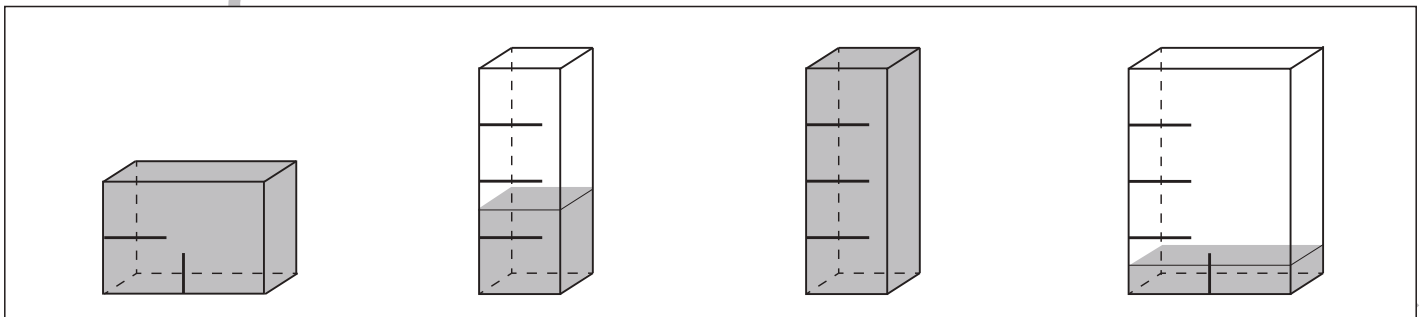
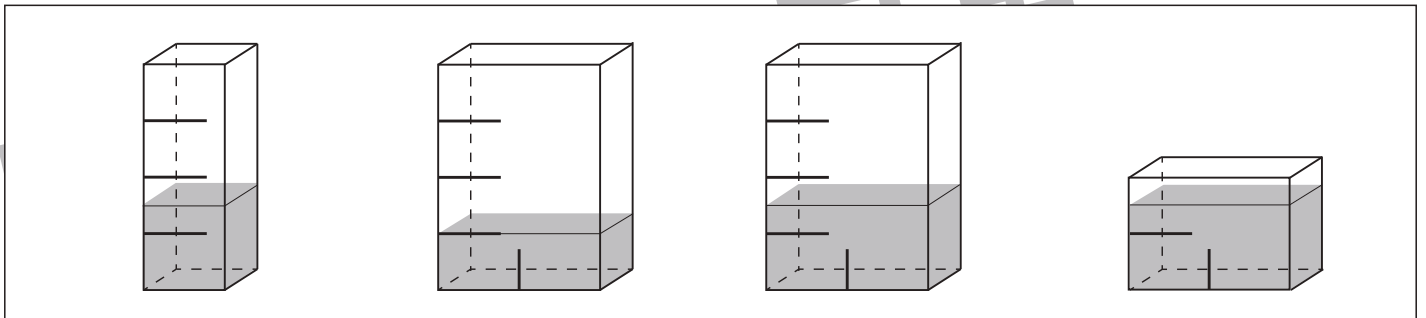
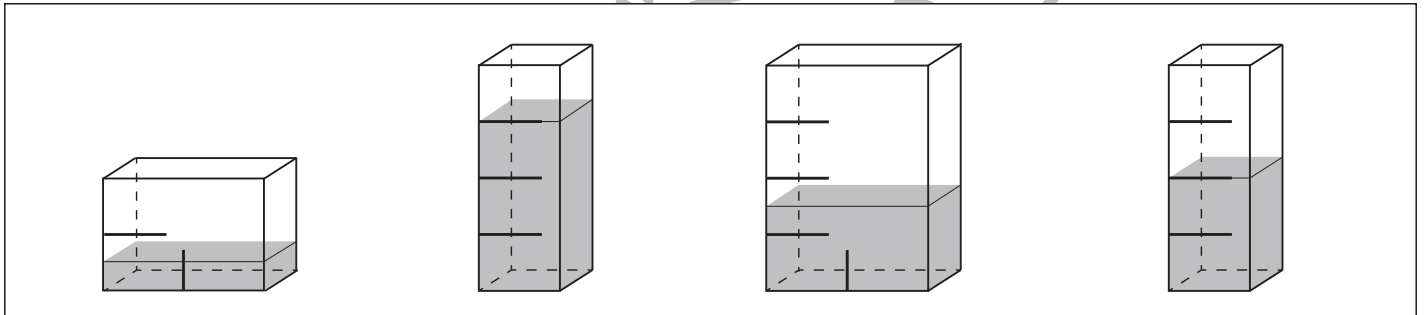
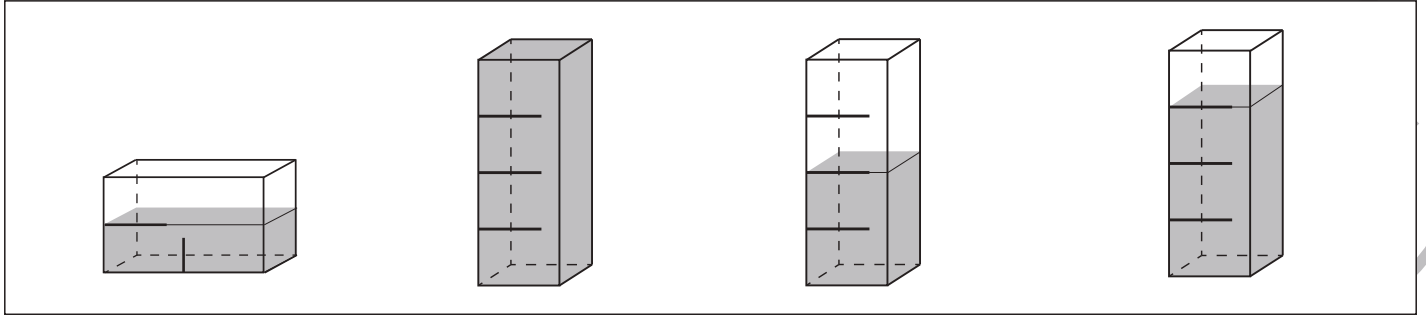


おうちで、やろう。

Study at home. 小学校受験の家庭学習教材

推理：水量 7

それぞれの四角の中の容器には水が入っています。
4つの容器の中で水の量が同じもの2つに○をつけます。



※1. このプリントは、しながわ・目黒こどもスクールのウェブサイトでダウンロードができます。無断複写・引用はご遠慮ください。
 ※2. このプリントを活用したオンライン授業のスケジュールは、しながわ・目黒こどもスクールのウェブサイトでご確認ください。

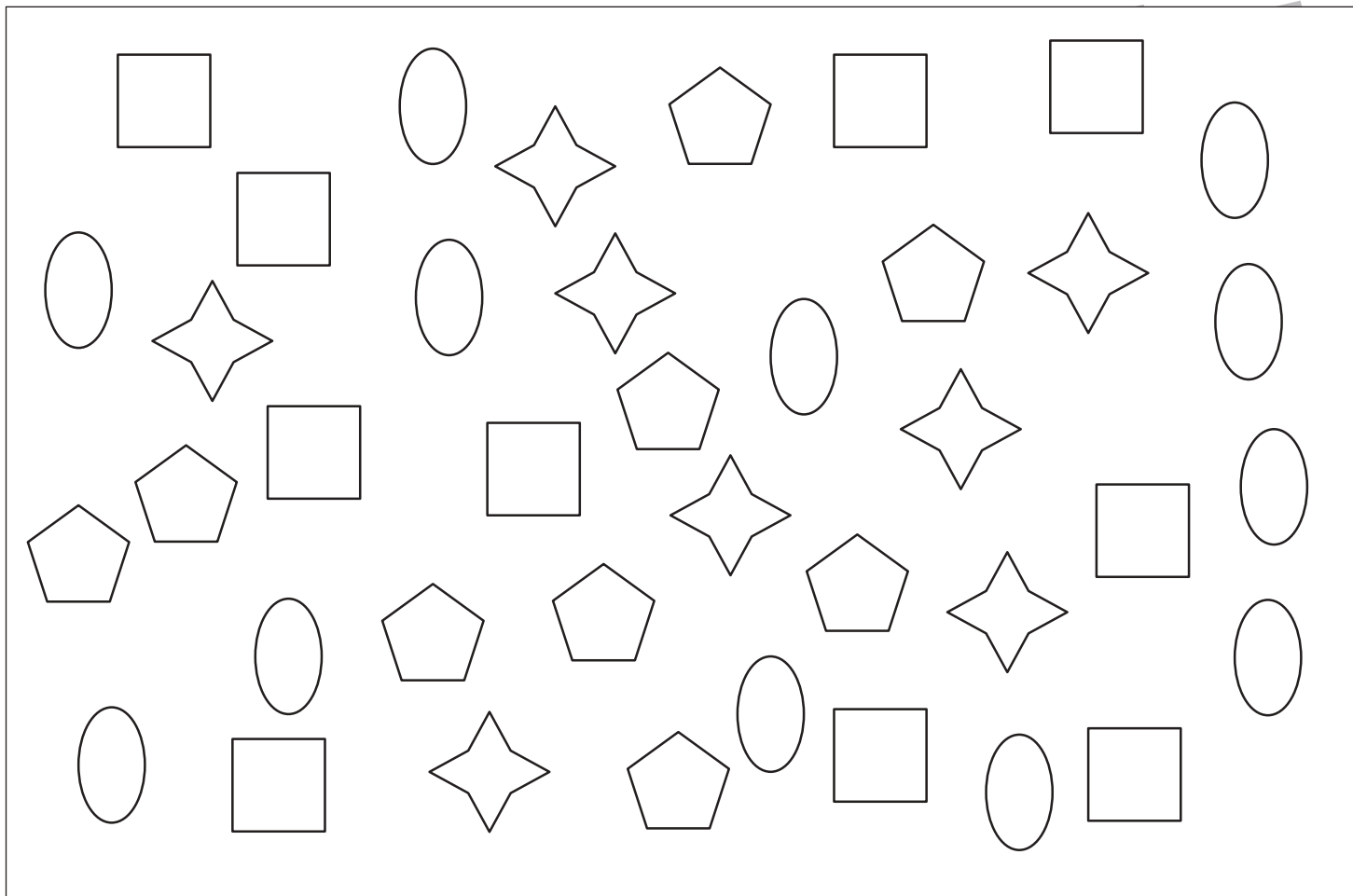


おうちで、やろう。

Study at home. 小学校受験の家庭学習教材

処理：計数6

上の四角の中の絵の数をかぞえて、下の四角の同じ絵の右にその数だけ〇をかきます。
この問題はスピードを意識して取り組む練習をしてみましょう。(1分～1分30秒)



※1. このプリントは、しながわ・目黒こどもスクールのウェブサイトでダウンロードができます。無断複写・引用はご遠慮ください。
※2. このプリントを活用したオンライン授業のスケジュールは、しながわ・目黒こどもスクールのウェブサイトでご確認ください。