



おうちで、やろう。

Study at home. 小学校受験の家庭学習教材


記憶：絵の記憶4 記憶用紙

別紙『記憶 - 絵の記憶4』を行う際に使用します。記憶用紙は真ん中の点線で半分に折り、①、②、③の問題の際にそれぞれ20秒間ずつ記憶させてください。記憶する際は問題用紙は裏返しにします。


①数が一番多いものに○をつけます。 ②数が一番少ないものに○をつけます。 ③同じ数のもの2つに○をつけます。

※2022年2月10日(木)のオンライン授業では実施中に記憶する絵を画面で表示します。


①



②



③



※1. このプリントは、しながわ・目黒こどもスクールのウェブサイトでダウンロードができます。無断複写・引用はご遠慮ください。

※2. このプリントを活用したオンライン授業のスケジュールは、しながわ・目黒こどもスクールのウェブサイトでご確認ください。





おうちで、やろう。

Study at home. 小学校受験の家庭学習教材


記憶：絵の記憶4

別紙『記憶 - 絵の記憶4 (記憶用紙)』で①～③それぞれ 20 秒間記憶してから取り組みます。記憶している間は問題用紙を裏返しにしましょう。


①数が一番多いものに○をつけます。 ②数が一番少ないものに○をつけます。 ③同じ数のもの2つに○をつけます。

※2022年2月10日(木)のオンライン授業では実施中に記憶する絵を画面で表示します。


①



②



③



※1. このプリントは、しながわ・目黒こどもスクールのウェブサイトからダウンロードできます。無断複写・引用はご遠慮ください。

※2. このプリントを活用したオンライン授業のスケジュールは、しながわ・目黒こどもスクールのウェブサイトでご確認ください。



おうちで、やろう。

Study at home. 小学校受験の家庭学習教材

図形：折り重ね 15

左の四角を真ん中の太い線で矢印の方向へ折り重ねたとき、隠れずに見えている○を右の四角にかきます。

※1. このプリントは、しながわ・目黒こどもスクールのウェブサイトからダウンロードできます。無断複写・引用はご遠慮ください。
 ※2. このプリントを活用したオンライン授業のスケジュールは、しながわ・目黒こどもスクールのウェブサイトでご確認ください。



おうちで、やろう。

Study at home. 小学校受験の家庭学習教材

図形：折り重ね 16

左の四角を真ん中の太い線で矢印の方向へ折り重ねたとき、隠れずに見えている○を右の四角にかきます。

※1. このプリントは、しながわ・目黒こどもスクールのウェブサイトでダウンロードができます。無断複写・引用はご遠慮ください。

※2. このプリントを活用したオンライン授業のスケジュールは、しながわ・目黒こどもスクールのウェブサイトでご確認ください。



おうちで、やろう。

Study at home. 小学校受験の家庭学習教材

図形：折り重ね 17

左の四角を真ん中の太い線で矢印の方向へ折り重ねたとき、隠れずに見えている○を右の四角にかきます。

Figure 17: A 6x2 grid of 12 square puzzles. Each puzzle consists of a 3x3 grid on the left and a 3x3 grid on the right. A vertical line is drawn between the two grids, with an arrow pointing from the left grid to the right grid. The left grid contains a pattern of black squares and white circles. The right grid is empty. The goal is to fold the left grid over the right grid and place the visible circles onto the right grid.

□	□	■	○	○	○	□	□	□
□	■	□	○	○	○	□	□	□
■	□	■	○	○	○	□	□	□

□	■	□	○	○	○	□	□	□
□	□	■	○	○	○	□	□	□
□	■	□	○	○	○	□	□	□

■	□	□	○	○	○	□	□	□
□	■	□	○	○	○	□	□	□
□	□	■	○	○	○	□	□	□

□	■	□	○	○	○	□	□	□
■	□	□	○	○	○	□	□	□
□	□	■	○	○	○	□	□	□

■	□	■	○	○	○	□	□	□
□	■	□	○	○	○	□	□	□
□	□	■	○	○	○	□	□	□

□	■	□	○	○	○	□	□	□
■	□	□	○	○	○	□	□	□
□	□	■	○	○	○	□	□	□

※1. このプリントは、しながわ・目黒こどもスクールのウェブサイトでダウンロードができます。無断複写・引用はご遠慮ください。

※2. このプリントを活用したオンライン授業のスケジュールは、しながわ・目黒こどもスクールのウェブサイトでご確認ください。


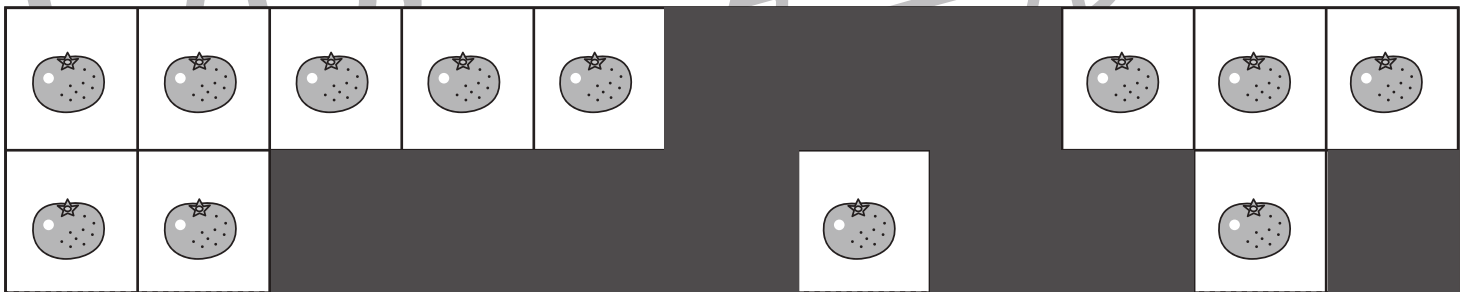

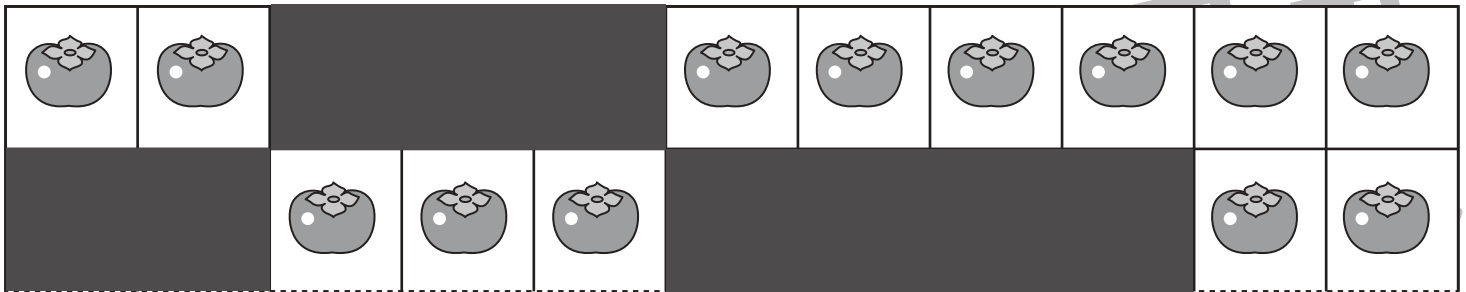


おうちで、やろう。

Study at home. 小学校受験の家庭学習教材

推理：隠れた絵1

左のスケッチブックに描かれている絵は、たてもよこも一列にきれいに並んでいます。ところが、黒い模様でいくつか隠れてしまいました。隠れてしまっている絵がいくつあるかを考えて、点線下の四角にその数だけ〇をつけましょう。



※1. このプリントは、しながわ・目黒こどもスクールのウェブサイトダウンロードができます。無断複写・引用はご遠慮ください。
 ※2. このプリントを活用したオンライン授業のスケジュールは、しながわ・目黒こどもスクールのウェブサイトでご確認ください。







おうちで、やろう。

Study at home. 小学校受験の家庭学習教材

推理：隠れた絵2

左のスケッチブックに描かれている絵は、ある約束で並んでいます。ところが、黒い模様でいくつか隠れてしまいました。下の四角にある絵が隠れてしまっている絵がいくつあるかを考えて、その数だけ矢印の右に○をかきます。



※1. このプリントは、しながわ・目黒こどもスクールのウェブサイトダウンロードできます。無断複写・引用はご遠慮ください。

※2. このプリントを活用したオンライン授業のスケジュールは、しながわ・目黒こどもスクールのウェブサイトでご確認ください。






おうちで、やろう。

Study at home. 小学校受験の家庭学習教材

推理：隠れた絵3

左のスケッチブックに描かれている絵は、ある約束で並んでいます。ところが、黒い模様でいくつか隠れてしまいました。下の四角にある絵が隠れてしまっている絵がいくつあるかを考えて、その数だけ矢印の右に○をかきます。



※1. このプリントは、しながわ・目黒こどもスクールのウェブサイトからダウンロードできます。無断複写・引用はご遠慮ください。
 ※2. このプリントを活用したオンライン授業のスケジュールは、しながわ・目黒こどもスクールのウェブサイトでご確認ください。












おうちで、やろう。







Study at home. 小学校受験の家庭学習教材



数量：条件推理 1








うさぎが道を歩いています。歩いている途中に大きな木や、おうちが立っています。道の途中の大きな木は2個リンゴが採れます。途中のおうちにはうさぎのお友達が住んでいて1個リンゴをお友達にあげます。最後にうさぎが持っているリンゴの数を考えて下の四角に○をつけます。

※1. このプリントは、しながわ・目黒こどもスクールのウェブサイトでダウンロードができます。無断複写・引用はご遠慮ください。

※2. このプリントを活用したオンライン授業のスケジュールは、しながわ・目黒こどもスクールのウェブサイトでご確認ください。









おうちで、やろう。







Study at home. 小学校受験の家庭学習教材








数量：条件推理 2










うさぎが道を歩いています。歩いている途中に木や、おうちが立っています。道の途中の大きな木は2個リンゴが採れ、小さな木からは1個リンゴが採れます。途中のおうちにはうさぎのお友達が住んでいて2個リンゴをお友達にあげます。最後にうさぎが持っているリンゴの数を考えて下の四角に○をつけます。

※1. このプリントは、しながわ・目黒こどもスクールのウェブサイトでダウンロードができます。無断複写・引用はご遠慮ください。

※2. このプリントを活用したオンライン授業のスケジュールは、しながわ・目黒こどもスクールのウェブサイトでご確認ください。



おうちで、やろう。

Study at home. 小学校受験の家庭学習教材

図形：点図形 27

左のお手本と同じになるように右の四角に足りない線をかきます。 ※このプリントに解答はありません。

※1. このプリントは、しながわ・目黒こどもスクールのウェブサイトからダウンロードできます。無断複写・引用はご遠慮ください。
 ※2. このプリントを活用したオンライン授業のスケジュールは、しながわ・目黒こどもスクールのウェブサイトでご確認ください。