



# おうちで、やろう。

Study at home. 小学校受験の家庭学習教材


## 記憶：絵の記憶4

別紙『記憶 - 絵の記憶4 (記憶用紙)』で①～③それぞれ 20 秒間記憶してから取り組みます。記憶している間は問題用紙を裏返しにしましょう。


①数が一番多いものに○をつけます。 ②数が一番少ないものに○をつけます。 ③同じ数のもの2つに○をつけます。

※2022年2月10日(木)のオンライン授業では実施中に記憶する絵を画面で表示します。


①



②



③



※1. このプリントは、しながわ・目黒こどもスクールのウェブサイトからダウンロードできます。無断複写・引用はご遠慮ください。

※2. このプリントを活用したオンライン授業のスケジュールは、しながわ・目黒こどもスクールのウェブサイトでご確認ください。



# おうちで、やろう。

Study at home. 小学校受験の家庭学習教材

## 図形：折り重ね 15

左の四角を真ん中の太い線で矢印の方向へ折り重ねたとき、隠れずに見えている○を右の四角にかきます。

The puzzles are arranged in two columns and six rows. Each puzzle shows a 2x4 grid of squares. A vertical line is drawn between the second and third columns. An arrow points to the right from this line. The left two columns are shaded black in various patterns. The right two columns contain circles in various positions. The goal is to determine which circles remain visible after the left side is folded over the right side.

※1. このプリントは、しながわ・目黒こどもスクールのウェブサイトからダウンロードできます。無断複写・引用はご遠慮ください。

※2. このプリントを活用したオンライン授業のスケジュールは、しながわ・目黒こどもスクールのウェブサイトでご確認ください。



# おうちで、やろう。

Study at home. 小学校受験の家庭学習教材

## 図形：折り重ね 16

左の四角を真ん中の太い線で矢印の方向へ折り重ねたとき、隠れずに見えている○を右の四角にかきます。

※1. このプリントは、しながわ・目黒こどもスクールのウェブサイトからダウンロードできます。無断複写・引用はご遠慮ください。

※2. このプリントを活用したオンライン授業のスケジュールは、しながわ・目黒こどもスクールのウェブサイトでご確認ください。



# おうちで、よろう。

Study at home. 小学校受験の家庭学習教材

## 図形：折り重ね 17

左の四角を真ん中の太い線で矢印の方向へ折り重ねたとき、隠れずに見えている○を右の四角にかきます。

The image contains 12 pairs of 3x3 grids. Each pair consists of a starting grid on the left and a resulting grid on the right. A vertical line and an arrow pointing to the right are positioned between the two grids, indicating a fold. The starting grids have various patterns of black squares and white circles. The resulting grids show the circles that remain visible after the left side is folded over the right side.

※1. このプリントは、しながわ・目黒こどもスクールのウェブサイトからダウンロードできます。無断複写・引用はご遠慮ください。

※2. このプリントを活用したオンライン授業のスケジュールは、しながわ・目黒こどもスクールのウェブサイトでご確認ください。

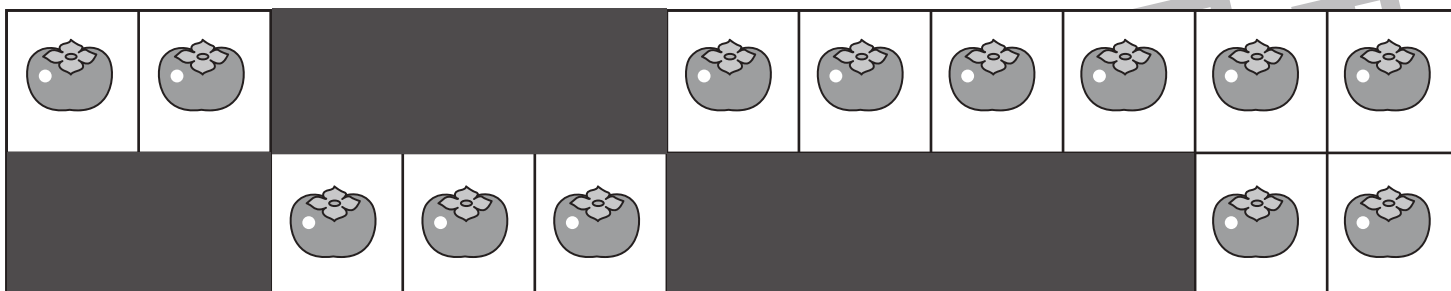


# おうちで、やろう。


Study at home. 小学校受験の家庭学習教材

## 推理：隠れた絵1

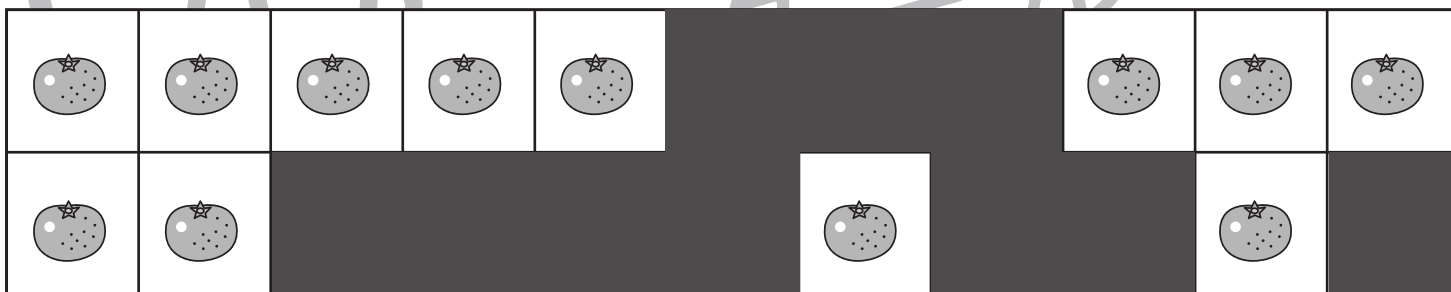
左のスケッチブックに描かれている絵は、たてもよこも一列にきれいに並んでいます。ところが、黒い模様でいくつか隠れてしまいました。隠れてしまっている絵がいくつあるかを考えて、点線下の四角にその数だけ〇をつけましょう。



→                      ○ × 9



→                      ○ × 10



→                      ○ × 10



→                      ○ × 10

※1. このプリントは、しながわ・目黒こどもスクールのウェブサイトでダウンロードができます。無断複写・引用はご遠慮ください。  
 ※2. このプリントを活用したオンライン授業のスケジュールは、しながわ・目黒こどもスクールのウェブサイトでご確認ください。




# おうちで、やろう。


Study at home. 小学校受験の家庭学習教材

## 推理：隠れた絵2


左のスケッチブックに描かれている絵は、ある約束で並んでいます。ところが、黒い模様でいくつか隠れてしまいました。下の四角にある絵が隠れてしまっている絵がいくつあるかを考えて、その数だけ矢印の右に○をかきます。




○ × 4



○ × 4



○ × 4



○ × 6

※1. このプリントは、しながわ・目黒こどもスクールのウェブサイトダウンロードできます。無断複写・引用はご遠慮ください。

※2. このプリントを活用したオンライン授業のスケジュールは、しながわ・目黒こどもスクールのウェブサイトでご確認ください。




# おうちで、やろう。


Study at home. 小学校受験の家庭学習教材

## 推理：隠れた絵3


左のスケッチブックに描かれている絵は、ある約束で並んでいます。ところが、黒い模様でいくつか隠れてしまいました。下の四角にある絵が隠れてしまっている絵がいくつあるかを考えて、その数だけ矢印の右に○をかきます。




→ ○ × 3



→ ○ × 4



→ ○ × 4



→ ○ × 4

※1. このプリントは、しながわ・目黒こどもスクールのウェブサイトでダウンロードができます。無断複写・引用はご遠慮ください。  
 ※2. このプリントを活用したオンライン授業のスケジュールは、しながわ・目黒こどもスクールのウェブサイトでご確認ください。












# おうちで、やろう。







Study at home. 小学校受験の家庭学習教材






数量：条件推理 1








うさぎが道を歩いています。歩いている途中に大きな木や、おうちが立っています。道の途中の大きな木は2個リンゴが採れます。途中のおうちにはうさぎのお友達が住んでいて1個リンゴをお友達にあげます。最後にうさぎが持っているリンゴの数を考えて下の四角に○をつけます。

			
$\bigcirc \times 3$			

				
$\bigcirc \times 5$				

					
$\bigcirc \times 4$					

					
$\bigcirc \times 1$					

						
$\bigcirc \times 3$						

※1. このプリントは、しながわ・目黒こどもスクールのウェブサイトでダウンロードができます。無断複写・引用はご遠慮ください。

※2. このプリントを活用したオンライン授業のスケジュールは、しながわ・目黒こどもスクールのウェブサイトでご確認ください。











# おうちで、やろう。







Study at home. 小学校受験の家庭学習教材








数量：条件推理 2




うさぎが道を歩いています。歩いている途中に木や、おうちが立っています。道の途中の大きな木は2個リンゴが採れ、小さな木からは1個リンゴが採れます。途中のおうちにはうさぎのお友達が住んでいて2個リンゴをお友達にあげます。最後にうさぎが持っているリンゴの数を考えて下の四角に○をつけます。

					
$\bigcirc \times 3$					

						
$\bigcirc \times 1$						

					
$\bigcirc \times 5$					

						
$\bigcirc \times 3$						

								
$\bigcirc \times 2$								

※1. このプリントは、しながわ・目黒こどもスクールのウェブサイトでダウンロードができます。無断複写・引用はご遠慮ください。

※2. このプリントを活用したオンライン授業のスケジュールは、しながわ・目黒こどもスクールのウェブサイトでご確認ください。