



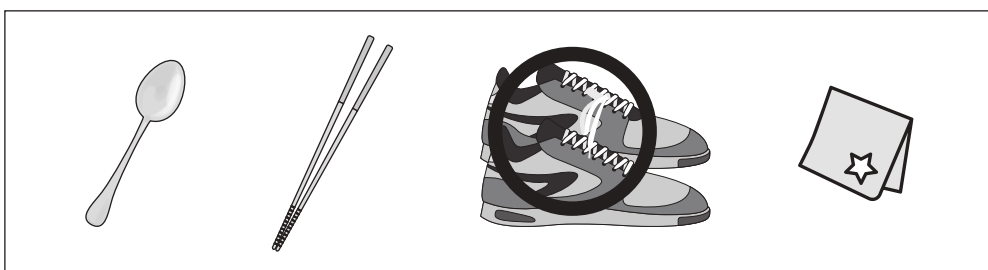
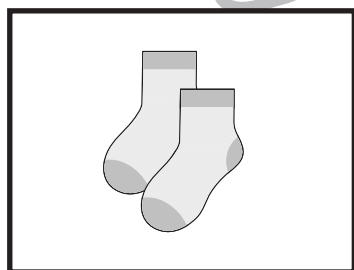

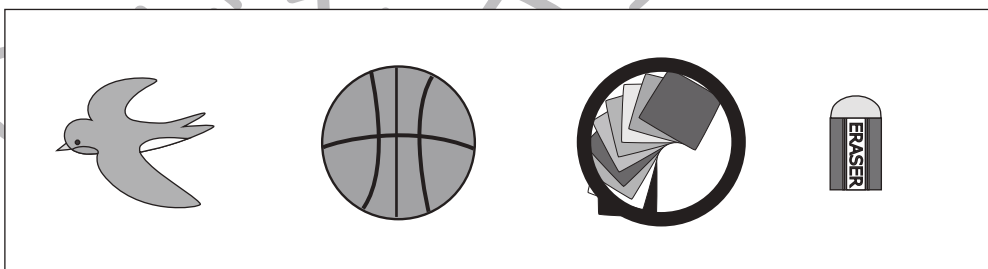
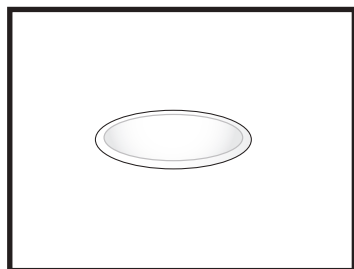
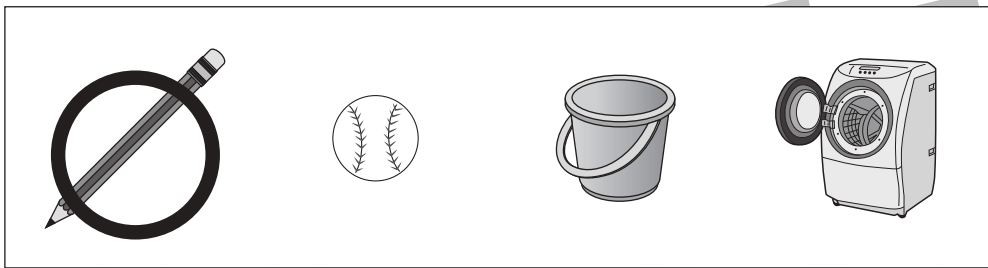
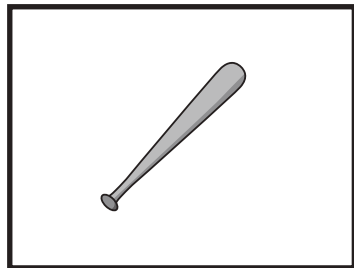


おうちで、やろう。

Study at home. 小学校受験の家庭学習教材

言語：数え方1

左の四角の中と同じ数え方をするものを右の中から見つけて○をつけます。



※1. このプリントは、しながわ・目黒こどもスクールのウェブサイトからダウンロードできます。無断複写・引用はご遠慮ください。
※2. このプリントを活用したオンライン授業のスケジュールは、しながわ・目黒こどもスクールのウェブサイトでご確認ください。





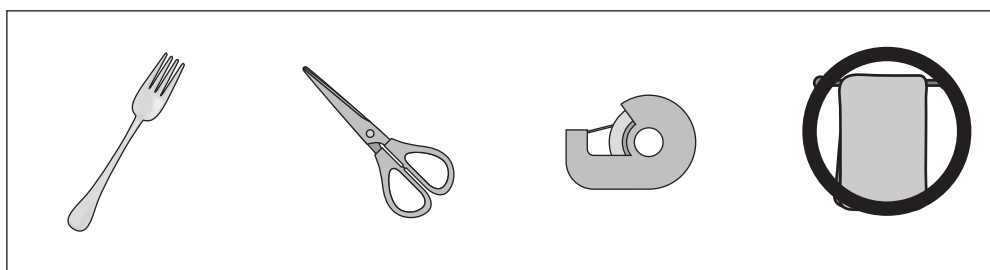

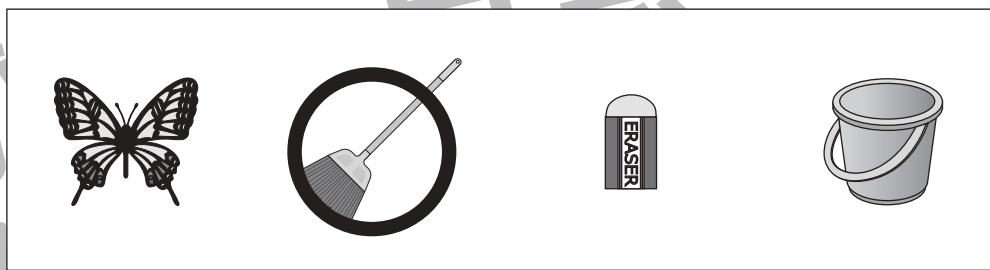



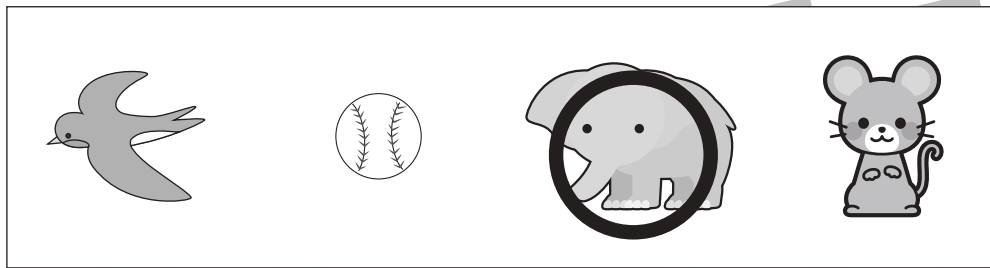



おうちで、やろう。

Study at home. 小学校受験の家庭学習教材

言語：数え方2

左の四角の中と同じ数え方をするものを右の中から見つけて○をつけます。



※1. このプリントは、しながわ・目黒こどもスクールのウェブサイトでダウンロードができます。無断複写・引用はご遠慮ください。
※2. このプリントを活用したオンライン授業のスケジュールは、しながわ・目黒こどもスクールのウェブサイトでご確認ください。





おうちで、やろう。

Study at home. 小学校受験の家庭学習教材

図形：模写 12

左の四角がお手本です。右の四角の同じ場所にお手本と同じかたちをかきます。ただし、黒いマスにはかきません。

	▶			▶	
	▶			▶	
	▶			▶	
	▶			▶	
	▶			▶	
	▶			▶	
	▶			▶	

※1. このプリントは、しながわ・目黒こどもスクールのウェブサイトでダウンロードができます。無断複写・引用はご遠慮ください。
 ※2. このプリントを活用したオンライン授業のスケジュールは、しながわ・目黒こどもスクールのウェブサイトでご確認ください。



おうちで、やろう。

Study at home. 小学校受験の家庭学習教材

図形：模写 13

左の四角がお手本です。右の四角の同じ場所にお手本と同じかたちをかきます。ただし、黒いマスにはかきません。

	▶	
	▶	
	▶	
	▶	
	▶	
	▶	
	▶	
	▶	
	▶	
	▶	

※1. このプリントは、しながわ・目黒こどもスクールのウェブサイトでダウンロードができます。無断複写・引用はご遠慮ください。
 ※2. このプリントを活用したオンライン授業のスケジュールは、しながわ・目黒こどもスクールのウェブサイトでご確認ください。



おうちで、やろう。

Study at home. 小学校受験の家庭学習教材

図形：模様 6

左のマスにある●は裏返すと○になり、○は裏返すと●になります。この約束で右のマスにすべてのマルを裏返して置きます。どのマルが●になるのかを考えて、右のマスの○を塗りましょう。

○	●	○	●
○	●	●	○
○	●	●	○
○	●	○	●

●	○	●	○
●	○	○	●
●	○	○	●
●	○	●	○

○	○	●	○
○	●	●	●
●	●	○	●
●	●	○	●

●	●	○	●
●	○	○	○
○	○	●	○
○	○	●	○

○	●	○	●
○	●	○	●
●	○	●	●
●	●	○	○

●	○	●	○
●	○	●	○
○	●	○	○
○	○	●	●

●	○	○	○
○	●	○	●
○	●	●	○
●	●	○	○

○	●	●	●
●	○	●	○
●	○	○	●
○	○	●	●

●	●	●	○
●	○	○	○
●	●	●	●
○	○	○	●

○	○	○	●
○	●	●	●
○	○	○	○
●	●	●	○

●	○	●	○
○	●	○	○
●	○	●	●
○	●	○	●

○	●	○	●
●	○	●	●
○	●	○	○
●	○	●	○

●	●	●	●
●	○	●	●
○	○	○	●
●	○	●	●

○	○	○	○
○	●	○	○
●	●	●	○
○	●	○	○

○	●	●	○
●	○	●	○
●	○	●	●
○	○	●	○

●	○	○	●
○	●	○	●
○	●	○	○
●	●	○	●

※1. このプリントは、しながわ・目黒こどもスクールのウェブサイトでダウンロードができます。無断複写・引用はご遠慮ください。
※2. このプリントを活用したオンライン授業のスケジュールは、しながわ・目黒こどもスクールのウェブサイトでご確認ください。



おうちで、やろう。

Study at home. 小学校受験の家庭学習教材

図形：模様 7

左のマスにある●は裏返すと○になり、○は裏返すと●になります。この約束で右のマスにすべてのマルを裏返して置きます。どのマルが●になるのかを考えて、右のマスの○を塗りましょう。

●	○	●	●
●	○	●	●
●	●	○	●
○	●	○	●

○	●	○	○
○	●	○	○
○	○	●	○
●	○	●	○

○	●	○	○
●	●	●	○
○	○	●	●
○	●	○	○

●	○	●	●
○	○	○	●
●	●	○	○
●	○	●	●

●	●	●	○
○	●	●	○
○	○	○	○
○	●	●	●

○	○	○	●
●	○	○	●
●	●	●	●
●	○	○	○

○	○	●	○
●	●	●	○
○	○	●	○
○	○	○	●

●	●	○	●
○	○	○	●
●	●	○	●
●	●	●	○

●	○	○	●
●	●	○	●
○	○	○	●
○	○	○	○

○	●	●	○
○	○	●	○
●	●	●	○
●	●	●	●

○	○	●	○
●	●	●	●
●	○	●	○
○	●	○	○

●	●	○	●
○	○	○	○
○	●	○	●
●	○	●	●

●	●	○	○
○	○	●	●
●	●	○	●
●	○	●	●

○	○	●	●
●	●	○	○
○	○	●	○
○	●	○	○

●	○	○	○
●	●	●	○
●	●	●	●
○	○	●	○

○	●	●	●
○	○	○	●
○	○	○	○
●	●	○	●

※1. このプリントは、しながわ・目黒こどもスクールのウェブサイトでダウンロードができます。無断複写・引用はご遠慮ください。
※2. このプリントを活用したオンライン授業のスケジュールは、しながわ・目黒こどもスクールのウェブサイトでご確認ください。



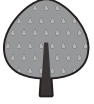













おうちで、やろう。







Study at home. 小学校受験の家庭学習教材









数量：条件推理 3









うさぎが道を歩いています。歩いている途中に木や、おうちが立っています。道の途中の大きな木は3個リンゴが採れ、小さな木からは1個リンゴが採れます。途中のおうちにはうさぎのお友達が住んでいて2個リンゴをお友達にあげます。最後にうさぎが持っているリンゴの数を考えて下の四角に○をつけます。

						
$\bigcirc \times 4$						

						
$\bigcirc \times 5$						

						
$\bigcirc \times 8$						

							
$\bigcirc \times 4$							

								
$\bigcirc \times 5$								

※1. このプリントは、しながわ・目黒こどもスクールのウェブサイトでダウンロードができます。無断複写・引用はご遠慮ください。

※2. このプリントを活用したオンライン授業のスケジュールは、しながわ・目黒こどもスクールのウェブサイトでご確認ください。










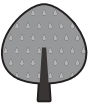




おうちで、やろう。

Study at home. 小学校受験の家庭学習教材










数量：条件推理 4









うさぎが道を歩いています。道の途中の大きな木は3個リンゴが採れ、小さな木からは1個リンゴが採れます。途中のおうちにはうさぎのお友達が住んでいて2個リンゴをお友達にあげます。そして集まったりんごのうちいくつかをお母さんにあげます。右端のかごの中のりんごの数だけお母さんにあげた後、うさぎさんが持っているりんごの数はいくつですか。その数だけ下の四角に○をかきます。

					
$\bigcirc \times 3$					

					
$\bigcirc \times 2$					

						
$\bigcirc \times 2$						

								
$\bigcirc \times 1$								

							
$\bigcirc \times 4$							

※1. このプリントは、しながわ・目黒こどもスクールのウェブサイトでダウンロードができます。無断複写・引用はご遠慮ください。

※2. このプリントを活用したオンライン授業のスケジュールは、しながわ・目黒こどもスクールのウェブサイトでご確認ください。




おうちで、やろう。

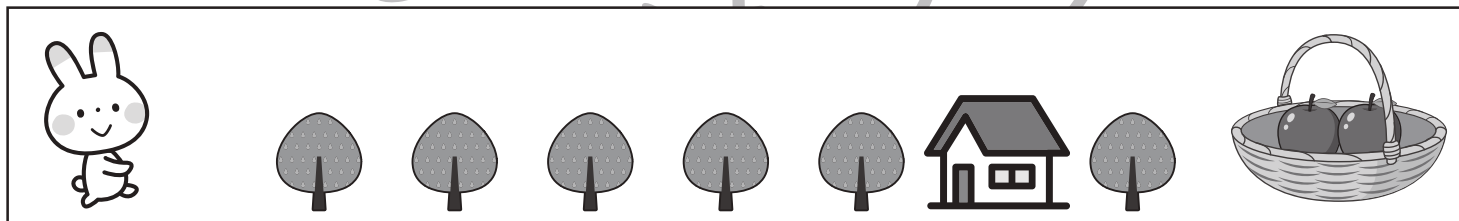
Study at home. 小学校受験の家庭学習教材

数量：条件推理5

うさぎが道を歩いています。歩いている途中に木や、おうちが立っています。道の途中の大きな木は3個リンゴが採れ、小さな木からは1個リンゴが採れます。途中のおうちにはうさぎのお友達が住んでいて2個リンゴをお友達にあげます。そして最後にかごの中に集めたりんごをお入れしました。その後、最後にうさぎが持っているリンゴの数を考えて下の四角に○をつけます。




○ × 1




○ × 2



○ × 2



○ × 7



○ × 5

※1. このプリントは、しながわ・目黒こどもスクールのウェブサイトでダウンロードができます。無断複写・引用はご遠慮ください。

※2. このプリントを活用したオンライン授業のスケジュールは、しながわ・目黒こどもスクールのウェブサイトでご確認ください。



おうちで、やろう。

Study at home. 小学校受験の家庭学習教材

処理：多少2

横に並んだ5つの四角の中の果物のうち数が2番目に多い四角に○をつけます。
この問題はスピードを意識して取り組む練習をしてみましょう。(1分30秒~2分)

5 	6 	8 	7 	4
-------	-------	-------	-------	-------

6 	8 	9 	7 	5
-------	-------	-------	-------	-------

10 	6 	7 	8 	9
--------	-------	-------	-------	-------

10 	9 	11 	8 	7
--------	-------	--------	-------	-------

※1. このプリントは、しながわ・目黒こどもスクールのウェブサイトでダウンロードができます。無断複写・引用はご遠慮ください。
※2. このプリントを活用したオンライン授業のスケジュールは、しながわ・目黒こどもスクールのウェブサイトでご確認ください。