



おうちで、やろう。


Study at home. 小学校受験の家庭学習教材

言語：音の理解 17

下の四角の中の絵の名前を考えます。①、②の問題に答えます。

①名前の中に「う」があるものに○をつけます。

②名前の中に「ん」がつくものに△をつけます。



※1. このプリントは、しながわ・目黒こどもスクールのウェブサイトからダウンロードできます。無断複写・引用はご遠慮ください。

※2. このプリントを活用したオンライン授業のスケジュールは、しながわ・目黒こどもスクールのウェブサイトでご確認ください。



おうちで、よろう。

Study at home. 小学校受験の家庭学習教材

図形：回転 10

左の見本が矢印の方向に 1 回倒れたときの見え方を考えて、右の中から選んで○をつけます。

--	--	--	--	--

--	--	--	--	--

--	--	--	--	--

--	--	--	--	--

--	--	--	--	--

※1. このプリントは、しながわ・目黒こどもスクールのウェブサイトでダウンロードができます。無断複写・引用はご遠慮ください。
 ※2. このプリントを活用したオンライン授業のスケジュールは、しながわ・目黒こどもスクールのウェブサイトでご確認ください。



おうちで、やろう。

Study at home. 小学校受験の家庭学習教材

図形：回転 11

左の見本が矢印の方向に 1 回倒れたときの見え方を考えて、右の中から選んで○をつけます。

※1. このプリントは、しながわ・目黒こどもスクールのウェブサイトでダウンロードができます。無断複写・引用はご遠慮ください。
 ※2. このプリントを活用したオンライン授業のスケジュールは、しながわ・目黒こどもスクールのウェブサイトでご確認ください。



おうちで、やろう。

Study at home. 小学校受験の家庭学習教材

図形：回転 12

左の見本が矢印の方向に 1 回倒れたときの見え方を考えて、右の中から選んで○をつけます。

--	--	--	--	--

--	--	--	--	--

--	--	--	--	--

--	--	--	--	--

--	--	--	--	--

※1. このプリントは、しながわ・目黒こどもスクールのウェブサイトでダウンロードができます。無断複写・引用はご遠慮ください。
 ※2. このプリントを活用したオンライン授業のスケジュールは、しながわ・目黒こどもスクールのウェブサイトでご確認ください。



おうちで、やろう。

Study at home. 小学校受験の家庭学習教材

推理：条件推理 1

左の太い四角の中がお手本です。このお手本はコップの中に水が入っていて、上から丸いボールを入れて落ちていく途中の様子です。このままボールがまっすぐ落ちたときどうなりますか。正しいものを右の4つの中から選んで○をつけます。

※1. このプリントは、しながわ・目黒こどもスクールのウェブサイトからダウンロードできます。無断複写・引用はご遠慮ください。

※2. このプリントを活用したオンライン授業のスケジュールは、しながわ・目黒こどもスクールのウェブサイトでご確認ください。



おうちで、やろう。

Study at home. 小学校受験の家庭学習教材

推理：条件推理 2

左の太い四角の中がお手本です。このお手本はコップの中に水が入っていて、上から丸いボールを入れて落ちていく途中の様子です。このままボールがまっすぐ落ちたときどうなりますか。正しいものを右の4つの中から選んで○をつけます。

※1. このプリントは、しながわ・目黒こどもスクールのウェブサイトからダウンロードできます。無断複写・引用はご遠慮ください。

※2. このプリントを活用したオンライン授業のスケジュールは、しながわ・目黒こどもスクールのウェブサイトでご確認ください。

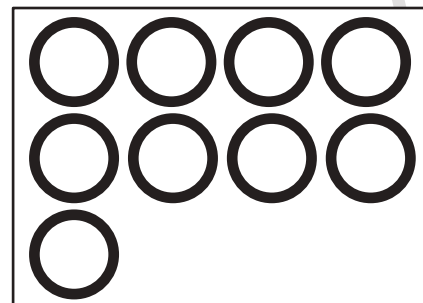

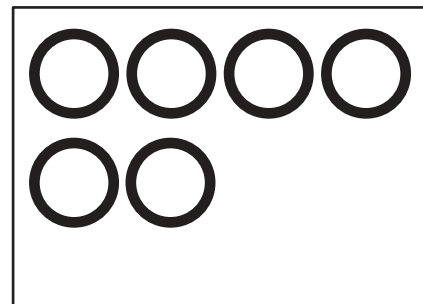

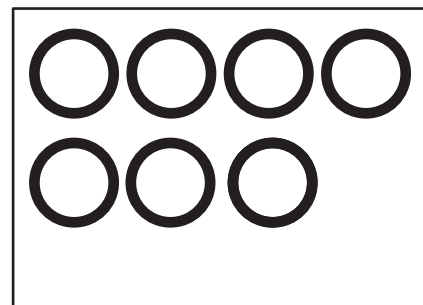





おうちで、やろう。

Study at home. 小学校受験の家庭学習教材

数量：置き換え1

上の四角がお手本です。1枚の板チョコレートからは小さい四角いチョコレートが2個でき、2枚のチョコレートからはケーキが1個できます。左の2つの四角の中のお菓子をつくるとき、チョコレートは全部で何枚必要ですか。その数だけ右の四角に○をかきます。



※1. このプリントは、しながわ・目黒こどもスクールのウェブサイトでダウンロードができます。無断複写・引用はご遠慮ください。

※2. このプリントを活用したオンライン授業のスケジュールは、しながわ・目黒こどもスクールのウェブサイトでご確認ください。




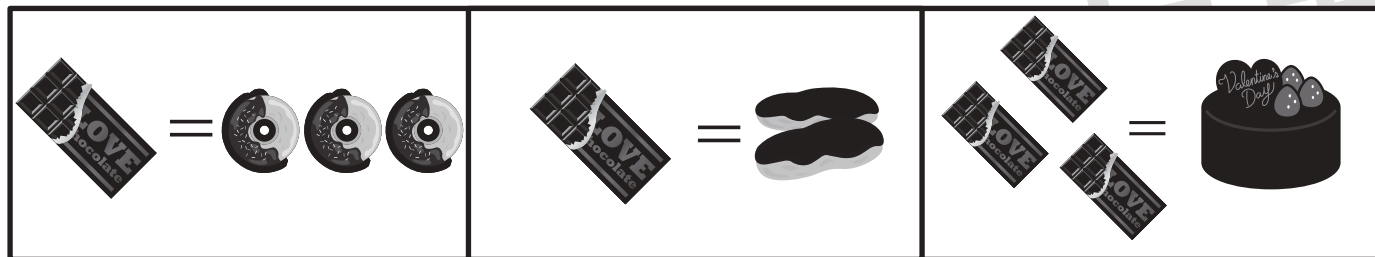


おうちで、やろう。

Study at home. 小学校受験の家庭学習教材

数量：置き換え2

上の四角が約束です。1枚のチョコレートからはドーナツが3つできます。2枚のチョコレートからはエクレアが2つできます。大きなケーキをつくるためにはチョコレートが3枚必要です。左の3つの中のお菓子をつくるとき、チョコレートは全部で何枚必要ですか。その数だけ右の四角に○をかきます。



※1. このプリントは、しながわ・目黒こどもスクールのウェブサイトでダウンロードができます。無断複写・引用はご遠慮ください。

※2. このプリントを活用したオンライン授業のスケジュールは、しながわ・目黒こどもスクールのウェブサイトでご確認ください。