

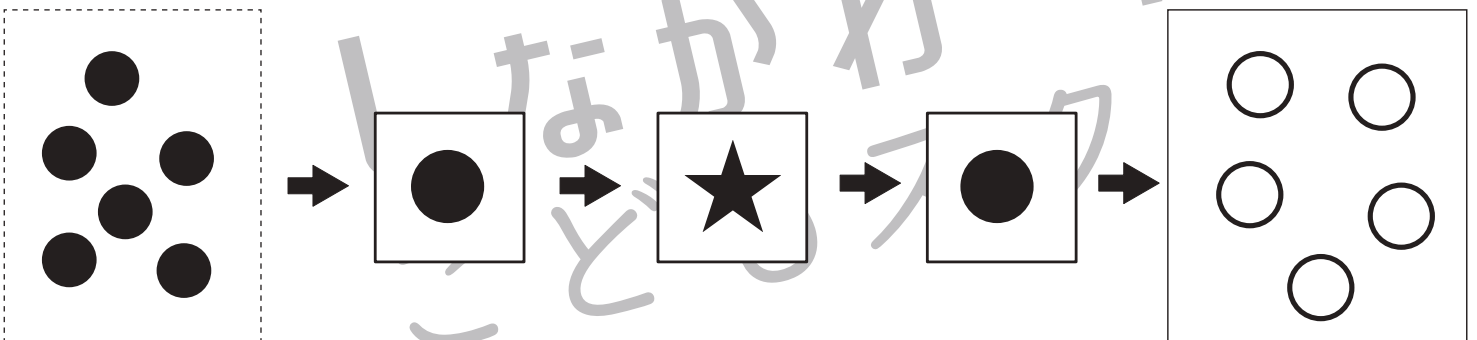
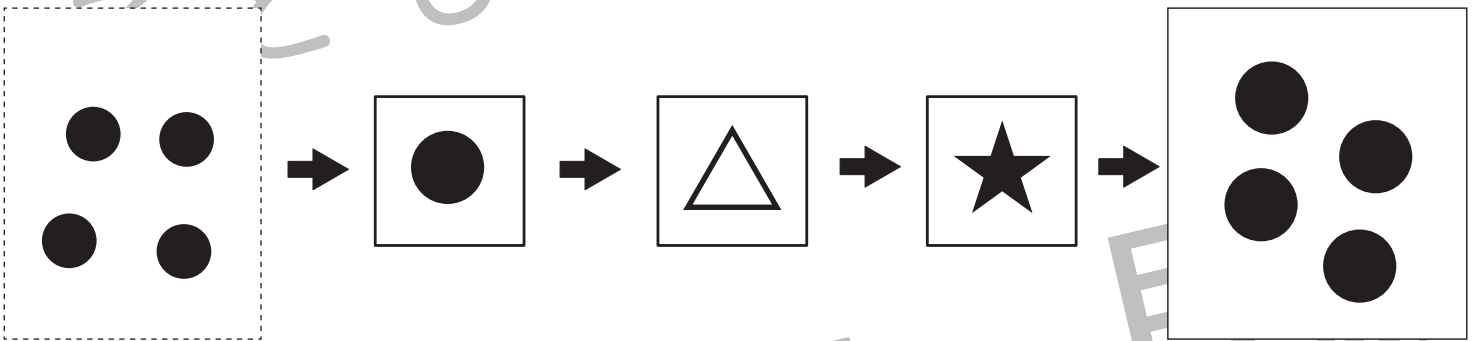
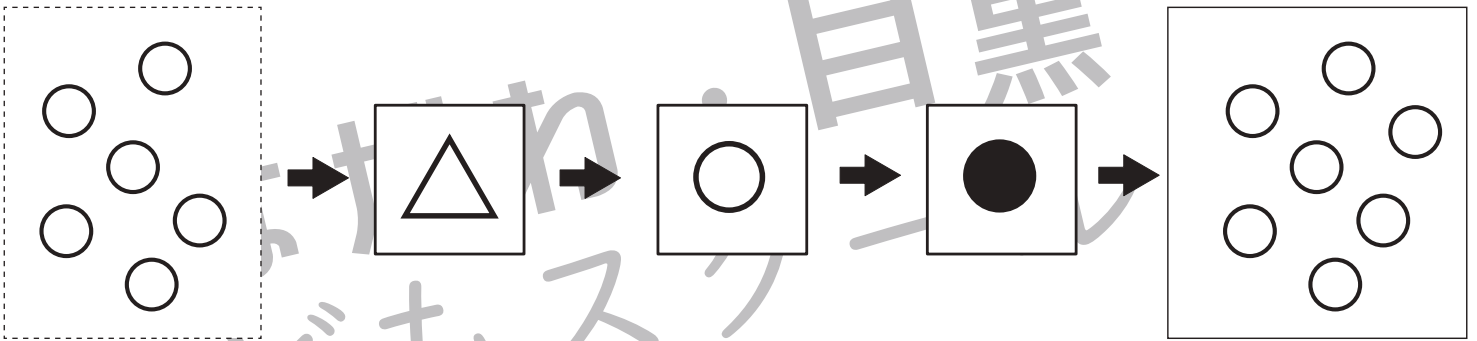
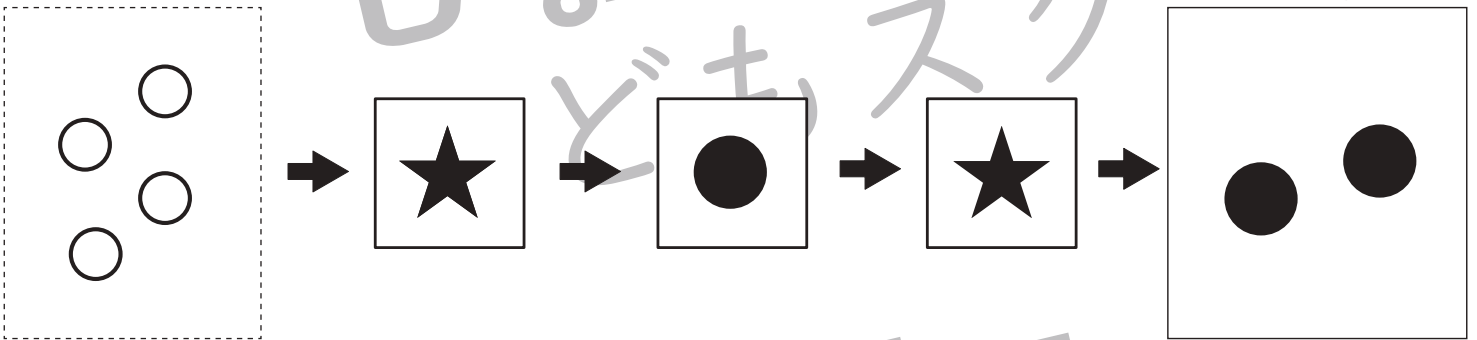
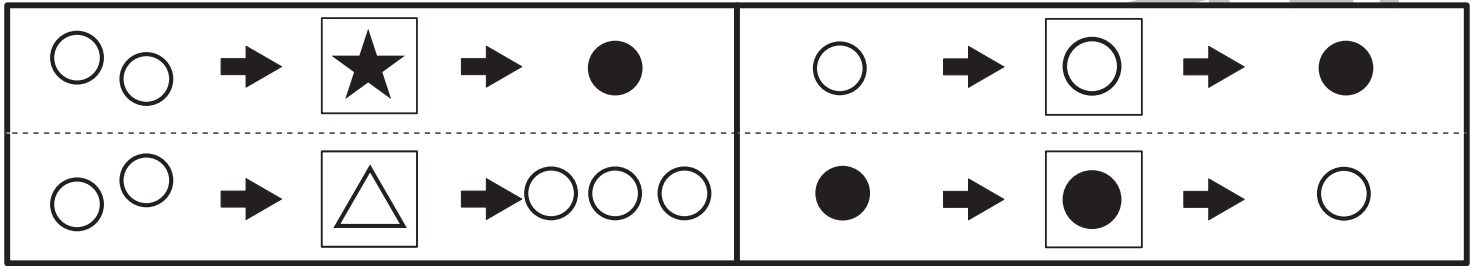


おうちで、よろう。

Study at home.

推理：ブラックボックス6

上の四角が約束です。★の箱に白丸を入れると、1つ減り黒丸になって出てきます。△の箱に丸を入れると1つ増えて出てきます。このとき、色は変わりません。○の箱に白丸を入れると黒丸になり、黒丸を●の箱に入ると白丸になって出てきます。約束通りに左の点線の四角の中の丸を順番に箱に入れてあと、出てきた丸を考えて右の四角にかきます。



※1. このプリントは、しながわ・目黒こどもスクールのウェブサイトでダウンロードができます。無断複写・引用はご遠慮ください。
 ※2. このプリントを活用したオンライン授業のスケジュールは、しながわ・目黒こどもスクールのウェブサイトでご確認ください。

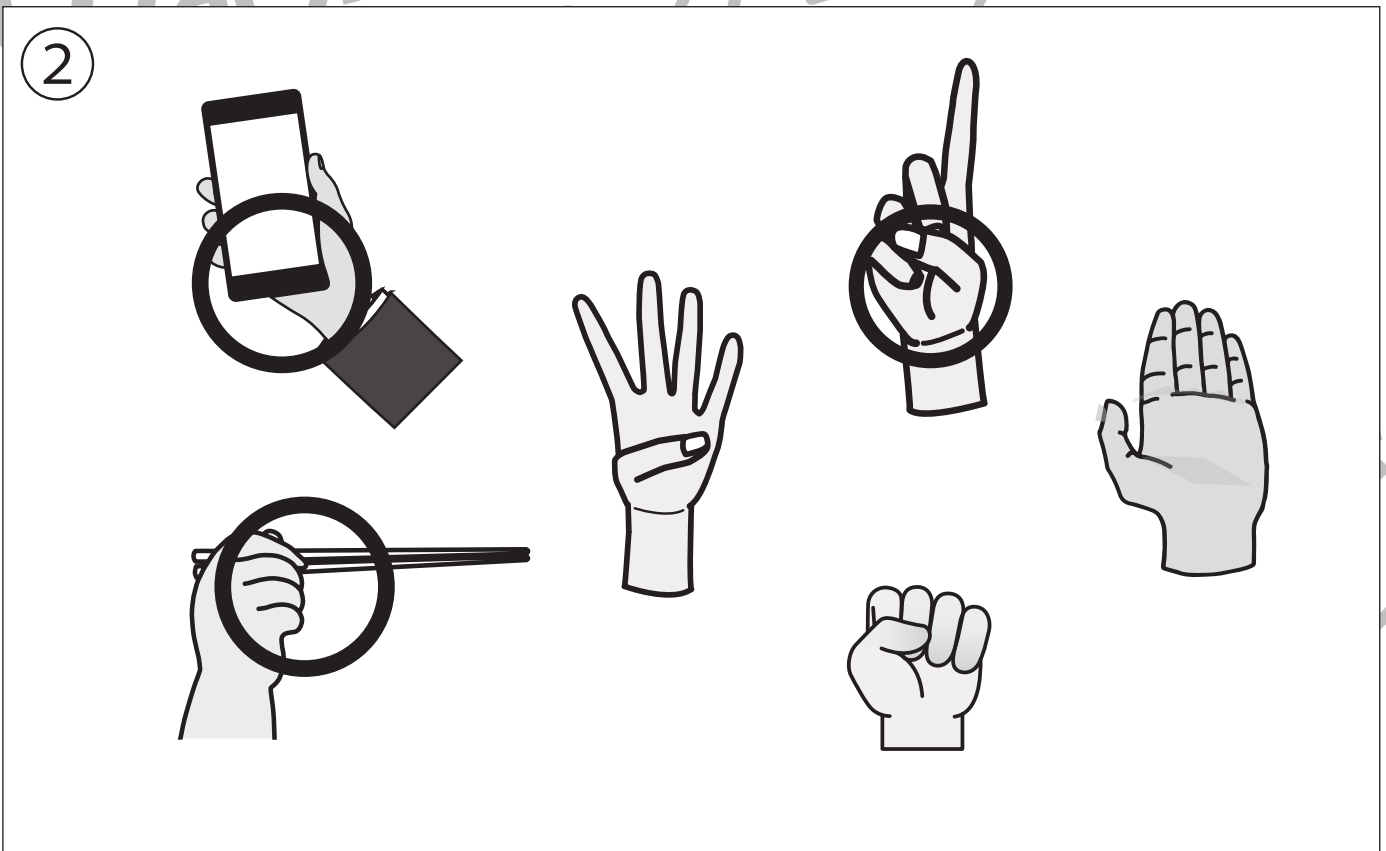


おうちで、よろう。

Study at home. 小学校受験の家庭学習教材

推理：左右4

- ①左手を挙げている人に○をつけます。
- ②右手に○をつけます。



※1. このプリントは、しながわ・目黒こどもスクールのウェブサイトでダウンロードができます。無断複写・引用はご遠慮ください。
 ※2. このプリントを活用したオンライン授業のスケジュールは、しながわ・目黒こどもスクールのウェブサイトでご確認ください。



おうちで、やろう。

Study at home.

数量：サイコロ1

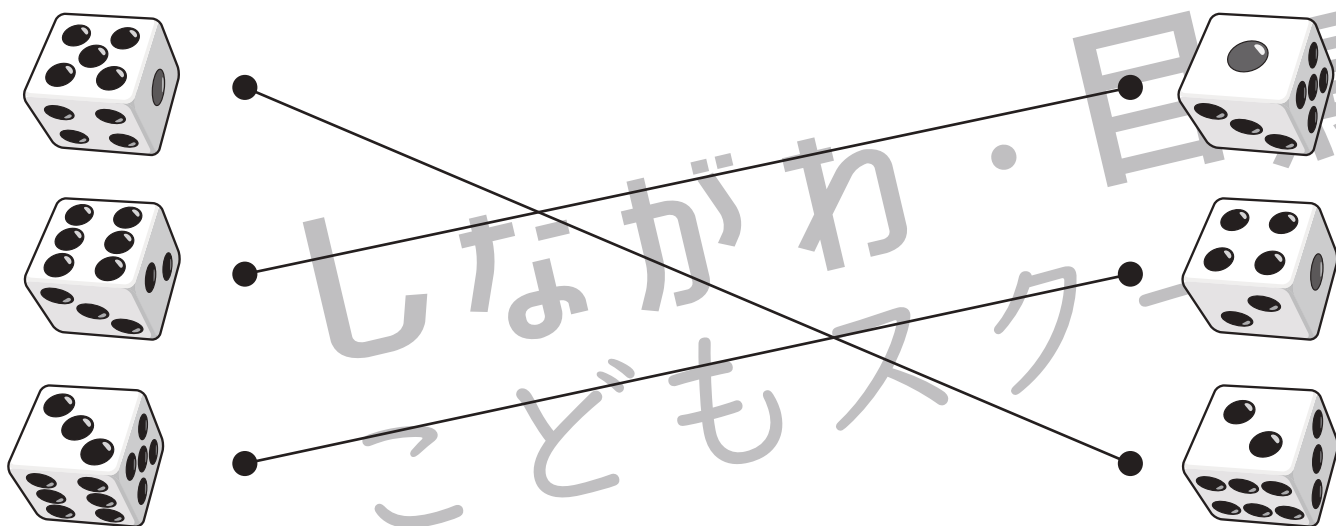
左のマスの中には2つのサイコロが描かれています。そのサイコロの上に見える目をあわせるといくつになるかを考え、その数だけ右の四角の中に○をかきましょう。

		○ × 6
		○ × 7
		○ × 8

左の四角の中にはサイコロが描かれています。そのサイコロの上に見える目の反対側にはいくつの目があるかを考えて、その数だけ左の四角の中に○をかきましょう。

	○ × 6		○ × 3
	○ × 5		○ × 2
	○ × 4		○ × 1

左側にあるサイコロの反対側にある目のサイコロを選び、点と点を線で結びましょう。



※1. このプリントは、しながわ・目黒こどもスクールのウェブサイトでダウンロードができます。無断複写・引用はご遠慮ください。

※2. このプリントを活用したオンライン授業のスケジュールは、しながわ・目黒こどもスクールのウェブサイトでご確認ください。



おうちで、やろう。

Study at home.

数量：すごろく6

マスの中にはネコさんとネズミさんがいます。そして、マスの真ん中にはサイコロが描かれています。そのサイコロの数だけ動物が進むのですが、ネコさんは1つの目で2マス、ネズミさんは1つの目で1マス進みます。それぞれ進んで止まった場所にネコさんは△、ネズミさんは□を描きましょう。

--	--	--	--

※1. このプリントは、しながわ・目黒こどもスクールのウェブサイトからダウンロードできます。無断複写・引用はご遠慮ください。
 ※2. このプリントを活用したオンライン授業のスケジュールは、しながわ・目黒こどもスクールのウェブサイトでご確認ください。



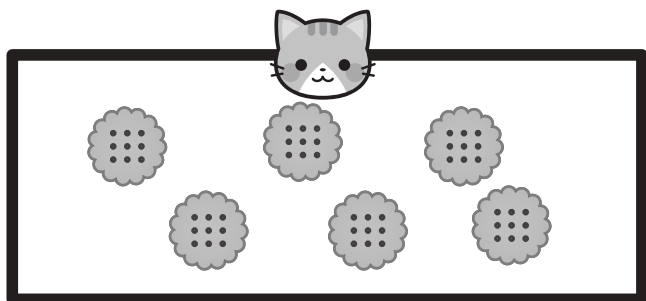


おうちで、やろう。


Study at home. 小学校受験の家庭学習教材

数量：等分1




上の四角はネコのもっているお菓子です。このお菓子をネズミとカエルに下の四角の中の数だけお菓子をあげました。ただし、2匹でお菓子の数が違いました。お菓子をいくつか移動したら、ネズミとカエルのお菓子が同じ数になりますか。移動するお菓子の数だけ○をつけます。お菓子は同じ種類が同じ数になるように分けます。




ネズミのクッキー 2枚に○



カエルのクッキー 2枚に○



カエルのクッキー 1枚に○



ネズミのクッキー 2枚に○

※1. このプリントは、しながわ・目黒こどもスクールのウェブサイトからダウンロードできます。無断複写・引用はご遠慮ください。

※2. このプリントを活用したオンライン授業のスケジュールは、しながわ・目黒こどもスクールのウェブサイトでご確認ください。








おうちで、やろう。


Study at home. 小学校受験の家庭学習教材

数量：等分2




上の四角はネコのもっているお菓子です。このお菓子をネズミとカエルに下の四角の中の数だけお菓子をあげました。ただし、2匹でお菓子の数が違いました。お菓子をいくつか移動したら、ネズミとカエルのお菓子が同じ数になりますか。移動するお菓子の数だけ○をつけます。お菓子は同じ種類が同じ数になるように分けます。




ネズミのクッキー1枚に○
ネズミのあめ1個に○



ネズミのクッキー1枚に○
カエルのあめ2個に○



ネズミのクッキー2枚に○
カエルのあめ1個に○



ネズミのクッキー2枚に○
カエルのあめ1個に○

※1. このプリントは、しながわ・目黒こどもスクールのウェブサイトでダウンロードができます。無断複写・引用はご遠慮ください。

※2. このプリントを活用したオンライン授業のスケジュールは、しながわ・目黒こどもスクールのウェブサイトでご確認ください。









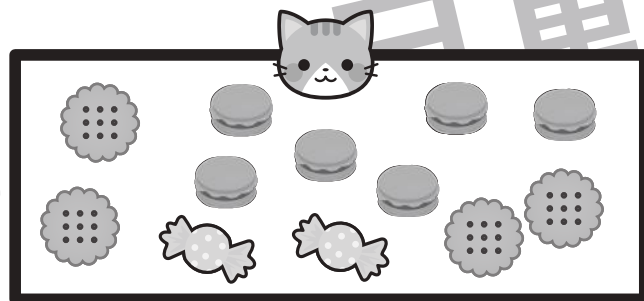



おうちで、やろう。

Study at home. 小学校受験の家庭学習教材

数量：等分3

上の四角はネコのもっているお菓子です。このお菓子をネズミとカエルに下の四角の中の数だけお菓子をあげました。ただし、2匹でお菓子の数が違いました。お菓子をいくつか移動したら、ネズミとカエルのお菓子が同じ数になりますか。移動するお菓子の数だけ○をつけます。お菓子は同じ種類が同じ数になるように分けます。



※1. このプリントは、しながわ・目黒こどもスクールのウェブサイトでダウンロードができます。無断複写・引用はご遠慮ください。

※2. このプリントを活用したオンライン授業のスケジュールは、しながわ・目黒こどもスクールのウェブサイトでご確認ください。







おうちで、やろう。

Study at home. 小学校受験の家庭学習教材

処理：計数7

上の四角の中の絵の数をかぞえて、下の四角の同じ絵の右にその数だけ〇をかきます。
この問題はスピードを意識して取り組む練習をしてみましょう。(1分～1分30秒)



○×11



○×10



○×7



○×9