



おうちで、やろう。

Study at home. 小学校受験の家庭学習教材

記憶：絵の記憶5 記憶用紙

別紙『記憶 - 絵の記憶5』を行う際に使用します。記憶用紙は点線で折って(切って)から①、②、③の問題をそれぞれ20秒間ずつ記憶させてください。その後、記憶したものと同じ形をかきます。

※2022年2月17日(木)のオンライン授業では実施中に記憶する絵を画面で表示します。

①

②

③

※1. このプリントは、しながわ・目黒こどもスクールのウェブサイトでダウンロードができます。無断複写・引用はご遠慮ください。

※2. このプリントを活用したオンライン授業のスケジュールは、しながわ・目黒こどもスクールのウェブサイトでご確認ください。



おうちで、やろう。

Study at home. 小学校受験の家庭学習教材

記憶：絵の記憶5

別紙『記憶 - 絵の記憶5 (記憶用紙)』を行う際に使用します。

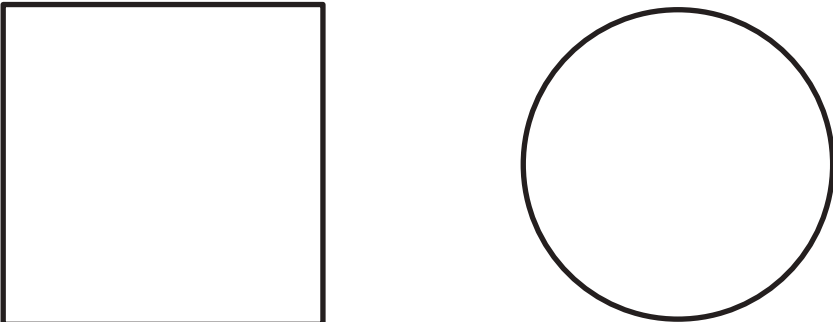
記憶したものと同じ形をかきます。

※このプリントの答えは記憶用紙で確認してください。

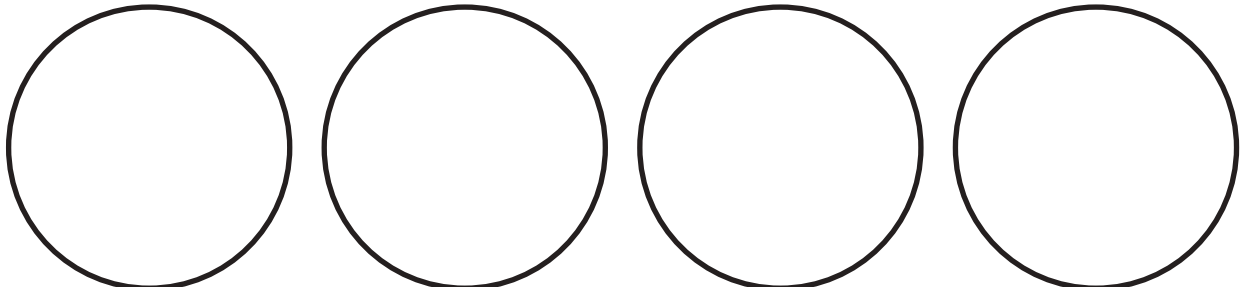
※2022年2月17日(木)のオンライン授業では実施中に記憶する絵を画面で表示します。

①

②



③



※1. このプリントは、しながわ・目黒こどもスクールのウェブサイトからダウンロードできます。無断複写・引用はご遠慮ください。

※2. このプリントを活用したオンライン授業のスケジュールは、しながわ・目黒こどもスクールのウェブサイトでご確認ください。



おうちで、やろう。

Study at home. 小学校受験の家庭学習教材

図形：移動 19

上の四角がお手本です。このお手本の○を下の四角の同じ場所にかきます。ただし、下の四角はマスがずれています。どのマスにかけばよいのかを考えましょう。

<table border="1"> <tr><td>○</td><td>○</td><td>○</td></tr> <tr><td></td><td></td><td></td></tr> <tr><td></td><td></td><td></td></tr> </table> <table border="1"> <tr><td></td><td></td><td></td></tr> <tr><td></td><td></td><td></td></tr> <tr><td></td><td></td><td></td></tr> <tr><td></td><td></td><td></td></tr> </table>	○	○	○																			<table border="1"> <tr><td></td><td></td><td></td></tr> <tr><td>○</td><td>○</td><td>○</td></tr> <tr><td></td><td></td><td></td></tr> </table> <table border="1"> <tr><td></td><td></td><td></td></tr> <tr><td></td><td></td><td></td></tr> <tr><td></td><td></td><td></td></tr> <tr><td></td><td></td><td></td></tr> </table>				○	○	○																<table border="1"> <tr><td></td><td></td><td></td></tr> <tr><td></td><td></td><td></td></tr> <tr><td>○</td><td>○</td><td>○</td></tr> </table> <table border="1"> <tr><td></td><td></td><td></td></tr> <tr><td></td><td></td><td></td></tr> <tr><td></td><td></td><td></td></tr> <tr><td></td><td></td><td></td></tr> </table>							○	○	○													<table border="1"> <tr><td>○</td><td></td><td>○</td></tr> <tr><td></td><td></td><td></td></tr> <tr><td></td><td>○</td><td></td></tr> </table> <table border="1"> <tr><td></td><td></td><td></td></tr> <tr><td></td><td></td><td></td></tr> <tr><td></td><td></td><td></td></tr> <tr><td></td><td></td><td></td></tr> </table>	○		○					○													
○	○	○																																																																																					
○	○	○																																																																																					
○	○	○																																																																																					
○		○																																																																																					
	○																																																																																						

<table border="1"> <tr><td></td><td>○</td><td></td></tr> <tr><td>○</td><td></td><td>○</td></tr> <tr><td></td><td></td><td></td></tr> </table> <table border="1"> <tr><td></td><td></td><td></td></tr> <tr><td></td><td></td><td></td></tr> <tr><td></td><td></td><td></td></tr> <tr><td></td><td></td><td></td></tr> </table>		○		○		○																<table border="1"> <tr><td>○</td><td></td><td></td></tr> <tr><td></td><td>○</td><td></td></tr> <tr><td></td><td></td><td>○</td></tr> </table> <table border="1"> <tr><td></td><td></td><td></td></tr> <tr><td></td><td></td><td></td></tr> <tr><td></td><td></td><td></td></tr> <tr><td></td><td></td><td></td></tr> </table>	○				○				○													<table border="1"> <tr><td></td><td>○</td><td></td></tr> <tr><td>○</td><td></td><td></td></tr> <tr><td></td><td></td><td>○</td></tr> </table> <table border="1"> <tr><td></td><td></td><td></td></tr> <tr><td></td><td></td><td></td></tr> <tr><td></td><td></td><td></td></tr> <tr><td></td><td></td><td></td></tr> </table>		○		○					○													<table border="1"> <tr><td></td><td></td><td>○</td></tr> <tr><td>○</td><td>○</td><td></td></tr> <tr><td></td><td></td><td></td></tr> </table> <table border="1"> <tr><td></td><td></td><td></td></tr> <tr><td></td><td></td><td></td></tr> <tr><td></td><td></td><td></td></tr> <tr><td></td><td></td><td></td></tr> </table>			○	○	○																
	○																																																																																						
○		○																																																																																					
○																																																																																							
	○																																																																																						
		○																																																																																					
	○																																																																																						
○																																																																																							
		○																																																																																					
		○																																																																																					
○	○																																																																																						

※1. このプリントは、しながわ・目黒こどもスクールのウェブサイトでダウンロードができます。無断複写・引用はご遠慮ください。
 ※2. このプリントを活用したオンライン授業のスケジュールは、しながわ・目黒こどもスクールのウェブサイトでご確認ください。



おうちで、やろう。

Study at home. 小学校受験の家庭学習教材

図形：移動 20

上の四角がお手本です。このお手本の○を下の四角の同じ場所にかきます。ただし、下の四角はマスがずれています。どのマスにかけばよいのかを考えましょう。

○	○	○	○

○	○	○	○

○	○	○	○

○	○	○	○

○	○		
		○	○

	○		○
○		○	

	○	○	
○			○

○		○	
	○		○

※1. このプリントは、しながわ・目黒こどもスクールのウェブサイトでダウンロードができます。無断複写・引用はご遠慮ください。
 ※2. このプリントを活用したオンライン授業のスケジュールは、しながわ・目黒こどもスクールのウェブサイトでご確認ください。



おうちで、やろう。

Study at home. 小学校受験の家庭学習教材

図形：移動 21

上の四角がお手本です。このお手本の○を下の四角の同じ場所にかきます。ただし、下の四角はマスがずれています。どのマスにかけばよいのかを考えましょう。

※1. このプリントは、しながわ・目黒こどもスクールのウェブサイトでダウンロードができます。無断複写・引用はご遠慮ください。
 ※2. このプリントを活用したオンライン授業のスケジュールは、しながわ・目黒こどもスクールのウェブサイトでご確認ください。

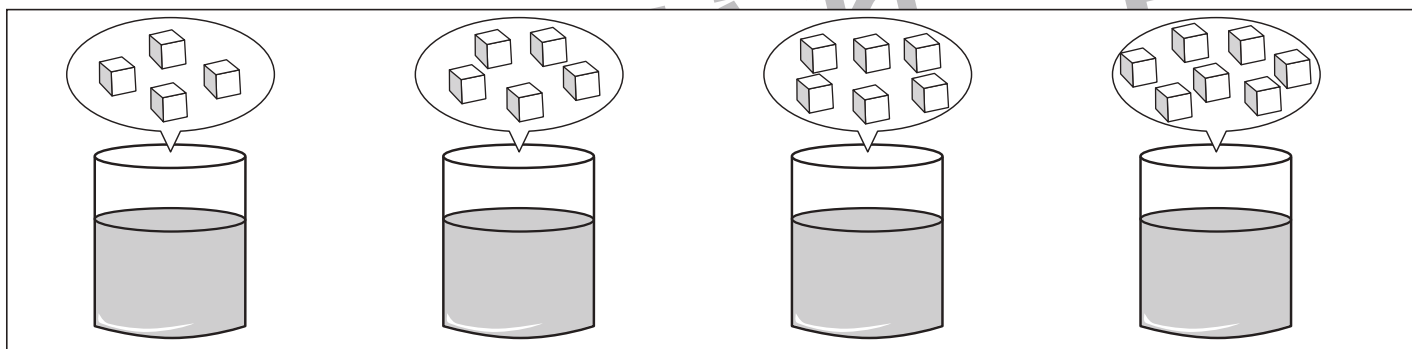
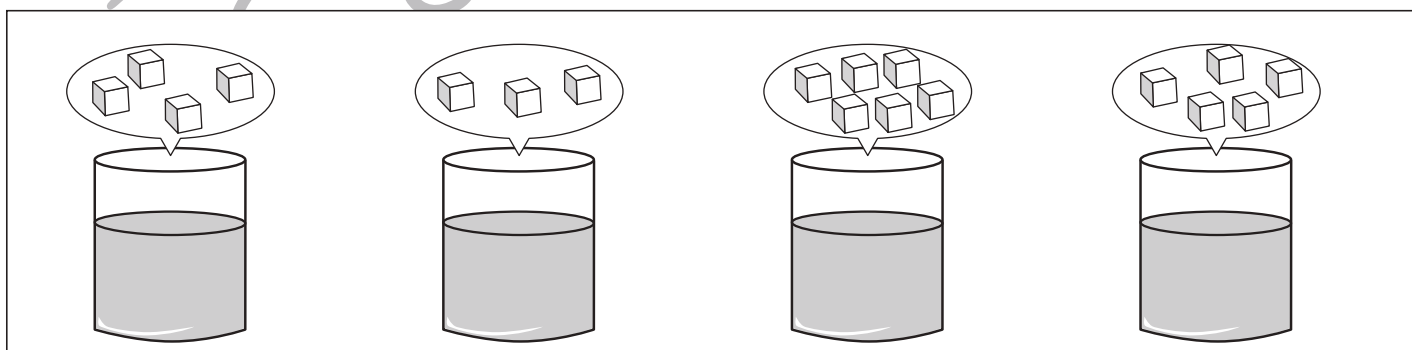
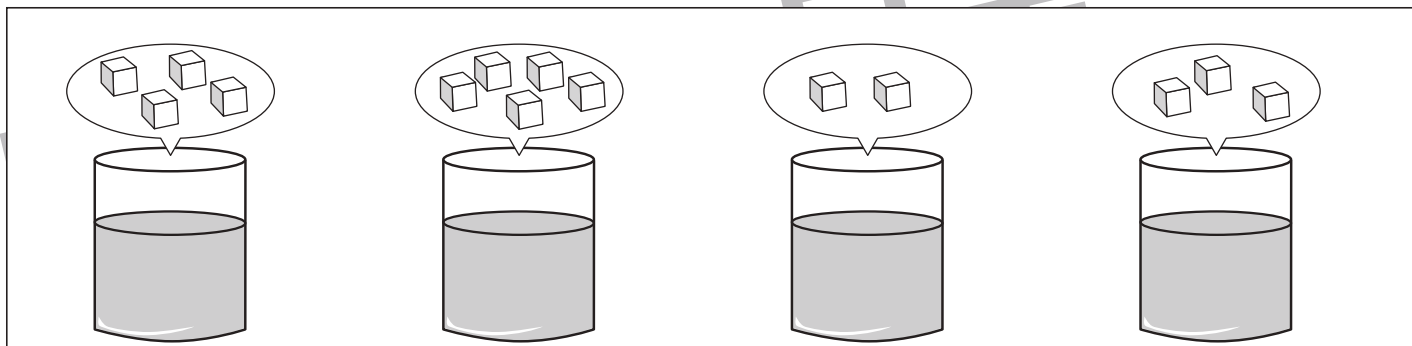
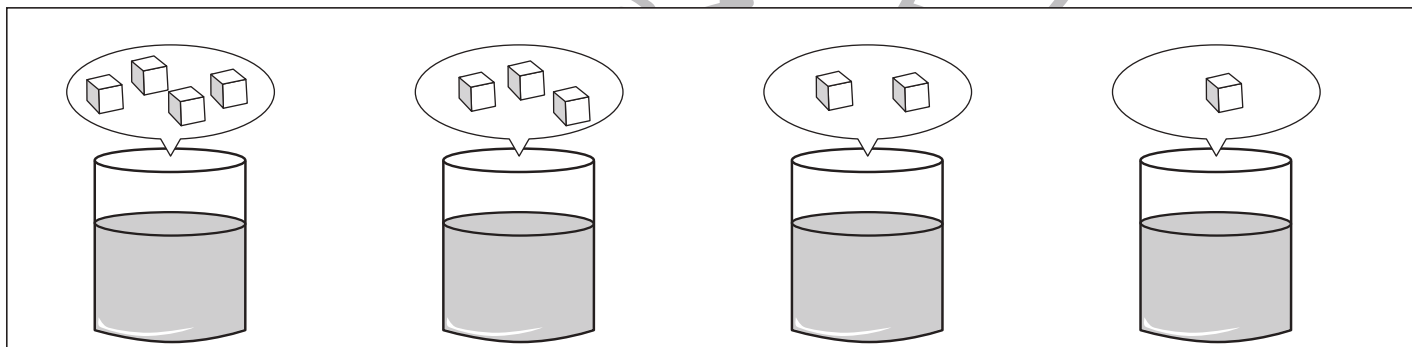
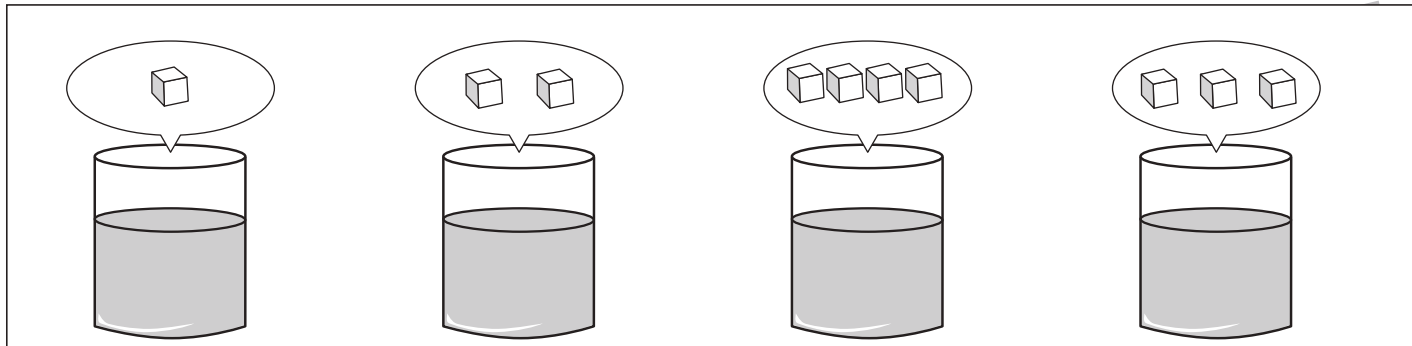


おうちで、やろう。

Study at home. 小学校受験の家庭学習教材

推理：濃度 1

それぞれの四角の中のコップには同じ量の水が入っています。このコップに上の吹き出しの中の角砂糖を入れます。一番甘くなるコップに○、一番甘くないコップに△をつけます。



※1. このプリントは、しながわ・目黒こどもスクールのウェブサイトからダウンロードができます。無断複写・引用はご遠慮ください。

※2. このプリントを活用したオンライン授業のスケジュールは、しながわ・目黒こどもスクールのウェブサイトでご確認ください。

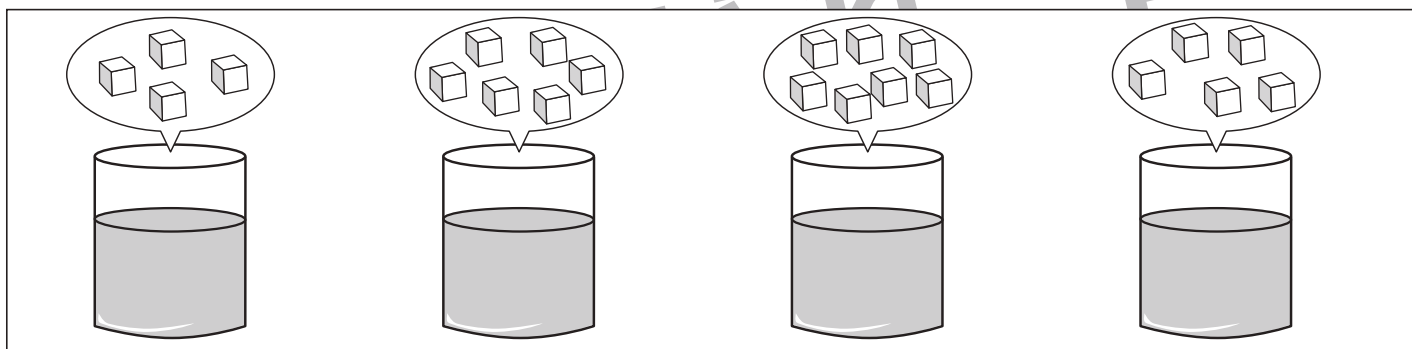
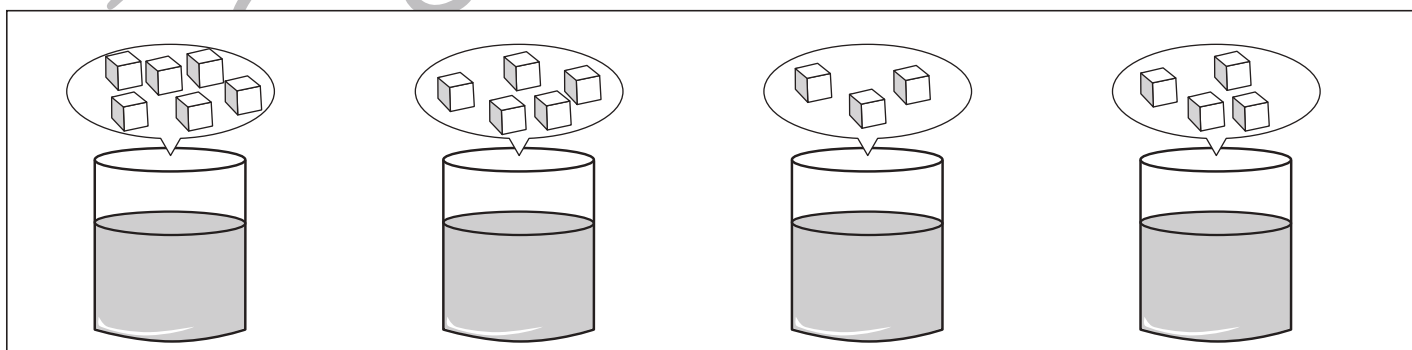
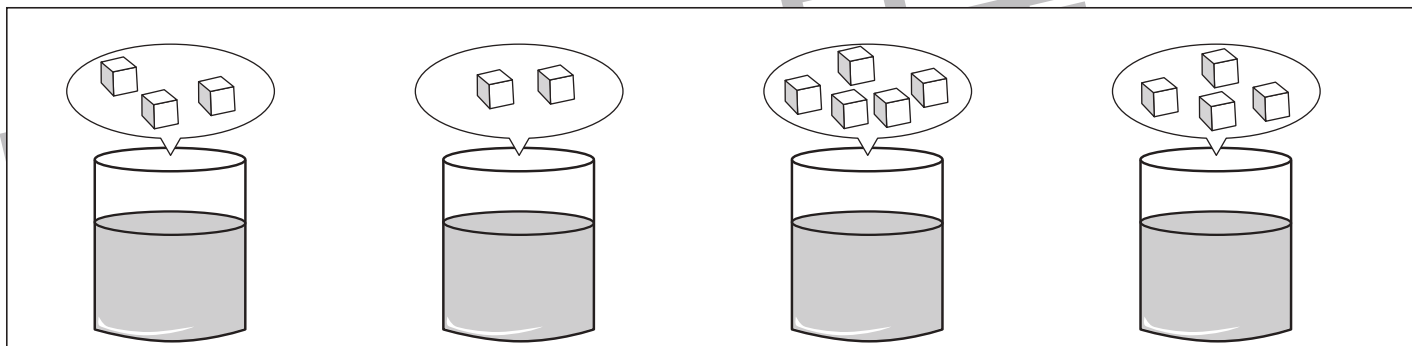
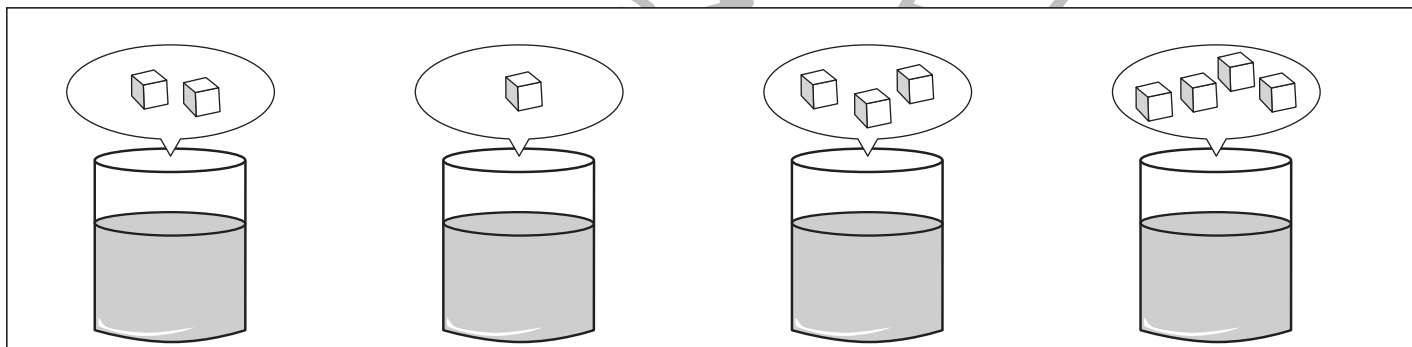
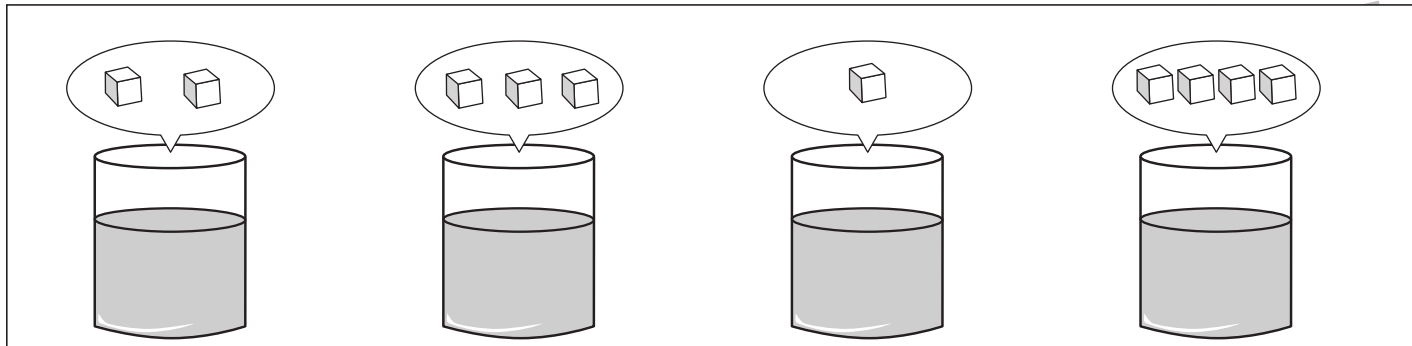


おうちで、やろう。

Study at home. 小学校受験の家庭学習教材

推理：濃度2

それぞれの四角の中のコップには同じ量の水が入っています。このコップに上の吹き出しの中の角砂糖を入れます。2番目に甘くなるコップに○、2番目に甘くないコップに△をつけます。



※1. このプリントは、しながわ・目黒こどもスクールのウェブサイトでダウンロードができます。無断複写・引用はご遠慮ください。

※2. このプリントを活用したオンライン授業のスケジュールは、しながわ・目黒こどもスクールのウェブサイトでご確認ください。

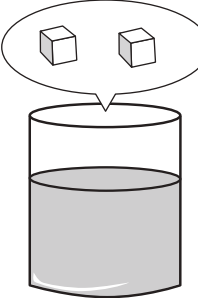







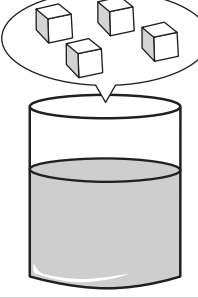
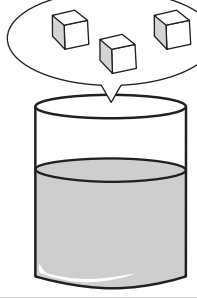
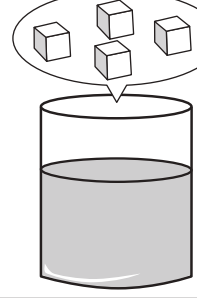











おうちで、やろう。

Study at home. 小学校受験の家庭学習教材

推理：濃度3

それぞれの四角の中のコップには同じ量の水が入っています。このコップに上の吹き出しの中の角砂糖を入れます。同じ甘さになるコップを見つけて○をつけます。

※1. このプリントは、しながわ・目黒こどもスクールのウェブサイトダウンロードができます。無断複写・引用はご遠慮ください。

※2. このプリントを活用したオンライン授業のスケジュールは、しながわ・目黒こどもスクールのウェブサイトでご確認ください。



おうちで、やろう。

Study at home. 小学校受験の家庭学習教材

数量：条件推理7

それぞれ縦と横に3つずつ四角が並んでいます。縦の3つ、横の3つの四角の中の丸を合わせると丸の数が8個になります。この約束のとき、空いている太い四角の中に丸が何個あればよいですか。その数だけ○をかきます。

※1. このプリントは、しながわ・目黒こどもスクールのウェブサイトでダウンロードができます。無断複写・引用はご遠慮ください。
 ※2. このプリントを活用したオンライン授業のスケジュールは、しながわ・目黒こどもスクールのウェブサイトでご確認ください。




おうちで、やろう。

Study at home. 小学校受験の家庭学習教材

処理：計数8

上の四角の中の絵の数をかぞえて、下の四角の同じ絵の右にその数だけ〇をかきます。
この問題はスピードを意識して取り組む練習をしてみましょう。(1分～1分30秒)



※1. このプリントは、しながわ・目黒こどもスクールのウェブサイトでダウンロードができます。無断複写・引用はご遠慮ください。
※2. このプリントを活用したオンライン授業のスケジュールは、しながわ・目黒こどもスクールのウェブサイトでご確認ください。