


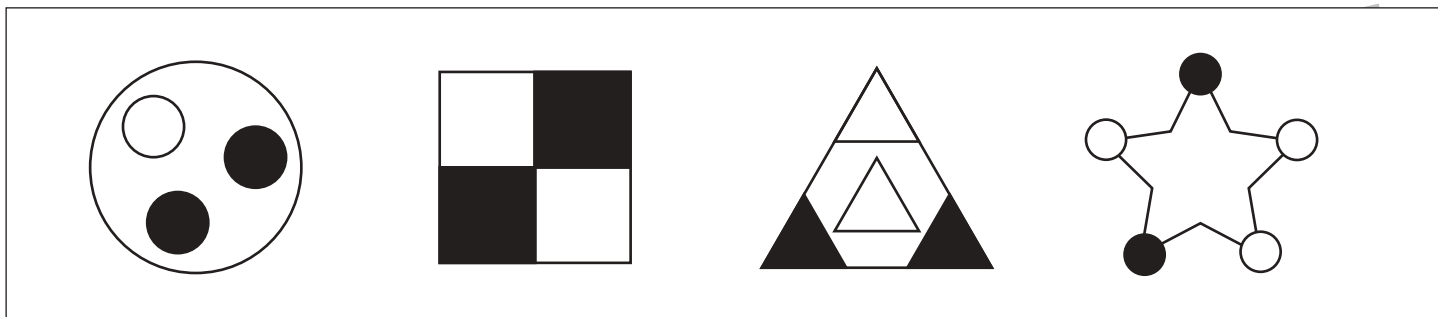


# おうちで、やろう。

Study at home. 小学校受験の家庭学習教材

## 図形：同図形 1

上の四角の中と同じ形を2つ見つけて○をつけます。



※1. このプリントは、しながわ・目黒こどもスクールのウェブサイトからダウンロードできます。無断複写・引用はご遠慮ください。  
 ※2. このプリントを活用したオンライン授業のスケジュールは、しながわ・目黒こどもスクールのウェブサイトでご確認ください。


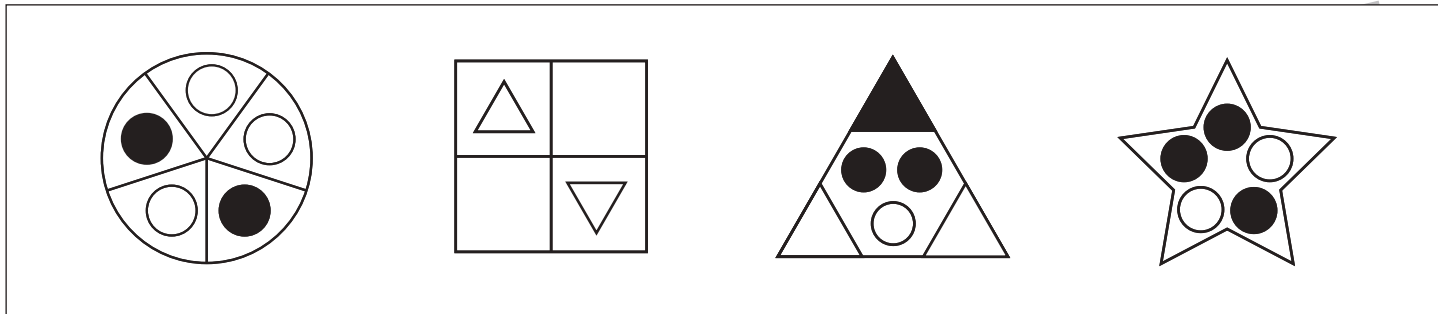


# おうちで、やろう。

Study at home. 小学校受験の家庭学習教材

## 図形：同図形2

上の四角の中と同じ形を2つずつ見つけて○をつけます。



※1. このプリントは、しながわ・目黒こどもスクールのウェブサイトからダウンロードできます。無断複写・引用はご遠慮ください。  
 ※2. このプリントを活用したオンライン授業のスケジュールは、しながわ・目黒こどもスクールのウェブサイトでご確認ください。



# おうちで、やろう。

Study at home. 小学校受験の家庭学習教材

図形：反転5

左の見本は透明な板にかかれた模様です。この板を上への矢印の方向へくると裏返しにした時の見え方を考えて右にかきます。

Figure 5: Reflection exercises on a 5x5 dot grid. Each exercise consists of a 5x5 grid with a pattern of connected dots and a circled starting point. A curved arrow above the grid indicates a 180-degree rotation. The second grid shows the pattern after reflection.

Row 1: The pattern starts at (row, col) (1,4) and goes to (1,3), (2,3), (2,2), (3,2), (3,1), (4,1), (4,2), (4,3), (4,4). The starting point is at (1,4).

Row 2: The pattern starts at (1,4) and goes to (1,3), (1,2), (2,2), (2,1), (3,1), (3,2), (3,3), (3,4), (3,5). The starting point is at (1,4).

Row 3: The pattern starts at (1,4) and goes to (1,3), (1,2), (1,1), (2,1), (2,2), (2,3), (2,4), (2,5). The starting point is at (1,4).

Row 4: The pattern starts at (1,4) and goes to (1,3), (1,2), (1,1), (2,1), (2,2), (2,3), (2,4), (2,5). The starting point is at (1,4).

※1. このプリントは、しながわ・目黒こどもスクールのウェブサイトでダウンロードができます。無断複写・引用はご遠慮ください。  
 ※2. このプリントを活用したオンライン授業のスケジュールは、しながわ・目黒こどもスクールのウェブサイトでご確認ください。



# おうちで、やろう。

Study at home. 小学校受験の家庭学習教材

## 図形：反転6

左の見本は透明な板にかかれた模様です。この板を上の方の矢印の方向へくると裏返しにした時の見え方を考えて右にかきます。

※1. このプリントは、しながわ・目黒こどもスクールのウェブサイトでダウンロードができます。無断複写・引用はご遠慮ください。  
 ※2. このプリントを活用したオンライン授業のスケジュールは、しながわ・目黒こどもスクールのウェブサイトでご確認ください。



# おうちで、やろう。

Study at home. 小学校受験の家庭学習教材

図形：反転7

左の見本は透明な板にかかれた模様です。この板を上矢印の方向へくると裏返しにした時の見え方を考えて右にかきます。

The main content consists of a 4x4 grid of dot patterns. Each row contains two pairs of 4x4 dot grids. The left grid in each pair shows a shape with a circled dot. A curved arrow above each grid indicates a 180-degree rotation. The right grid in each pair is empty, intended for the student to draw the rotated shape.

- Row 1:** Left grid shows a shape with a circled dot at (row, col) = (3, 2). Right grid is empty.
- Row 2:** Left grid shows a shape with a circled dot at (2, 2). Right grid is empty.
- Row 3:** Left grid shows a shape with a circled dot at (3, 3). Right grid is empty.
- Row 4:** Left grid shows a shape with a circled dot at (3, 4). Right grid is empty.

※1. このプリントは、しながわ・目黒こどもスクールのウェブサイトでダウンロードができます。無断複写・引用はご遠慮ください。  
 ※2. このプリントを活用したオンライン授業のスケジュールは、しながわ・目黒こどもスクールのウェブサイトでご確認ください。



# おうちで、やろう。

Study at home. 小学校受験の家庭学習教材

## 数量：違う数 11

ゾウとライオンとクマが同じクッキーを持っていますが、持っている数が違います。3匹の持っているクッキーのうち数が一番多い動物と数が一番少ない動物のクッキーの数の違いはいくつですか。その数だけ下の四角に○をかきます。






※1. このプリントは、しながわ・目黒こどもスクールのウェブサイトでダウンロードができます。無断複写・引用はご遠慮ください。

※2. このプリントを活用したオンライン授業のスケジュールは、しながわ・目黒こどもスクールのウェブサイトでご確認ください。









# おうちで、やろう。




Study at home. 小学校受験の家庭学習教材




## 数量：違う数 12




ゾウとライオンとクマが同じクッキーを持っていますが、持っている数が違います。3匹の持っているクッキーのうち数が一番多い動物と数が一番少ない動物のクッキーの数の違いはいくつですか。その数だけ下の四角に〇をかきます。

 7 smiley faces	 10 smiley faces	 8 smiley faces

 6 checkerboard squares	 8 checkerboard squares	 10 checkerboard squares

 12 round cookies	 8 round cookies	 6 round cookies

 7 flowers	 3 flowers	 10 flowers

 5 hearts	 12 hearts	 10 hearts

※1. このプリントは、しながわ・目黒こどもスクールのウェブサイトでダウンロードができます。無断複写・引用はご遠慮ください。  
 ※2. このプリントを活用したオンライン授業のスケジュールは、しながわ・目黒こどもスクールのウェブサイトでご確認ください。





おうちで、やろう。

Study at home. 小学校受験の家庭学習教材

巧緻性：ちぎり1

①点線をはさみで切ります。

②それぞれの動物の太い線の上をちぎりましょう。



※1. このプリントは、しながわ・目黒こどもスクールのウェブサイトでダウンロードができます。無断複写・引用はご遠慮ください。

※2. このプリントを活用したオンライン授業のスケジュールは、しながわ・目黒こどもスクールのウェブサイトでご確認ください。









# おうちで、やろう。

Study at home. 小学校受験の家庭学習教材

巧緻性：ちぎり2

①点線をはさみで切ります。

②それぞれの動物の太い線の上をちぎりましょう。



※1. このプリントは、しながわ・目黒こどもスクールのウェブサイトでダウンロードができます。無断複写・引用はご遠慮ください。

※2. このプリントを活用したオンライン授業のスケジュールは、しながわ・目黒こどもスクールのウェブサイトでご確認ください。






# おうちで、やろう。

Study at home. 小学校受験の家庭学習教材

巧緻性：ちぎり3

- ①点線をはさみで切ります。
- ②それぞれの果物の周りの太い線の上をちぎりましょう。



※1. このプリントは、しながわ・目黒こどもスクールのウェブサイトでダウンロードができます。無断複写・引用はご遠慮ください。  
※2. このプリントを活用したオンライン授業のスケジュールは、しながわ・目黒こどもスクールのウェブサイトでご確認ください。

