


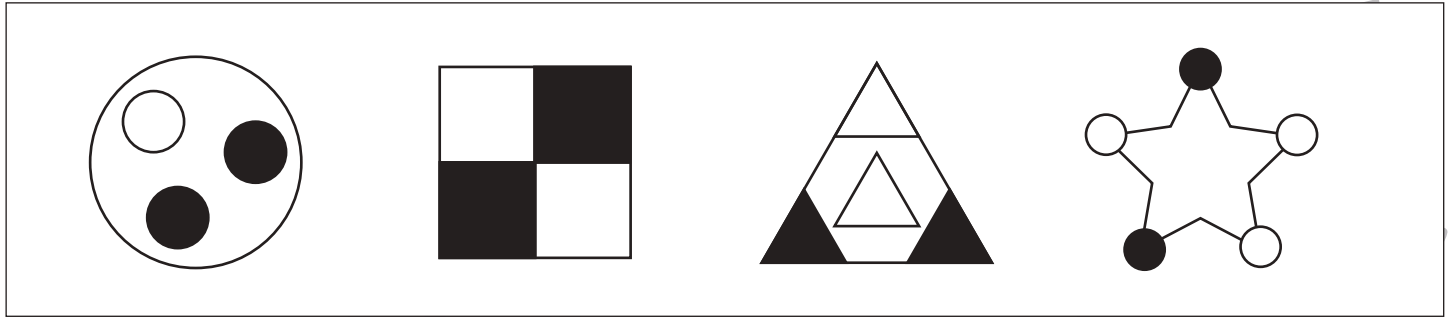


# おうちで、やろう。

Study at home. 小学校受験の家庭学習教材

## 図形：同図形 1

上の四角の中と同じ形を2つ見つけて○をつけます。



※1. このプリントは、しながわ・目黒こどもスクールのウェブサイトでダウンロードができます。無断複写・引用はご遠慮ください。  
 ※2. このプリントを活用したオンライン授業のスケジュールは、しながわ・目黒こどもスクールのウェブサイトでご確認ください。


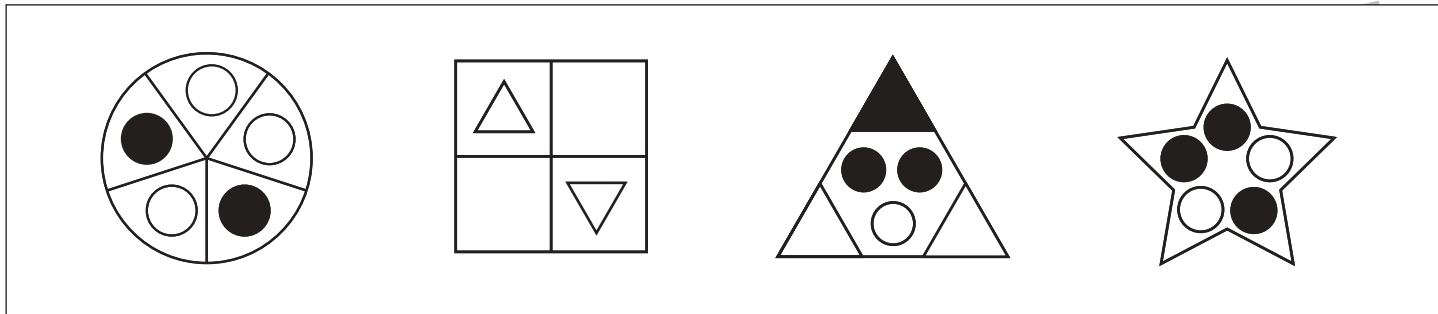


# おうちで、やろう。

Study at home. 小学校受験の家庭学習教材

## 図形：同図形2

上の四角の中と同じ形を2つずつ見つけて○をつけます。



※1. このプリントは、しながわ・目黒こどもスクールのウェブサイトでダウンロードができます。無断複写・引用はご遠慮ください。  
 ※2. このプリントを活用したオンライン授業のスケジュールは、しながわ・目黒こどもスクールのウェブサイトでご確認ください。



# おうちで、やろう。

Study at home. 小学校受験の家庭学習教材

## 図形：反転5

左の見本は透明な板にかかれた模様です。この板を上矢印の方向へくると裏返しにした時の見え方を考えて右にかきます。

※1. このプリントは、しながわ・目黒こどもスクールのウェブサイトでダウンロードができます。無断複写・引用はご遠慮ください。  
 ※2. このプリントを活用したオンライン授業のスケジュールは、しながわ・目黒こどもスクールのウェブサイトでご確認ください。



# おうちで、やろう。

Study at home. 小学校受験の家庭学習教材

## 図形：反転6

左の見本は透明な板にかかれた模様です。この板を上への矢印の方向へくると裏返しにした時の見え方を考えて右にかきます。

The image contains 16 puzzles arranged in a 4x4 grid. Each puzzle is on a 4x4 dot grid. The left column shows the original path, and the right column shows the path after a 180-degree rotation. The paths are as follows:

- Row 1:** Path starts at (4,4) and ends at (1,4). Rotated path starts at (1,4) and ends at (4,4).
- Row 2:** Path starts at (2,4) and ends at (4,2). Rotated path starts at (4,2) and ends at (2,4).
- Row 3:** Path starts at (2,3) and ends at (3,1). Rotated path starts at (3,1) and ends at (2,3).
- Row 4:** Path starts at (1,2) and ends at (3,3). Rotated path starts at (3,3) and ends at (1,2).

※1. このプリントは、しながわ・目黒こどもスクールのウェブサイトでダウンロードができます。無断複写・引用はご遠慮ください。  
 ※2. このプリントを活用したオンライン授業のスケジュールは、しながわ・目黒こどもスクールのウェブサイトでご確認ください。



# おうちで、やろう。

Study at home. 小学校受験の家庭学習教材

## 図形：反転7

左の見本は透明な板にかかれた模様です。この板を上の方の矢印の方向へくると裏返しにした時の見え方を考えて右にかきます。

※1. このプリントは、しながわ・目黒こどもスクールのウェブサイトでダウンロードができます。無断複写・引用はご遠慮ください。  
 ※2. このプリントを活用したオンライン授業のスケジュールは、しながわ・目黒こどもスクールのウェブサイトでご確認ください。



# おうちで、やろう。

Study at home. 小学校受験の家庭学習教材

数量：違う数 11

ゾウとライオンとクマが同じクッキーを持っていますが、持っている数が違います。3匹の持っているクッキーのうち数が一番多い動物と数が一番少ない動物のクッキーの数の違いはいくつですか。その数だけ下の四角に○をかきます。

$\bigcirc \times 2$		

$\bigcirc \times 3$		

$\bigcirc \times 6$		

$\bigcirc \times 4$		

$\bigcirc \times 4$		

※1. このプリントは、しながわ・目黒こどもスクールのウェブサイトでダウンロードができます。無断複写・引用はご遠慮ください。  
 ※2. このプリントを活用したオンライン授業のスケジュールは、しながわ・目黒こどもスクールのウェブサイトでご確認ください。



# おうちで、やろう。

Study at home. 小学校受験の家庭学習教材

数量：違う数 12

ゾウとライオンとクマが同じクッキーを持っていますが、持っている数が違います。3匹の持っているクッキーのうち数が一番多い動物と数が一番少ない動物のクッキーの数の違いはいくつですか。その数だけ下の四角に○をかきます。

○ × 4		

○ × 2		

○ × 6		

○ × 9		

○ × 7		

※1. このプリントは、しながわ・目黒こどもスクールのウェブサイトでダウンロードができます。無断複写・引用はご遠慮ください。  
 ※2. このプリントを活用したオンライン授業のスケジュールは、しながわ・目黒こどもスクールのウェブサイトでご確認ください。