



# おうちで、やろう。

Study at home. 小学校受験の家庭学習教材

図形：構成8

左の四角の中の形を真ん中の四角を使って作りました。真ん中の四角を使った数だけ右の四角に○をかきます。


※1. このプリントは、しながわ・目黒こどもスクールのウェブサイトでダウンロードができます。無断複写・引用はご遠慮ください。

※2. このプリントを活用したオンライン授業のスケジュールは、しながわ・目黒こどもスクールのウェブサイトでご確認ください。



# おうちで、やろう。

Study at home. 小学校受験の家庭学習教材

図形：構成9

左の四角の中の形を真ん中の四角を使って作りました。真ん中の四角を使った数だけ右の四角に○をかきます。


※1. このプリントは、しながわ・目黒こどもスクールのウェブサイトでダウンロードができます。無断複写・引用はご遠慮ください。

※2. このプリントを活用したオンライン授業のスケジュールは、しながわ・目黒こどもスクールのウェブサイトでご確認ください。



# おうちで、やろう。

Study at home. 小学校受験の家庭学習教材

## 推理：隠れた絵4

それぞれの四角の中のマスには同じ果物があります。灰色で隠れている場所に果物がいくつあるのかを考えて、その数だけ下の太い四角の中に○をかきます。

🍓	🍓	🍓	🍓
🍓			
🍓			
🍓	🍓	🍓	🍓

🍒	🍒	🍒	🍒
		🍒	🍒
		🍒	🍒
🍒	🍒		

🍑			
🍑	🍑	🍑	
🍑	🍑	🍑	

🍊	🍊	🍊	🍊
🍊			
		🍊	🍊
		🍊	🍊

※1. このプリントは、しながわ・目黒こどもスクールのウェブサイトでダウンロードができます。無断複写・引用はご遠慮ください。  
 ※2. このプリントを活用したオンライン授業のスケジュールは、しながわ・目黒こどもスクールのウェブサイトでご確認ください。



# おうちで、やろう。

Study at home. 小学校受験の家庭学習教材

## 推理：隠れた絵5

それぞれの四角の中のマスには同じ果物があります。灰色で隠れている場所に果物がいくつあるのかを考えて、その数だけ下の太い四角の中に○をかきます。





※1. このプリントは、しながわ・目黒こどもスクールのウェブサイトでダウンロードができます。無断複写・引用はご遠慮ください。  
 ※2. このプリントを活用したオンライン授業のスケジュールは、しながわ・目黒こどもスクールのウェブサイトでご確認ください。



# おうちで、やろう。

Study at home. 小学校受験の家庭学習教材

## 推理：隠れた絵6

それぞれの四角の中のマスには同じ果物があります。灰色で隠れている場所に果物がいくつあるのかを考えて、その数だけ下の太い四角の中に○をかきます。

Grid 1: 4x4 grid with grapes. Grey blocks are at (2,3), (2,4), (3,3), (3,4), and (4,4).

Grid 2: 4x4 grid with oranges. Grey blocks are at (2,1), (2,2), (2,3), (3,1), (3,2), (4,4), and (4,5).

Grid 3: 4x4 grid with blueberries. Grey blocks are at (2,2), (2,4), (3,2), (3,3), (4,2), (4,3), (4,4), and (5,4).

Grid 4: 4x4 grid with apples. Grey blocks are at (1,1), (1,2), (2,3), (2,4), (3,2), (3,3), (4,1), (4,2), (4,3), (4,4), and (5,1), (5,2), (5,3).

※1. このプリントは、しながわ・目黒こどもスクールのウェブサイトでダウンロードができます。無断複写・引用はご遠慮ください。  
 ※2. このプリントを活用したオンライン授業のスケジュールは、しながわ・目黒こどもスクールのウェブサイトでご確認ください。

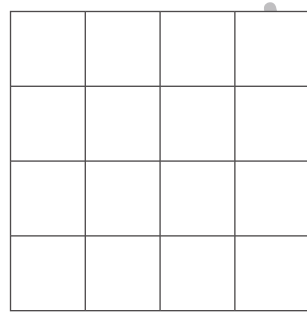

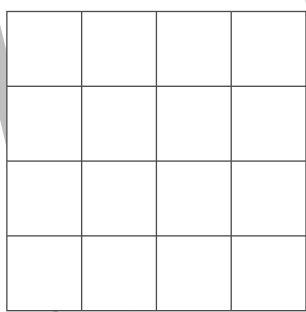
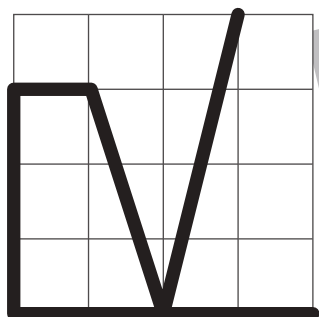
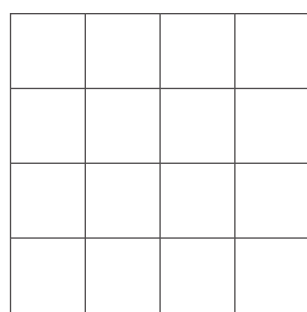
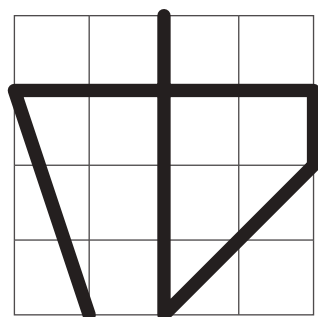


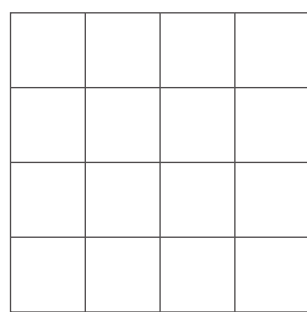
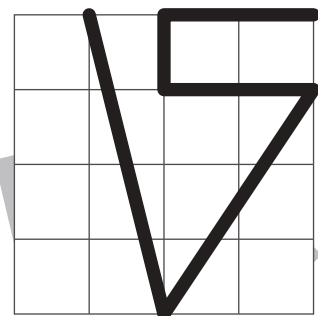

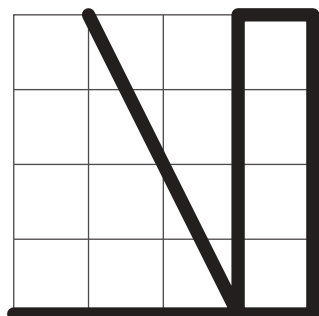

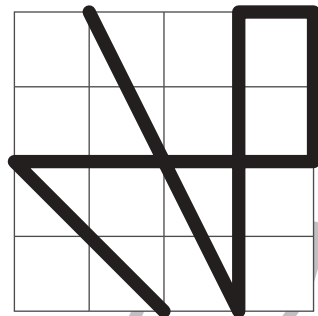
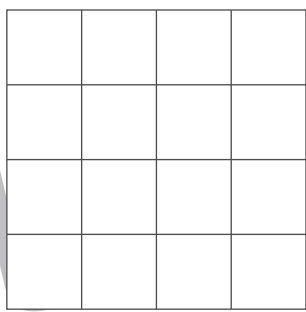
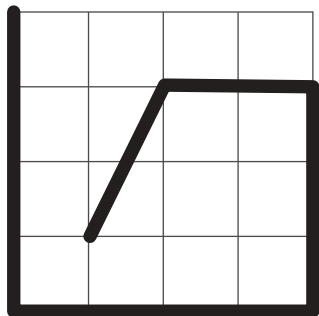


# おうちで、やろう。

Study at home. 小学校受験の家庭学習教材

運筆：模写2

左がお手本です。お手本と同じ線を右の四角にかきます。  
※この問題に解答はありません。



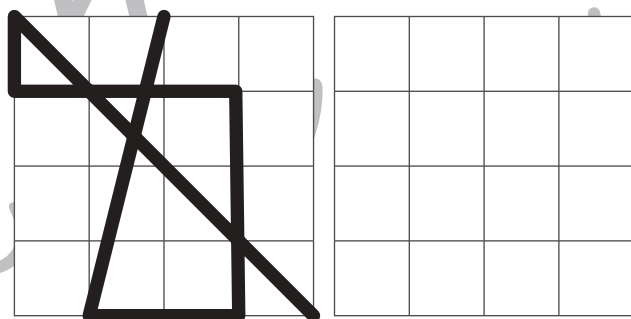
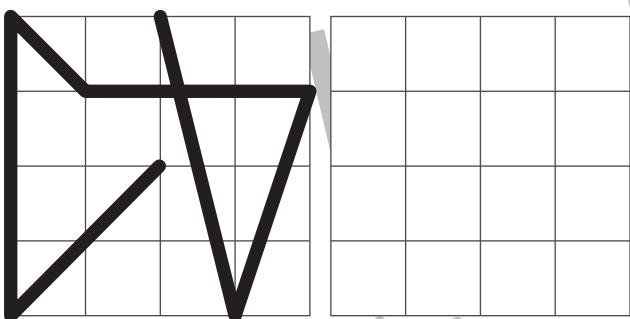
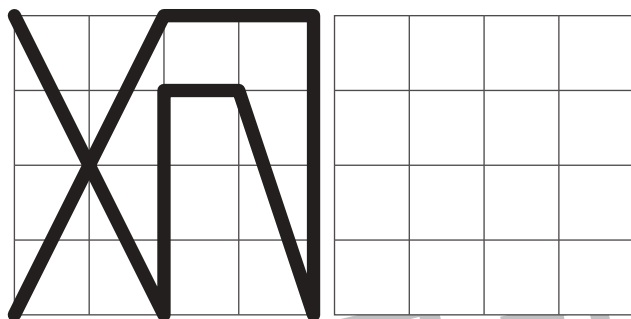

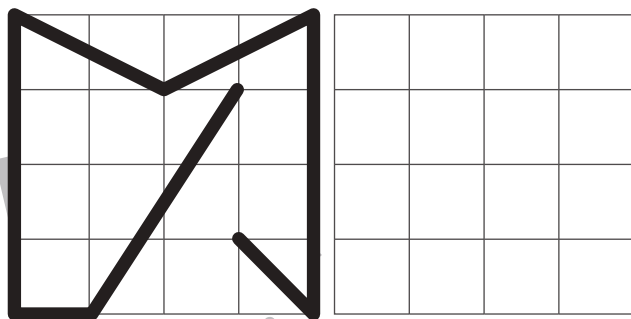


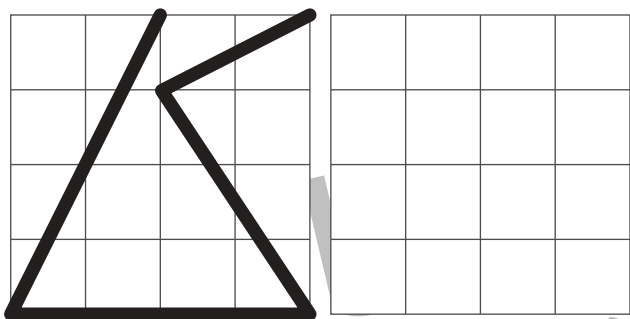


# おうちで、やろう。

Study at home. 小学校受験の家庭学習教材

運筆：模写3

左がお手本です。お手本と同じ線を右の四角にかきます。  
※この問題に解答はありません。



※1. このプリントは、しながわ・目黒こどもスクールのウェブサイトでダウンロードができます。無断複写・引用はご遠慮ください。  
※2. このプリントを活用したオンライン授業のスケジュールは、しながわ・目黒こどもスクールのウェブサイトでご確認ください。








おうちで、やろう。

Study at home. 小学校受験の家庭学習教材

巧緻性：はさみ1

①点線をはさみで切ります。

②それぞれの絵の線をはさみで切ります。



※1. このプリントは、しながわ・目黒こどもスクールのウェブサイトでダウンロードができます。無断複写・引用はご遠慮ください。

※2. このプリントを活用したオンライン授業のスケジュールは、しながわ・目黒こどもスクールのウェブサイトでご確認ください。








おうちで、よろう。

Study at home. 小学校受験の家庭学習教材

巧緻性：はさみ2

①点線をはさみで切ります。

②それぞれの絵の線をはさみで切ります。



※1. このプリントは、しながわ・目黒こどもスクールのウェブサイトでダウンロードができます。無断複写・引用はご遠慮ください。

※2. このプリントを活用したオンライン授業のスケジュールは、しながわ・目黒こどもスクールのウェブサイトでご確認ください。





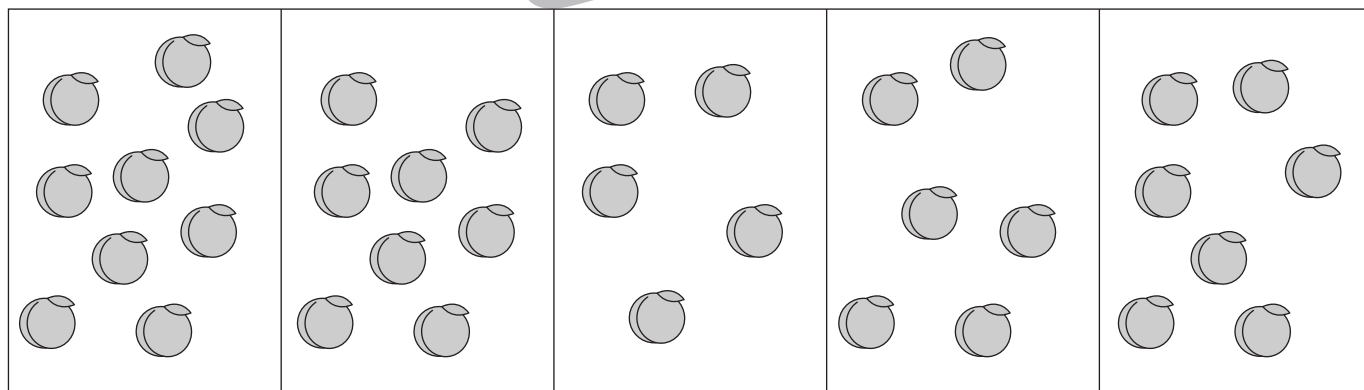
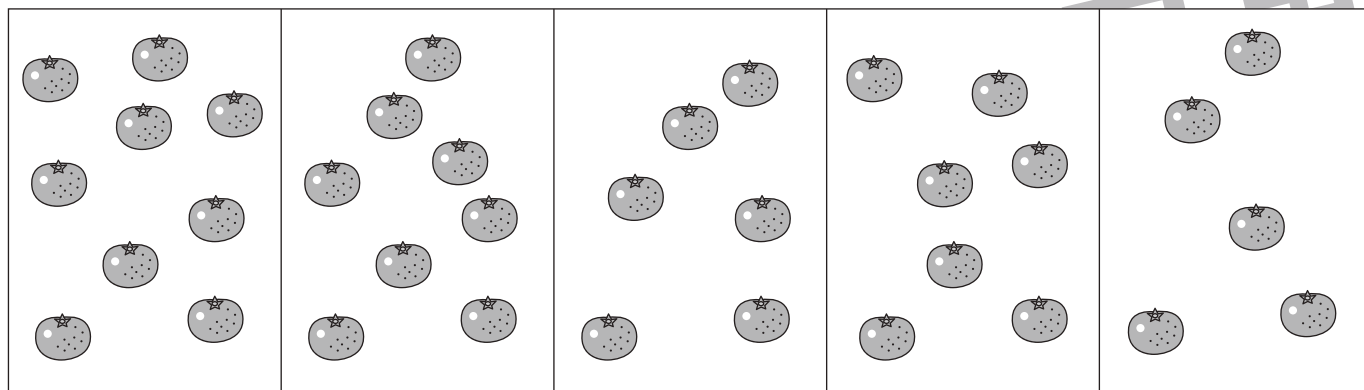


# おうちで、やろう。

Study at home. 小学校受験の家庭学習教材

処理：多少3

横に並んだ5つの四角の中の果物のうち数が2番目に少ない四角に○をつけます。  
この問題はスピードを意識して取り組む練習をしてみましょう。(1分30秒～2分)



※1. このプリントは、しながわ・目黒こどもスクールのウェブサイトでダウンロードができます。無断複写・引用はご遠慮ください。  
 ※2. このプリントを活用したオンライン授業のスケジュールは、しながわ・目黒こどもスクールのウェブサイトでご確認ください。