



おうちで、よろう。

Study at home. 小学校受験の家庭学習教材

図形：構成8

左の四角の中の形を真ん中の四角を使って作りました。真ん中の四角を使った数だけ右の四角に○をかきます。

		<table border="1"> <tbody> <tr><td>○</td><td>○</td><td>○</td><td>○</td><td>○</td></tr> <tr><td></td><td></td><td></td><td></td><td></td></tr> <tr><td></td><td></td><td></td><td></td><td></td></tr> </tbody> </table>	○	○	○	○	○										
○	○	○	○	○													
		<table border="1"> <tbody> <tr><td>○</td><td>○</td><td>○</td><td>○</td><td>○</td></tr> <tr><td></td><td></td><td></td><td></td><td></td></tr> <tr><td></td><td></td><td></td><td></td><td></td></tr> </tbody> </table>	○	○	○	○	○										
○	○	○	○	○													
		<table border="1"> <tbody> <tr><td>○</td><td>○</td><td>○</td><td>○</td><td>○</td></tr> <tr><td>○</td><td></td><td></td><td></td><td></td></tr> <tr><td></td><td></td><td></td><td></td><td></td></tr> </tbody> </table>	○	○	○	○	○	○									
○	○	○	○	○													
○																	
		<table border="1"> <tbody> <tr><td>○</td><td>○</td><td>○</td><td>○</td><td>○</td></tr> <tr><td>○</td><td></td><td></td><td></td><td></td></tr> <tr><td></td><td></td><td></td><td></td><td></td></tr> </tbody> </table>	○	○	○	○	○	○									
○	○	○	○	○													
○																	

※1. このプリントは、しながわ・目黒こどもスクールのウェブサイトでダウンロードができます。無断複写・引用はご遠慮ください。

※2. このプリントを活用したオンライン授業のスケジュールは、しながわ・目黒こどもスクールのウェブサイトでご確認ください。



おうちで、よろう。

Study at home. 小学校受験の家庭学習教材

図形：構成9

左の四角の中の形を真ん中の四角を使って作りました。真ん中の四角を使った数だけ右の四角に○をかきます。

		<table border="1"> <tbody> <tr><td></td><td></td><td></td><td></td><td></td></tr> <tr><td></td><td></td><td></td><td></td><td></td></tr> <tr><td></td><td></td><td></td><td></td><td></td></tr> </tbody> </table>															
		<table border="1"> <tbody> <tr><td></td><td></td><td></td><td></td><td></td></tr> <tr><td></td><td></td><td></td><td></td><td></td></tr> <tr><td></td><td></td><td></td><td></td><td></td></tr> </tbody> </table>															
		<table border="1"> <tbody> <tr><td></td><td></td><td></td><td></td><td></td></tr> <tr><td></td><td></td><td></td><td></td><td></td></tr> <tr><td></td><td></td><td></td><td></td><td></td></tr> </tbody> </table>															
		<table border="1"> <tbody> <tr><td></td><td></td><td></td><td></td><td></td></tr> <tr><td></td><td></td><td></td><td></td><td></td></tr> <tr><td></td><td></td><td></td><td></td><td></td></tr> </tbody> </table>															

※1. このプリントは、しながわ・目黒こどもスクールのウェブサイトでダウンロードができます。無断複写・引用はご遠慮ください。

※2. このプリントを活用したオンライン授業のスケジュールは、しながわ・目黒こどもスクールのウェブサイトでご確認ください。

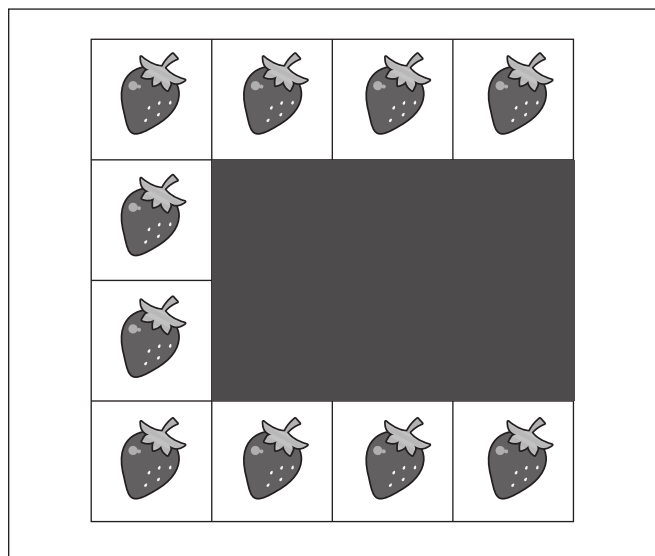


おうちで、やろう。

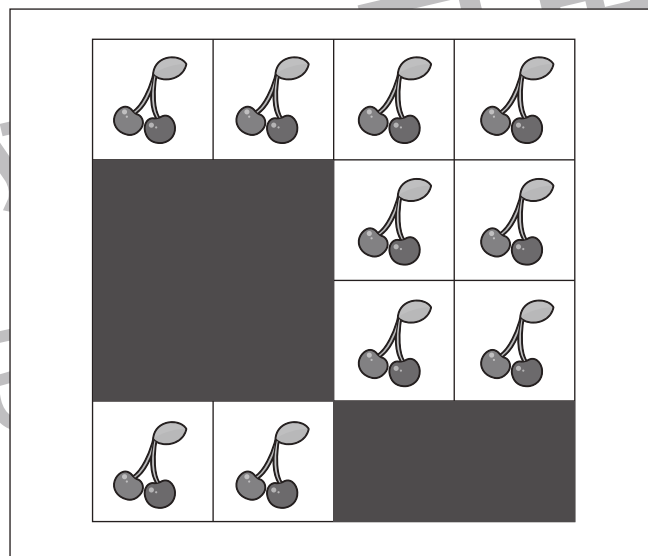
Study at home. 小学校受験の家庭学習教材

推理：隠れた絵4

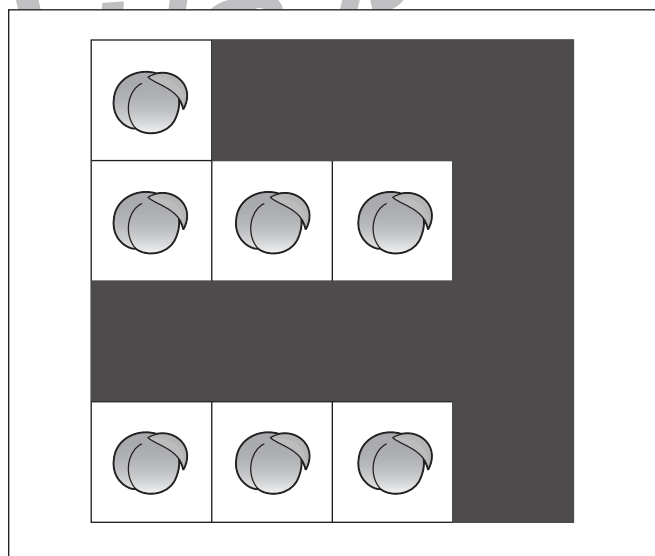
それぞれの四角の中のマスには同じ果物があります。灰色で隠れている場所に果物がいくつあるのかを考えて、その数だけ下の太い四角の中に○をかきます。



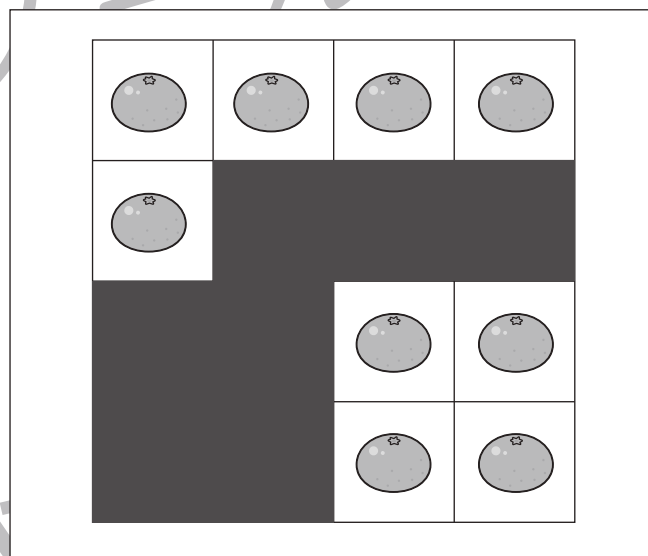
○ × 6



○ × 6



○ × 9



○ × 7

※1. このプリントは、しながわ・目黒こどもスクールのウェブサイトでダウンロードができます。無断複写・引用はご遠慮ください。
 ※2. このプリントを活用したオンライン授業のスケジュールは、しながわ・目黒こどもスクールのウェブサイトでご確認ください。

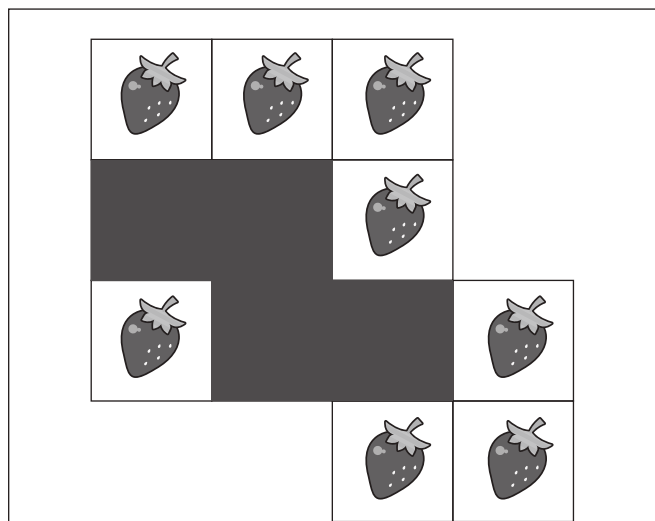


おうちで、やろう。

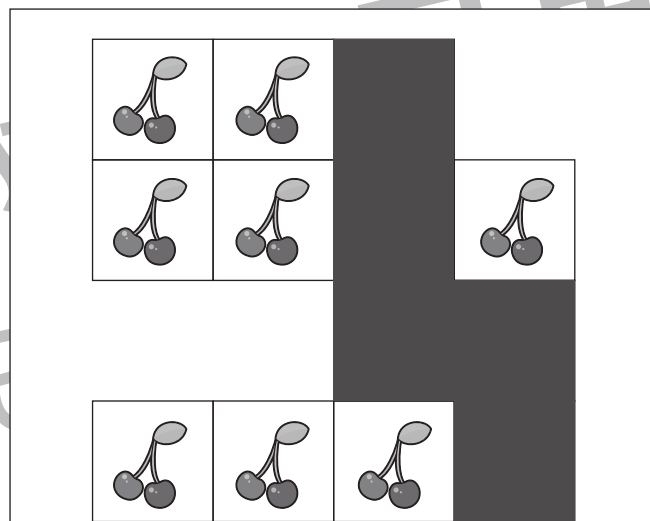
Study at home. 小学校受験の家庭学習教材

推理：隠れた絵5

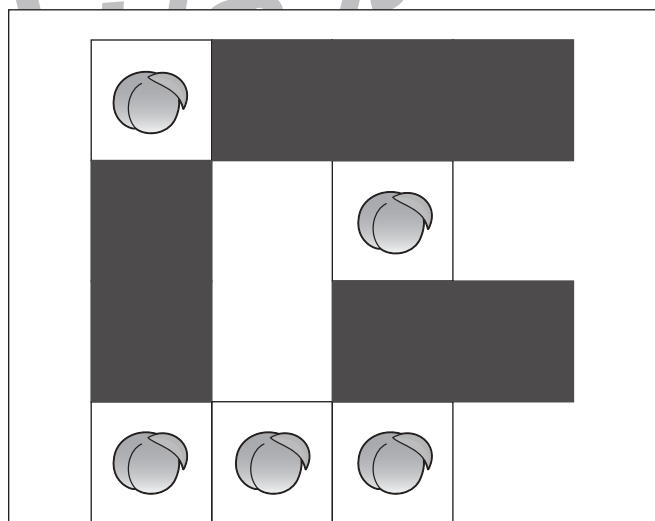
それぞれの四角の中のマスには同じ果物があります。灰色で隠れている場所に果物がいくつあるのかを考えて、その数だけ下の太い四角の中に○をかきます。



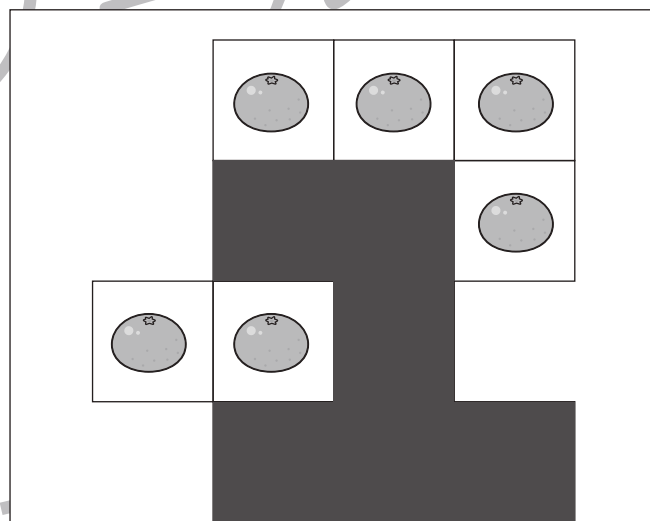
○ × 4



○ × 5



○ × 7



○ × 6

※1. このプリントは、しながわ・目黒こどもスクールのウェブサイトからダウンロードできます。無断複写・引用はご遠慮ください。
※2. このプリントを活用したオンライン授業のスケジュールは、しながわ・目黒こどもスクールのウェブサイトでご確認ください。

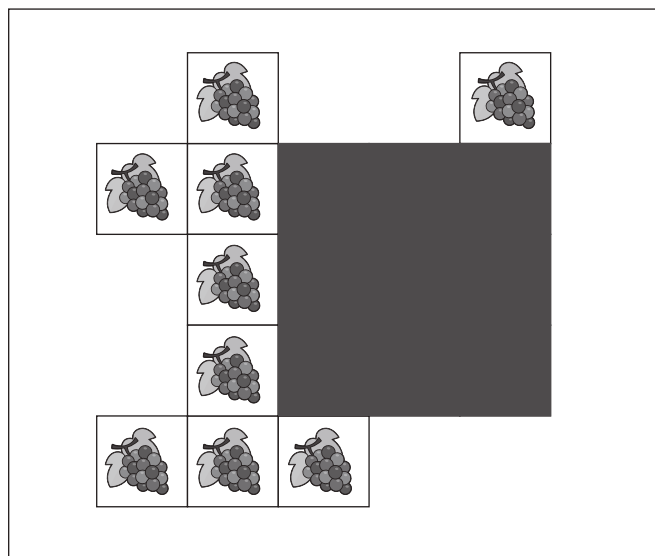


おうちで、やろう。

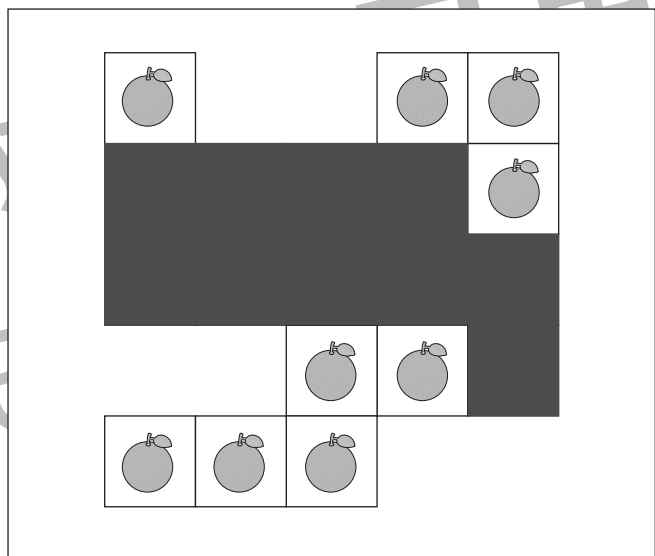
Study at home. 小学校受験の家庭学習教材

推理：隠れた絵6

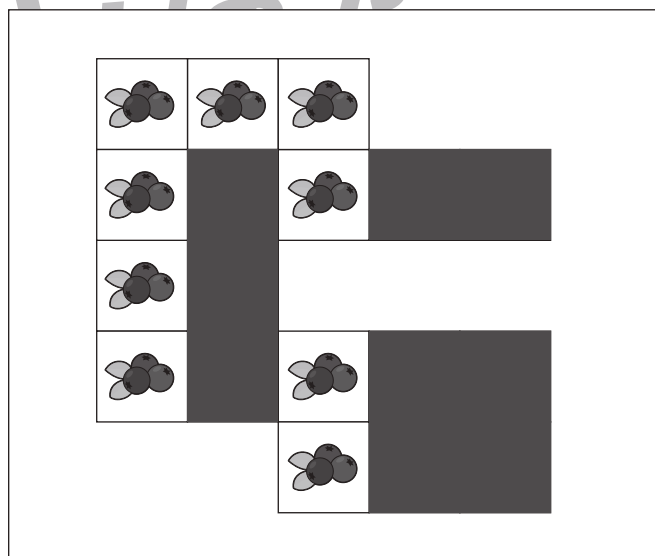
それぞれの四角の中のマスには同じ果物があります。灰色で隠れている場所に果物がいくつあるのかを考えて、その数だけ下の太い四角の中に○をかきます。



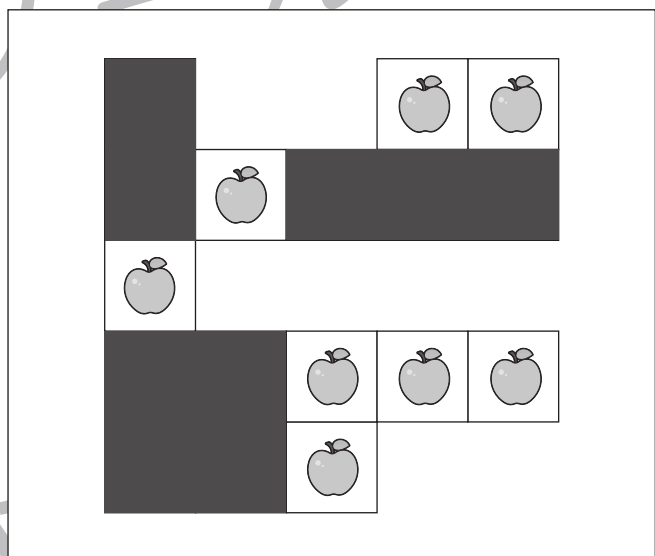
○ × 9



○ × 10



○ × 9



○ × 9

※1. このプリントは、しながわ・目黒こどもスクールのウェブサイトでダウンロードができます。無断複写・引用はご遠慮ください。
※2. このプリントを活用したオンライン授業のスケジュールは、しながわ・目黒こどもスクールのウェブサイトでご確認ください。



おうちで、やろう。

Study at home. 小学校受験の家庭学習教材

処理：多少3

横に並んだ5つの四角の中の果物のうち数が2番目に少ない四角に○をつけます。
この問題はスピードを意識して取り組む練習をしてみましょう。(1分30秒～2分)

9 	8 	6 	7 	5
-------	-------	-------	-------	-------

9 	8 	5 	6 	7
-------	-------	-------	-------	-------

7 	10 	6 	8 	9
-------	--------	-------	-------	-------

11 	10 	9 	7 	8
--------	--------	-------	-------	-------

※1. このプリントは、しながわ・目黒こどもスクールのウェブサイトでダウンロードができます。無断複写・引用はご遠慮ください。
 ※2. このプリントを活用したオンライン授業のスケジュールは、しながわ・目黒こどもスクールのウェブサイトでご確認ください。