












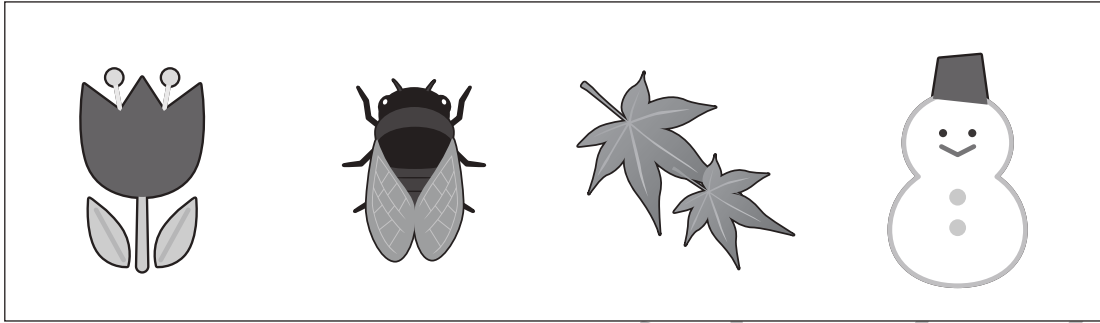
# おうちで、やろう。

Study at home. 小学校受験の家庭学習教材

常識：季節6

四角の中は季節の絵が並んでいます。

左から春→夏→秋→冬の順番で並んでいるときは○、順番が違うときは×を右の四角にかきます。



※1. このプリントは、しながわ・目黒こどもスクールのウェブサイトでダウンロードができます。無断複写・引用はご遠慮ください。  
※2. このプリントを活用したオンライン授業のスケジュールは、しながわ・目黒こどもスクールのウェブサイトでご確認ください。



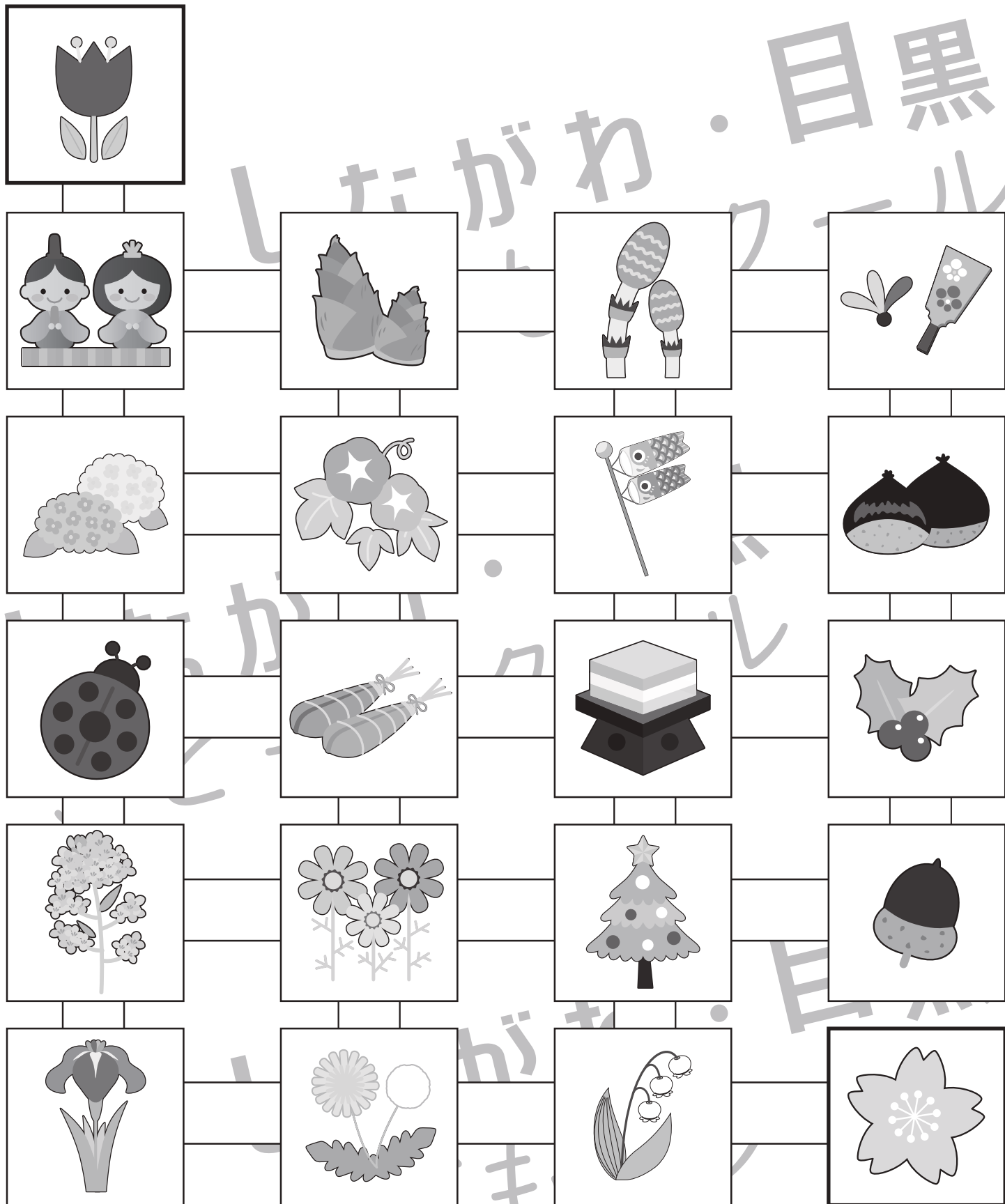


# おうちで、やろう。

Study at home. 小学校受験の家庭学習教材

常識：季節7

左上のチューリップから、右下の桜まで、春の季節のものだけを通して進み、線をひきます。



※1. このプリントは、しながわ・目黒こどもスクールのウェブサイトからダウンロードできます。無断複写・引用はご遠慮ください。  
 ※2. このプリントを活用したオンライン授業のスケジュールは、しながわ・目黒こどもスクールのウェブサイトでご確認ください。



# おうちで、やろう。

Study at home. 小学校受験の家庭学習教材

## 図形：移動 22

丸で囲んである点から上の四角の中の矢印の方向へ進み点と点を線で結びます。そして最後についた点を○で囲みます。  
上の四角の矢印は左から順番に見ていきます。

↑ → ↑ → ↓ ↓ → ↑

↑ ← ↓ ↓ → → ↑ →

↑ → ↑ ← ↑ → → ↓

← ← ↓ → ↓ → → ↑

※1. このプリントは、しながわ・目黒こどもスクールのウェブサイトでダウンロードができます。無断複写・引用はご遠慮ください。  
 ※2. このプリントを活用したオンライン授業のスケジュールは、しながわ・目黒こどもスクールのウェブサイトでご確認ください。



# おうちで、やろう。

Study at home. 小学校受験の家庭学習教材

## 図形：移動 23

丸で囲んである点から上の四角の中の矢印の方向へ進み点と点を線で結びます。そして最後についた点を○で囲みます。  
上の四角の矢印は左から順番に見ていきます。

→ ↘ ↑ → ↙ → → ↑ ←

↑ ↙ ↙ ↓ ↓ ← ↗ ↗ →

↗ ↙ ↙ ↓ ↘ → → ↘ ←

↙ ↘ ↗ ↗ ↘ ↓ ↓ ← ←

※1. このプリントは、しながわ・目黒こどもスクールのウェブサイトでダウンロードができます。無断複写・引用はご遠慮ください。  
※2. このプリントを活用したオンライン授業のスケジュールは、しながわ・目黒こどもスクールのウェブサイトでご確認ください。



# おうちで、やろう。

Study at home. 小学校受験の家庭学習教材

## 図形：折り重ね 18

左の透明な板を真ん中の太い線で折り重ねたあとの見え方を考えて、正しいものを右の4つの中から選んで○をつけます。

--	--	--	--	--

--	--	--	--	--

--	--	--	--	--

--	--	--	--	--

--	--	--	--	--

※1. このプリントは、しながわ・目黒こどもスクールのウェブサイトでダウンロードができます。無断複写・引用はご遠慮ください。

※2. このプリントを活用したオンライン授業のスケジュールは、しながわ・目黒こどもスクールのウェブサイトでご確認ください。



# おうちで、やろう。

Study at home. 小学校受験の家庭学習教材

## 図形：折り重ね 19

左の透明な板を真ん中の太い線で折り重ねたあとの見え方を考えて、正しいものを右の4つの中から選んで○をつけます。

--	--	--	--	--

--	--	--	--	--

--	--	--	--	--

--	--	--	--	--

--	--	--	--	--

※1. このプリントは、しながわ・目黒こどもスクールのウェブサイトでダウンロードができます。無断複写・引用はご遠慮ください。  
 ※2. このプリントを活用したオンライン授業のスケジュールは、しながわ・目黒こどもスクールのウェブサイトでご確認ください。



# おうちで、やろう。

Study at home. 小学校受験の家庭学習教材

## 図形：折り重ね 20

左の透明な板を真ん中の太い線で折り重ねたあとの見え方を考えて、正しいものを右の4つの中から選んで○をつけます。

--	--	--	--	--

--	--	--	--	--

--	--	--	--	--

--	--	--	--	--

--	--	--	--	--

※1. このプリントは、しながわ・目黒こどもスクールのウェブサイトでダウンロードができます。無断複写・引用はご遠慮ください。  
 ※2. このプリントを活用したオンライン授業のスケジュールは、しながわ・目黒こどもスクールのウェブサイトでご確認ください。







# おうちで、やろう。


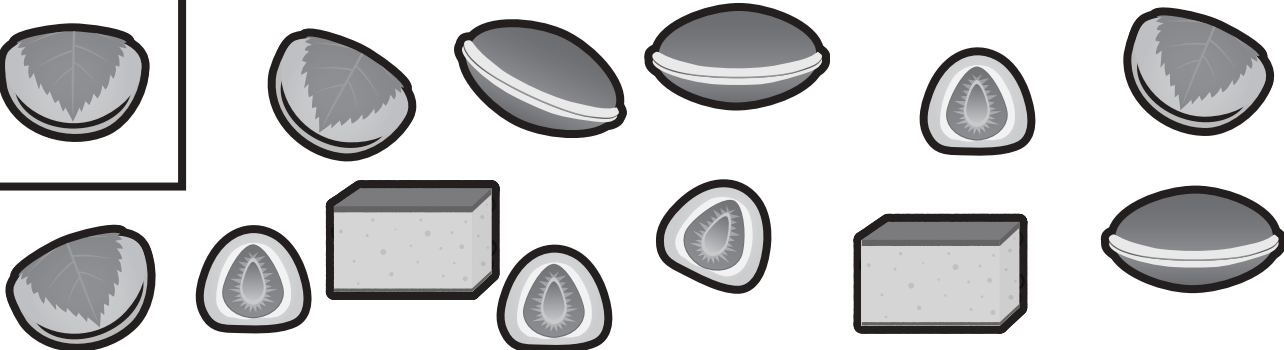
Study at home. 小学校受験の家庭学習教材

数量：計数7

太い四角の中の絵が、大きい四角の中にいくつあるか数えて、その数だけ下の四角に○をかきます。

※1. このプリントは、しながわ・目黒こどもスクールのウェブサイトでダウンロードができます。無断複写・引用はご遠慮ください。  
 ※2. このプリントを活用したオンライン授業のスケジュールは、しながわ・目黒こどもスクールのウェブサイトでご確認ください。



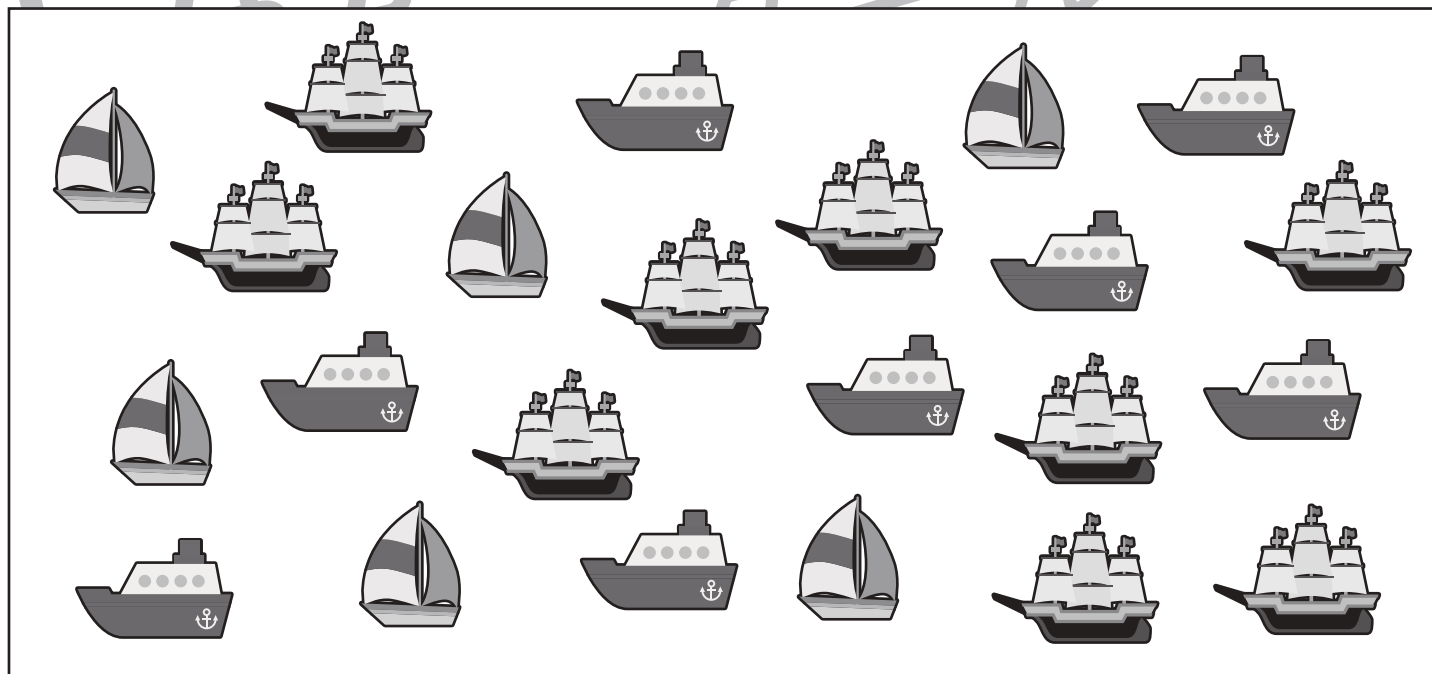
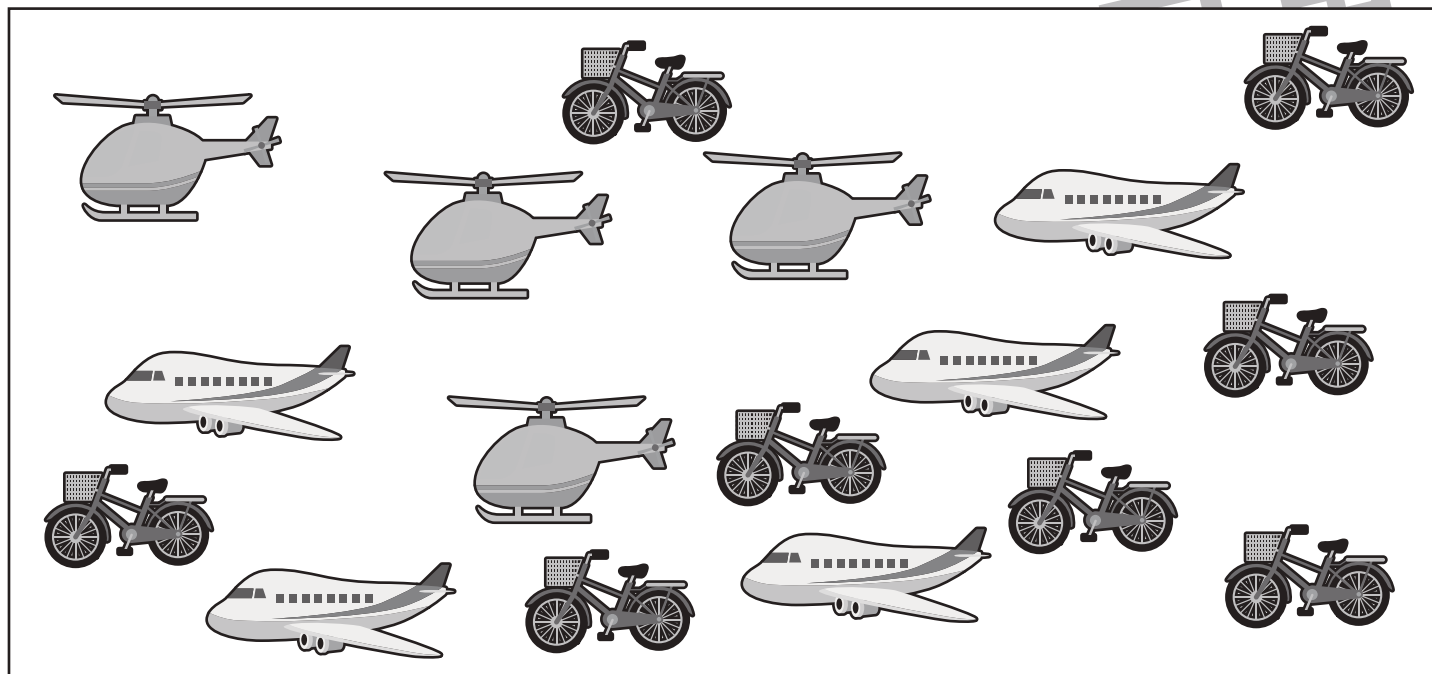


# おうちで、やろう。

Study at home. 小学校受験の家庭学習教材

数量：多少 8

四角の中で一番多い絵を探して、その数だけ下の四角に○をかきましょう。



※1. このプリントは、しながわ・目黒こどもスクールのウェブサイトでダウンロードができます。無断複写・引用はご遠慮ください。  
 ※2. このプリントを活用したオンライン授業のスケジュールは、しながわ・目黒こどもスクールのウェブサイトでご確認ください。



# おうちで、やろう。

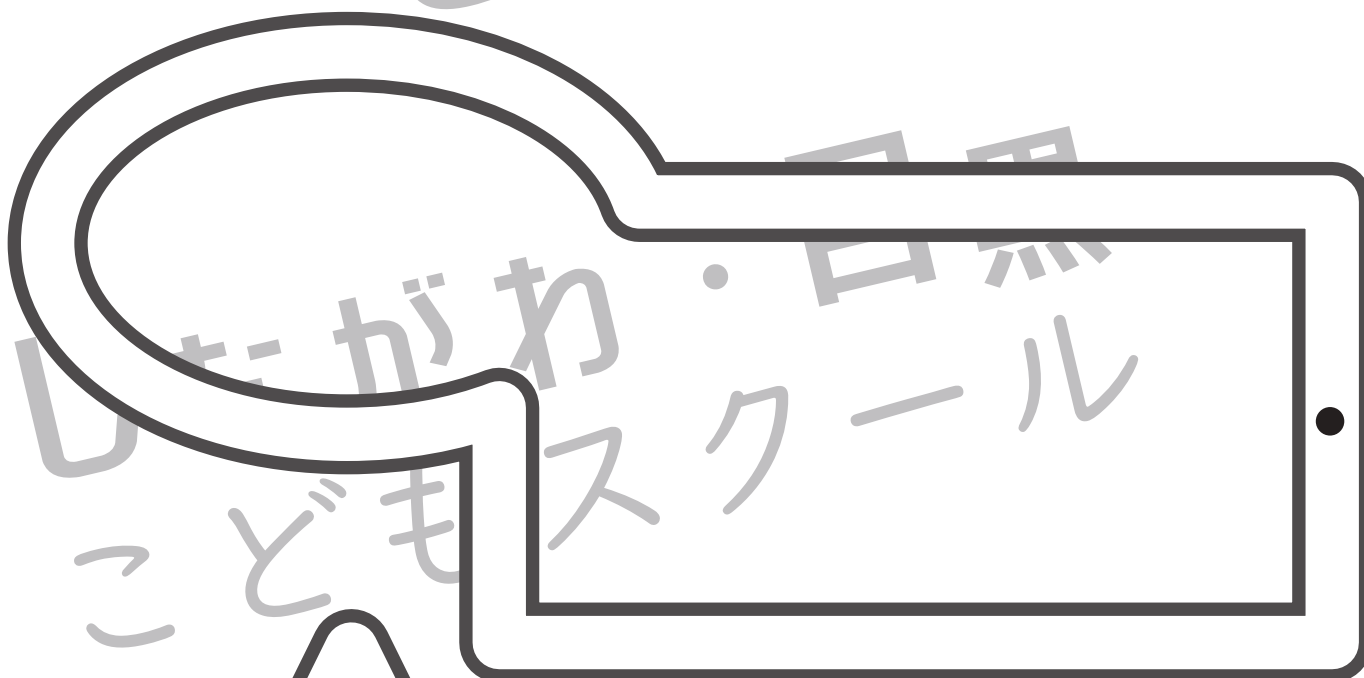
Study at home. 小学校受験の家庭学習教材

処理：運筆3

黒い丸から一周線をかきます。壁にぶつからないようにきれいに素早く線をかきましょう。

一番下の星は黒い丸からはじめてそれぞれの星で一周線をかきます。

この問題はスピードを意識して取り組む練習をしてみましょう。(1分～1分30秒)



※1. このプリントは、しながわ・目黒こどもスクールのウェブサイトでダウンロードができます。無断複写・引用はご遠慮ください。

※2. このプリントを活用したオンライン授業のスケジュールは、しながわ・目黒こどもスクールのウェブサイトでご確認ください。