

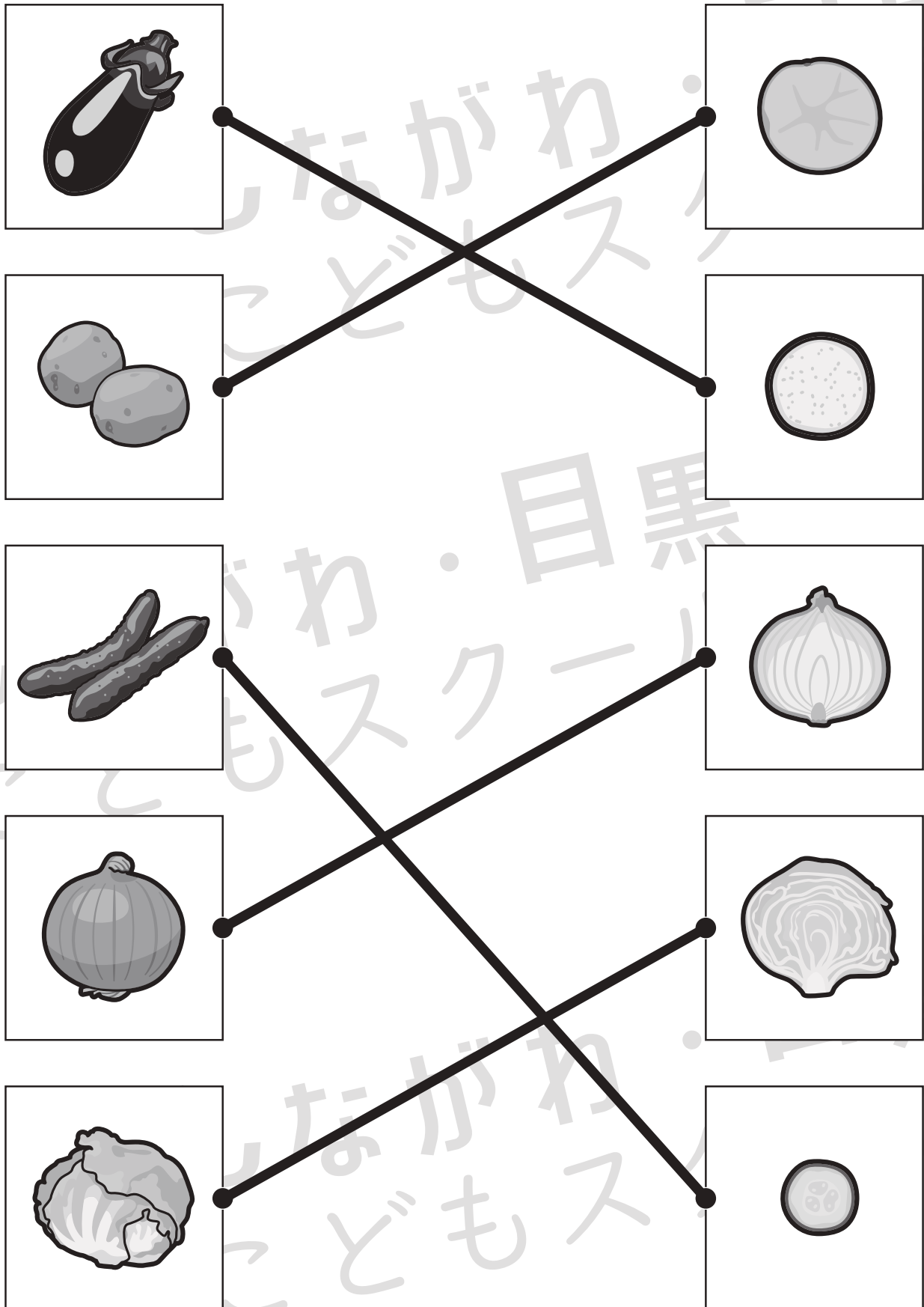


# おうちで、やろう。

Study at home. 小学校受験の家庭学習教材

## 常識：断面図 4

左は野菜、右は野菜を半分に切ったときの絵のです。同じもの同士を点と点を線で結びます。



※1. このプリントは、しながわ・目黒こどもスクールのウェブサイトでダウンロードができます。無断複写・引用はご遠慮ください。

※2. このプリントを活用したオンライン授業のスケジュールは、しながわ・目黒こどもスクールのウェブサイトでご確認ください。



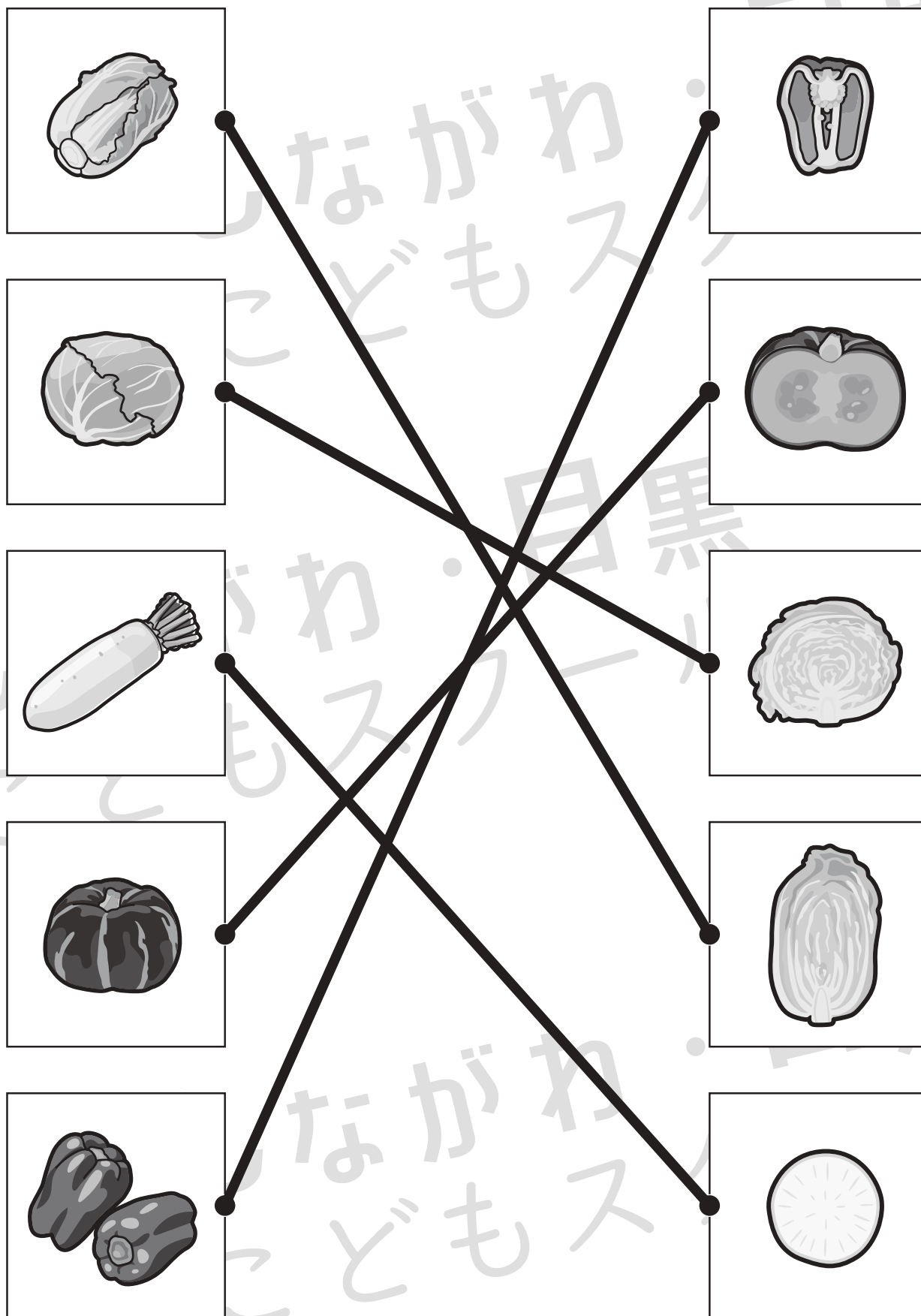


# おうちで、やろう。

Study at home. 小学校受験の家庭学習教材

## 常識：断面図5

左は野菜、右は野菜を半分に切ったときの絵のです。同じもの同士の点と点を線で結びます。



※1. このプリントは、しながわ・目黒こどもスクールのウェブサイトでダウンロードができます。無断複写・引用はご遠慮ください。

※2. このプリントを活用したオンライン授業のスケジュールは、しながわ・目黒こどもスクールのウェブサイトでご確認ください。

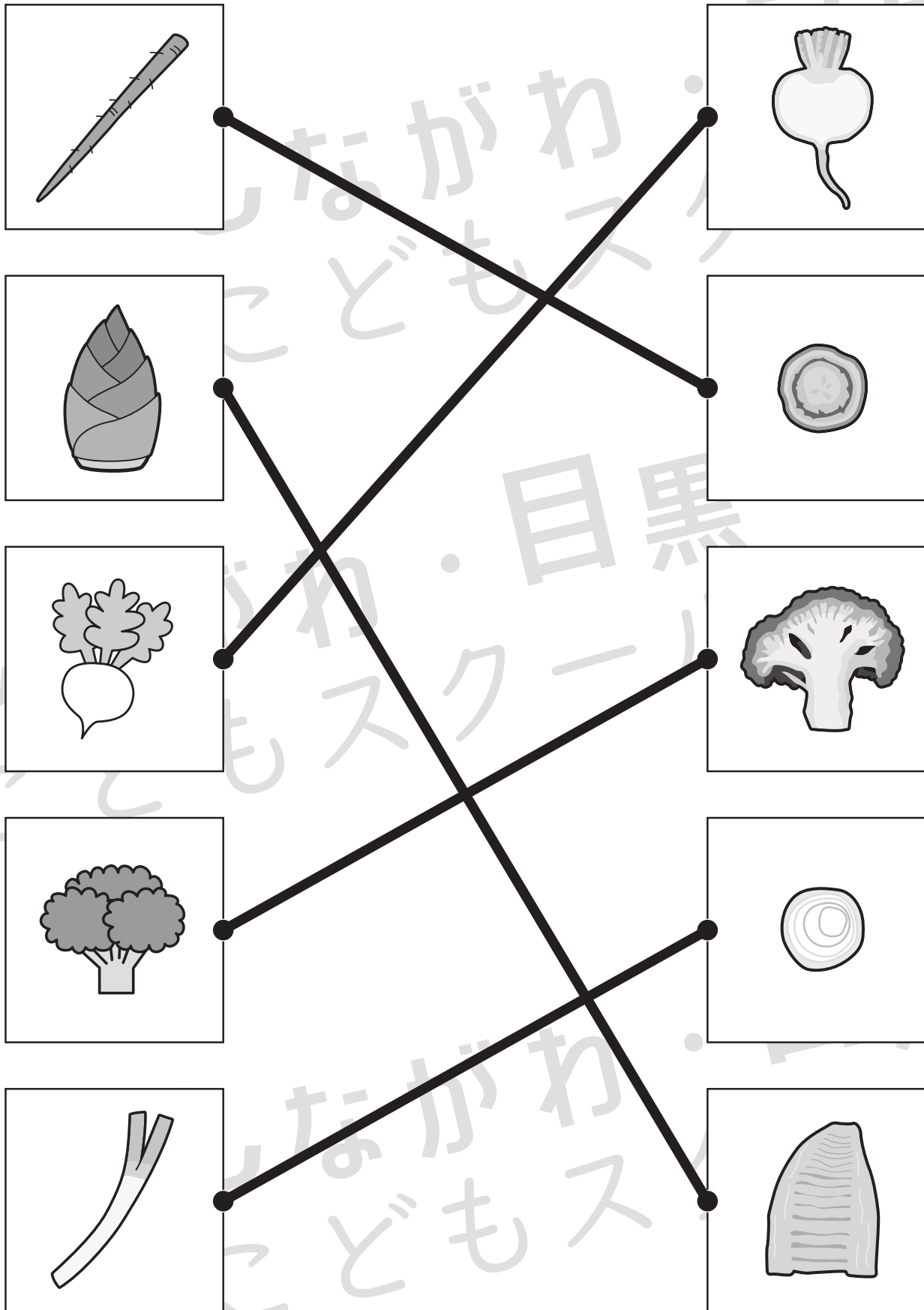


# おうちで、やろう。

Study at home. 小学校受験の家庭学習教材

## 常識：断面図6

左は野菜、右は野菜を半分に切ったときの絵のです。同じもの同士の点と点を線で結びます。



※1. このプリントは、しながわ・目黒こどもスクールのウェブサイトでダウンロードができます。無断複写・引用はご遠慮ください。

※2. このプリントを活用したオンライン授業のスケジュールは、しながわ・目黒こどもスクールのウェブサイトでご確認ください。






# おうちで、やろう。

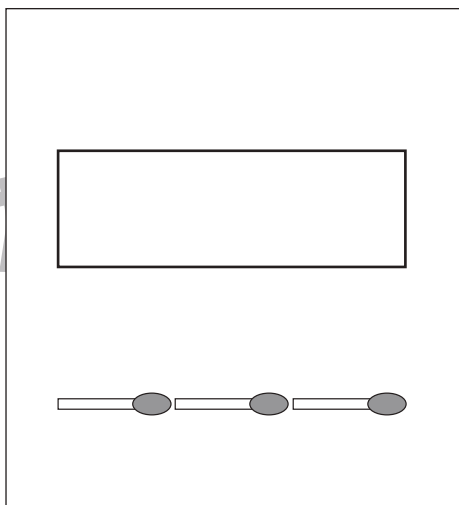
Study at home. 小学校受験の家庭学習教材

図形：マッチ 1

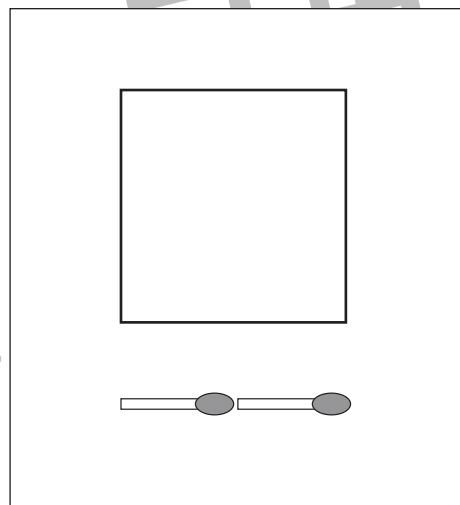
四角の中の形をそれぞれの下にあるマッチで作ります。  
全部で何本あれば上の形ができるのかを考えてその数だけ下の四角に○をかきます。



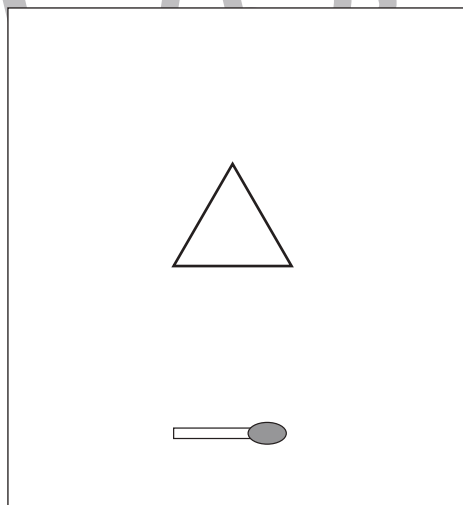
$\bigcirc \times 6$



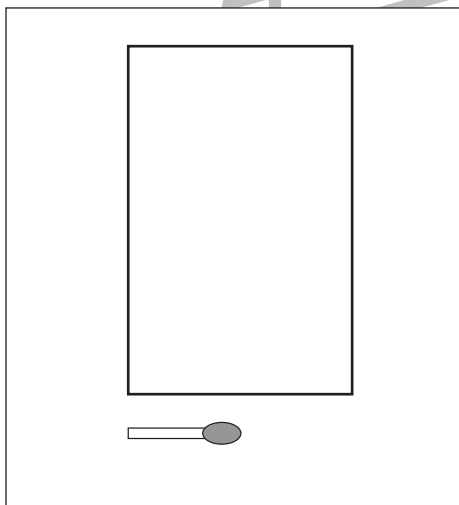
$\bigcirc \times 8$



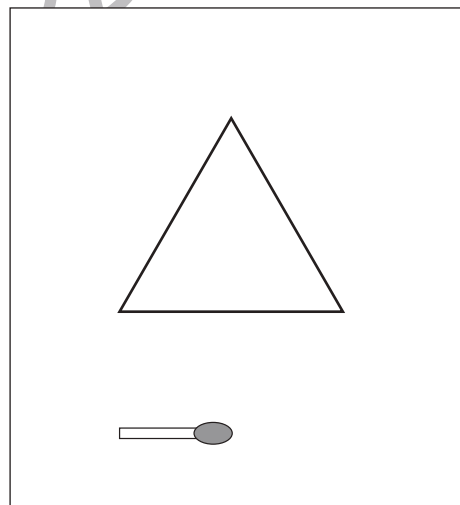
$\bigcirc \times 8$



$\bigcirc \times 3$



$\bigcirc \times 10$



$\bigcirc \times 6$

※1. このプリントは、しながわ・目黒こどもスクールのウェブサイトでダウンロードができます。無断複写・引用はご遠慮ください。  
※2. このプリントを活用したオンライン授業のスケジュールは、しながわ・目黒こどもスクールのウェブサイトでご確認ください。

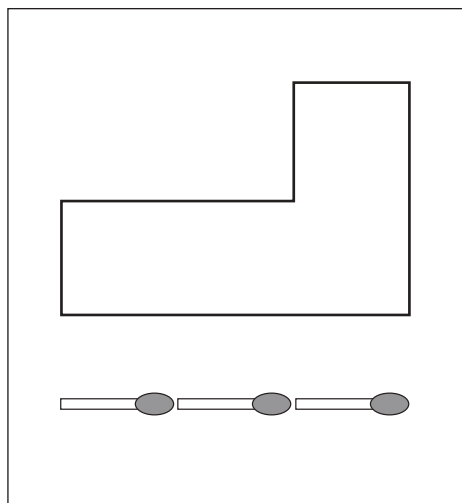


# おうちで、やろう。

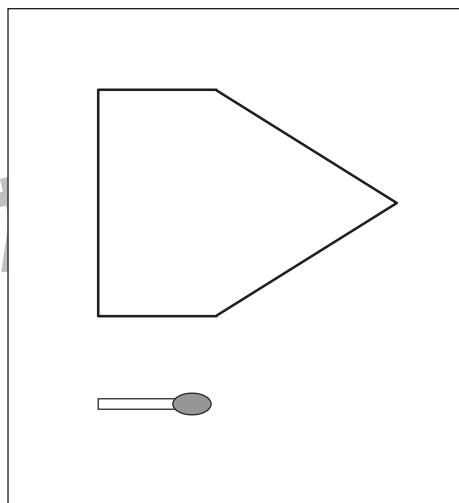
Study at home. 小学校受験の家庭学習教材

図形：マッチ2

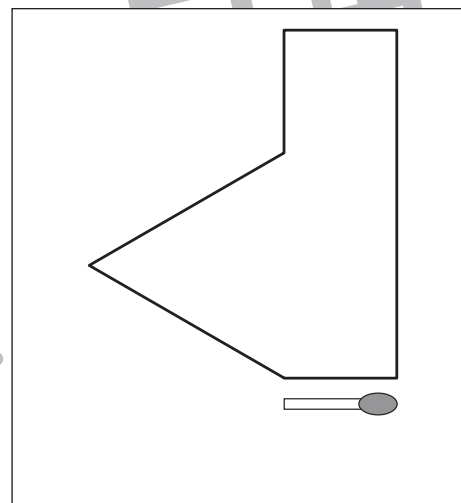
四角の中の形をそれぞれの下にあるマッチで作ります。  
全部で何本あれば上の形ができるのかを考えてその数だけ下の四角に○をかきます。



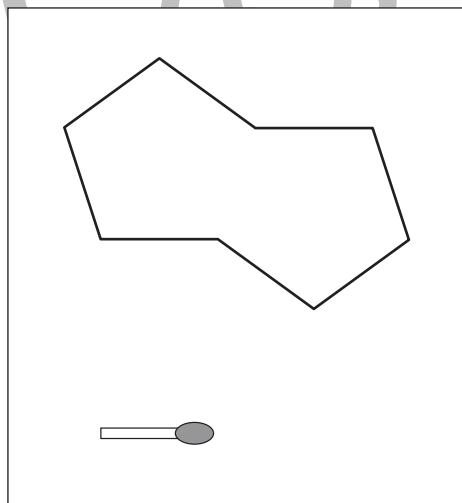
○ × 10



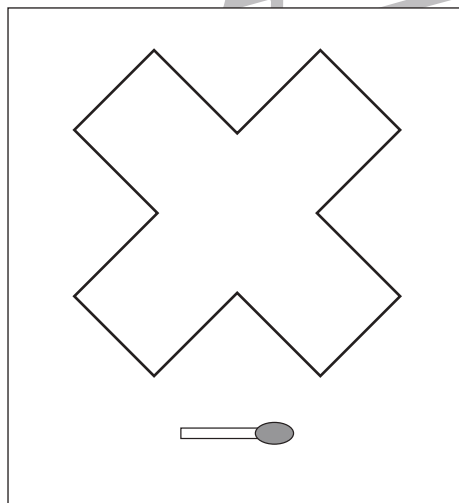
○ × 8



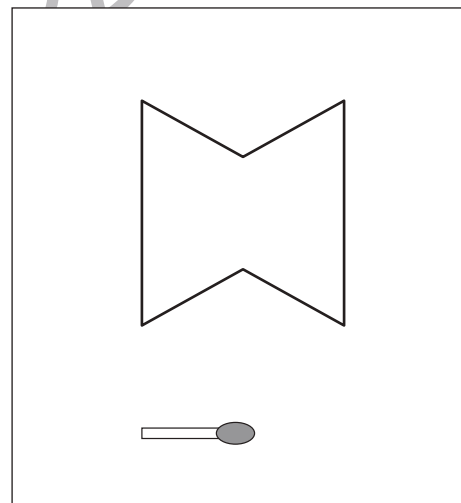
○ × 10



○ × 8



○ × 12



○ × 8

※1. このプリントは、しながわ・目黒こどもスクールのウェブサイトでダウンロードができます。無断複写・引用はご遠慮ください。  
※2. このプリントを活用したオンライン授業のスケジュールは、しながわ・目黒こどもスクールのウェブサイトでご確認ください。





# おうちで、やろう。



Study at home. 小学校受験の家庭学習教材

図形：回転 15



左の絵を右に何回か倒すと右の絵のようになりますか。倒した回数だけ下の四角に○をかきます。



○



○ ○



○ ○ ○

○ ○ ○ ○

○ ○

○ ○ ○

※1. このプリントは、しながわ・目黒こどもスクールのウェブサイトでダウンロードができます。無断複写・引用はご遠慮ください。  
 ※2. このプリントを活用したオンライン授業のスケジュールは、しながわ・目黒こどもスクールのウェブサイトでご確認ください。



# おうちで、やろう。

Study at home. 小学校受験の家庭学習教材

## 図形：回転 16

左の絵を右に何回か倒すと右の絵のようになりますか。倒した回数だけ下の四角に○をかきます。

○ ○

○ ○

○ ○ ○

○ ○

○

○ ○ ○

※1. このプリントは、しながわ・目黒こどもスクールのウェブサイトでダウンロードができます。無断複写・引用はご遠慮ください。  
 ※2. このプリントを活用したオンライン授業のスケジュールは、しながわ・目黒こどもスクールのウェブサイトでご確認ください。



# おうちで、やろう。

Study at home. 小学校受験の家庭学習教材

数量：同数 12

左の四角の中の果物の数がお手本です。このお手本と同じ数の四角を右の4つの中から見つけて○をつけます。


※1. このプリントは、しながわ・目黒こどもスクールのウェブサイトからダウンロードできます。無断複写・引用はご遠慮ください。

※2. このプリントを活用したオンライン授業のスケジュールは、しながわ・目黒こどもスクールのウェブサイトでご確認ください。





# おうちで、やろう。

Study at home. 小学校受験の家庭学習教材

数量：同数 13

左の四角の中の果物の数がお手本です。このお手本と同じ数の四角を右の4つの中から見つけて○をつけます。


※ 1. このプリントは、しながわ・目黒こどもスクールのウェブサイトからダウンロードできます。無断複写・引用はご遠慮ください。

※ 2. このプリントを活用したオンライン授業のスケジュールは、しながわ・目黒こどもスクールのウェブサイトでご確認ください。