



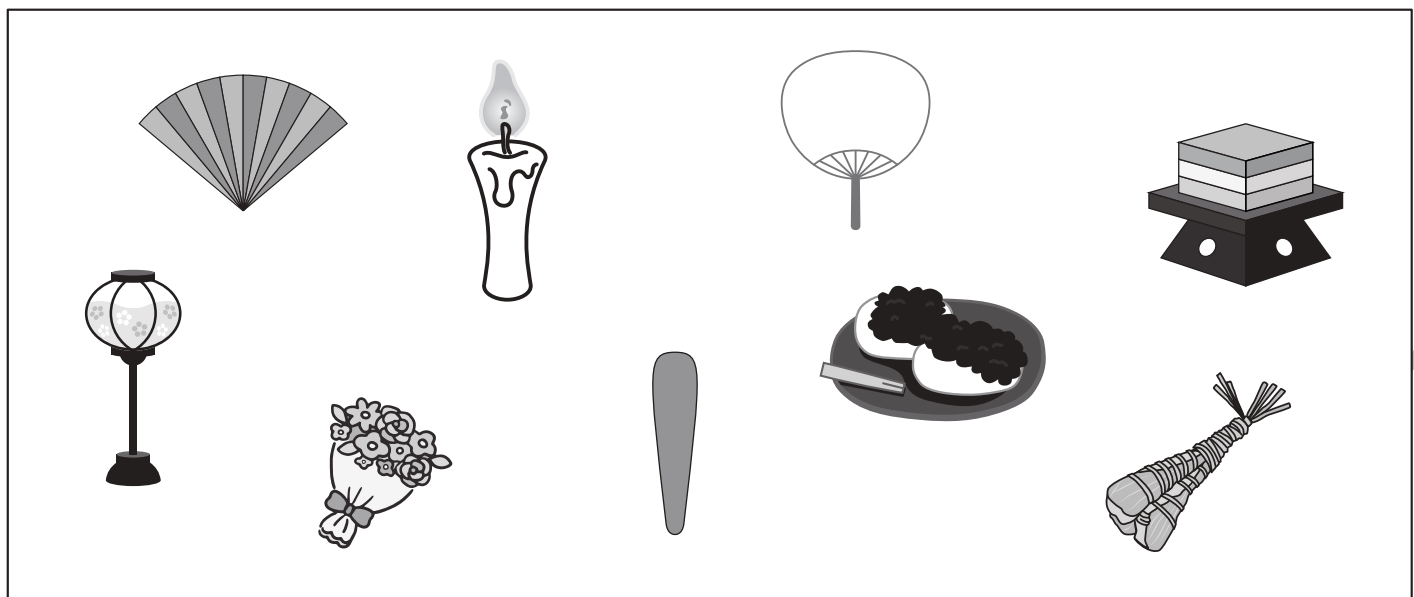

おうちで、やろう。

Study at home. 小学校受験の家庭学習教材

常識：季節8

ひな人形の絵を見て四角の中に置いてあるものを下の四角の中から選んで、その記号をつけます。

目黒
ール



※1. このプリントは、しながわ・目黒こどもスクールのウェブサイトでダウンロードができます。無断複写・引用はご遠慮ください。
※2. このプリントを活用したオンライン授業のスケジュールは、しながわ・目黒こどもスクールのウェブサイトでご確認ください。



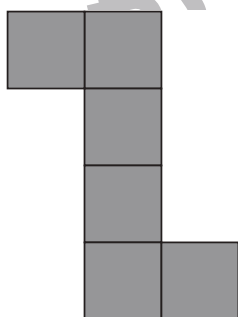

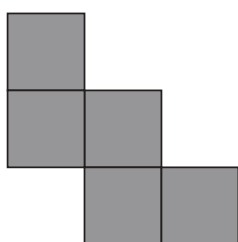





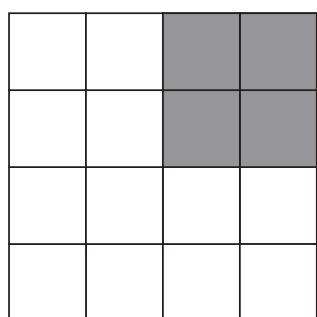

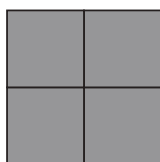



おうちで、やろう。

Study at home. 小学校受験の家庭学習教材

図形：構成 11

一番左のマスに空いている部分に矢印の右にある形をこのままの向きで入れますが、まだ完成しません。灰色のマスのパズルがあと何枚あれば完成しますか。その数だけ右の四角の中に○をかきます。



※1. このプリントは、しながわ・目黒こどもスクールのウェブサイトでダウンロードができます。無断複写・引用はご遠慮ください。
※2. このプリントを活用したオンライン授業のスケジュールは、しながわ・目黒こどもスクールのウェブサイトでご確認ください。



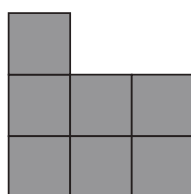

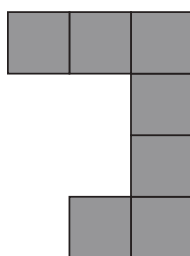


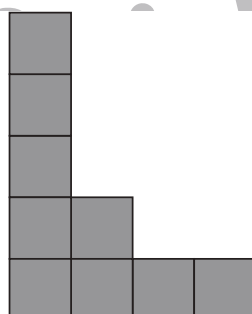

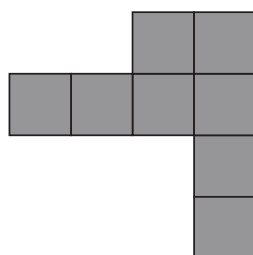


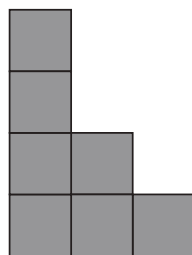



おうちで、よろう。

Study at home. 小学校受験の家庭学習教材

図形：構成 12

一番左のマスに空いている部分に矢印の右にある形をこのままの向きで入れますが、まだ完成しません。灰色のマスのパズルがあと何枚あれば完成しますか。その数だけ右の四角の中に○をかきます。



※1. このプリントは、しながわ・目黒こどもスクールのウェブサイトでダウンロードができます。無断複写・引用はご遠慮ください。

※2. このプリントを活用したオンライン授業のスケジュールは、しながわ・目黒こどもスクールのウェブサイトでご確認ください。



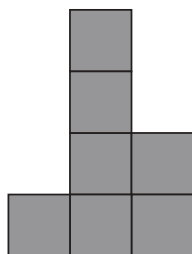

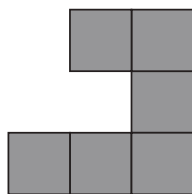









おうちで、やろう。

Study at home. 小学校受験の家庭学習教材

図形：構成 13

一番左のマスのおいてある部分に矢印の右にある形を入れますがまだ完成しません。灰色のマスのパズルがあと何枚あれば完成しますか。その数だけ右の四角の中に○をかきます。右の形は回してもいいですが、裏返しにはいけません。



※1. このプリントは、しながわ・目黒こどもスクールのウェブサイトでダウンロードができます。無断複写・引用はご遠慮ください。

※2. このプリントを活用したオンライン授業のスケジュールは、しながわ・目黒こどもスクールのウェブサイトでご確認ください。





おうちで、やろう。

Study at home. 小学校受験の家庭学習教材

推理：系列完成9

➡の方からマスの中の記号がある決まりに従って並んでいます。空いている四角に入る記号をかきます。

➡	○	□	△	○	□	△		□	△		□	
			○	□	△			□	△		□	
			○	□	△			□	△		□	

➡	△			△	○	□		○	□	△	○	□
			△	○	□			○	□	△	○	□
			△	○	□			○	□	△	○	□

➡	△	○	□	△	○	□		□		○	□
	△		□	△	○	□		□		○	□
	△		□	△	○	□		□		○	□

➡	○	△	□		△	□	○	△		○		□
		△	□		△	□	○	△		○		□
		△	□		△	□	○	△		○		□

※1. このプリントは、しながわ・目黒こどもスクールのウェブサイトでダウンロードができます。無断複写・引用はご遠慮ください。
 ※2. このプリントを活用したオンライン授業のスケジュールは、しながわ・目黒こどもスクールのウェブサイトでご確認ください。



おうちで、やろう。

Study at home. 小学校受験の家庭学習教材

推理：系列完成 10

➡の方からマスの中の記号がある決まりに従って並んでいます。空いている四角に入る記号をかきます。

➡	□ □ □	△	○ ○	□ □ □ □	△ △	○ ○ ○		△ △ △	○ ○ ○ ○	□ □ □ □ □ □		
---	-------------	---	--------	------------------	--------	-------------	--	-------------	------------------	----------------------------	--	--

➡	△ △	○ ○ ○ ○	□ □ □	△ △ △	○ ○ ○ ○ ○		△ △ △ △		□ □ □ □ □		○ ○ ○ ○ ○ ○	□ □ □ □ □ □
---	--------	------------------	-------------	-------------	-----------------------	--	------------------	--	-----------------------	--	----------------------------	----------------------------

➡				□ □ □ □	△ △ △	○ ○	□ □ □	△ △ △ △	○ ○ ○	□ □	△ △ △ △ △	○ ○ ○ ○
---	--	--	--	------------------	-------------	--------	-------------	------------------	-------------	--------	-----------------------	------------------

➡	□ □		○ ○ ○ ○ ○ ○ ○	□ □ □ □	△ △ △ △ △	○ ○ ○ ○ ○		△ △ △ △	○ ○ ○	□ □ □ □ □ □ □ □	△ △	
---	--------	--	---------------------------------	------------------	-----------------------	-----------------------	--	------------------	-------------	--------------------------------------	--------	--

※1. このプリントは、しながわ・目黒こどもスクールのウェブサイトでダウンロードができます。無断複写・引用はご遠慮ください。
 ※2. このプリントを活用したオンライン授業のスケジュールは、しながわ・目黒こどもスクールのウェブサイトでご確認ください。


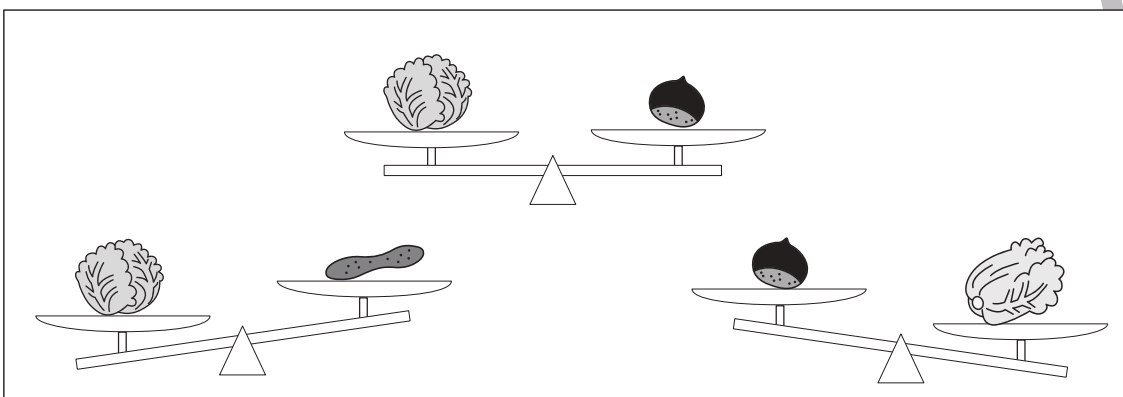





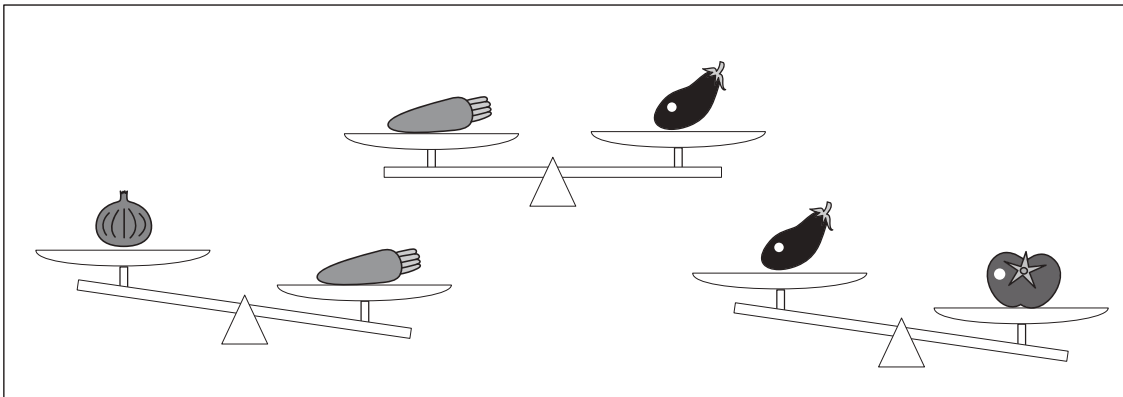


おうちで、やろう。

Study at home. 小学校受験の家庭学習教材

推理：重さ 11

天秤に野菜をのせて重さ比べをしました。一番重いものに○、一番軽いものに×をつけます。印は右の四角の中の野菜につけます。



※1. このプリントは、しながわ・目黒こどもスクールのウェブサイトでダウンロードができます。無断複写・引用はご遠慮ください。
 ※2. このプリントを活用したオンライン授業のスケジュールは、しながわ・目黒こどもスクールのウェブサイトでご確認ください。











おうちで、やろう。

Study at home. 小学校受験の家庭学習教材

推理：重さ 12

天秤に果物をのせて重さ比べをしました。一番重くもなく、一番軽くもないものに○をつけます。



※1. このプリントは、しながわ・目黒こどもスクールのウェブサイトでダウンロードができます。無断複写・引用はご遠慮ください。
 ※2. このプリントを活用したオンライン授業のスケジュールは、しながわ・目黒こどもスクールのウェブサイトでご確認ください。






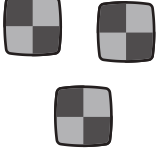






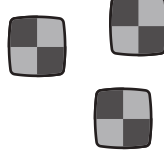
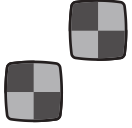
おうちで、やろう。


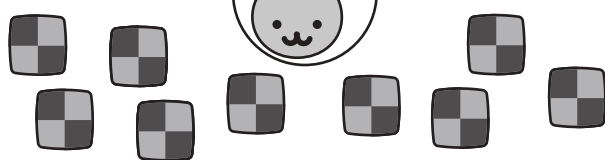


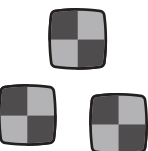

Study at home. 小学校受験の家庭学習教材





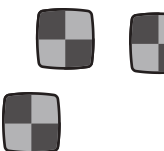
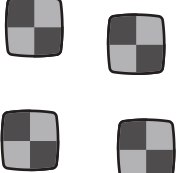
数量：加減 8






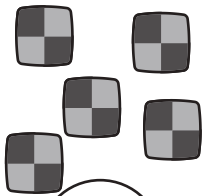
ウサギは上の四角の中の数だけクッキーを持っていました。このクッキー全部をライオンとサルとパンダにあげます。サルとパンダには下の四角の中の数だけクッキーをあげました。そのとき、ライオンにあげるクッキーは何枚ですか、その数だけライオンの四角の中に○をかきます。





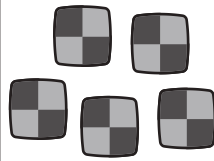
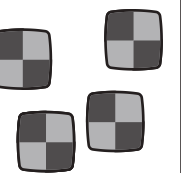
		
		
		
		

※1. このプリントは、しながわ・目黒こどもスクールのウェブサイトからダウンロードできます。無断複写・引用はご遠慮ください。

※2. このプリントを活用したオンライン授業のスケジュールは、しながわ・目黒こどもスクールのウェブサイトでご確認ください。



おうちで、やろう。

Study at home. 小学校受験の家庭学習教材

図形：点図形 32

左のお手本と同じになるように右の四角に足りない線をかきます。 ※このプリントに解答はありません。

※1. このプリントは、しながわ・目黒こどもスクールのウェブサイトからダウンロードできます。無断複写・引用はご遠慮ください。
 ※2. このプリントを活用したオンライン授業のスケジュールは、しながわ・目黒こどもスクールのウェブサイトでご確認ください。