



おうちで、やろう。

Study at home. 小学校受験の家庭学習教材

図形：折り重ね 21

真ん中の太い線で折り重ねたとき、黒くなる丸を考えて下の四角の丸を塗ります。

※1. このプリントは、しながわ・目黒こどもスクールのウェブサイトでダウンロードができます。無断複写・引用はご遠慮ください。
 ※2. このプリントを活用したオンライン授業のスケジュールは、しながわ・目黒こどもスクールのウェブサイトでご確認ください。



おうちで、よろう。

Study at home. 小学校受験の家庭学習教材

図形：折り重ね 22

真ん中の太い線で折り重ねたとき、黒くなる丸を考えて下の四角の丸を塗ります。

The puzzle consists of three rows of three 3x3 grids each. Each grid has a horizontal fold line between the second and third rows. The top half of each grid contains black circles in various positions, and the bottom half is empty. The goal is to determine which circles in the bottom half will be black after folding.

Row 1:

- Grid 1: Top row (black, white, white), middle row (white, black, white), bottom row (black, white, black). Bottom row circles to be filled: (1,1), (1,2), (1,3).
- Grid 2: Top row (white, white, white), middle row (white, black, white), bottom row (black, white, black). Bottom row circles to be filled: (1,1), (1,2), (1,3).
- Grid 3: Top row (white, black, white), middle row (black, black, white), bottom row (white, white, black). Bottom row circles to be filled: (1,1), (1,2), (1,3).

Row 2:

- Grid 1: All circles are white. Bottom row circles to be filled: (1,1), (1,2), (1,3).
- Grid 2: All circles are white. Bottom row circles to be filled: (1,1), (1,2), (1,3).
- Grid 3: All circles are white. Bottom row circles to be filled: (1,1), (1,2), (1,3).

Row 3:

- Grid 1: Top row (black, white, white), middle row (white, black, white), bottom row (black, black, white). Bottom row circles to be filled: (1,1), (1,2), (1,3).
- Grid 2: Top row (white, black, white), middle row (black, black, white), bottom row (white, black, white). Bottom row circles to be filled: (1,1), (1,2), (1,3).
- Grid 3: Top row (black, black, white), middle row (white, white, black), bottom row (white, black, black). Bottom row circles to be filled: (1,1), (1,2), (1,3).

※1. このプリントは、しながわ・目黒こどもスクールのウェブサイトダウンロードができます。無断複写・引用はご遠慮ください。

※2. このプリントを活用したオンライン授業のスケジュールは、しながわ・目黒こどもスクールのウェブサイトでご確認ください。



おうちで、よろう。

Study at home. 小学校受験の家庭学習教材

図形：折り重ね 23

真ん中の太い線で折り重ねたとき、黒くなる丸を考えて下の四角の丸を塗ります。

The figure shows 12 dot grids arranged in a 4x3 grid. Each grid is 4 rows by 4 columns. A thick horizontal line is drawn between the second and third rows of each grid. An arrow on the left of each grid points downwards, indicating the top half is folded down. The task is to identify which circles in the bottom half (rows 3 and 4) will be covered by circles from the top half (rows 1 and 2) after folding.

※1. このプリントは、しながわ・目黒こどもスクールのウェブサイトでダウンロードができます。無断複写・引用はご遠慮ください。
 ※2. このプリントを活用したオンライン授業のスケジュールは、しながわ・目黒こどもスクールのウェブサイトでご確認ください。



おうちで、やろう。

Study at home. 小学校受験の家庭学習教材

推理：条件推理 3

左の四角の中も動物たちが並んでいます。それぞれ動物たちが場所を入れ替わったときの並び方を考えて、正しいものを右の3つの中から選び○をつけます。 ①リスとウサギを入れ替えます。 ②クマとネコを入れ替えます。

①

--	--	--	--

①

--	--	--	--

②

--	--	--	--

②

--	--	--	--

②

--	--	--	--

※1. このプリントは、しながわ・目黒こどもスクールのウェブサイトからダウンロードできます。無断複写・引用はご遠慮ください。
 ※2. このプリントを活用したオンライン授業のスケジュールは、しながわ・目黒こどもスクールのウェブサイトでご確認ください。



おうちで、やろう。

Study at home. 小学校受験の家庭学習教材

推理：条件推理 4

左の四角の中も動物たちが並んでいます。それぞれ動物たちが場所を入れ替わったときの並び方を考えて、正しいものを右の3つの中から選び○をつけます。 ①トラとクマ、サルとネコを入れ替えます。 ②トラとリス、ネコとサルを入れ替えます。

①

--	--	--	--	--

①

--	--	--	--	--

②

--	--	--	--	--

②

--	--	--	--	--

※1. このプリントは、しながわ・目黒こどもスクールのウェブサイトでダウンロードができます。無断複写・引用はご遠慮ください。
※2. このプリントを活用したオンライン授業のスケジュールは、しながわ・目黒こどもスクールのウェブサイトでご確認ください。

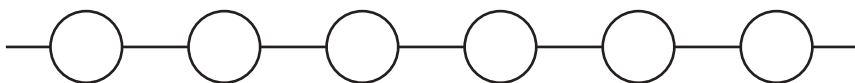
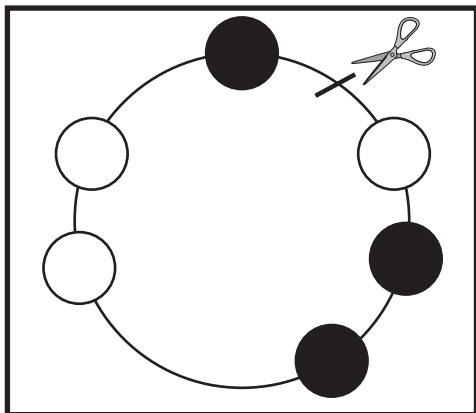
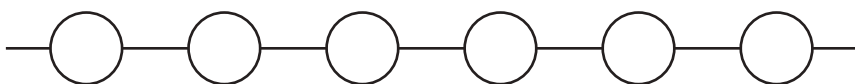

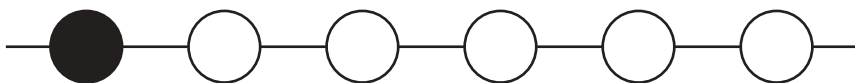
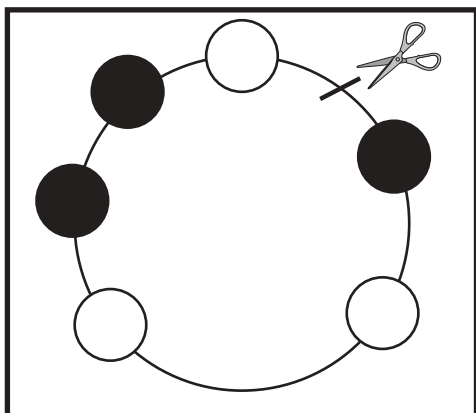
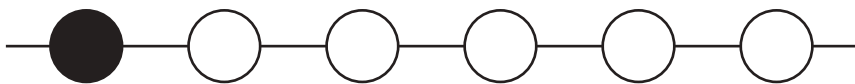
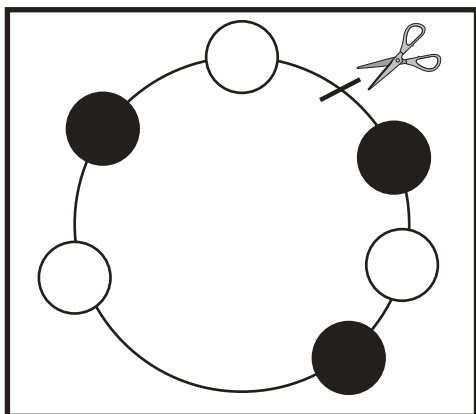


おうちで、やろう。

Study at home. 小学校受験の家庭学習教材

推理：輪つなぎ 1

左の四角の中は白と黒のビーズでできたブレスレットです。このブレスレットを線のところではさみで切りました。切ったあと、右のように並べたとき、黒いビーズはどこになりますか。黒いビーズの場所を塗ります。



※1. このプリントは、しながわ・目黒こどもスクールのウェブサイトでダウンロードができます。無断複写・引用はご遠慮ください。

※2. このプリントを活用したオンライン授業のスケジュールは、しながわ・目黒こどもスクールのウェブサイトでご確認ください。

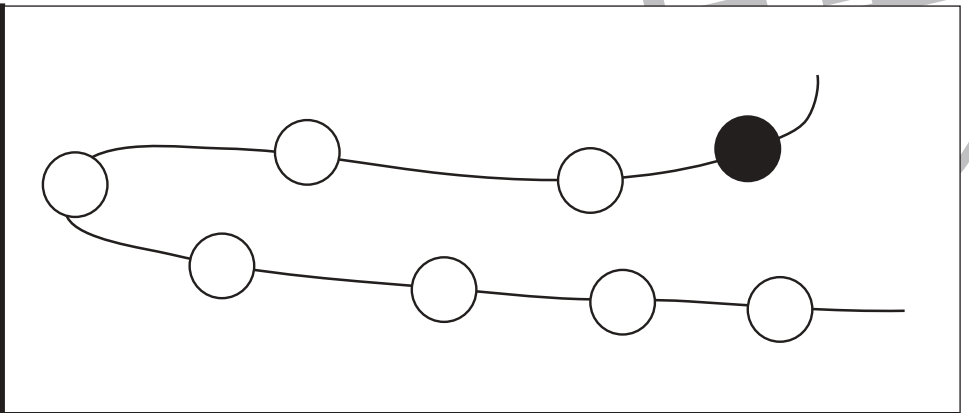
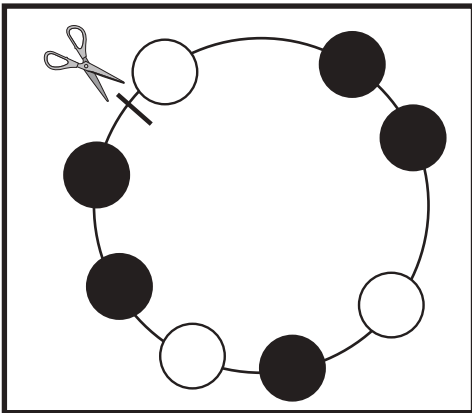
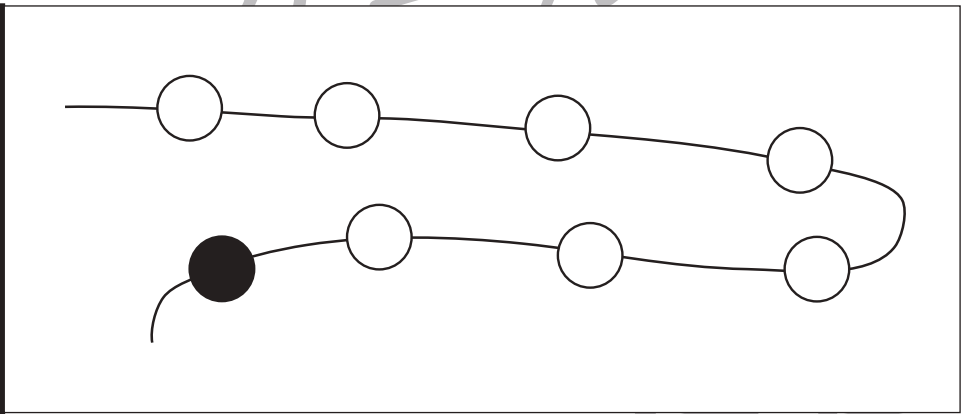
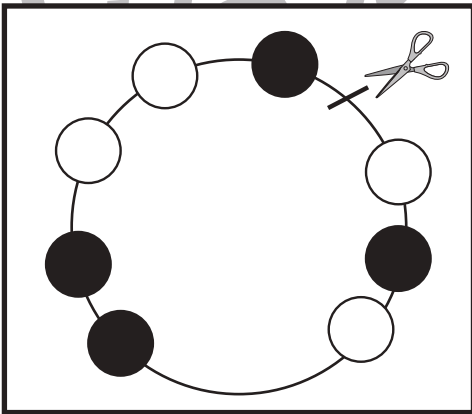
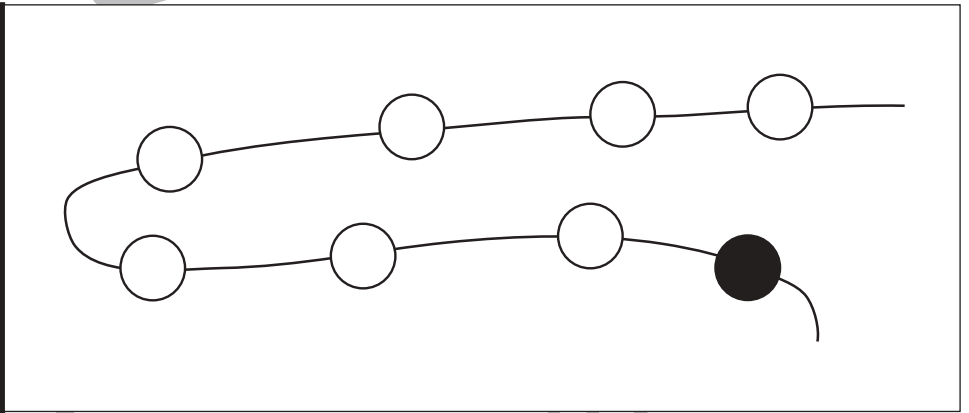
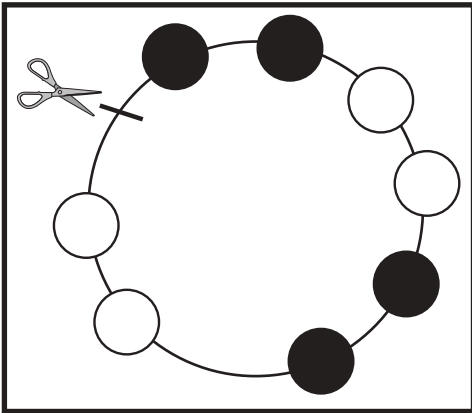
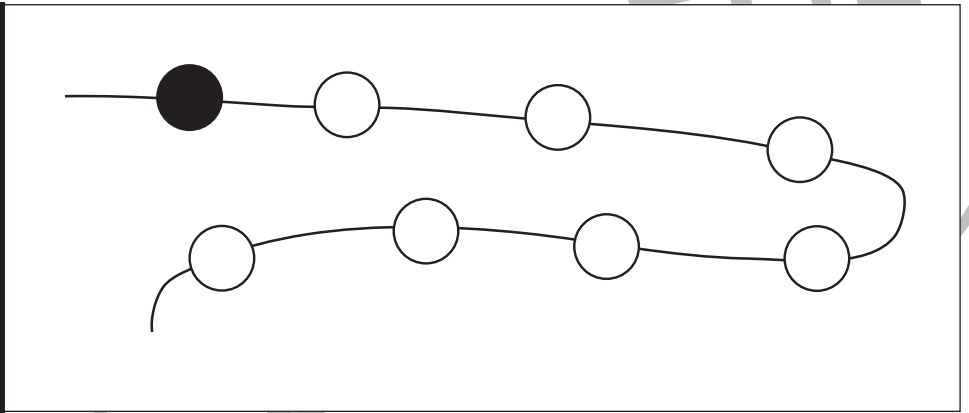
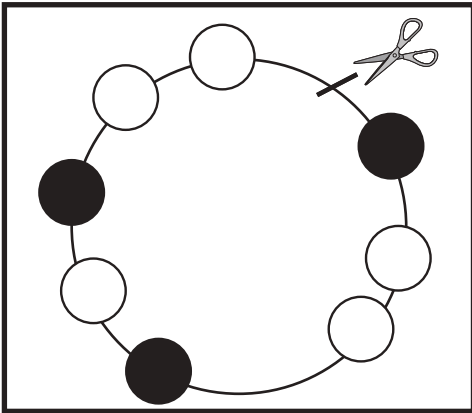


おうちで、やろう。

Study at home. 小学校受験の家庭学習教材

推理：輪つなぎ2

左の四角の中は白と黒のビーズでできたプレスレットです。このプレスレットを線のところではさみで切りました。切ったあと、右のように並べたとき、黒いビーズはどこになりますか。黒いビーズの場所を塗ります。



※1. このプリントは、しながわ・目黒こどもスクールのウェブサイトでダウンロードができます。無断複写・引用はご遠慮ください。
※2. このプリントを活用したオンライン授業のスケジュールは、しながわ・目黒こどもスクールのウェブサイトでご確認ください。



おうちで、やろう。

Study at home. 小学校受験の家庭学習教材

数量：分割 15

それぞれの果物や野菜を左の四角の中にお友だちで仲良く同じ数になるように分けたとき、1人分の果物や野菜の数だけ下の四角に○をかきます。

※1. このプリントは、しながわ・目黒こどもスクールのウェブサイトからダウンロードできます。無断複写・引用はご遠慮ください。

※2. このプリントを活用したオンライン授業のスケジュールは、しながわ・目黒こどもスクールのウェブサイトでご確認ください。



おうちで、やろう。

Study at home. 小学校受験の家庭学習教材

数量：分割 16

それぞれの果物や野菜を左の四角の中にお友だちで仲良く同じ数になるように分けたとき、1人分の果物や野菜の数だけ下の四角に○をかきます。

※1. このプリントは、しながわ・目黒こどもスクールのウェブサイトからダウンロードできます。無断複写・引用はご遠慮ください。

※2. このプリントを活用したオンライン授業のスケジュールは、しながわ・目黒こどもスクールのウェブサイトでご確認ください。

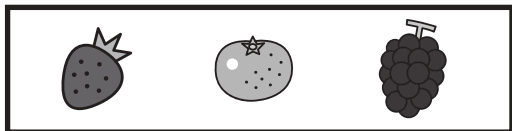


おうちで、やろう。

Study at home. 小学校受験の家庭学習教材

処理能力：抹消2

上の太い四角の中の絵がお手本です。下のマスの中からお手本の絵をみつけて斜め線（/）をつけていきます。お手本を見つけるときは、一番上の段の左からはじめて、右端まで見ます。1段目ができたら2段目の左から右。次に3段目の左から右と順番に印をつけていきます。この問題はできるだけ早く印をつけます。それぞれ1分以内を目指し取り組みましょう。





※1. このプリントは、しながわ・目黒こどもスクールのウェブサイトでダウンロードができます。無断複写・引用はご遠慮ください。

※2. このプリントを活用したオンライン授業のスケジュールは、しながわ・目黒こどもスクールのウェブサイトでご確認ください。