

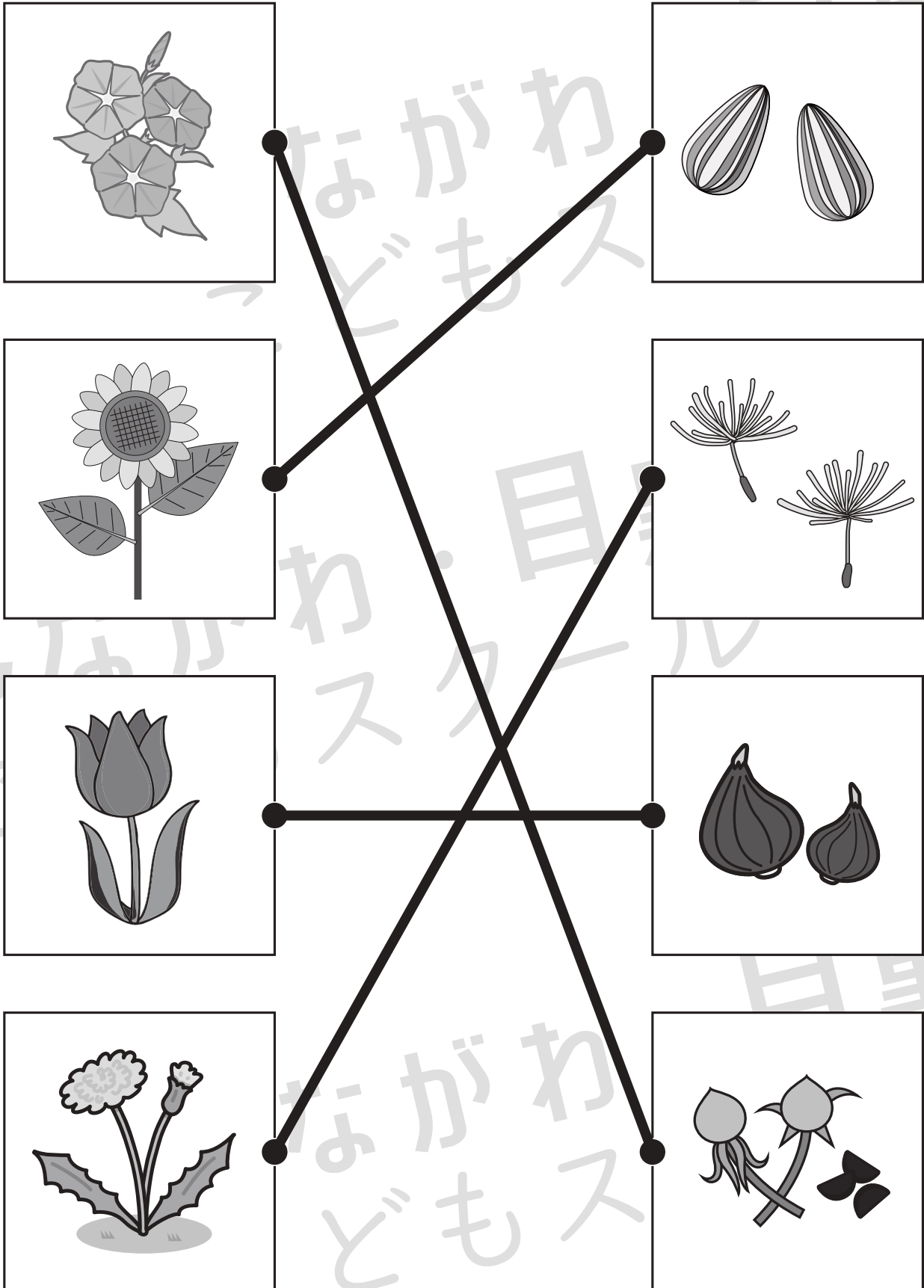


おうちで、やろう。

Study at home. 小学校受験の家庭学習教材

常識：植物 1

左は花、右は種です。正しい組み合わせになるように線で結びます。



※1. このプリントは、しながわ・目黒こどもスクールのウェブサイトでダウンロードができます。無断複写・引用はご遠慮ください。

※2. このプリントを活用したオンライン授業のスケジュールは、しながわ・目黒こどもスクールのウェブサイトでご確認ください。



おうちで、やろう。

Study at home. 小学校受験の家庭学習教材

図形：移動 25

丸で囲んである点から上の四角の中の矢印の方向へ進み点と点を線で結びます。そして最後についた点を○で囲みます。
上の四角の矢印は左から順番に見ていきます。

→ ↓ ↓ → ↙ ↖ ← ← ↗

← ↗ ↘ ← ↘ ← ← ↑ ↖

← ← ← ↘ ↗ ↓ → ↙ ←

↑ → → ↙ ↑ ↗ ↗ ↘ ↑

※1. このプリントは、しながわ・目黒こどもスクールのウェブサイトでダウンロードができます。無断複写・引用はご遠慮ください。
※2. このプリントを活用したオンライン授業のスケジュールは、しながわ・目黒こどもスクールのウェブサイトでご確認ください。



おうちで、やろう。

Study at home. 小学校受験の家庭学習教材

図形：移動 26

丸で囲んである点から上の四角の中の矢印の方向へ進み点と点を線で結びます。そして最後についた点を○で囲みます。
上の四角の矢印は左から順番に見ていきます。

↑ ↑ → ↖ ↙ ↘ ↙ ← ↓ ↘

↖ ↖ ↖ → ↓ ↙ ↘ → →

→ → ↙ ↘ ↘ ↘ ↗ ↗ ←

↓ ← ↙ ↑ ↘ ↘ ↑ ↙ ↘

※1. このプリントは、しながわ・目黒こどもスクールのウェブサイトでダウンロードができます。無断複写・引用はご遠慮ください。
※2. このプリントを活用したオンライン授業のスケジュールは、しながわ・目黒こどもスクールのウェブサイトでご確認ください。













おうちで、やろう。

Study at home. 小学校受験の家庭学習教材

推理：シルエット 4

左の太い四角の中には、動物が影になって重なっています。右の四角の中で、左の四角の中にいない動物を見つけて × をつけます。



※1. このプリントは、しながわ・目黒こどもスクールのウェブサイトでダウンロードができます。無断複写・引用はご遠慮ください。
※2. このプリントを活用したオンライン授業のスケジュールは、しながわ・目黒こどもスクールのウェブサイトでご確認ください。





おうちで、やろう。

Study at home. 小学校受験の家庭学習教材

推理：シルエット5

①～⑤のお話に合う子を見つけて○をつけます。

①髪の毛を耳の上で2つ結んでいる子に○をつけます。




②紙の毛の長さが一番短い子に○をつけます。

③髪の毛を耳の下で1つに結んでいる子に○をつけます。

④髪の毛が一番長い子に○をつけます。

⑤髪の毛が2番目に長い子に○をつけます。

目黒



※1. このプリントは、しながわ・目黒こどもスクールのウェブサイトでダウンロードができます。無断複写・引用はご遠慮ください。

※2. このプリントを活用したオンライン授業のスケジュールは、しながわ・目黒こどもスクールのウェブサイトでご確認ください。

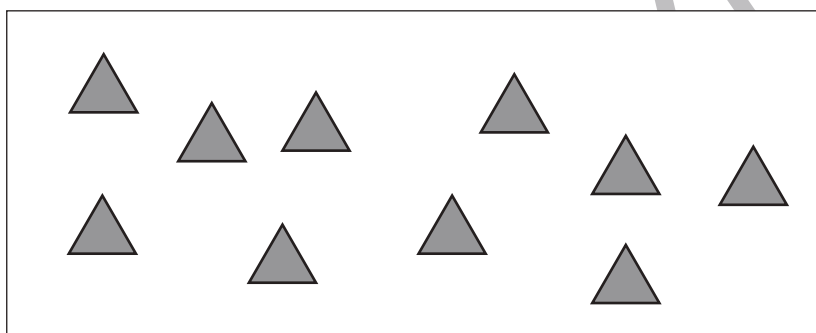

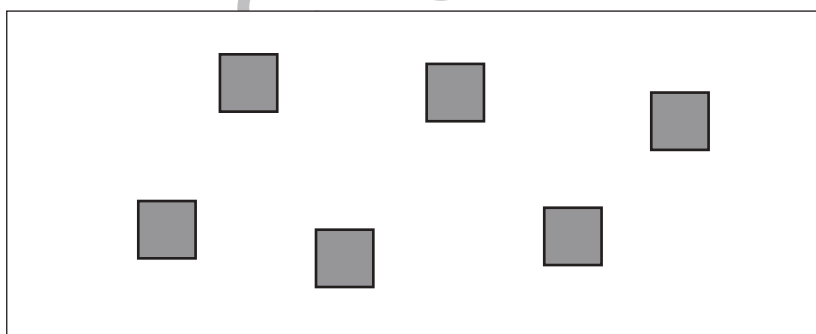
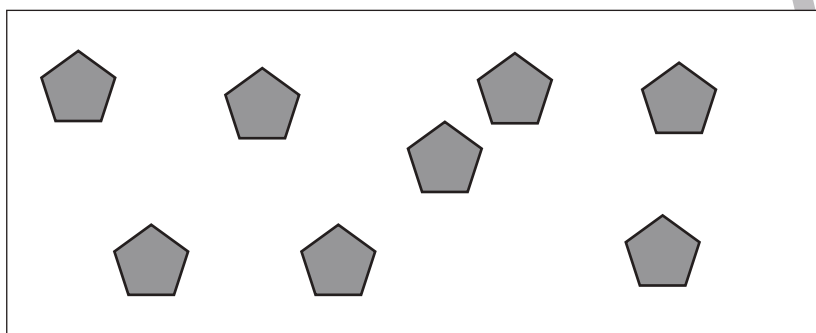

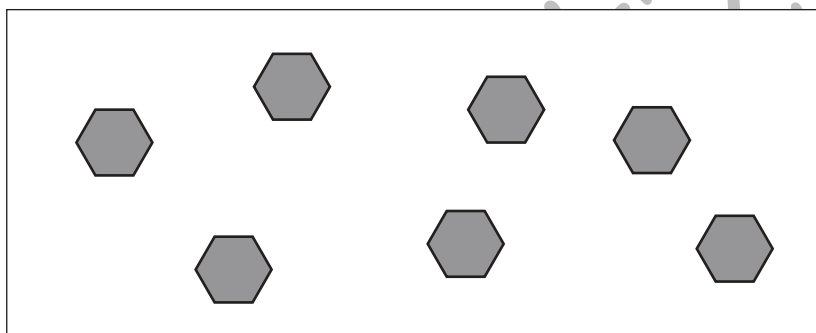
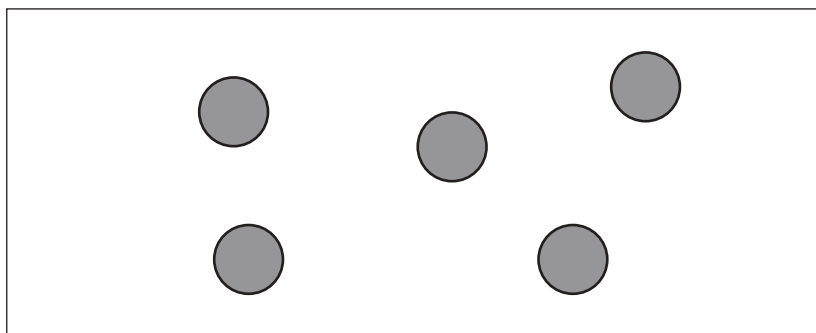


おうちで、やろう。

Study at home. 小学校受験の家庭学習教材

処理：加減 1

左の四角の中の数より2つ多い数だけ右の四角に○をかきます。
この問題はスピードを意識して取り組む練習をしてみましょう。(1分～1分30秒)



※1. このプリントは、しながわ・目黒こどもスクールのウェブサイトからダウンロードできます。無断複写・引用はご遠慮ください。
※2. このプリントを活用したオンライン授業のスケジュールは、しながわ・目黒こどもスクールのウェブサイトでご確認ください。

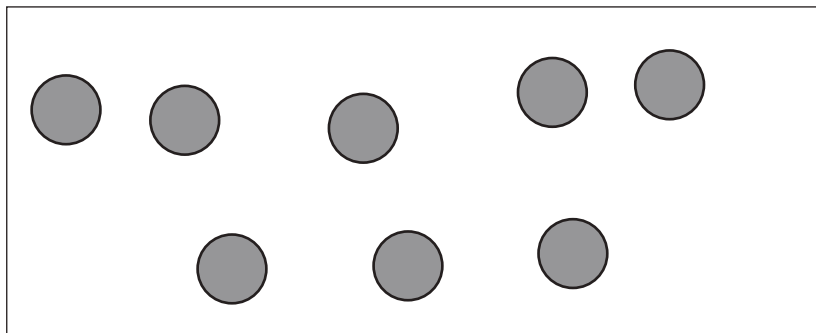


おうちで、やろう。

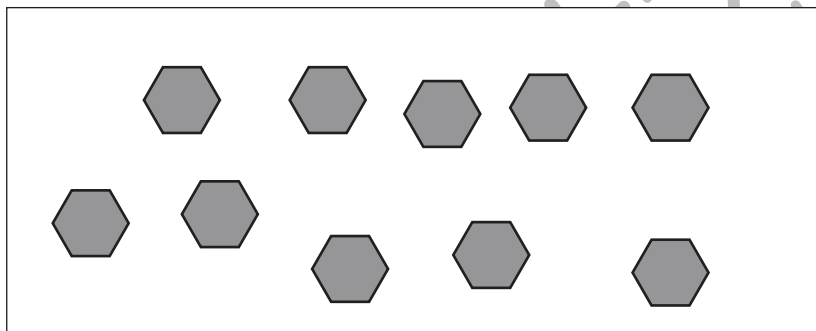
Study at home. 小学校受験の家庭学習教材

処理：加減 2

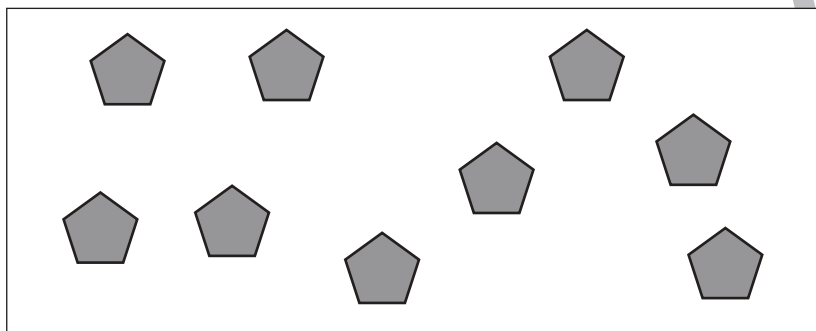
左の四角の中の数より3つ少ない数だけ右の四角に○をかきます。
この問題はスピードを意識して取り組む練習をしてみましょう。(1分～1分30秒)



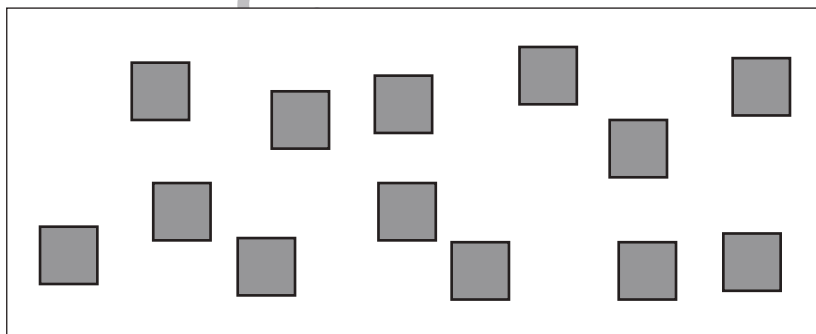
$$\bigcirc \times 5$$



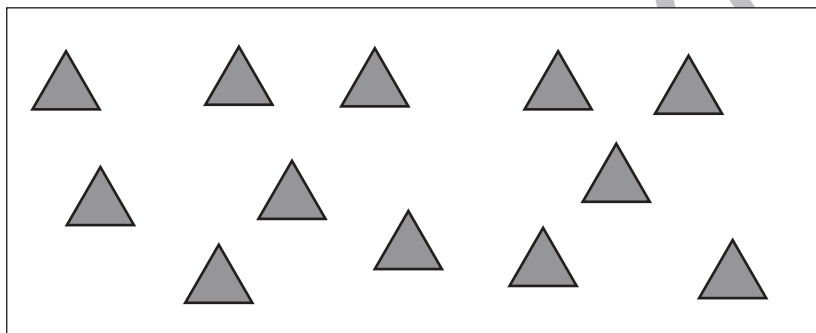
$$\bigcirc \times 7$$



$$\bigcirc \times 6$$



$$\bigcirc \times 10$$



$$\bigcirc \times 9$$

※1. このプリントは、しながわ・目黒こどもスクールのウェブサイトでダウンロードができます。無断複写・引用はご遠慮ください。
※2. このプリントを活用したオンライン授業のスケジュールは、しながわ・目黒こどもスクールのウェブサイトでご確認ください。