



# おうちで、やろう。

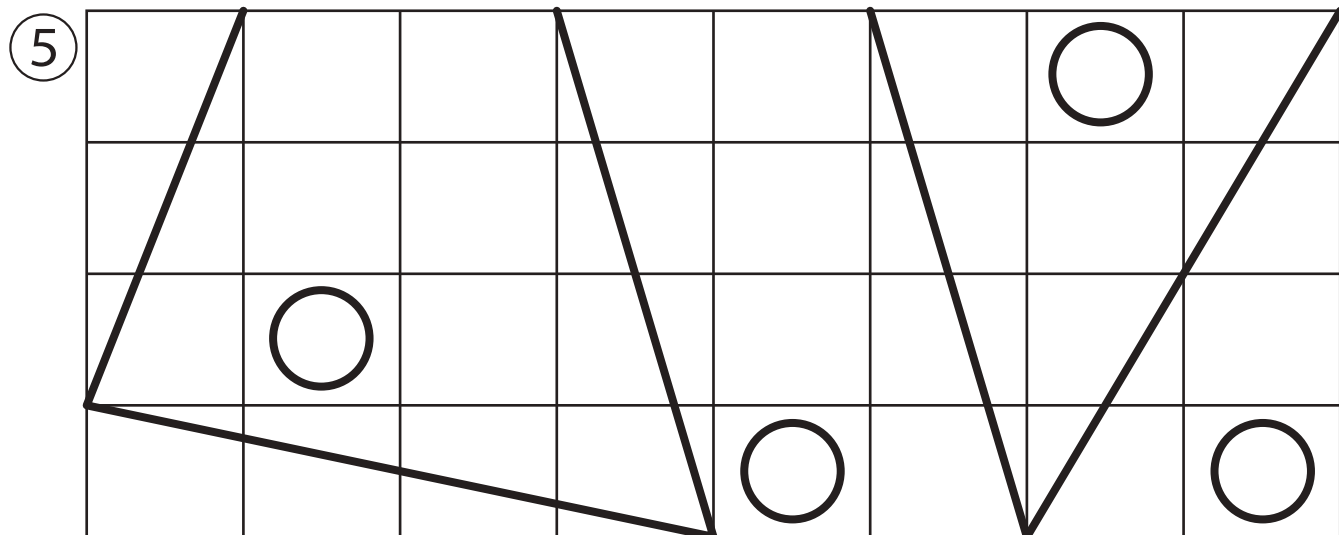
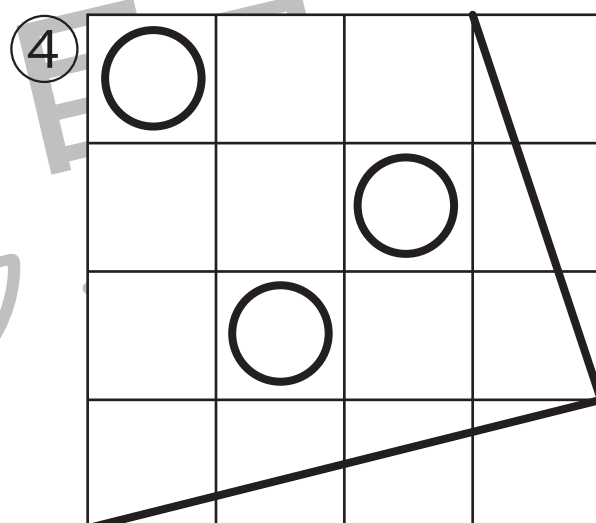
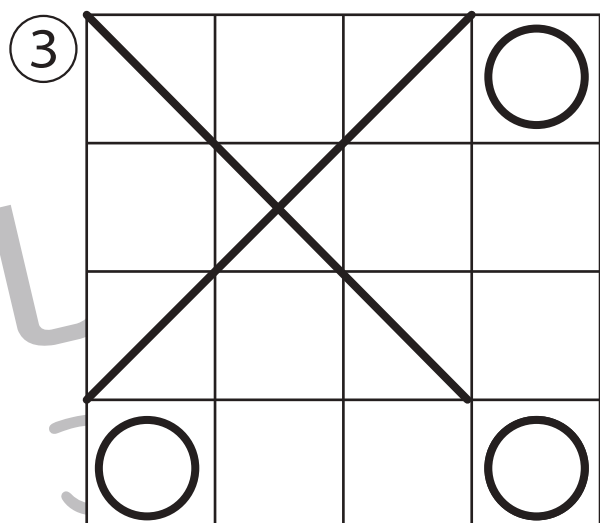

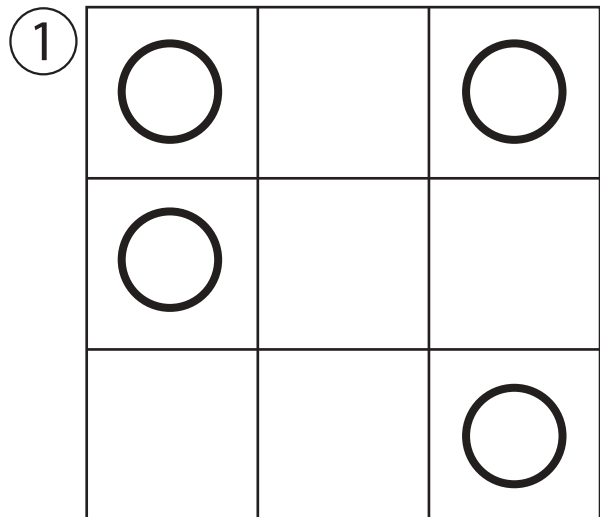
Study at home. 小学校受験の家庭学習教材

## 運筆：模写2(お手本)

別紙『運筆：模写2』を使用し、お手本と同じになるように描きます。

このプリントを前に掲示して、お手本と同じになるように記号や線をかきます。

※2022年3月10日(木)のオンライン授業ではお手本を1問ずつ画面にうつして取り組みます。



※1. このプリントは、しながわ・目黒こどもスクールのウェブサイトからダウンロードできます。無断複写・引用はご遠慮ください。

※2. このプリントを活用したオンライン授業のスケジュールは、しながわ・目黒こどもスクールのウェブサイトでご確認ください。



# おうちで、やろう。

Study at home. 小学校受験の家庭学習教材

運筆：模写2

別紙『運筆：模写2（お手本）』を使用し、お手本と同じになるように描きます。  
このプリントには解答はありませんので、お手本のプリントで確認をしてください。  
※2022年3月10日（木）のオンライン授業ではお手本を1問ずつ画面にうつして取り組みます。

①


②


③


④


⑤


※1. このプリントは、しながわ・目黒こどもスクールのウェブサイトからダウンロードできます。無断複写・引用はご遠慮ください。  
※2. このプリントを活用したオンライン授業のスケジュールは、しながわ・目黒こどもスクールのウェブサイトでご確認ください。

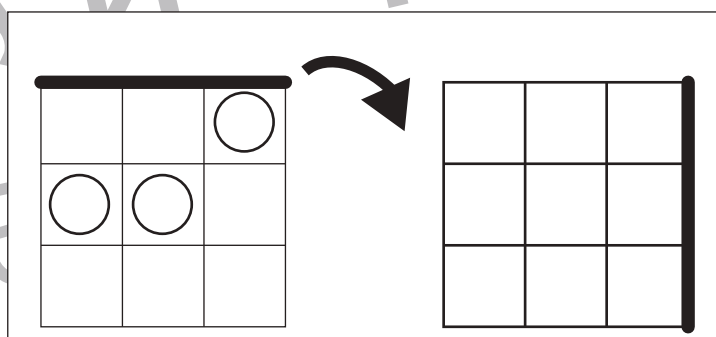
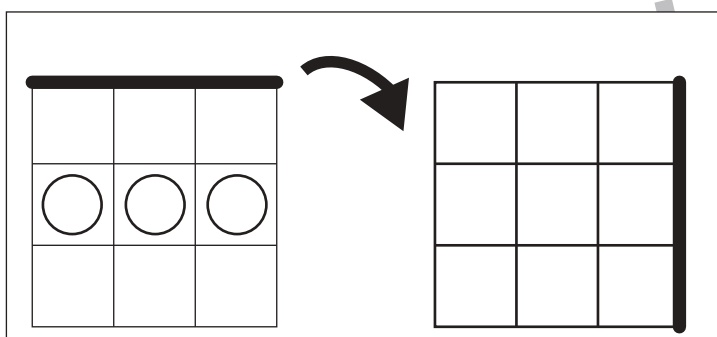
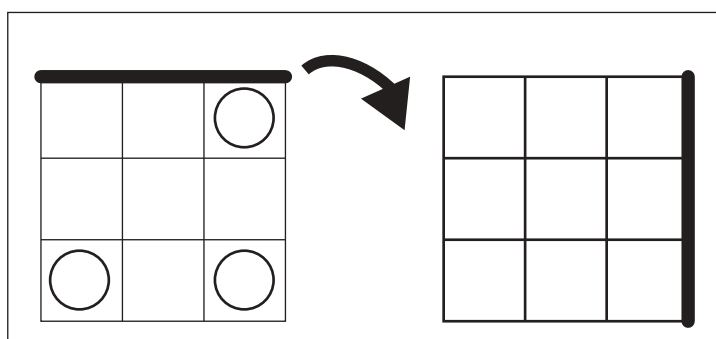
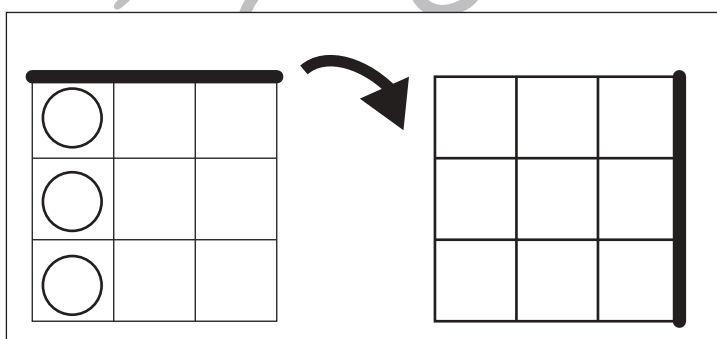
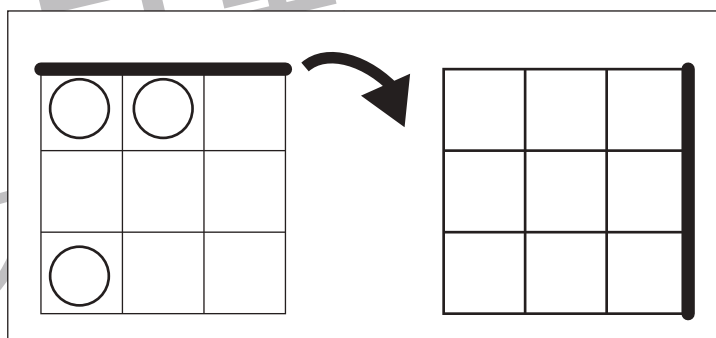
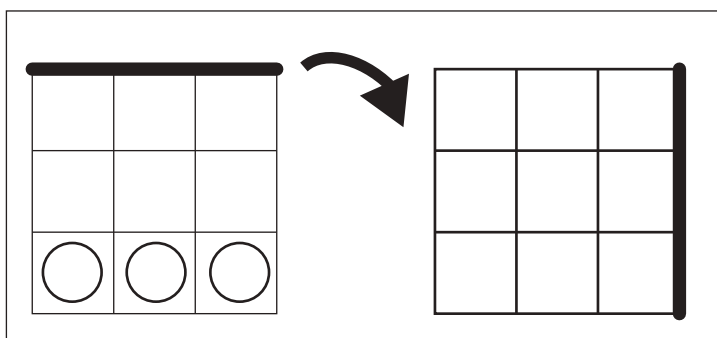
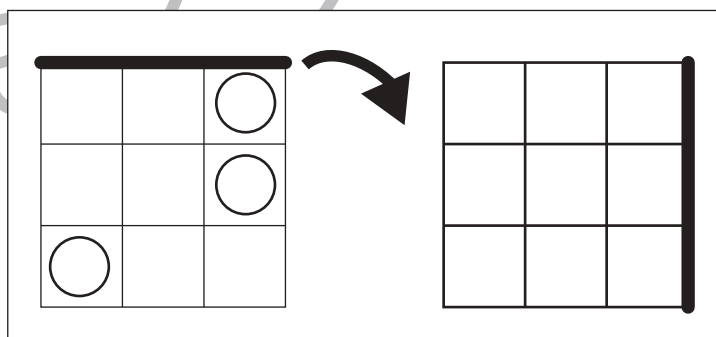
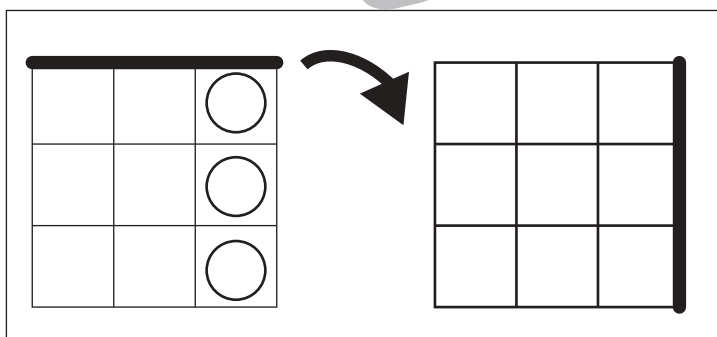
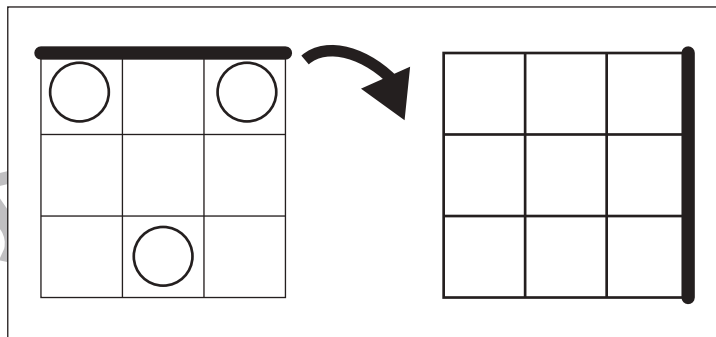
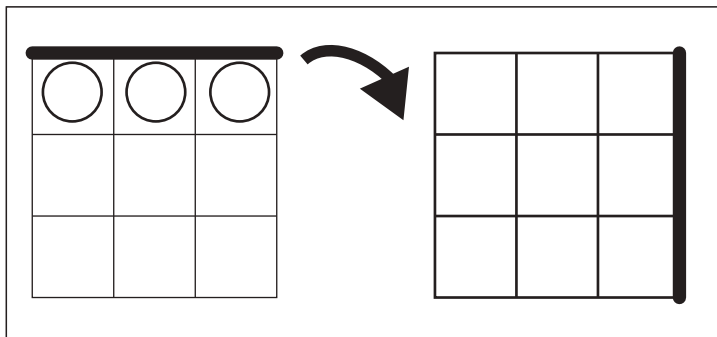


# おうちで、よろう。

Study at home. 小学校受験の家庭学習教材

図形：回転 17

左のお手本を矢印の方向へ 1 回倒した時の見え方を考えて右の四角にかきます。



※1. このプリントは、しながわ・目黒こどもスクールのウェブサイトでダウンロードができます。無断複写・引用はご遠慮ください。  
※2. このプリントを活用したオンライン授業のスケジュールは、しながわ・目黒こどもスクールのウェブサイトでご確認ください。



# おうちで、やろう。

Study at home. 小学校受験の家庭学習教材

図形：回転 18

左のお手本を矢印の方向へ 1 回倒した時の見え方を考えて右の四角にかきます。


※1. このプリントは、しながわ・目黒こどもスクールのウェブサイトからダウンロードできます。無断複写・引用はご遠慮ください。  
 ※2. このプリントを活用したオンライン授業のスケジュールは、しながわ・目黒こどもスクールのウェブサイトでご確認ください。



# おうちで、やろう。

Study at home. 小学校受験の家庭学習教材

## 図形：回転 19

左のお手本を矢印の方向へ 1 回倒した時の見え方を考えて右の四角にかきます。

Figure 19: Rotation. A 3x3 grid with a thick line on one side and circles in various positions. An arrow indicates a 90-degree clockwise rotation. The result is a 3x3 grid with the thick line on the top or bottom and circles in the corresponding rotated positions.

	○	
		○
○		

○	○	
○		

	○	
○		
		○

	○	
○		○

○		
○		
		○

	○	
		○

○		○
	○	

		○
○		○

		○
○		
		○

	○	
○		
		○

	○	
○		

		○

※1. このプリントは、しながわ・目黒こどもスクールのウェブサイトでダウンロードができます。無断複写・引用はご遠慮ください。  
 ※2. このプリントを活用したオンライン授業のスケジュールは、しながわ・目黒こどもスクールのウェブサイトでご確認ください。



# おうちで、やろう。

Study at home. 小学校受験の家庭学習教材

推理：条件推理5

上の四角の中が約束です。動物は1回で○の数だけマスを進めます。この約束で星まで進むには何回進めがよいですか。その数だけ下の四角に○をかきます。

	○ ○
--	-----

--	--	--	--	--	--	--	--	--	--	--	--



--	--	--	--	--	--	--	--	--	--	--	--

--	--	--	--	--	--	--	--	--	--	--	--



--	--	--	--	--	--	--	--	--	--	--	--

--	--	--	--	--	--	--	--	--	--	--	--




--	--	--	--	--	--	--	--	--	--	--	--

※1. このプリントは、しながわ・目黒こどもスクールのウェブサイトでダウンロードができます。無断複写・引用はご遠慮ください。  
 ※2. このプリントを活用したオンライン授業のスケジュールは、しながわ・目黒こどもスクールのウェブサイトでご確認ください。



# おうちで、やろう。

Study at home. 小学校受験の家庭学習教材

推理：条件推理6

上の四角の中が約束です。動物は1回で○の数だけマスを進めます。この約束で星まで進むには何回進めがよいですか。その数だけ下の四角に○をかきます。

	
---	---


											
---	--	--	--	--	--	--	--	--	--	---	--






--	--	--	--	--	--	--	--	--	--	--	--

											
--	--	--	--	--	--	--	--	--	--	--	--



											
---	--	--	--	--	--	--	--	--	--	--	--

--	--	--	--	--	--	--	--	--	--	--	--

--	--	--	--	--	--	--	--	--	--	--	--

※1. このプリントは、しながわ・目黒こどもスクールのウェブサイトでダウンロードができます。無断複写・引用はご遠慮ください。  
 ※2. このプリントを活用したオンライン授業のスケジュールは、しながわ・目黒こどもスクールのウェブサイトでご確認ください。




# おうちで、やろう。

Study at home. 小学校受験の家庭学習教材

推理：条件推理7

上の四角の中が約束です。動物は1回で○の数だけマスを進めます。この約束で星まで進むには何回進めがよいですか。その数だけ下の四角に○をかきます。

	○	○	○	○
---	---	---	---	---


		★										
--	--	---	--	--	--	--	--	--	--	--	--	---



												
--	--	--	--	--	--	--	--	--	--	--	--	--



			★									
--	--	--	---	--	--	--	--	--	--	--	--	--

													★
													



※1. このプリントは、しながわ・目黒こどもスクールのウェブサイトでダウンロードができます。無断複写・引用はご遠慮ください。  
※2. このプリントを活用したオンライン授業のスケジュールは、しながわ・目黒こどもスクールのウェブサイトでご確認ください。





# おうちで、やろう。

Study at home. 小学校受験の家庭学習教材

数量：広さ7

左と右の四角の中で灰色の部分が広いのはどちらですか。広い方に○をつけます。


※1. このプリントは、しながわ・目黒こどもスクールのウェブサイトでダウンロードができます。無断複写・引用はご遠慮ください。

※2. このプリントを活用したオンライン授業のスケジュールは、しながわ・目黒こどもスクールのウェブサイトでご確認ください。



# おうちで、やろう。

Study at home. 小学校受験の家庭学習教材

数量：広さ8

左と右の四角の中で灰色の部分が広いのはどちらですか。広い方に○をつけます。


※1. このプリントは、しながわ・目黒こどもスクールのウェブサイトでダウンロードができます。無断複写・引用はご遠慮ください。  
 ※2. このプリントを活用したオンライン授業のスケジュールは、しながわ・目黒こどもスクールのウェブサイトでご確認ください。


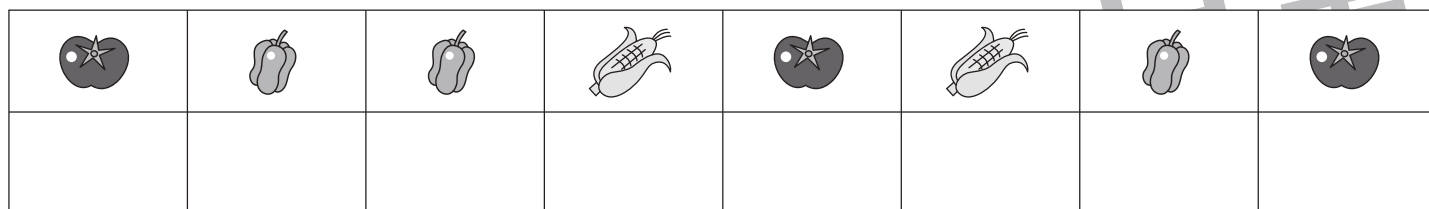
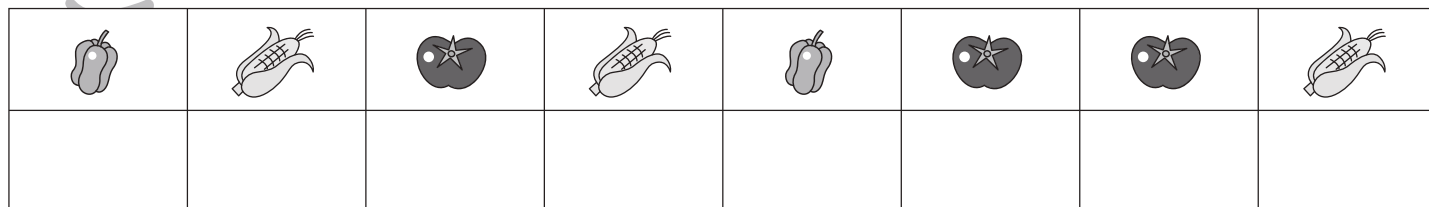
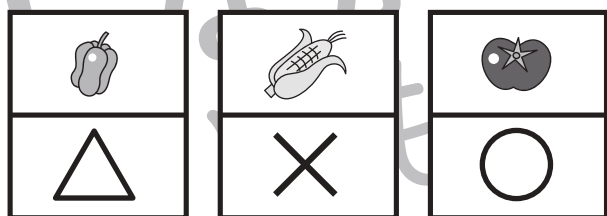
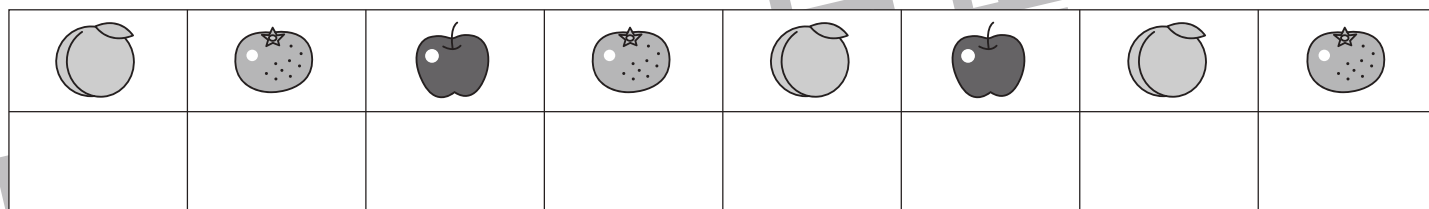
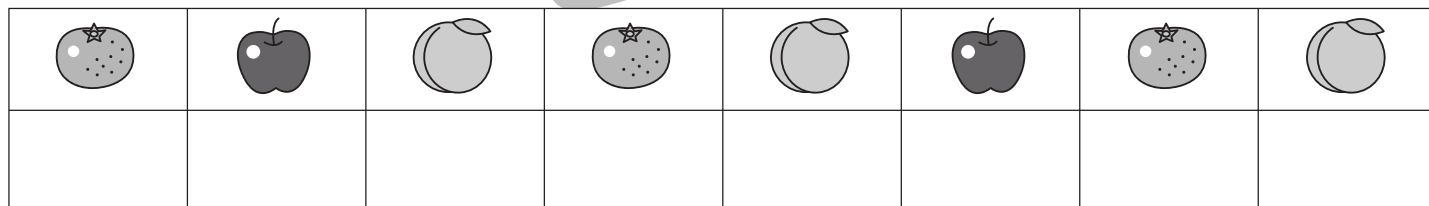
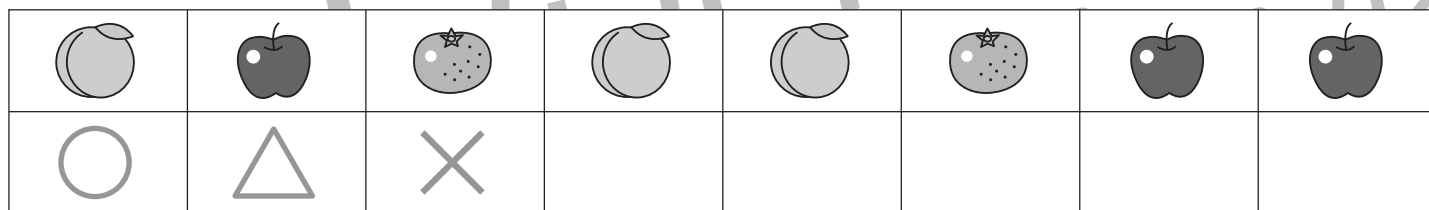



# おうちで、やろう。

Study at home. 小学校受験の家庭学習教材

## 処理能力：置き換え1

上の太い四角の中の絵がお手本です。上の絵の時に下の四角にそれぞれの記号をかきます。問題は一番上の段の左からはじめて、右端まで見ます。1段目ができたら2段目の左から右。次に3段目の左から右と順番に記号をかきます。この問題はできるだけ早く印をつけます。それぞれ1分以内を目指し取り組みましょう。



※1. このプリントは、しながわ・目黒こどもスクールのウェブサイトでダウンロードができます。無断複写・引用はご遠慮ください。

※2. このプリントを活用したオンライン授業のスケジュールは、しながわ・目黒こどもスクールのウェブサイトでご確認ください。