

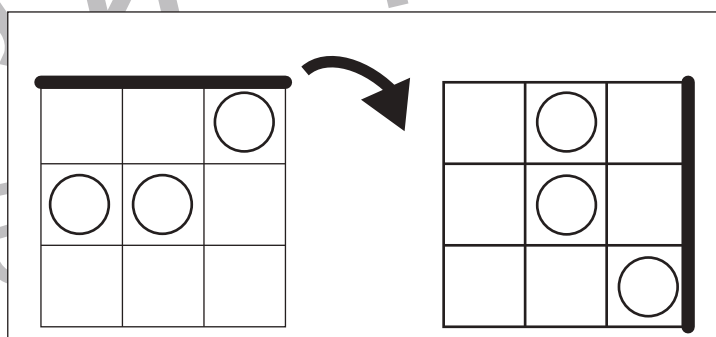
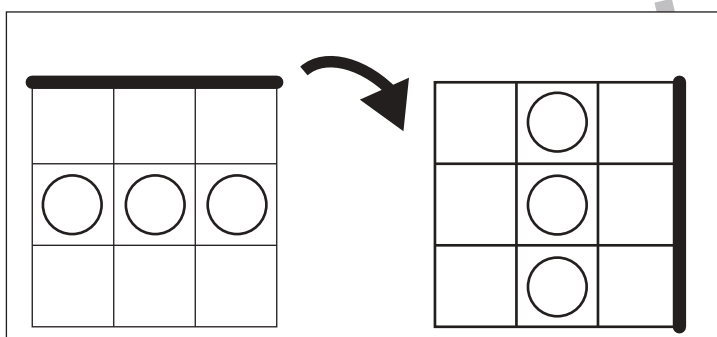
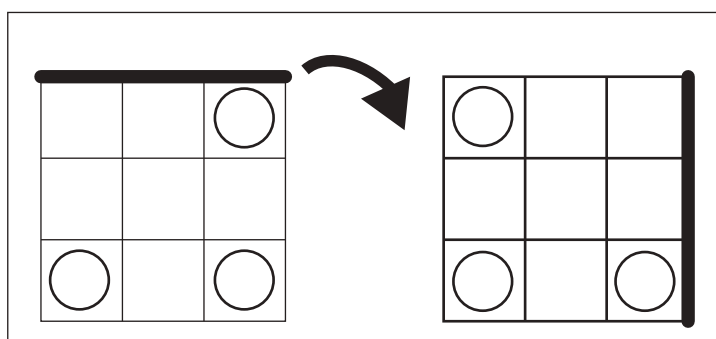
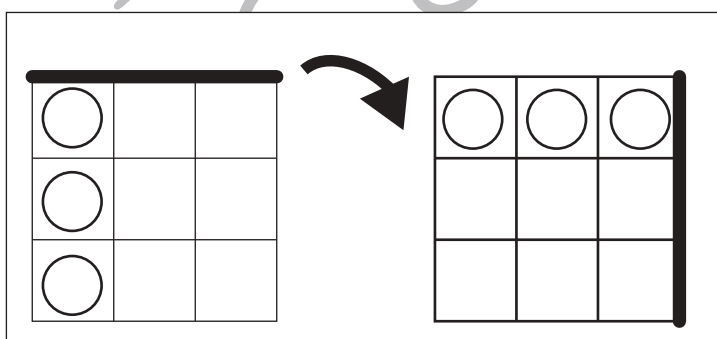
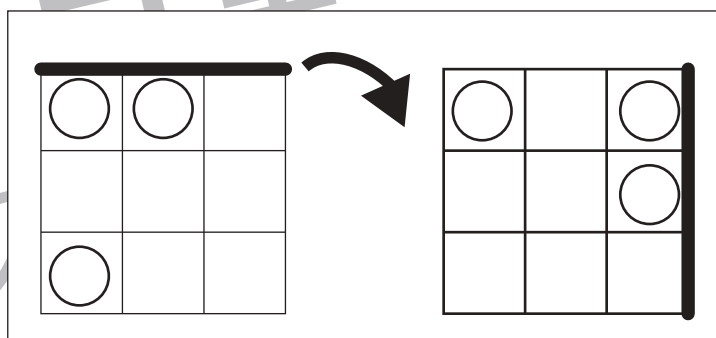
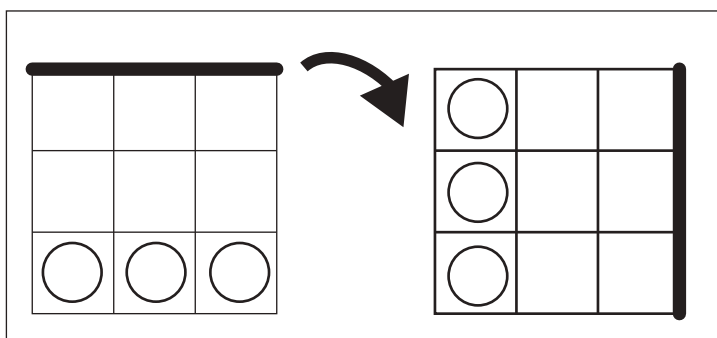
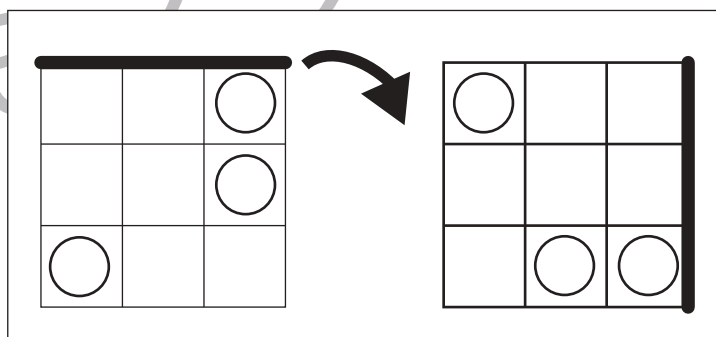
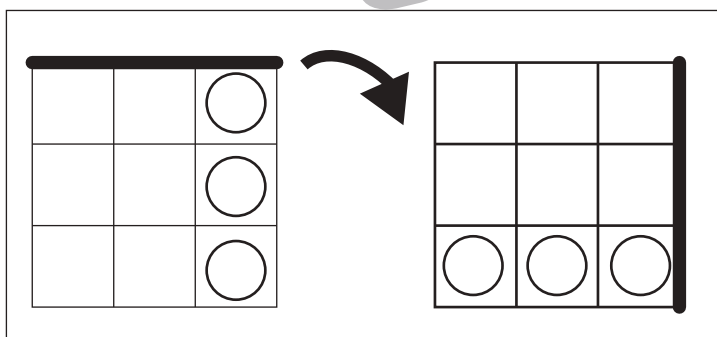
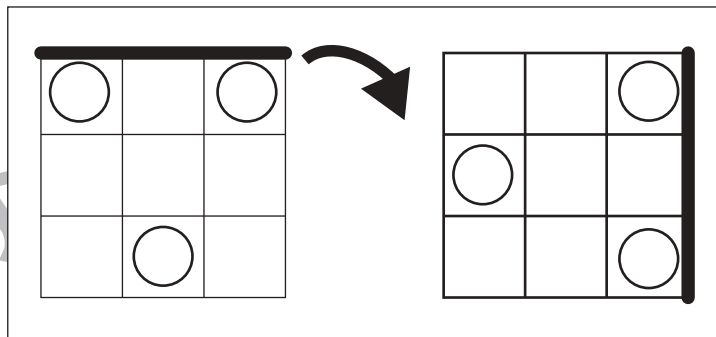
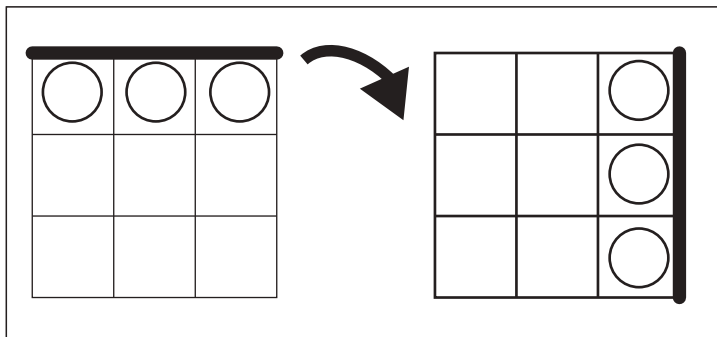


おうちで、よろう。

Study at home. 小学校受験の家庭学習教材

図形：回転 17

左のお手本を矢印の方向へ 1 回倒した時の見え方を考えて右の四角にかきます。



※1. このプリントは、しながわ・目黒こどもスクールのウェブサイトからダウンロードできます。無断複写・引用はご遠慮ください。
※2. このプリントを活用したオンライン授業のスケジュールは、しながわ・目黒こどもスクールのウェブサイトでご確認ください。

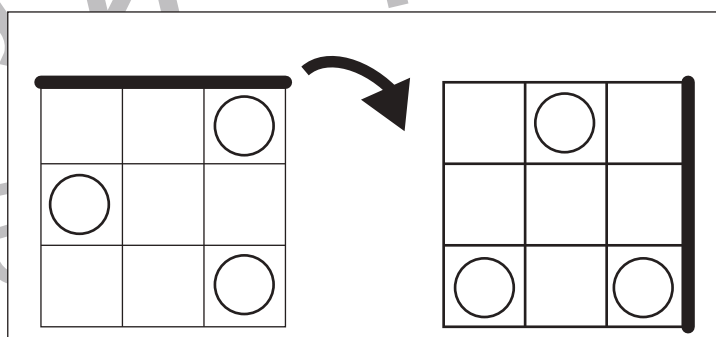
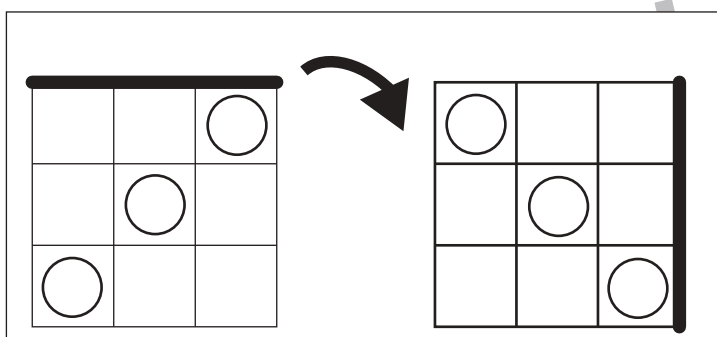
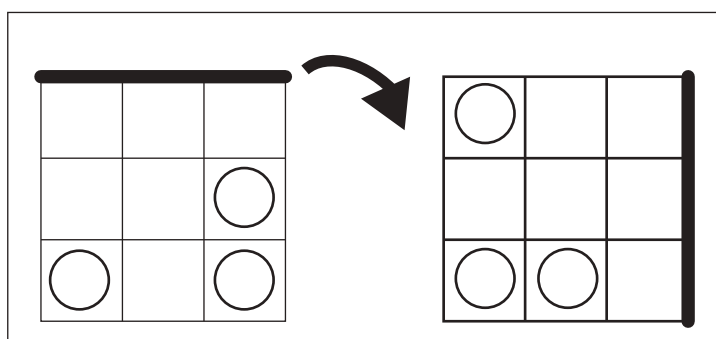
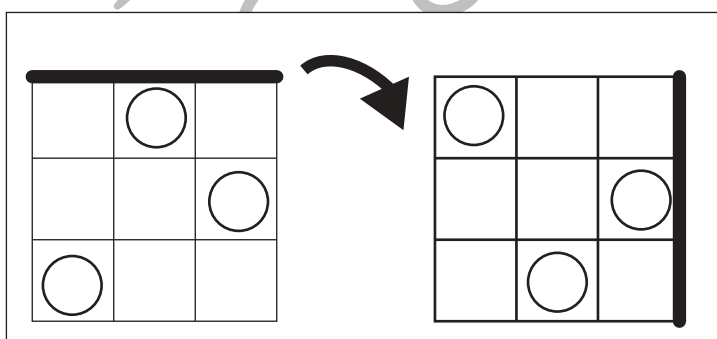
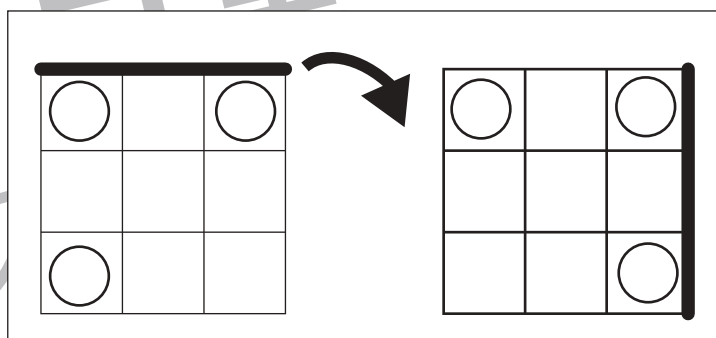
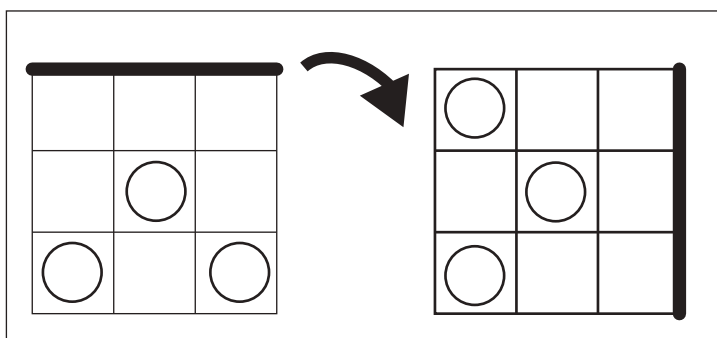
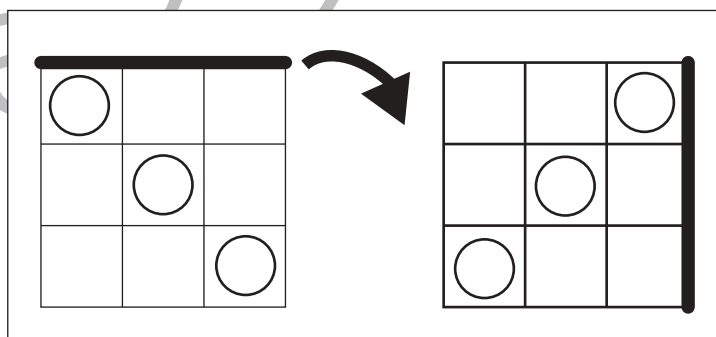
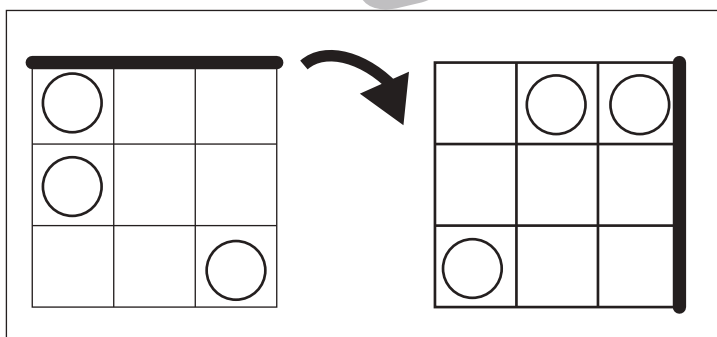
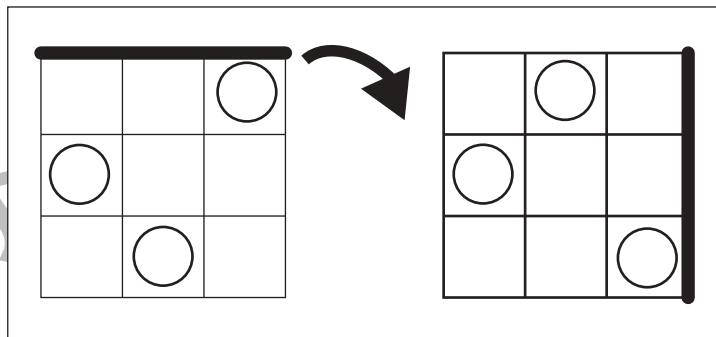
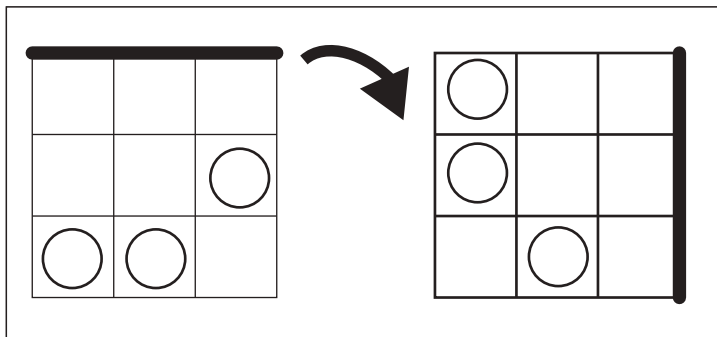


おうちで、やろう。

Study at home. 小学校受験の家庭学習教材

図形：回転 18

左のお手本を矢印の方向へ 1 回倒した時の見え方を考えて右の四角にかきます。



※1. このプリントは、しながわ・目黒こどもスクールのウェブサイトからダウンロードできます。無断複写・引用はご遠慮ください。
※2. このプリントを活用したオンライン授業のスケジュールは、しながわ・目黒こどもスクールのウェブサイトでご確認ください。

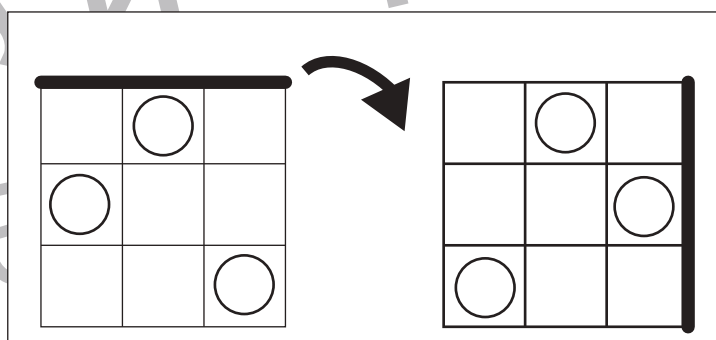
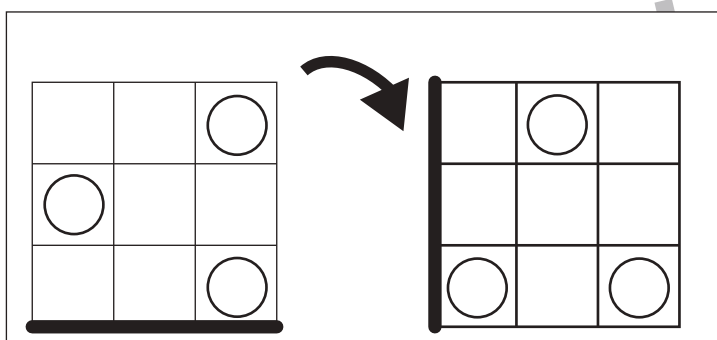
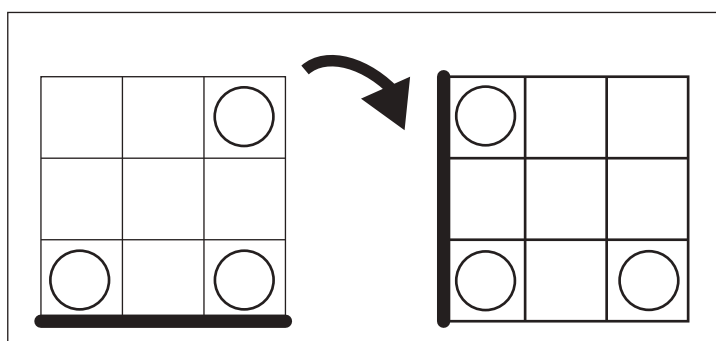
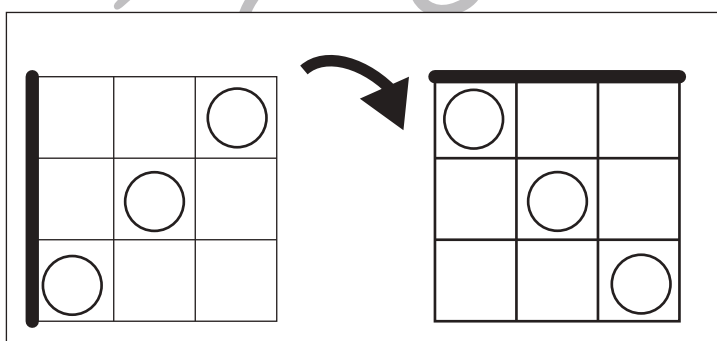
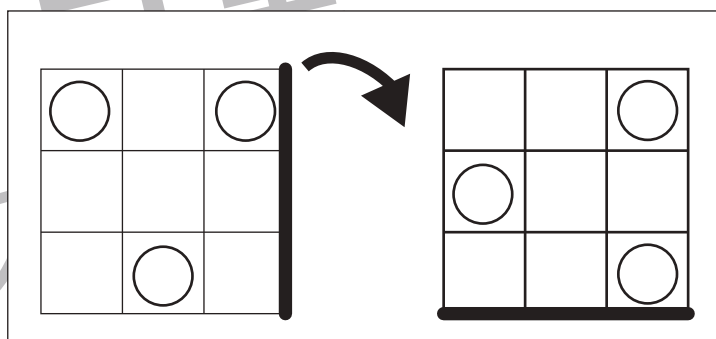
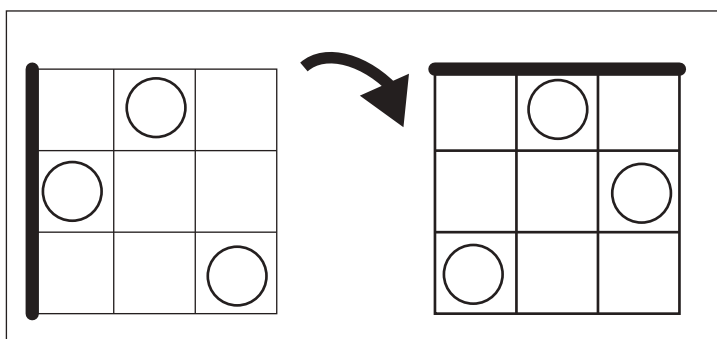
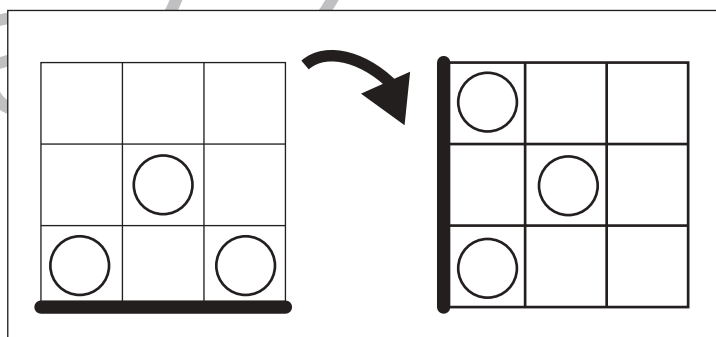
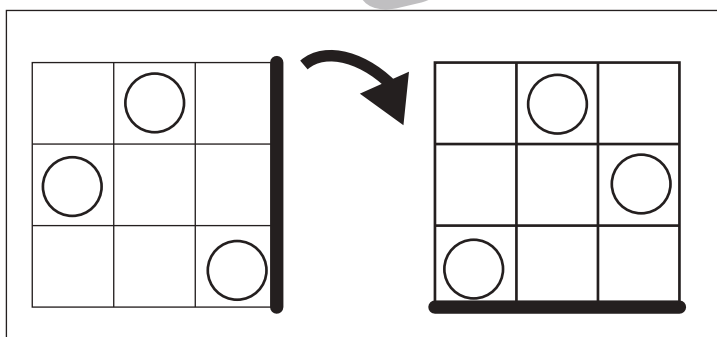
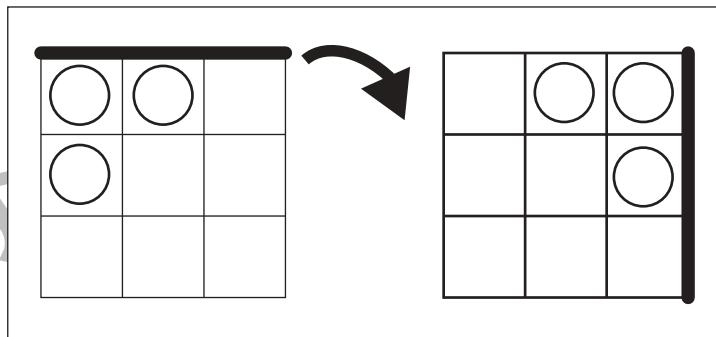
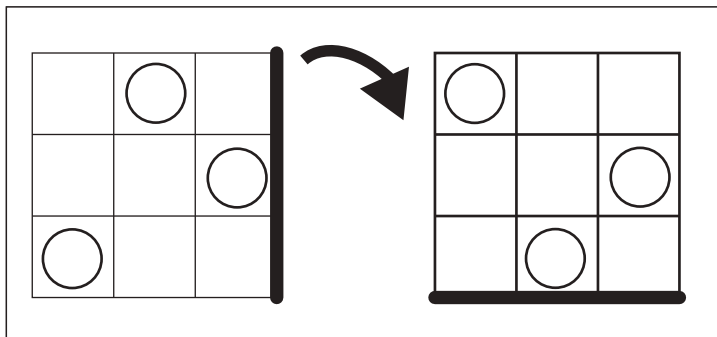


おうちで、やろう。

Study at home. 小学校受験の家庭学習教材

図形：回転 19

左のお手本を矢印の方向へ 1 回倒した時の見え方を考えて右の四角にかきます。



※1. このプリントは、しながわ・目黒こどもスクールのウェブサイトでダウンロードができます。無断複写・引用はご遠慮ください。
※2. このプリントを活用したオンライン授業のスケジュールは、しながわ・目黒こどもスクールのウェブサイトでご確認ください。





おうちで、やろう。

Study at home. 小学校受験の家庭学習教材

推理：条件推理5


上の四角の中が約束です。動物は1回で○の数だけマスを進めます。この約束で星まで進むには何回進めがよいですか。その数だけ下の四角に○をかきます。

	○ ○
---	-----

											
--	--	--	--	--	--	---	--	--	--	--	--





○ × 3

											
---	--	--	--	--	--	--	--	--	--	--	--



											
--	--	--	--	---	--	--	--	--	--	--	--

○ × 10



○ × 9

※1. このプリントは、しながわ・目黒こどもスクールのウェブサイトでダウンロードができます。無断複写・引用はご遠慮ください。
 ※2. このプリントを活用したオンライン授業のスケジュールは、しながわ・目黒こどもスクールのウェブサイトでご確認ください。



おうちで、やろう。

Study at home. 小学校受験の家庭学習教材


推理：条件推理6


上の四角の中が約束です。動物は1回で○の数だけマスを進めます。この約束で星まで進むには何回進めがよいですか。その数だけ下の四角に○をかきます。

			
---	---	---	---

											
---	--	--	--	--	--	--	--	--	--	---	--







	\times	3
---	----------	----------

											
---	--	--	--	--	--	--	--	--	--	--	--



											
---	--	--	--	--	--	--	--	--	--	--	--

	\times	8
---	----------	----------

	\times	6
---	----------	----------

※1. このプリントは、しながわ・目黒こどもスクールのウェブサイトでダウンロードができます。無断複写・引用はご遠慮ください。
 ※2. このプリントを活用したオンライン授業のスケジュールは、しながわ・目黒こどもスクールのウェブサイトでご確認ください。



おうちで、やろう。

Study at home. 小学校受験の家庭学習教材

数量：広さ7

左と右の四角の中で灰色の部分が広いのはどちらですか。広い方に○をつけます。

※1. このプリントは、しながわ・目黒こどもスクールのウェブサイトでダウンロードができます。無断複写・引用はご遠慮ください。

※2. このプリントを活用したオンライン授業のスケジュールは、しながわ・目黒こどもスクールのウェブサイトでご確認ください。



おうちで、やろう。

Study at home. 小学校受験の家庭学習教材

数量：広さ 8

左と右の四角の中で灰色の部分が広いのはどちらですか。広い方に○をつけます。

※1. このプリントは、しながわ・目黒こどもスクールのウェブサイトでダウンロードができます。無断複写・引用はご遠慮ください。
 ※2. このプリントを活用したオンライン授業のスケジュールは、しながわ・目黒こどもスクールのウェブサイトでご確認ください。



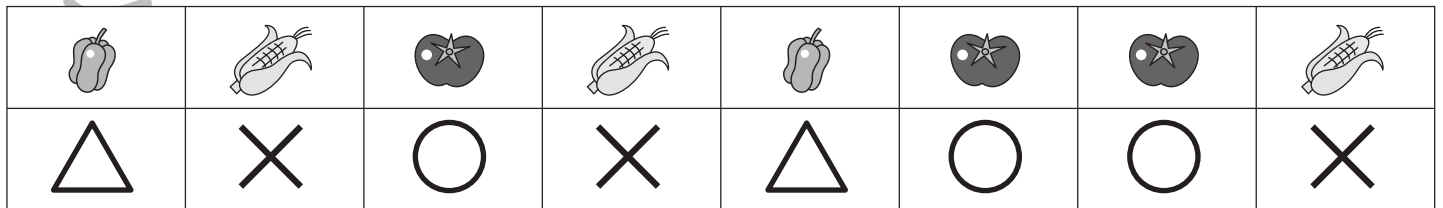
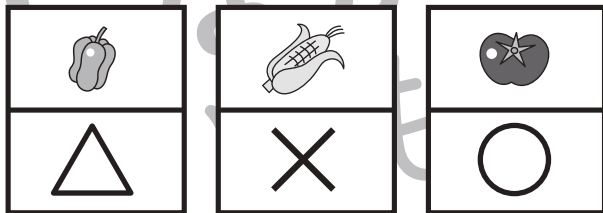


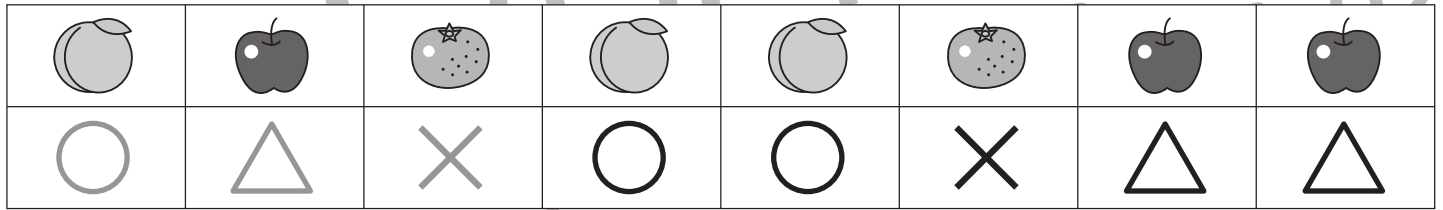



おうちで、やろう。

Study at home. 小学校受験の家庭学習教材

処理能力：置き換え1

上の太い四角の中の絵がお手本です。上の絵の時に下の四角にそれぞれの記号をかきます。問題は一番上の段の左からはじめて、右端まで見ます。1段目ができたら2段目の左から右。次に3段目の左から右と順番に記号をかきます。この問題はできるだけ早く印をつけます。それぞれ1分以内を目指し取り組みましょう。



※1. このプリントは、しながわ・目黒こどもスクールのウェブサイトでダウンロードができます。無断複写・引用はご遠慮ください。
※2. このプリントを活用したオンライン授業のスケジュールは、しながわ・目黒こどもスクールのウェブサイトでご確認ください。