



# おうちで、やろう。

Study at home. 小学校受験の家庭学習教材

常識：なぞなぞ2

①～⑤の問題を聞いて、下の四角の中から正しいものを選びます。


①私は火の力を使って空を飛ぶことができます。私に○をつけてください。

②私はホームで待っている人を駅から駅まで一度にたくさんの人を運ぶことができます。私に△をつけてください。

③私はおまわりさんがサイレンを流しながら走ります。私に□をつけてください。

④私にはタイヤが2つあって、エンジンを使って動きます。私に◎をつけてください。

⑤私は火事のときにサイレンを鳴らしながら走り、火を消しに行きます。私に×をつけてください。



※1. このプリントは、しながわ・目黒こどもスクールのウェブサイトでダウンロードができます。無断複写・引用はご遠慮ください。

※2. このプリントを活用したオンライン授業のスケジュールは、しながわ・目黒こどもスクールのウェブサイトでご確認ください。



# おうちで、やろう。

Study at home. 小学校受験の家庭学習教材

常識：なぞなぞ3

①～⑤の問題を聞いて、下の四角の中から正しいものを選びます。


①私は土の中に穴を掘って巣を作ります。体は小さいですが働き者です。私に○をつけてください。

②私は花の蜜を集めます。集めた蜜は人も食べることができます。私に△をつけてください。

③私は秋になると羽を使ってきれいな音をならします。私に□をつけてください。

④私は角が1つあります。夏の間木にとまっていると見ることができます。私に◎をつけてください。

⑤私はこどものときは水の中にいるヤゴです。大人になると空を飛ぶことができます。私に×をつけてください。



※1. このプリントは、しながわ・目黒こどもスクールのウェブサイトでダウンロードができます。無断複写・引用はご遠慮ください。

※2. このプリントを活用したオンライン授業のスケジュールは、しながわ・目黒こどもスクールのウェブサイトでご確認ください。





# おうちで、やろう。

Study at home. 小学校受験の家庭学習教材

常識：なぞなぞ 4

①～⑤の問題を聞いて、下の四角の中から正しいものを選びます。


①私はみんなが飲む牛乳を作ることができます。体は大きいですが、おとなしいです。私に○をつけてください。

②私は鳥の仲間ですが、空を飛ぶことができません。水の中を泳ぐのが得意です。私に△をつけてください。

③私から毛糸をつくることができます。毛糸をつかってマフラーやセーターを作ることができます。私に□をつけてください。

④私は卵をつくります。頭にトサカがあります。私に◎をつけてください。

⑤私は肉が好きです。顔の周りにたてがみがあります。私に×をつけてください。



※1. このプリントは、しながわ・目黒こどもスクールのウェブサイトでダウンロードができます。無断複写・引用はご遠慮ください。

※2. このプリントを活用したオンライン授業のスケジュールは、しながわ・目黒こどもスクールのウェブサイトでご確認ください。



# おうちで、やろう。

Study at home. 小学校受験の家庭学習教材

## 図形：折り重ね 24

真ん中の点線で矢印の方向へ折り重ねたときの見え方を考えて三つ目の四角を塗ります。

※1. このプリントは、しながわ・目黒こどもスクールのウェブサイトでダウンロードができます。無断複写・引用はご遠慮ください。  
※2. このプリントを活用したオンライン授業のスケジュールは、しながわ・目黒こどもスクールのウェブサイトでご確認ください。



# おうちで、やろう。

Study at home. 小学校受験の家庭学習教材

## 図形：折り重ね 25

真ん中の点線で矢印の方向へ折り重ねたときの見え方を考えて三つ目の四角を塗ります。

※1. このプリントは、しながわ・目黒こどもスクールのウェブサイトでダウンロードができます。無断複写・引用はご遠慮ください。  
 ※2. このプリントを活用したオンライン授業のスケジュールは、しながわ・目黒こどもスクールのウェブサイトでご確認ください。

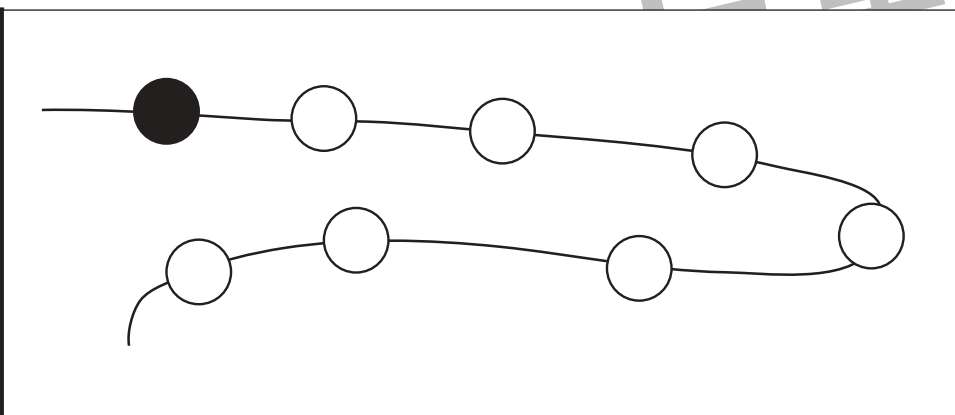
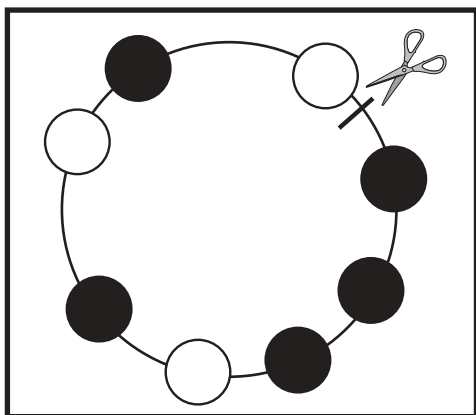
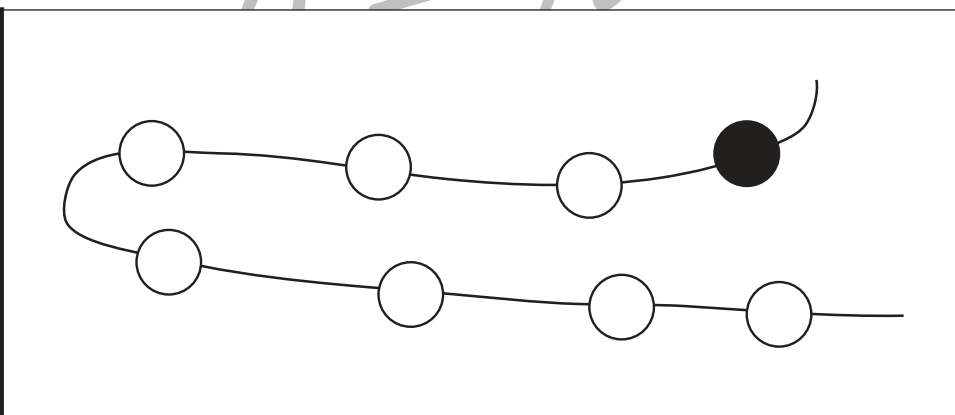

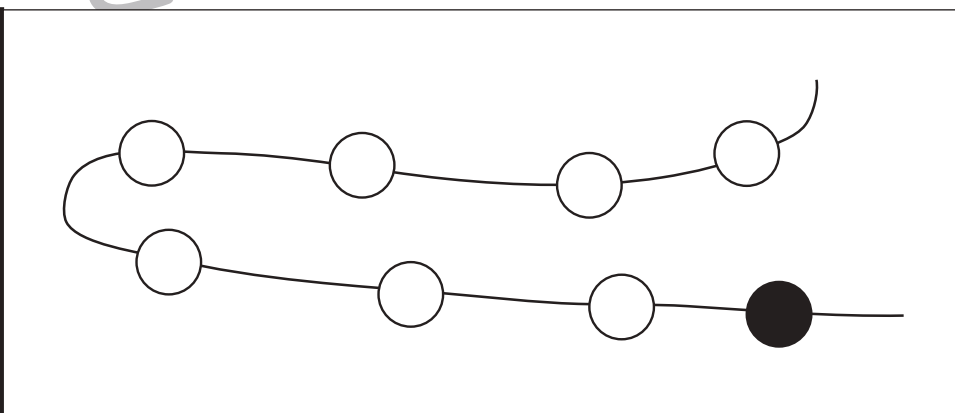
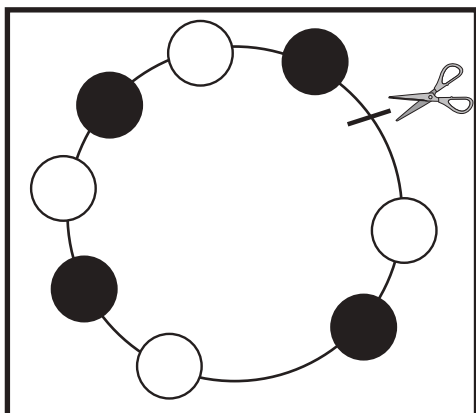
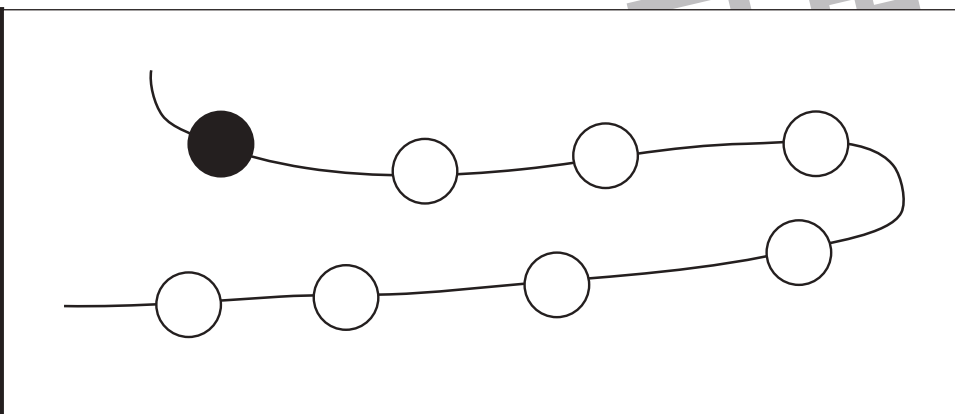
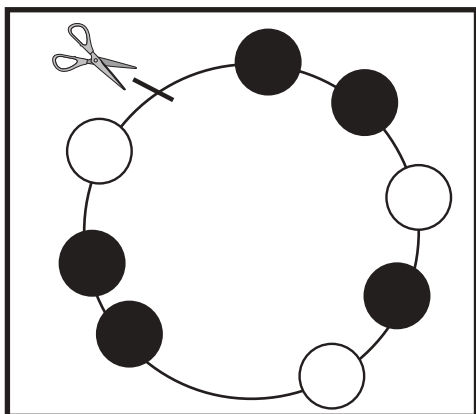


# おうちで、やろう。

Study at home. 小学校受験の家庭学習教材

## 推理：輪つなぎ3

左の四角の中は白と黒のビーズでできたプレスレットです。このプレスレットを線の場所ではさみで切りました。切ったあと、右のように並べたとき、黒いビーズはどこになりますか。黒いビーズの場所を塗ります。



※1. このプリントは、しながわ・目黒こどもスクールのウェブサイトからダウンロードできます。無断複写・引用はご遠慮ください。

※2. このプリントを活用したオンライン授業のスケジュールは、しながわ・目黒こどもスクールのウェブサイトでご確認ください。

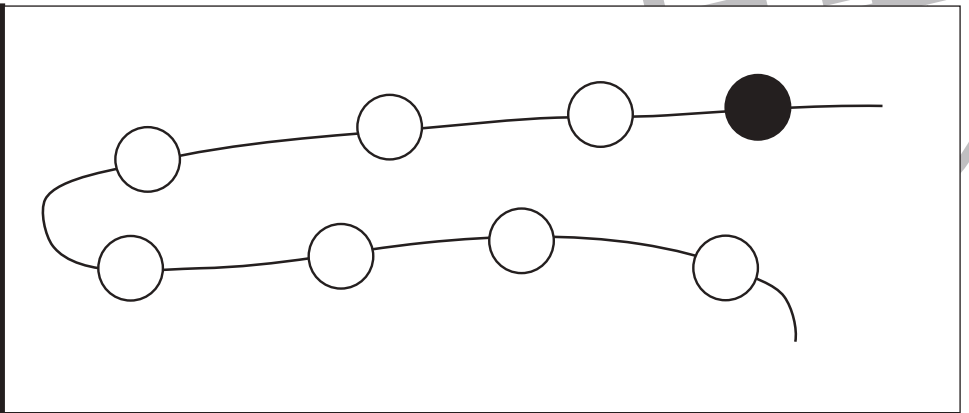
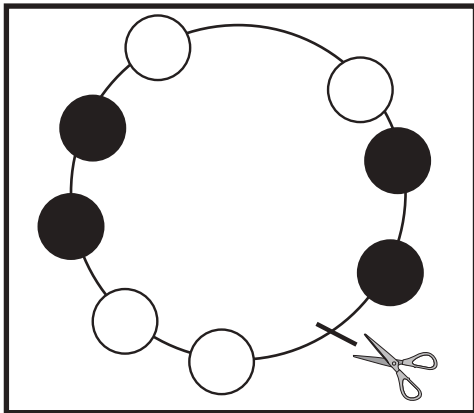
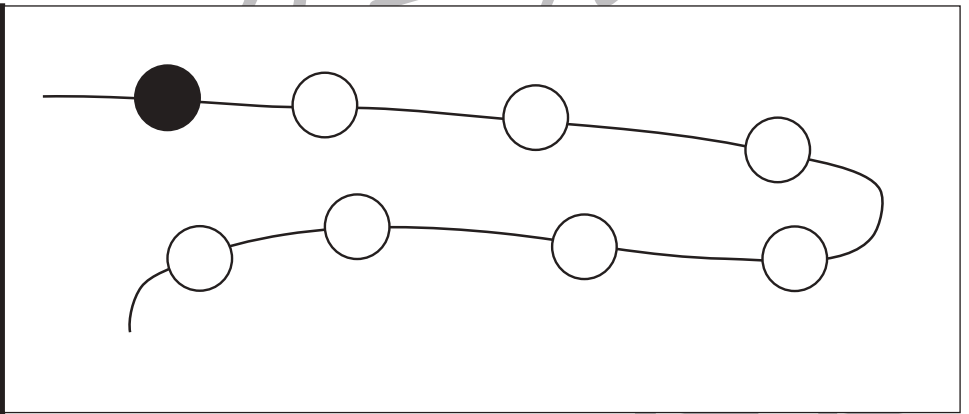
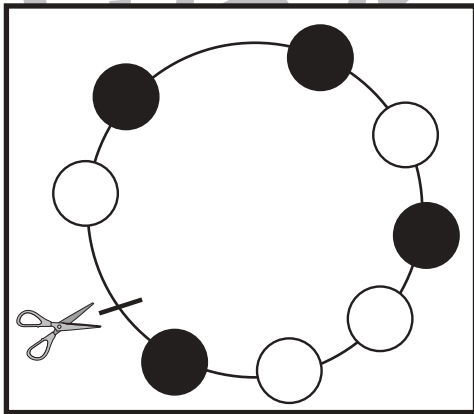
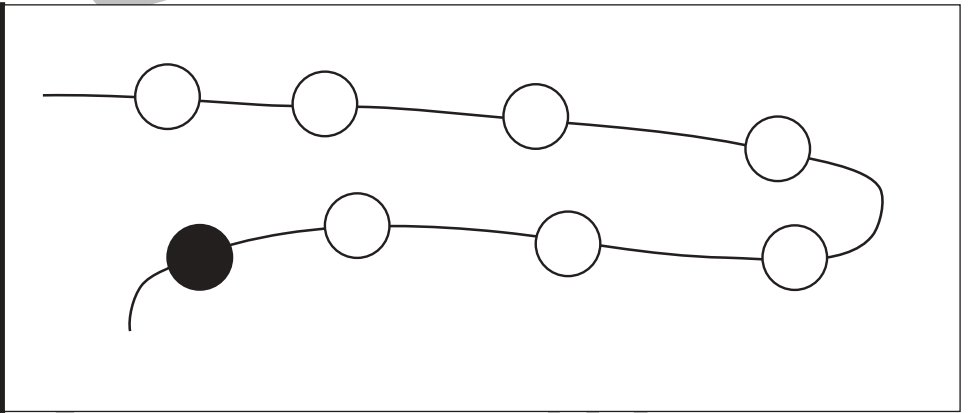
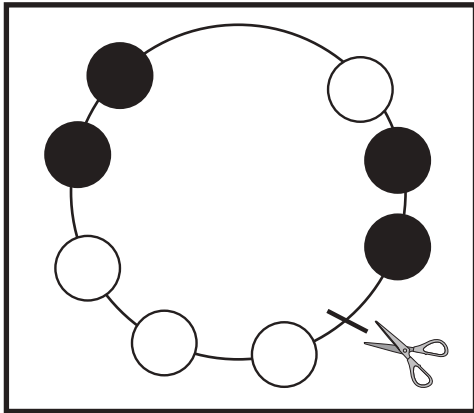
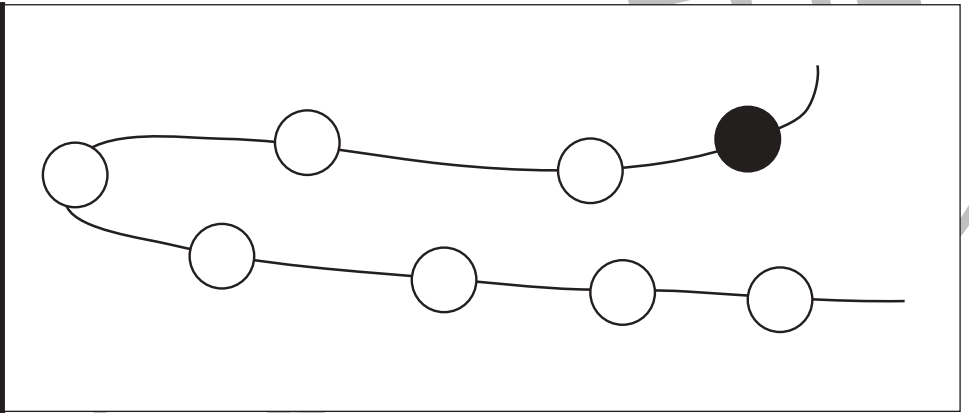
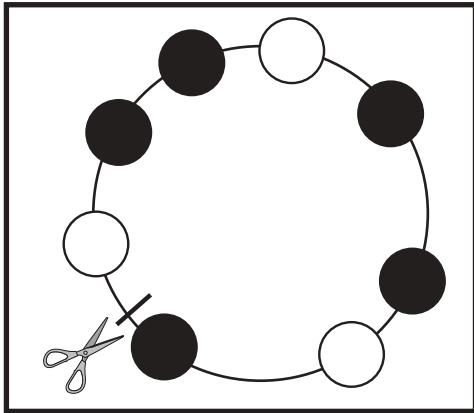


# おうちで、やろう。

Study at home. 小学校受験の家庭学習教材

## 推理：輪つなぎ4

左の四角の中は白と黒のビーズでできたプレスレットです。このプレスレットを線の場所ではさみで切りました。切ったあと、右のように並べたとき、黒いビーズはどこになりますか。黒いビーズの場所を塗ります。



※1. このプリントは、しながわ・目黒こどもスクールのウェブサイトでダウンロードができます。無断複写・引用はご遠慮ください。  
※2. このプリントを活用したオンライン授業のスケジュールは、しながわ・目黒こどもスクールのウェブサイトでご確認ください。



# おうちで、やろう。

Study at home. 小学校受験の家庭学習教材

数量：広さ9

左と右の四角の中で灰色の部分が広いのはどちらですか。広い方に○をつけます。


※1. このプリントは、しながわ・目黒こどもスクールのウェブサイトでダウンロードができます。無断複写・引用はご遠慮ください。  
 ※2. このプリントを活用したオンライン授業のスケジュールは、しながわ・目黒こどもスクールのウェブサイトでご確認ください。





# おうちで、やろう。

Study at home. 小学校受験の家庭学習教材

数量：広さ 10

左と右の四角の中で灰色の部分が広いのはどちらですか。広い方に○をつけます。


※1. このプリントは、しながわ・目黒こどもスクールのウェブサイトでダウンロードができます。無断複写・引用はご遠慮ください。  
 ※2. このプリントを活用したオンライン授業のスケジュールは、しながわ・目黒こどもスクールのウェブサイトでご確認ください。



# おうちで、やろう。


Study at home. 小学校受験の家庭学習教材

処理：運筆8

一周線をかきます。どこからはじめてもよいですが、壁にぶつからないようにきれいに素早く線をかきましょう。

この問題はスピードを意識して取り組む練習をしてみましょう。(1分～1分30秒)

※この問題に解答はありません。



※1. このプリントは、しながわ・目黒こどもスクールのウェブサイトでダウンロードができます。無断複写・引用はご遠慮ください。

※2. このプリントを活用したオンライン授業のスケジュールは、しながわ・目黒こどもスクールのウェブサイトでご確認ください。