



# おうちで、やろう。

Study at home. 小学校受験の家庭学習教材

## 指示の聞き取り 9

それぞれの設問に答えましょう。指示は1度ですべて読み上げます。しっかり聞いて取り組みましょう。

①鉛筆で左から右へ向かってO→△→×の順番で3回かきます。枠の中に入るように大きさにも注意しましょう。

②鉛筆で左から右へ向かってO→O→×の順番で3回かきます。枠の中に入るように大きさにも注意しましょう。

③鉛筆で左から右へ向かって×→O→×の順番で3回かきます。枠の中に入るように大きさにも注意しましょう。

④鉛筆で左から右へ向かってO→O→×→◎の順番で3回かきます。枠の中に入るように大きさにも注意しましょう。

①

②

③

④













# おうちで、やろう。

Study at home. 小学校受験の家庭学習教材

## 言語：音の理解 20

絵の右にある○は絵の名前の音を表します。○の数は音の数、並び方は左端がはじめの音、右端が終りの音です。このとき左の四角の中の絵の●の場所の音を考えます。右の四角の絵で左の四角の●と同じ音の場所を探して○を塗ります。

	○ ○ ●		○ ○ ○ ○
	● ○ ○ ○		○ ○ ○ ○
	● ○ ○		○ ○ ○
	○ ○ ●		○ ○ ○
	○ ○ ●		○ ○ ○

※1. このプリントは、しながわ・目黒こどもスクールのウェブサイトでダウンロードができます。無断複写・引用はご遠慮ください。

※2. このプリントを活用したオンライン授業のスケジュールは、しながわ・目黒こどもスクールのウェブサイトでご確認ください。















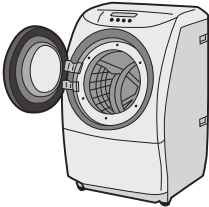



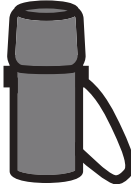



# おうちで、やろう。

Study at home. 小学校受験の家庭学習教材

## 言語：音の理解 21

絵の右にある○は絵の名前の音を表します。○の数は音の数、並び方は左端がはじめの音、右端が終りの音です。このとき左の四角の中の絵の●の場所の音を考えます。右の四角の絵で左の四角の●と同じ音の場所を探して○を塗ります。

※1. このプリントは、しながわ・目黒こどもスクールのウェブサイトでダウンロードができます。無断複写・引用はご遠慮ください。

※2. このプリントを活用したオンライン授業のスケジュールは、しながわ・目黒こどもスクールのウェブサイトでご確認ください。



# おうちで、やろう。

Study at home. 小学校受験の家庭学習教材

常識：生活2

①～⑤のお話を聞いて答えましょう。






①私は畑などでおいしい野菜などの作物を作っています。私を上から3段目にいる人の中から見つけて○をつけます。

②私は火事の時に消防車によって現場にかけつけます。私を上から2段目にいる人の中から見つけて△をつけます。

③私はおいしい料理を作ってみんに食べてもらいます。私を下から2段目にいる人の中から見つけて×をつけます。

④私は人や街を守る仕事をしています。私を一番上の段にいる人の中から見つけて◎をつけます。

⑤私は病気の人に薬を渡す仕事をしています。私を一番下の段にいる人の中から見つけて□をつけます。



※1. このプリントは、しながわ・目黒こどもスクールのウェブサイトダウンロードができます。無断複写・引用はご遠慮ください。

※2. このプリントを活用したオンライン授業のスケジュールは、しながわ・目黒こどもスクールのウェブサイトでご確認ください。



# おうちで、やろう。

Study at home. 小学校受験の家庭学習教材

図形：回転 20

左のお花を矢印の方向へまわした時の見え方を考えて右のお花の花びらを塗ります。


※1. このプリントは、しながわ・目黒こどもスクールのウェブサイトからダウンロードできます。無断複写・引用はご遠慮ください。

※2. このプリントを活用したオンライン授業のスケジュールは、しながわ・目黒こどもスクールのウェブサイトでご確認ください。



# おうちで、やろう。

Study at home. 小学校受験の家庭学習教材

## 図形：回転 21

左のお花を矢印の方向へまわした時の見え方を考えて右のお花の花びらを塗ります。


※1. このプリントは、しながわ・目黒こどもスクールのウェブサイトからダウンロードできます。無断複写・引用はご遠慮ください。

※2. このプリントを活用したオンライン授業のスケジュールは、しながわ・目黒こどもスクールのウェブサイトでご確認ください。



# おうちで、よろう。

Study at home. 小学校受験の家庭学習教材

## 図形：回転 22

左の太陽を矢印の方向へまわした時の見え方を考えて右の太陽を塗ります。


※1. このプリントは、しながわ・目黒こどもスクールのウェブサイトでダウンロードができます。無断複写・引用はご遠慮ください。

※2. このプリントを活用したオンライン授業のスケジュールは、しながわ・目黒こどもスクールのウェブサイトでご確認ください。





# おうちで、やろう。

Study at home. 小学校受験の家庭学習教材

数量：条件推理 8

左の四角の中の数だけおはじきを持っています。持っているおはじきのうちいくつかのおはじきを手で隠してしまいました。その様子が真ん中の四角です。このとき、手で隠しているおはじきの数を考えてその数だけ右の四角に○をかきます。

--	--	--

--	--	--

--	--	--

--	--	--

--	--	--

※1. このプリントは、しながわ・目黒こどもスクールのウェブサイトでダウンロードができます。無断複写・引用はご遠慮ください。

※2. このプリントを活用したオンライン授業のスケジュールは、しながわ・目黒こどもスクールのウェブサイトでご確認ください。





# おうちで、やろう。

Study at home. 小学校受験の家庭学習教材

数量：条件推理9

左の四角の中の数だけおはじきを持っています。持っているおはじきのうちいくつかのおはじきを手で隠してしまいました。その様子が真ん中の四角です。このとき、手で隠しているおはじきの数を考えてその数だけ右の四角に○をかきます。

--	--	--

--	--	--

--	--	--

--	--	--

--	--	--

※1. このプリントは、しながわ・目黒こどもスクールのウェブサイトからダウンロードできます。無断複写・引用はご遠慮ください。

※2. このプリントを活用したオンライン授業のスケジュールは、しながわ・目黒こどもスクールのウェブサイトでご確認ください。











# おうちで、やろう。

Study at home. 小学校受験の家庭学習教材

## 処理能力：置き換え2

上の太い四角の中の絵がお手本です。上の絵の時に下の四角にそれぞれの記号をかきます。問題は一番上の段の左からはじめて、右端まで見ます。1段目ができたら2段目の左から右。次に3段目の左から右と順番に記号をかきます。この問題はできるだけ早く印をつけます。それぞれ1分以内を目指し取り組みましょう。



※1. このプリントは、しながわ・目黒こどもスクールのウェブサイトでダウンロードができます。無断複写・引用はご遠慮ください。

※2. このプリントを活用したオンライン授業のスケジュールは、しながわ・目黒こどもスクールのウェブサイトでご確認ください。