



おうちで、やろう。

Study at home. 小学校受験の家庭学習教材

記憶：絵の記憶6 記憶用紙

別紙『記憶 - 絵の記憶6』を行う際に使用します。記憶用紙は点線で折り、①、②、③の問題の際にそれぞれ20秒間ずつ記憶させてください。記憶する際は問題用紙は裏返しにします。

①お手本の○がないマスに○をつけます。 ②お手本の×を同じ場所にかきます。 ③お手本の○を同じ場所にかきます。

※2022年3月17日(木)のオンライン授業では実施中に記憶する絵を画面で表示します。

①

○	○		
	○	○	
		○	○

②

×				×
	×			×
		×		

③

			○		○
				○	
	○				
○		○			

※1. このプリントは、しながわ・目黒こどもスクールのウェブサイトでダウンロードができます。無断複写・引用はご遠慮ください。

※2. このプリントを活用したオンライン授業のスケジュールは、しながわ・目黒こどもスクールのウェブサイトでご確認ください。



おうちで、やろう。

Study at home. 小学校受験の家庭学習教材

記憶：絵の記憶6

別紙『記憶 - 絵の記憶 10 (記憶用紙)』を行う際に使用します。記憶用紙の①～③をそれぞれ 20 秒ずつ記憶してから取り組みます。

①お手本の○がないマスに○をつけます。 ②お手本の×を同じ場所にかきます。 ③お手本の○を同じ場所にかきます。

※2022年3月17日(木)のオンライン授業では実施中に記憶する絵を画面で表示します。

※この問題の解答は記憶用紙で確認してください。

①

②

③

※1. このプリントは、しながわ・目黒こどもスクールのウェブサイトからダウンロードできます。無断複写・引用はご遠慮ください。

※2. このプリントを活用したオンライン授業のスケジュールは、しながわ・目黒こどもスクールのウェブサイトでご確認ください。



おうちで、やろう。

Study at home. 小学校受験の家庭学習教材

推理：重さの置き換え 1

天秤に果物をのせて重さ比べをしました。上の太い四角の中が約束です。この約束のとき、それぞれの天秤で釣り合うものを見つけて○をつけます。

※1. このプリントは、しながわ・目黒こどもスクールのウェブサイトでダウンロードができます。無断複写・引用はご遠慮ください。

※2. このプリントを活用したオンライン授業のスケジュールは、しながわ・目黒こどもスクールのウェブサイトでご確認ください。



おうちで、やろう。

Study at home. 小学校受験の家庭学習教材

推理：重さの置き換え2

天秤に果物をのせて重さ比べをしました。上の太い四角の中が約束です。この約束のとき、それぞれの天秤で釣り合うものを見つけて○をつけます。

※1. このプリントは、しながわ・目黒こどもスクールのウェブサイトでダウンロードができます。無断複写・引用はご遠慮ください。

※2. このプリントを活用したオンライン授業のスケジュールは、しながわ・目黒こどもスクールのウェブサイトでご確認ください。



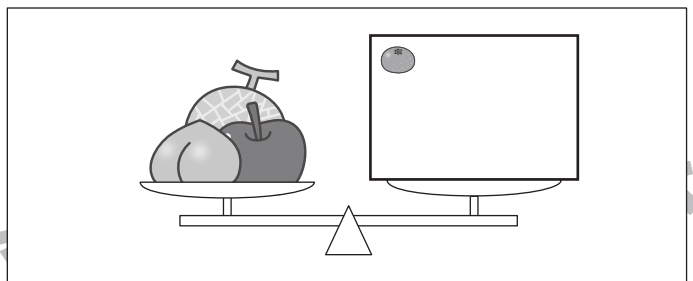
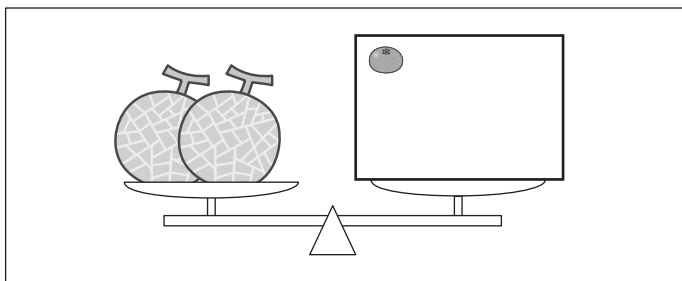

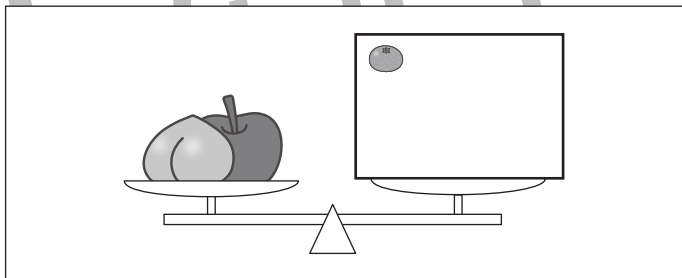
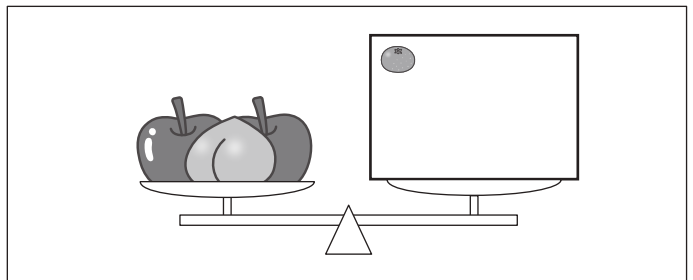
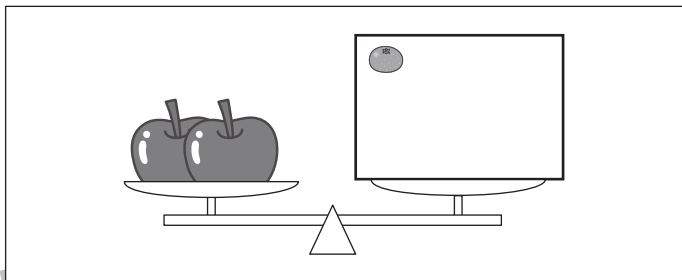




おうちで、やろう。

Study at home. 小学校受験の家庭学習教材

推理：重さの置き換え3

天秤に果物をのせて重さ比べをしました。上の太い四角の中が約束です。この約束のとき、それぞれの天秤の右側にみかんをいくつのおせばつり合いますか。のせるみかんの数だけ四角の中に○をかきます。



※1. このプリントは、しながわ・目黒こどもスクールのウェブサイトでダウンロードができます。無断複写・引用はご遠慮ください。

※2. このプリントを活用したオンライン授業のスケジュールは、しながわ・目黒こどもスクールのウェブサイトでご確認ください。












おうちで、やろう。


Study at home. 小学校受験の家庭学習教材






推理：条件推理8


ウサギが階段を上ったり、下りたりします。この約束は上の太い四角の中にあります。上向きの矢印はその数だけ階段を上がり、下向きの矢印はその数だけ下がります。ウサギが果物を左から順番に見て約束通りに上ったり、下がったりしたとき最後にいる場所に○をかきます。







 ↑	 ↑ ↑	 ↓	 ↓ ↓
---	---	---	---

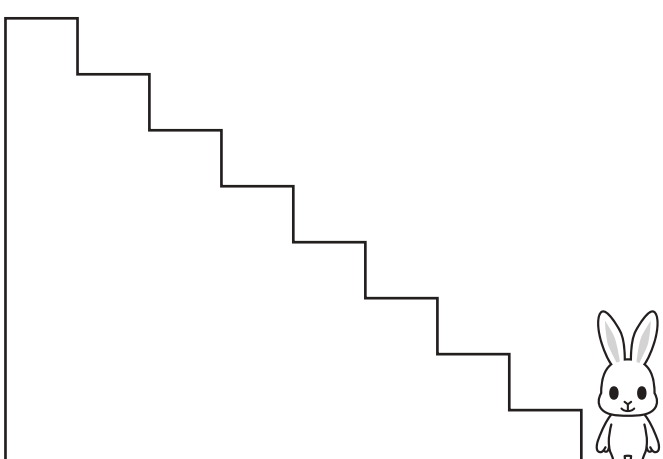
    










    







※1. このプリントは、しながわ・目黒こどもスクールのウェブサイトでダウンロードができます。無断複写・引用はご遠慮ください。
※2. このプリントを活用したオンライン授業のスケジュールは、しながわ・目黒こどもスクールのウェブサイトでご確認ください。















おうちで、やろう。









Study at home. 小学校受験の家庭学習教材









推理：条件推理9









ウサギが階段を上ったり、下りたりします。この約束は上の太い四角の中にあります。上向きの矢印はその数だけ階段を上がり、下向きの矢印はその数だけ下がります。ウサギが今いる場所から果物を左から順番に見て約束通りに上ったり、下がったりしたとき最後にいる場所に○をかきます。

 ↑	 ↑ ↑	 ↓	 ↓ ↓
---	---	---	---

※1. このプリントは、しながわ・目黒こどもスクールのウェブサイトダウンロードができます。無断複写・引用はご遠慮ください。
※2. このプリントを活用したオンライン授業のスケジュールは、しながわ・目黒こどもスクールのウェブサイトでご確認ください。








おうちで、やろう。


Study at home. 小学校受験の家庭学習教材


推理：条件推理 10


ウサギが階段を上がったり、下りたりします。この約束は上の太い四角の中にあります。上向きの矢印はその数だけ階段を上がり、下向きの矢印はその数だけ下がります。ウサギが今いる場所から果物を左から順番に見て約束通りに上がったたり、下がったりしたとき最後にいる場所に○をかきます。


 ↑ ↓	 ↑ ↑ ↑	 ↑ ↓ ↓	 ↓ ↓ ↓
---	---	---	---







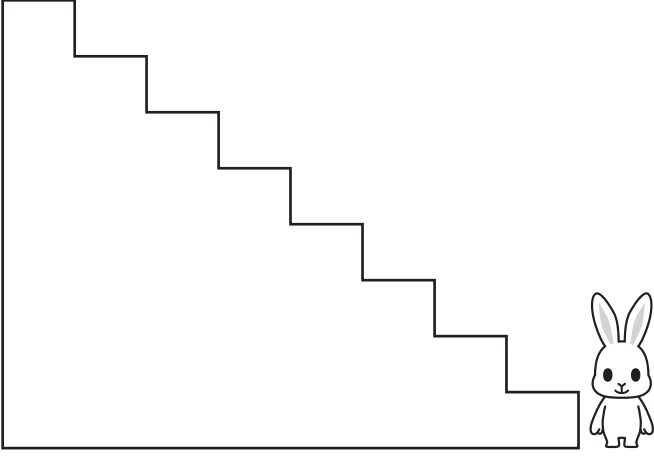












※1. このプリントは、しながわ・目黒こどもスクールのウェブサイトでダウンロードができます。無断複写・引用はご遠慮ください。
 ※2. このプリントを活用したオンライン授業のスケジュールは、しながわ・目黒こどもスクールのウェブサイトでご確認ください。



おうちで、やろう。

Study at home. 小学校受験の家庭学習教材

数量：加減9

左の太い四角の中の食べ物を3匹の動物で分けます。サルとネコが四角の中の数だけもらえるときパンダがもらえる数だけパンダの四角に○をかきます。

※1. このプリントは、しながわ・目黒こどもスクールのウェブサイトでダウンロードができます。無断複写・引用はご遠慮ください。
 ※2. このプリントを活用したオンライン授業のスケジュールは、しながわ・目黒こどもスクールのウェブサイトでご確認ください。



おうちで、やろう。

Study at home. 小学校受験の家庭学習教材

数量：加減 10

左の太い四角の中の食べ物を3匹の動物で分けます。サルとネコが四角の中の数だけもらえるときパンダがもらえる数だけパンダの四角に○をかきます。

--	--	--	--

--	--	--	--

--	--	--	--

--	--	--	--

※1. このプリントは、しながわ・目黒こどもスクールのウェブサイトでダウンロードができます。無断複写・引用はご遠慮ください。
 ※2. このプリントを活用したオンライン授業のスケジュールは、しながわ・目黒こどもスクールのウェブサイトでご確認ください。



おうちで、やろう。

Study at home. 小学校受験の家庭学習教材

処理：模写 13

上のマスにある記号を下のマスの同じ場所にかきます。
このプリントはスピードを意識して取り組みましょう。(各 30 秒～1 分) ※このプリントに解答はありません。

	○	×		△	○		△	
△			○					×
		△			○		×	
○			×			△		○



△		○		△		×	○	/
○			○	/		△		
	×				○		△	×
/		○	△	×			/	



※1. このプリントは、しながわ・目黒こどもスクールのウェブサイトでダウンロードができます。無断複写・引用はご遠慮ください。
※2. このプリントを活用したオンライン授業のスケジュールは、しながわ・目黒こどもスクールのウェブサイトでご確認ください。