



# おうちで、やろう。

Study at home. 小学校受験の家庭学習教材

## 推理：重さの置き換え 1

天秤に果物をのせて重さ比べをしました。上の太い四角の中が約束です。この約束のとき、それぞれの天秤で釣り合うものを見つけて○をつけます。


※1. このプリントは、しながわ・目黒こどもスクールのウェブサイトでダウンロードができます。無断複写・引用はご遠慮ください。  
 ※2. このプリントを活用したオンライン授業のスケジュールは、しながわ・目黒こどもスクールのウェブサイトでご確認ください。



# おうちで、やろう。

Study at home. 小学校受験の家庭学習教材

## 推理：重さの置き換え2

天秤に果物をのせて重さ比べをしました。上の太い四角の中が約束です。この約束のとき、それぞれの天秤で釣り合うものを見つけて○をつけます。


※1. このプリントは、しながわ・目黒こどもスクールのウェブサイトでダウンロードができます。無断複写・引用はご遠慮ください。

※2. このプリントを活用したオンライン授業のスケジュールは、しながわ・目黒こどもスクールのウェブサイトでご確認ください。



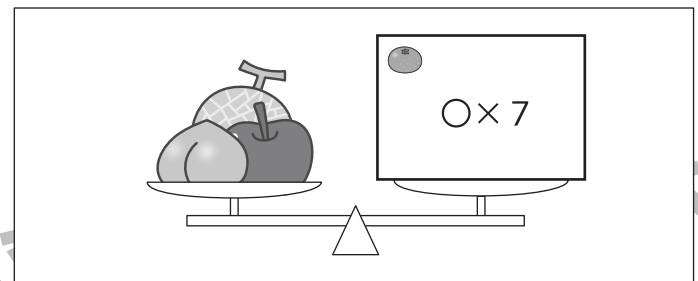
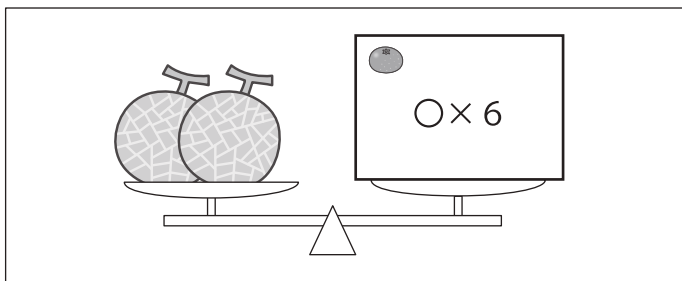

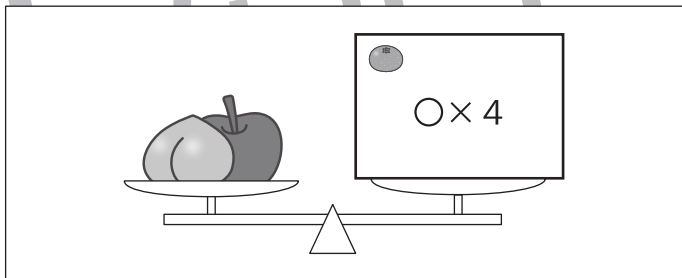
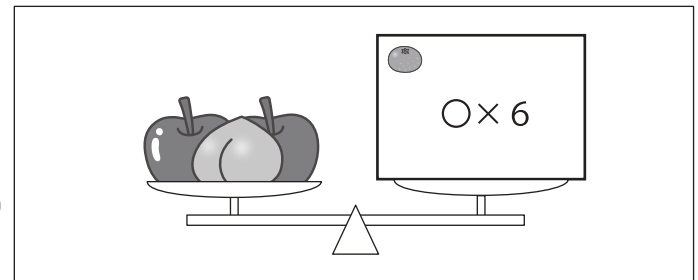
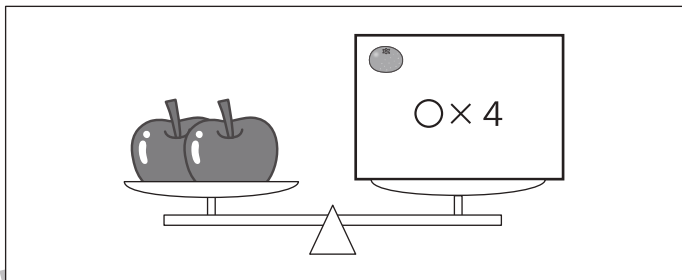




# おうちで、やろう。

Study at home. 小学校受験の家庭学習教材

## 推理：重さの置き換え3

天秤に果物をのせて重さ比べをしました。上の太い四角の中が約束です。この約束のとき、それぞれの天秤の右側にみかんをいくつのおせばつり合いますか。のせるみかんの数だけ四角の中に○をかきます。



※1. このプリントは、しながわ・目黒こどもスクールのウェブサイトでダウンロードができます。無断複写・引用はご遠慮ください。

※2. このプリントを活用したオンライン授業のスケジュールは、しながわ・目黒こどもスクールのウェブサイトでご確認ください。












# おうちで、やろう。

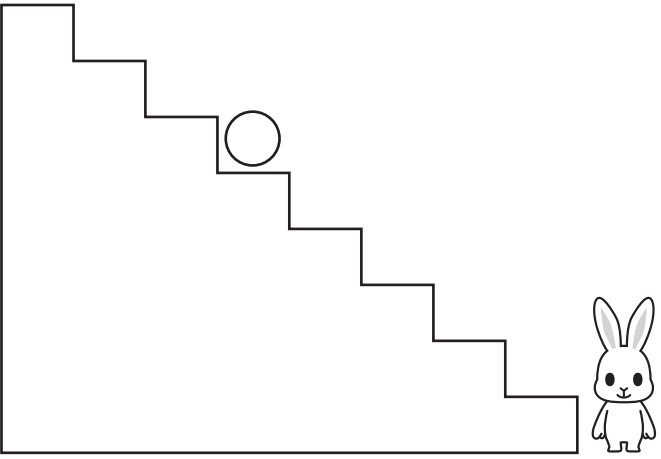
Study at home. 小学校受験の家庭学習教材






## 推理：条件推理8

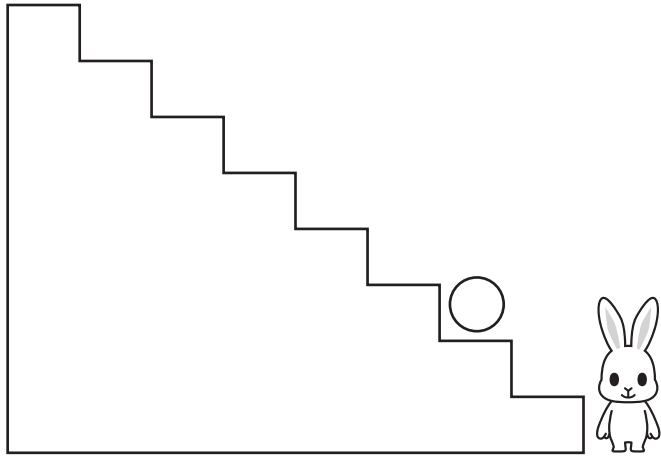
ウサギが階段を上ったり、下りたりします。この約束は上の太い四角の中にあります。上向きの矢印はその数だけ階段を上がり、下向きの矢印はその数だけ下がります。ウサギが果物を左から順番に見て約束通りに上ったり、下がったりしたとき最後にいる場所に○をかきます。







 ↑	 ↑ ↑	 ↓	 ↓ ↓
---	---	---	---

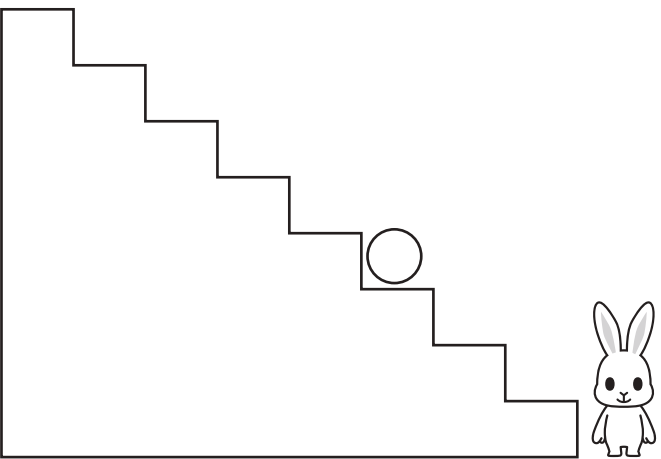
Row of fruits:     









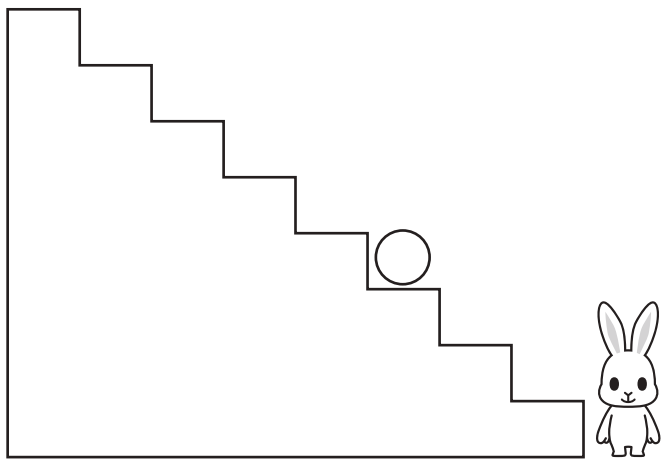
Row of fruits:     



Row of fruits:      



Row of fruits:      



※1. このプリントは、しながわ・目黒こどもスクールのウェブサイトでダウンロードができます。無断複写・引用はご遠慮ください。  
※2. このプリントを活用したオンライン授業のスケジュールは、しながわ・目黒こどもスクールのウェブサイトでご確認ください。










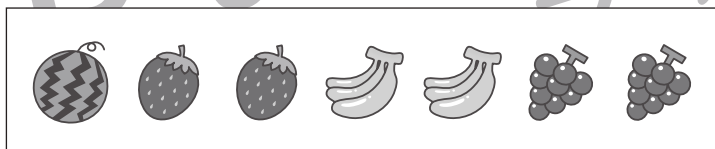


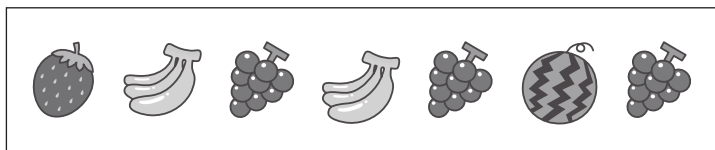
# おうちで、やろう。

Study at home. 小学校受験の家庭学習教材

推理：条件推理9

ウサギが階段を上ったり、下りたりします。この約束は上の太い四角の中にあります。上向きの矢印はその数だけ階段を上がり、下向きの矢印はその数だけ下がります。ウサギが今いる場所から果物を左から順番に見て約束通りに上ったり、下がりたりしたとき最後にいる場所に○をかきます。

 ↑	 ↑ ↑	 ↓	 ↓ ↓
---	---	---	---



※1. このプリントは、しながわ・目黒こどもスクールのウェブサイトでダウンロードができます。無断複写・引用はご遠慮ください。  
※2. このプリントを活用したオンライン授業のスケジュールは、しながわ・目黒こどもスクールのウェブサイトでご確認ください。








# おうちで、やろう。


Study at home. 小学校受験の家庭学習教材


## 推理：条件推理 10


ウサギが階段を上ったり、下りたりします。この約束は上の太い四角の中にあります。上向きの矢印はその数だけ階段を上がり、下向きの矢印はその数だけ下がります。ウサギが今いる場所から果物を左から順番に見て約束通りに上ったり、下がりたりしたとき最後にいる場所に○をかきます。


 ↑ ↓	 ↑ ↑ ↑	 ↑ ↓ ↓	 ↓ ↓ ↓
---	---	---	---







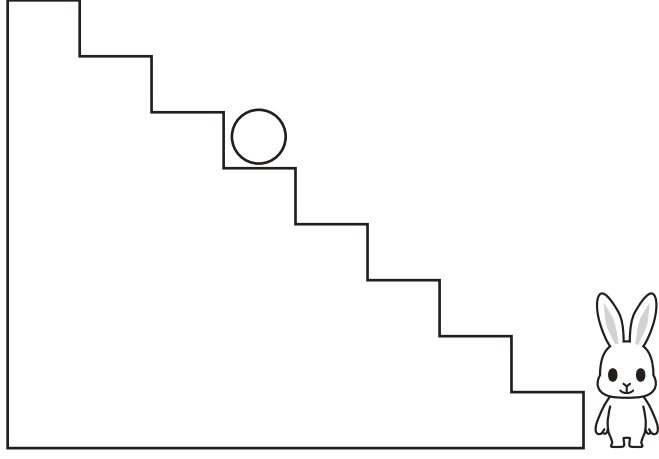












※1. このプリントは、しながわ・目黒こどもスクールのウェブサイトでダウンロードができます。無断複写・引用はご遠慮ください。  
 ※2. このプリントを活用したオンライン授業のスケジュールは、しながわ・目黒こどもスクールのウェブサイトでご確認ください。



# おうちで、やろう。

Study at home. 小学校受験の家庭学習教材

数量：加減9

左の太い四角の中の食べ物を3匹の動物で分けます。サルとネコが四角の中の数だけもらえるときパンダがもらえる数だけパンダの四角に○をかきます。

--	--	--	--

--	--	--	--

--	--	--	--

--	--	--	--

※1. このプリントは、しながわ・目黒こどもスクールのウェブサイトでダウンロードができます。無断複写・引用はご遠慮ください。  
 ※2. このプリントを活用したオンライン授業のスケジュールは、しながわ・目黒こどもスクールのウェブサイトでご確認ください。



# おうちで、やろう。

Study at home. 小学校受験の家庭学習教材

数量：加減 10

左の太い四角の中の食べ物を3匹の動物で分けます。サルとネコが四角の中の数だけもらえるとパンダがもらえる数だけパンダの四角に○をかきます。

--	--	--	--

--	--	--	--

--	--	--	--

--	--	--	--

※1. このプリントは、しながわ・目黒こどもスクールのウェブサイトでダウンロードができます。無断複写・引用はご遠慮ください。  
 ※2. このプリントを活用したオンライン授業のスケジュールは、しながわ・目黒こどもスクールのウェブサイトでご確認ください。