



おうちで、やろう。

Study at home. 小学校受験の家庭学習教材

指示の聞き取り 10

お話を聞いた後で動物たちがそれぞれじゃんけんで何を出したか考えて線を引きましょう。

- ① プタさんはグーを出してネコさんに勝ちました。クマさんはプタさんとネコさんとは違うものを出しました。
- ② ネコさんはグーを出してクマさんとプタさんに勝ちました。
- ③ プタさんはチョキを出してネコさんに勝ちましたがクマさんには負けました。
- ④ クマさんはグーを出してみんなに負けました。

①

②

③

④

※1. このプリントは、しながわ・目黒こどもスクールのウェブサイトでダウンロードができます。無断複写・引用はご遠慮ください。

※2. このプリントを活用したオンライン授業のスケジュールは、しながわ・目黒こどもスクールのウェブサイトでご確認ください。

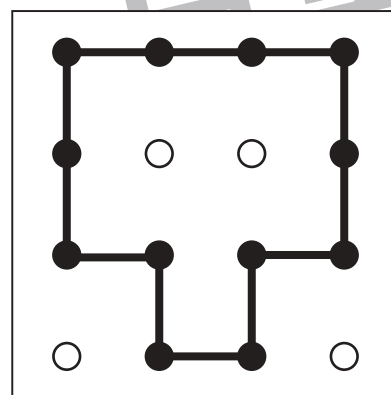
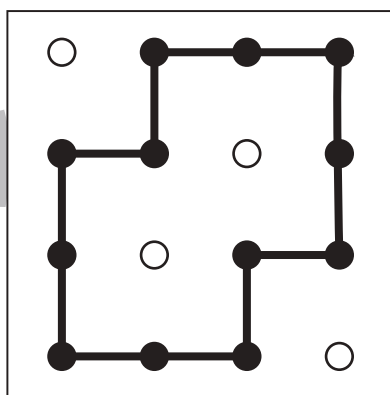
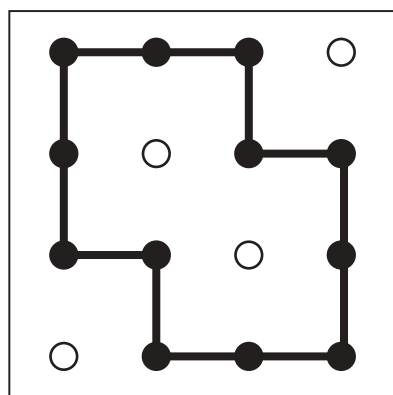
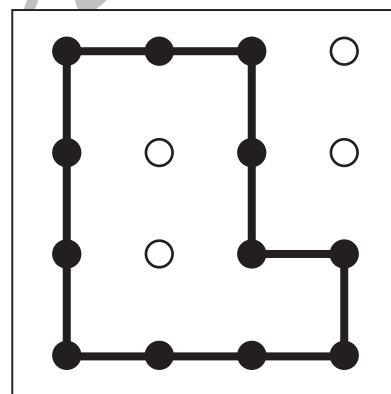
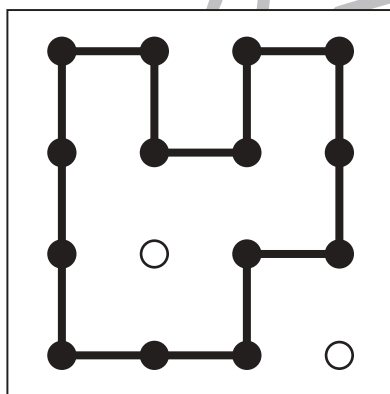
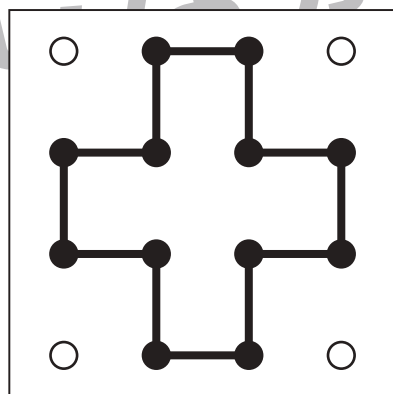
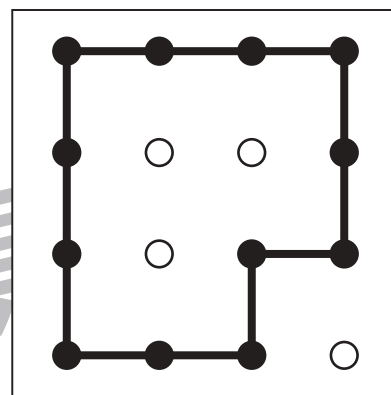
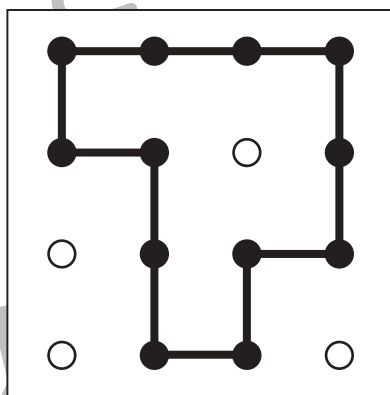
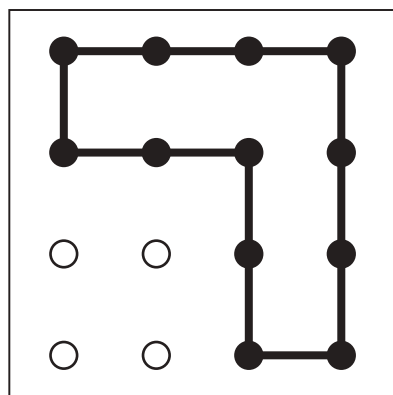
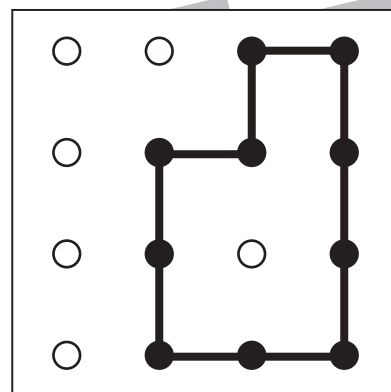
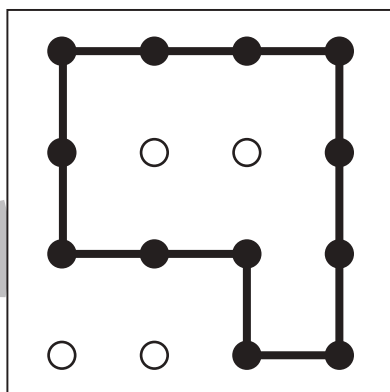
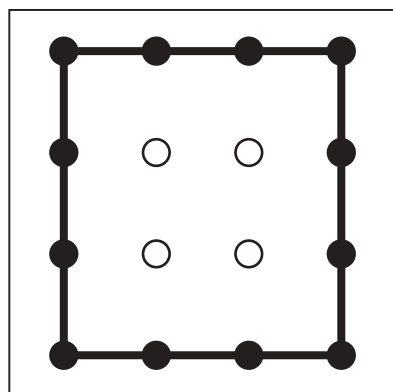


おうちで、よろう。

Study at home. 小学校受験の家庭学習教材

図形：島作り1

黒い丸を全て通って1本の線をつなぎ、島をつくります。縦と横には進めますが斜めに進むことはできません。



※1. このプリントは、しながわ・目黒こどもスクールのウェブサイトでダウンロードができます。無断複写・引用はご遠慮ください。

※2. このプリントを活用したオンライン授業のスケジュールは、しながわ・目黒こどもスクールのウェブサイトでご確認ください。





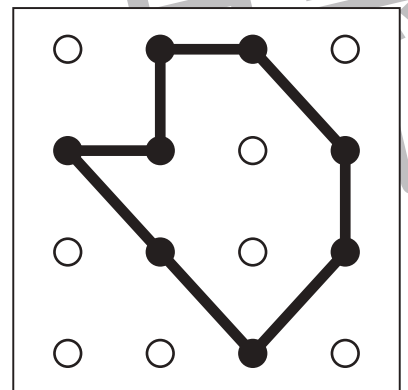
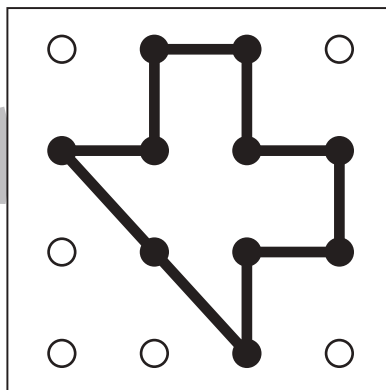
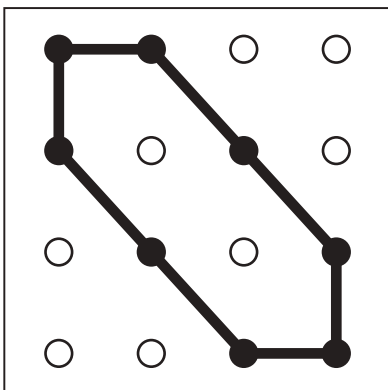
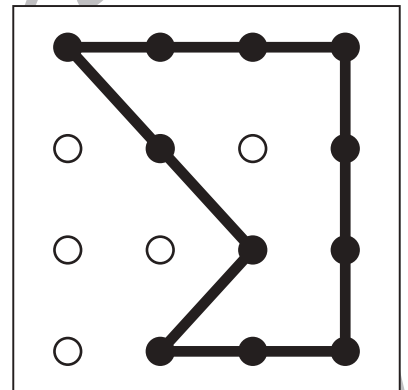
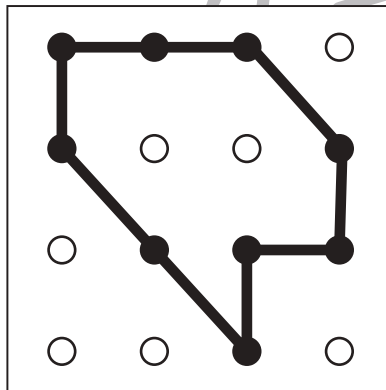
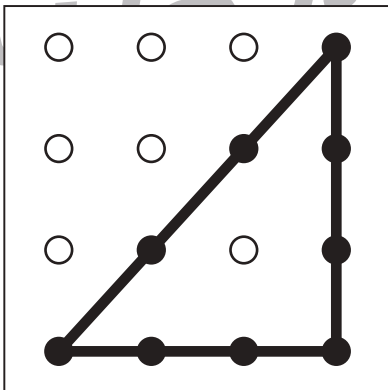
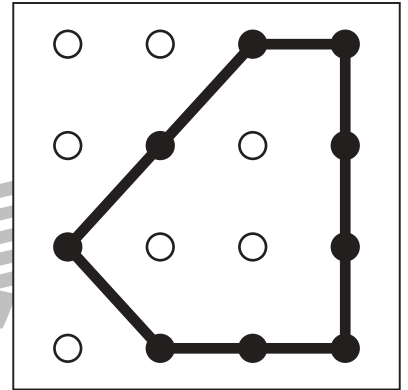
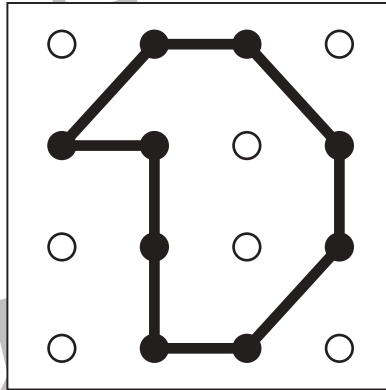
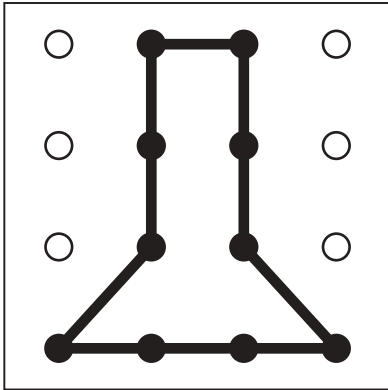
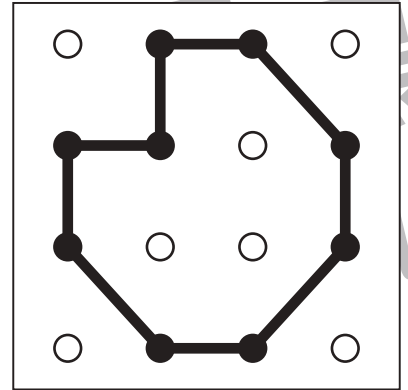
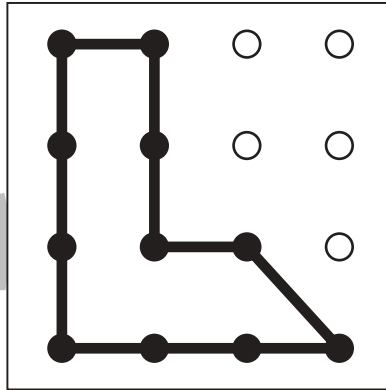
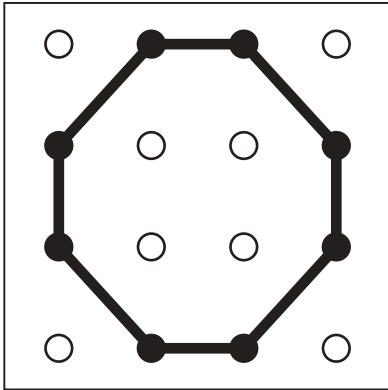
おうちで、よろう。

Study at home. 小学校受験の家庭学習教材

図形：島作り2

黒い丸を全て通って1本の線でつなぎ、島をつくります。縦・横・斜めに進むことができます。

※答えは1つとは限りませんので正しい答えの場合は正解としてください。



※1. このプリントは、しながわ・目黒こどもスクールのウェブサイトでダウンロードができます。無断複写・引用はご遠慮ください。

※2. このプリントを活用したオンライン授業のスケジュールは、しながわ・目黒こどもスクールのウェブサイトでご確認ください。





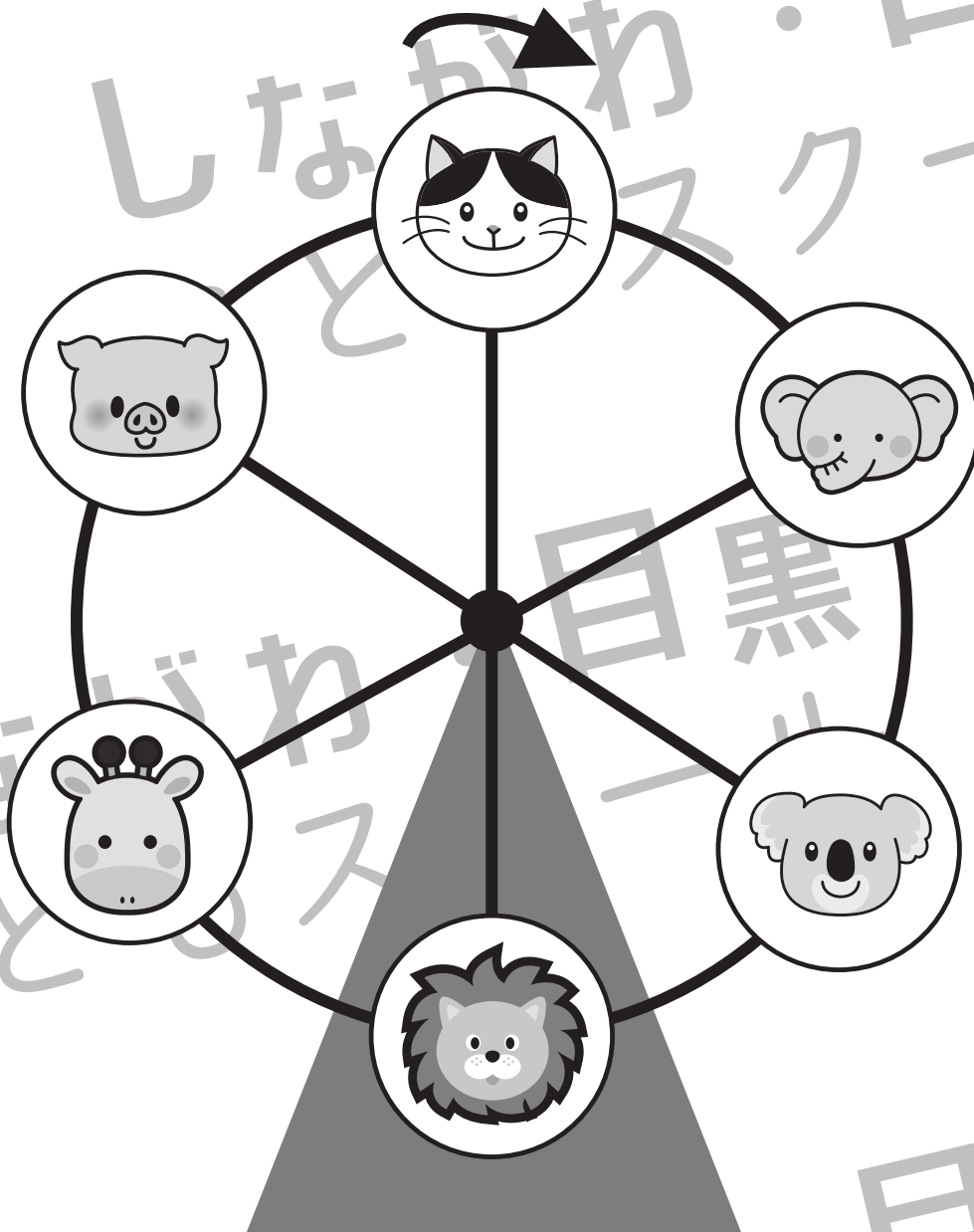
おうちで、やろう。

Study at home. 小学校受験の家庭学習教材

推理：観覧車 7

動物たちが観覧車に乗って、観覧車は矢印の方向へ回ります。

- ①ブタのゴンドラが一番上に来た時、一番下になるゴンドラに乗っている動物は誰ですか。下の四角に○をかきます。
- ②ゾウのゴンドラが一番下に来た時、一番上になるゴンドラに乗っている動物は誰ですか。下の四角に△をかきます。
- ③コアラのゴンドラが一番上に来た時、一番下になるゴンドラに乗っている動物は誰ですか。下の四角に×をかきます。
- ④ブタが今のキリンの場所に来た時、一番上になるゴンドラに乗っている動物は誰ですか。下の四角に□をかきます。



※1. このプリントは、しながわ・目黒こどもスクールのウェブサイトでダウンロードができます。無断複写・引用はご遠慮ください。
 ※2. このプリントを活用したオンライン授業のスケジュールは、しながわ・目黒こどもスクールのウェブサイトでご確認ください。




おうちで、やろう。

Study at home. 小学校受験の家庭学習教材

推理：観覧車 8

動物たちが観覧車に乗って、観覧車は矢印の方向へ回ります。

- ①ネコのごんドラが一番上に来た時、一番下になるごんドラに乗っている動物は誰ですか。下の四角に○をかきます。
- ②ゾウのごんドラが一番下に来た時、一番上になるごんドラに乗っている動物は誰ですか。下の四角に△をかきます。
- ③キリンのごんドラが一番上に来た時、一番下になるごんドラに乗っている動物は誰ですか。下の四角に×をかきます。
- ④ライオンが今のブタの場所に来た時、一番上になるごんドラに乗っている動物は誰ですか。下の四角に□をかきます。
- ⑤キリンのごんドラが今のブタの場所に来た時、一番下になるごんドラに乗っている動物は誰ですか。下の四角に●をか



	○	●	×	□	△

※1. このプリントは、しながわ・目黒こどもスクールのウェブサイトからダウンロードできます。無断複写・引用はご遠慮ください。
 ※2. このプリントを活用したオンライン授業のスケジュールは、しながわ・目黒こどもスクールのウェブサイトでご確認ください。




おうちで、やろう。

Study at home. 小学校受験の家庭学習教材

推理：観覧車 9

動物たちが観覧車に乗って、観覧車は矢印の方向へ回ります。

- ①タヌキのゴンドラが一番上に来た時、一番下になるゴンドラに乗っている動物は誰ですか。下の四角に○をかきます。
- ②キツネのゴンドラが一番下に来た時、一番上になるゴンドラに乗っている動物は誰ですか。下の四角に△をかきます。
- ③ゾウのゴンドラが今のキリンの場所に来た時、一番下になるゴンドラに乗っている動物は誰ですか。下の四角に×をかきます。
- ④ライオンが今のブタの場所に来た時、一番下になるゴンドラに乗っている動物は誰ですか。下の四角に□をかきます。
- ⑤タヌキのゴンドラが今のブタの場所に来た時、今のキリンの場所にあるになるゴンドラに乗っている動物は誰ですか。下の四角に●をかきます。



※1. このプリントは、しながわ・目黒こどもスクールのウェブサイトでダウンロードができます。無断複写・引用はご遠慮ください。

※2. このプリントを活用したオンライン授業のスケジュールは、しながわ・目黒こどもスクールのウェブサイトでご確認ください。

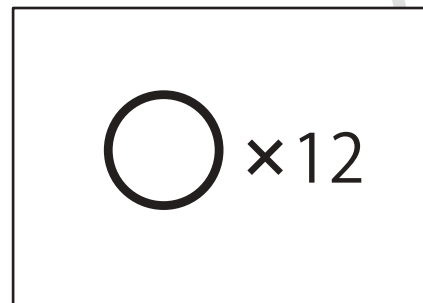


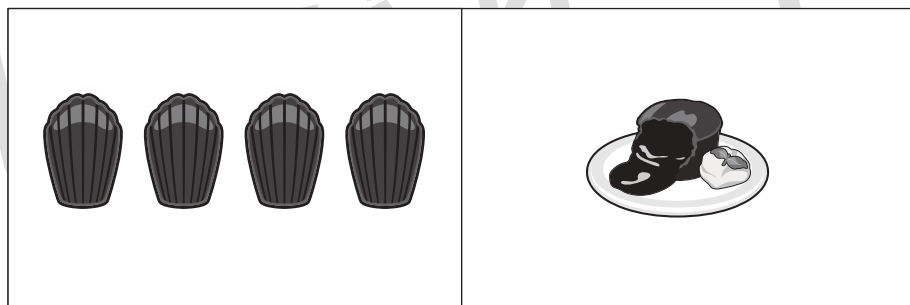
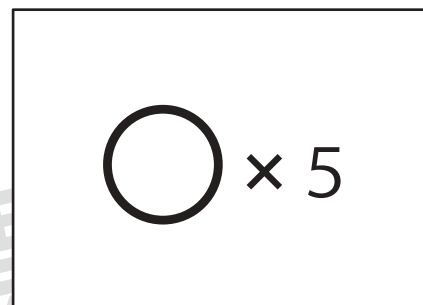
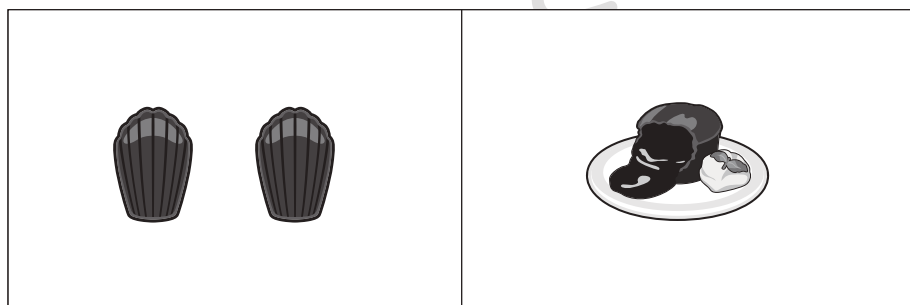
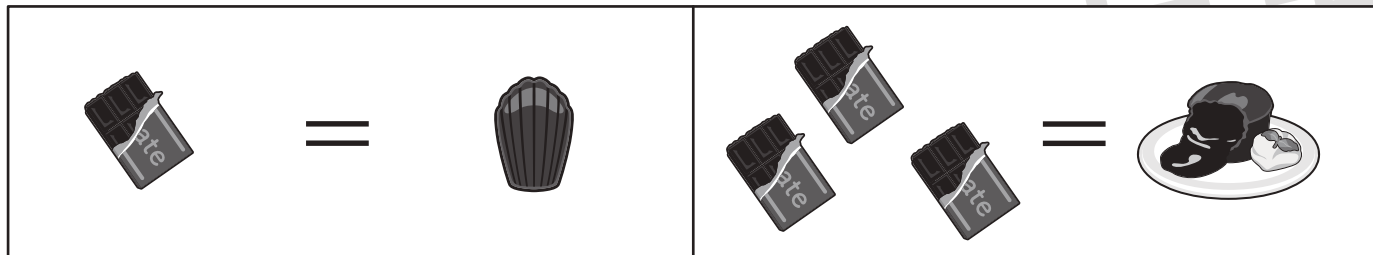


おうちで、やろう。

Study at home. 小学校受験の家庭学習教材

数量：置き換え 3

上の四角がお手本です。1枚の板チョコレートからはチョコレートマドレーヌが1個でき、3枚の板チョコレートからはチョコレートケーキが1個できます。左の2つの四角の中のお菓子をつくる時、チョコレートは全部で何枚必要ですか。その数だけ右の四角に○をかきます。



※1. このプリントは、しながわ・目黒こどもスクールのウェブサイトでダウンロードができます。無断複写・引用はご遠慮ください。

※2. このプリントを活用したオンライン授業のスケジュールは、しながわ・目黒こどもスクールのウェブサイトでご確認ください。



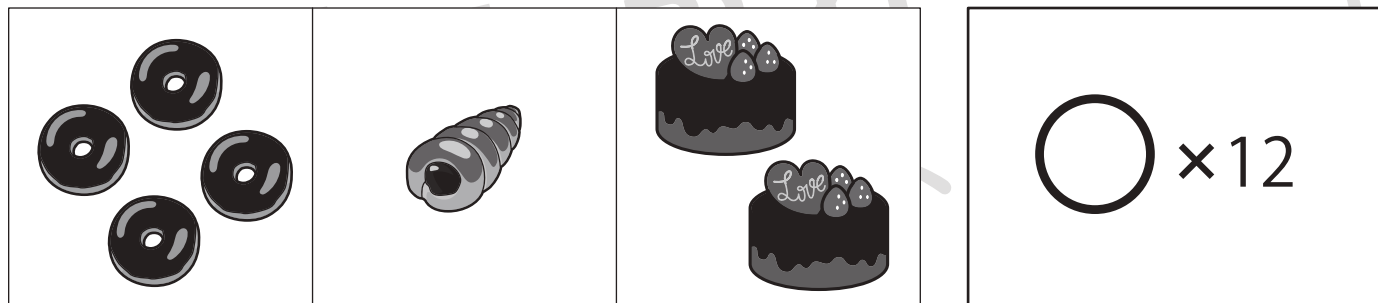

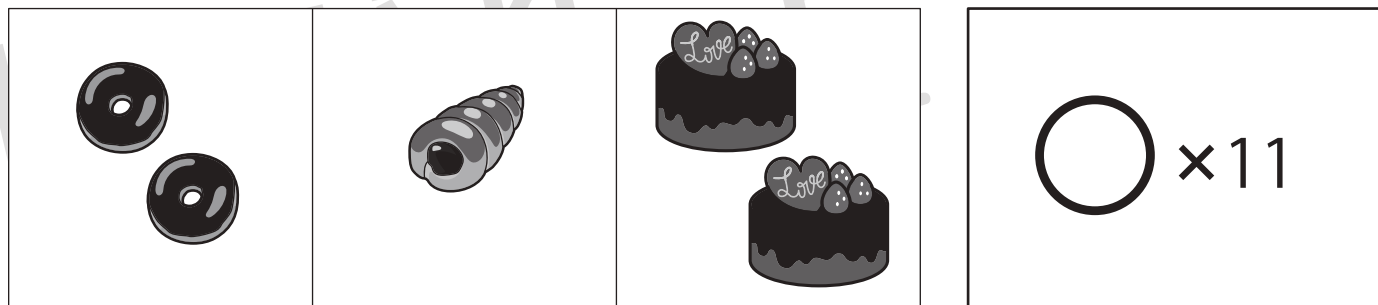

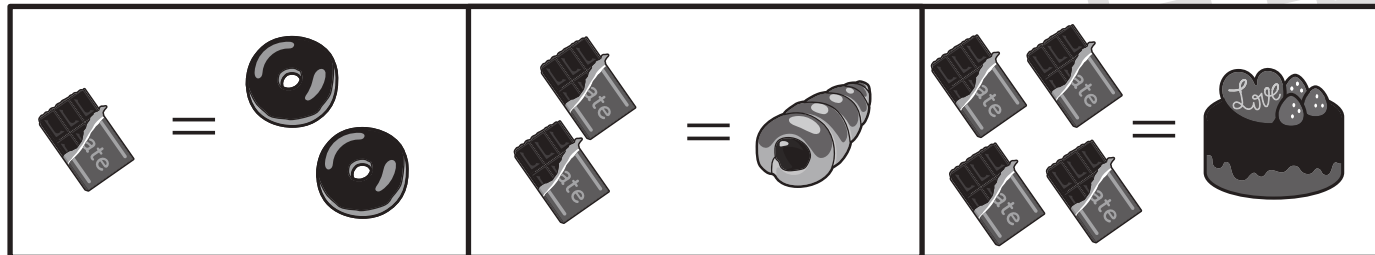


おうちで、やろう。

Study at home. 小学校受験の家庭学習教材

数量：置き換え 4

上の四角が約束です。1枚のチョコレートからはチョコレートドーナツが2つできます。2枚のチョコレートからはチョコレートのパンが1つできます。大きなケーキをつくるためにはチョコレートが4枚必要です。左の3つの中のお菓子をつくるとき、チョコレートは全部で何枚必要ですか。その数だけ右の四角に○をかきます。



※1. このプリントは、しながわ・目黒こどもスクールのウェブサイトでダウンロードができます。無断複写・引用はご遠慮ください。

※2. このプリントを活用したオンライン授業のスケジュールは、しながわ・目黒こどもスクールのウェブサイトでご確認ください。



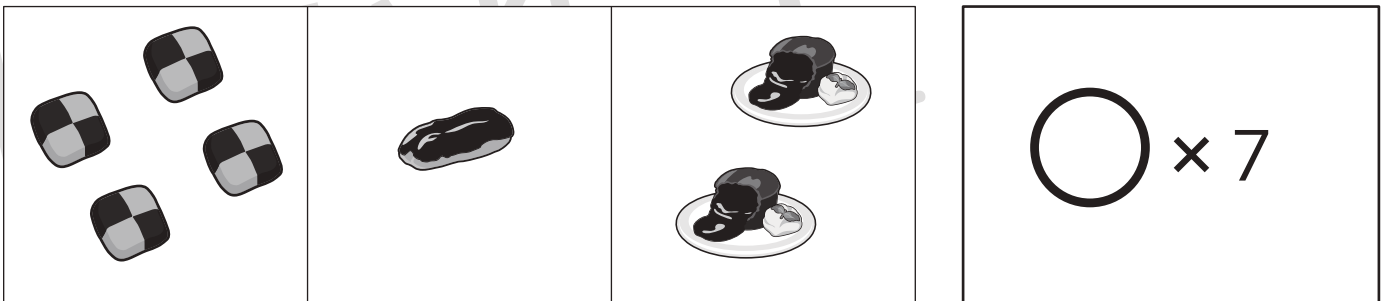
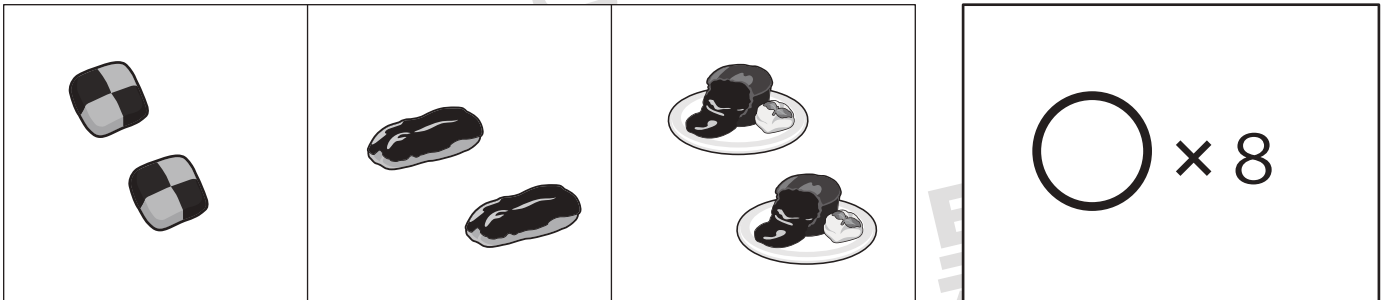
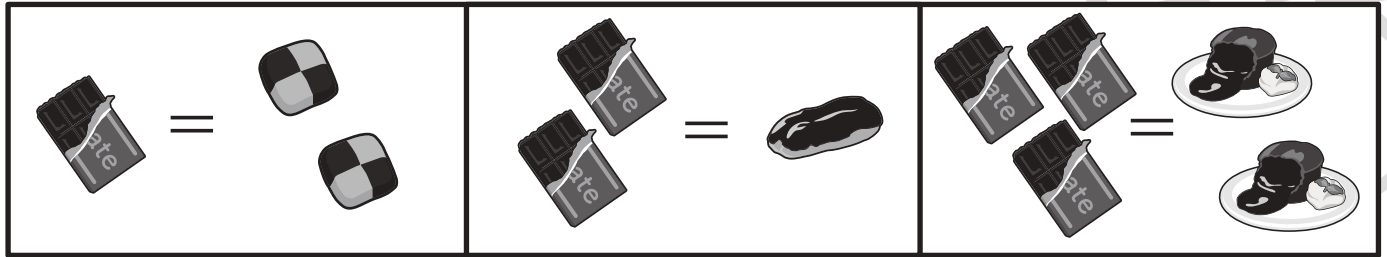


おうちで、やろう。

Study at home. 小学校受験の家庭学習教材

数量：置き換え5

上の四角が約束です。1枚のチョコレートからはクッキーが2枚できます。2枚のチョコレートからはエクレアが1つできます。チョコレートを3枚使うと、チョコレートケーキが2つ作れます。左の3つの中のお菓子をつくるとき、チョコレートは全部で何枚必要ですか。その数だけ右の四角に○をかきます。



※1. このプリントは、しながわ・目黒こどもスクールのウェブサイトからダウンロードができます。無断複写・引用はご遠慮ください。
 ※2. このプリントを活用したオンライン授業のスケジュールは、しながわ・目黒こどもスクールのウェブサイトでご確認ください。











おうちで、やろう。

Study at home. 小学校受験の家庭学習教材

処理能力：置き換え 3

上の太い四角の中の絵がお手本です。上の絵の時に下の四角にそれぞれの記号をかきます。問題は一番上の段の左からはじめて、右端まで見ます。1段目ができたら2段目の左から右。次に3段目の左から右と順番に記号をかきます。この問題はできるだけ早く印をつけます。それぞれ1分以内を目指し取り組みましょう。



※1. このプリントは、しながわ・目黒こどもスクールのウェブサイトでダウンロードができます。無断複写・引用はご遠慮ください。
 ※2. このプリントを活用したオンライン授業のスケジュールは、しながわ・目黒こどもスクールのウェブサイトでご確認ください。