



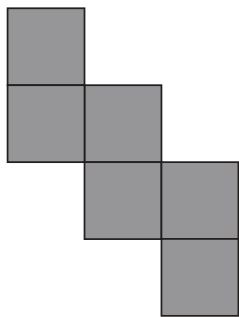


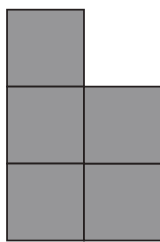

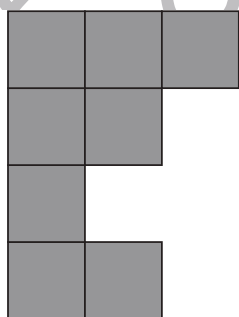


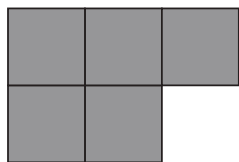
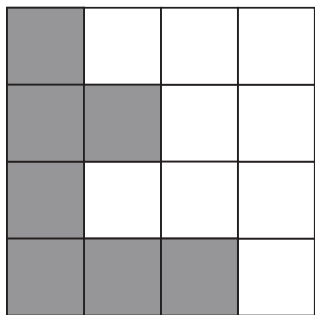


# おうちで、やろう。

Study at home. 小学校受験の家庭学習教材

## 図形：構成 14

一番左のマスのおいてある部分に矢印の右にある形を入れますが、まだ完成しません。灰色のマスのパズルがあと何枚あれば完成しますか。その数だけ右の四角の中に○をかきます。入れる形は回してもいいですが、裏返しにはいけません。



※1. このプリントは、しながわ・目黒こどもスクールのウェブサイトでダウンロードができます。無断複写・引用はご遠慮ください。

※2. このプリントを活用したオンライン授業のスケジュールは、しながわ・目黒こどもスクールのウェブサイトでご確認ください。

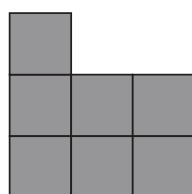

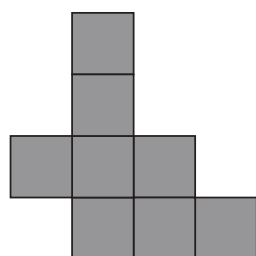
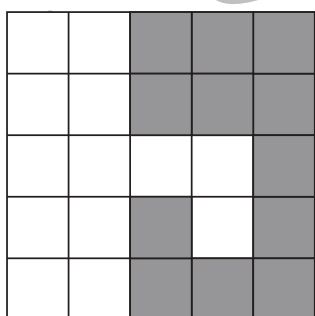

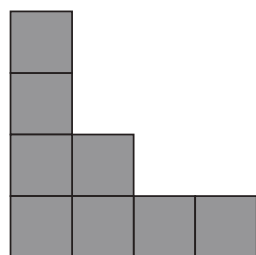

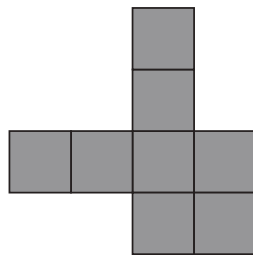

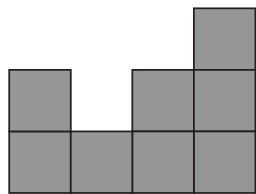



# おうちで、やろう。

Study at home. 小学校受験の家庭学習教材

図形：構成 15

一番左のマスに空いている部分に矢印の右にある形を入れますが、まだ完成しません。灰色のマスのパズルがあと何枚あれば完成しますか。その数だけ右の四角の中に○をかきます。入れる形は回してもいいですが、裏返しにはいけません。



※1. このプリントは、しながわ・目黒こどもスクールのウェブサイトでダウンロードができます。無断複写・引用はご遠慮ください。

※2. このプリントを活用したオンライン授業のスケジュールは、しながわ・目黒こどもスクールのウェブサイトでご確認ください。



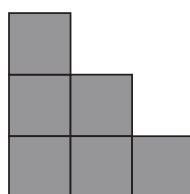

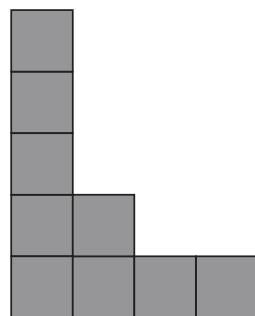


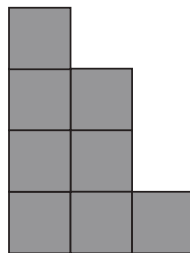

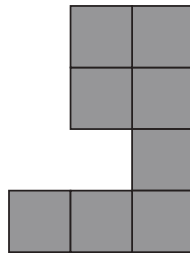

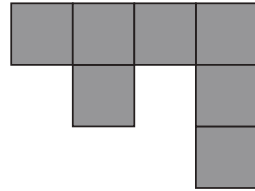



# おうちで、やろう。

Study at home. 小学校受験の家庭学習教材

図形：構成 16

一番左のマスに空いている部分に矢印の右にある形を入れますが、まだ完成しません。灰色のマスのパズルがあと何枚あれば完成しますか。その数だけ右の四角の中に○をかきます。入れる形は回してもいいですが、裏返しにはいけません。



※1. このプリントは、しながわ・目黒こどもスクールのウェブサイトでダウンロードができます。無断複写・引用はご遠慮ください。  
※2. このプリントを活用したオンライン授業のスケジュールは、しながわ・目黒こどもスクールのウェブサイトでご確認ください。



# おうちで、やろう。


Study at home. 小学校受験の家庭学習教材

推理：観覧車 10

動物たちが観覧車に乗って、観覧車は矢印の方向へ回ります。

①観覧車が回ってブタのゴンドラが一番上に来ました。観覧車が回り始めてから止まるまでに、乗っていたゴンドラが一番下になる動物が3匹います。下の動物の四角に○をかきます。

②観覧車が回ってネコのゴンドラが今のブタの場所に来ました。観覧車が回り始めてから止まるまでに、乗っていたゴンドラが一番上になった動物が3匹います。下の動物の四角に△をかきます。




※1. このプリントは、しながわ・目黒こどもスクールのウェブサイトでダウンロードができます。無断複写・引用はご遠慮ください。

※2. このプリントを活用したオンライン授業のスケジュールは、しながわ・目黒こどもスクールのウェブサイトでご確認ください。


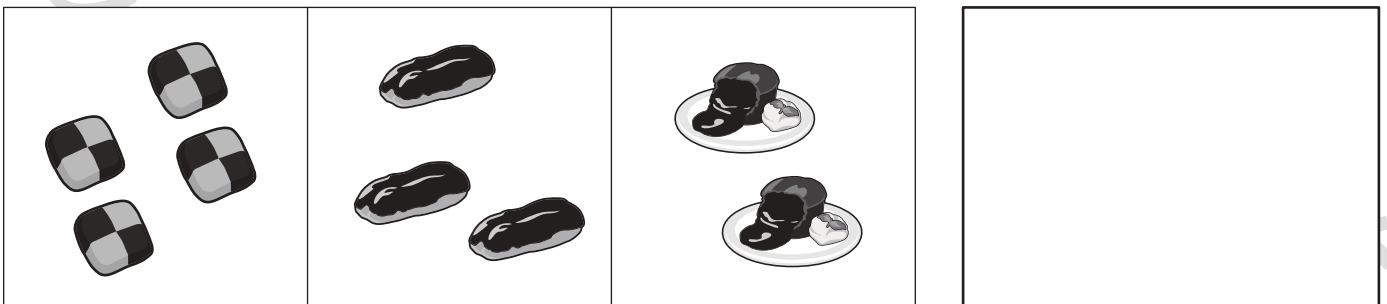


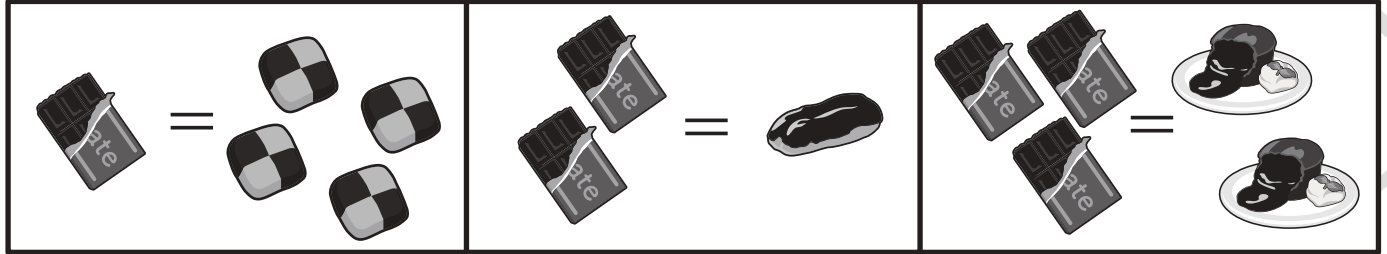


# おうちで、やろう。

Study at home. 小学校受験の家庭学習教材

数量：置き換え 6

上の四角が約束です。1枚のチョコレートからはクッキーが4枚できます。2枚のチョコレートからはエクレアが1つできます。チョコレートを3枚使うと、チョコレートケーキが2つ作れます。左の3つの中のお菓子をつくるとき、チョコレートは全部で何枚必要ですか。その数だけ右の四角に○をかきます。



※1. このプリントは、しながわ・目黒こどもスクールのウェブサイトでダウンロードができます。無断複写・引用はご遠慮ください。  
 ※2. このプリントを活用したオンライン授業のスケジュールは、しながわ・目黒こどもスクールのウェブサイトでご確認ください。




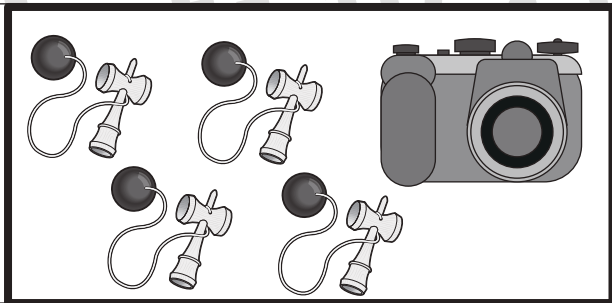

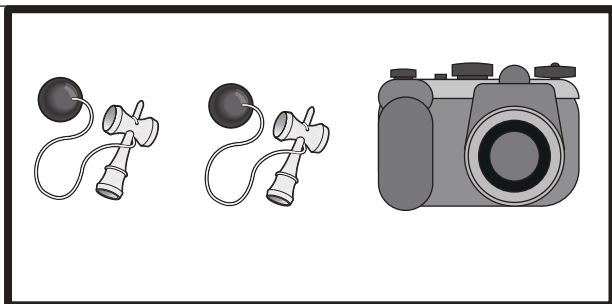

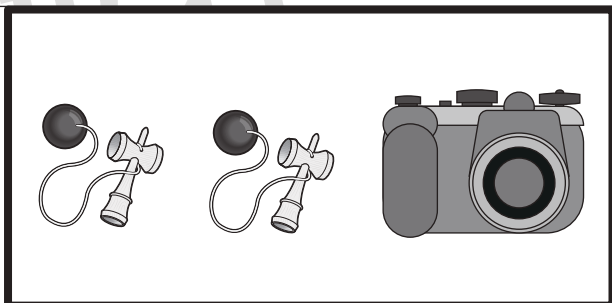
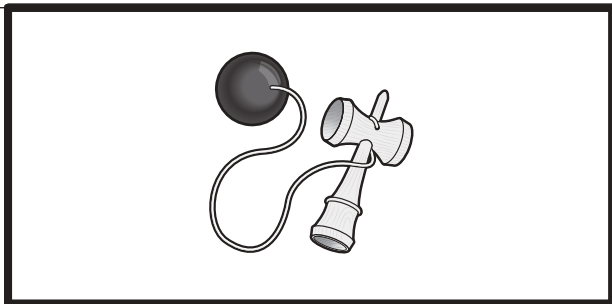



# おうちで、やろう。

Study at home. 小学校受験の家庭学習教材

数量：置き換え 7

上の四角が約束です。ペロペロキャンディー 1 本は、飴玉 2 個と同じように使えます。けん玉はペロペロキャンディー 2 つと交換することができ、カメラは飴玉 6 つと交換できます。

真ん中の太い四角の中のものを手に入れたいとき、一番左のお菓子がいくつあれば交換できるでしょうか。その数だけ、一番右の四角の中に○をかきましょう。



※1. このプリントは、しながわ・目黒こどもスクールのウェブサイトからダウンロードできます。無断複写・引用はご遠慮ください。

※2. このプリントを活用したオンライン授業のスケジュールは、しながわ・目黒こどもスクールのウェブサイトでご確認ください。




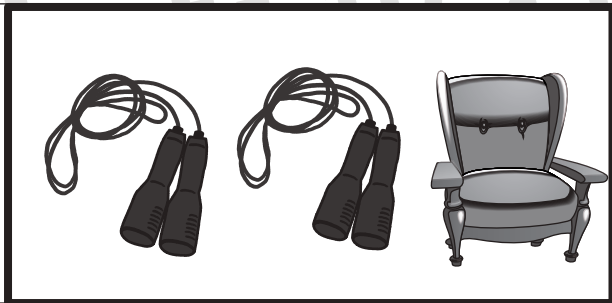




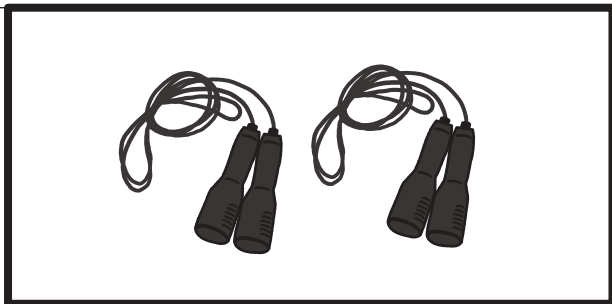

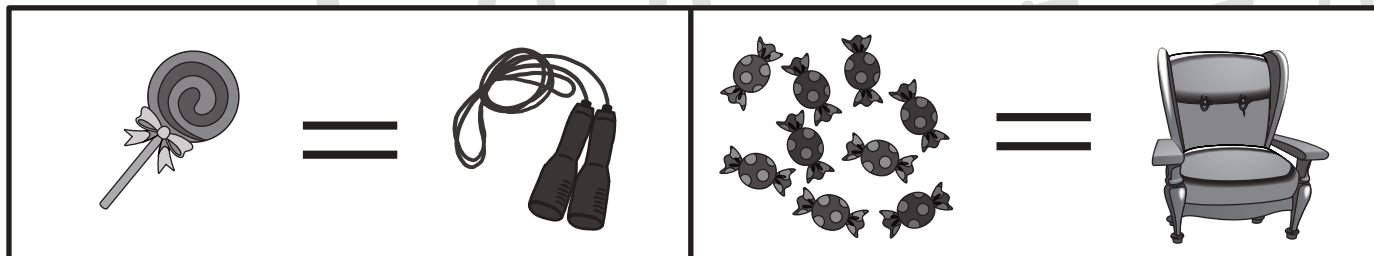
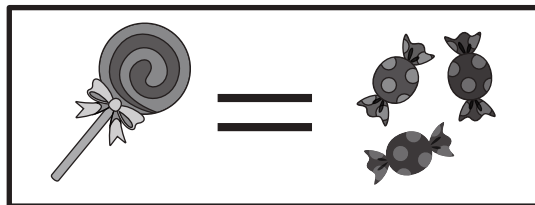


# おうちで、やろう。

Study at home. 小学校受験の家庭学習教材

数量：置き換え 7

上の四角が約束です。ペロペロキャンディー 1 本は、飴玉 3 個と同じように使えます。縄跳びの縄はペロペロキャンディー 1 つと交換することができ、ソファは飴玉 9 つと交換できます。真ん中の太い四角の中のものを手に入れたいとき、一番左のお菓子がいくつあれば交換できるでしょうか。その数だけ、一番右の四角の中に○をかきましょう。



※1. このプリントは、しながわ・目黒こどもスクールのウェブサイトでダウンロードができます。無断複写・引用はご遠慮ください。  
※2. このプリントを活用したオンライン授業のスケジュールは、しながわ・目黒こどもスクールのウェブサイトでご確認ください。







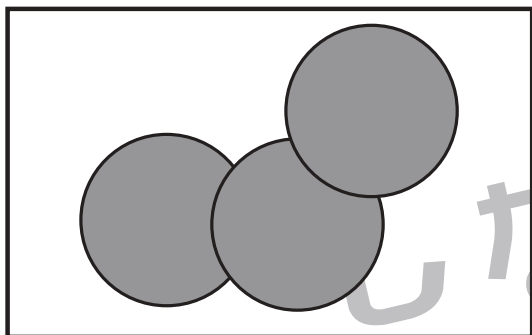


# おうちで、やろう。

Study at home. 小学校受験の家庭学習教材

巧緻性：はさみ6

- ①点線のところをはさみで切ります。
  - ②切った下の部分にある灰色の○をはさみで切ります。
  - ③切った上の部分にある形の中に左上のお手本と同じになるようにのりで貼ります。
- ※この問題に解答はありません。








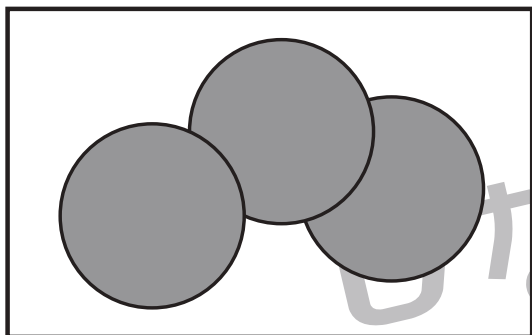


# おうちで、やろう。

Study at home. 小学校受験の家庭学習教材

巧緻性：はさみ7

- ①点線のところをはさみで切ります。
  - ②切った下の部分にある灰色の○をはさみで切ります。
  - ③切った上の部分にある形の中に左上のお手本と同じになるようにのりで貼ります。
- ※この問題に解答はありません。





# おうちで、やろう。

Study at home. 小学校受験の家庭学習教材

巧緻性：はさみ8

- ①点線のところをはさみで切ります。
  - ②切った下の部分にある灰色の○、△、□をはさみで切ります。
  - ③切った上の部分にある形の中に左上のお手本と同じになるようにのりで貼ります。
- ※この問題に解答はありません。

