


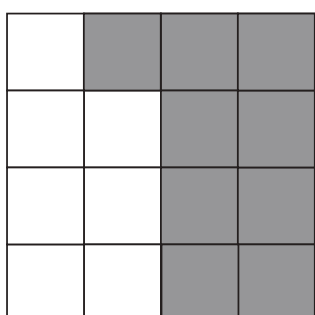
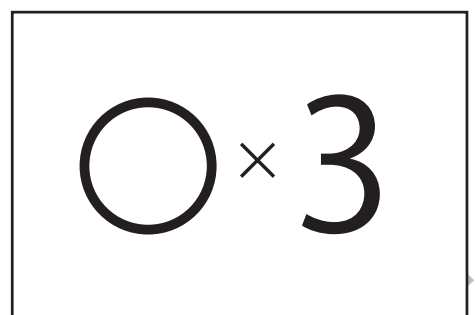
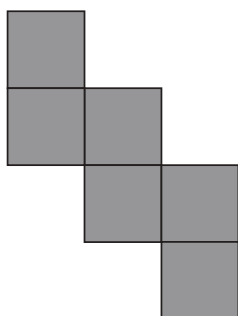


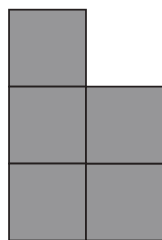
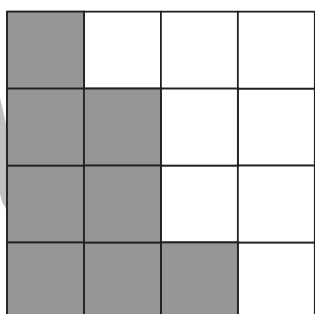


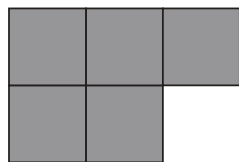
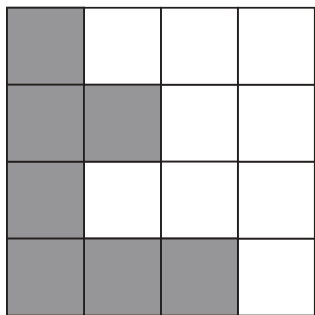


おうちで、やろう。

Study at home. 小学校受験の家庭学習教材

図形：構成 14

一番左のマスのおいてある部分に矢印の右にある形を入れますが、まだ完成しません。灰色のマスのパズルがあと何枚あれば完成しますか。その数だけ右の四角の中に○をかきます。入れる形は回してもいいですが、裏返しにはいけません。



※1. このプリントは、しながわ・目黒こどもスクールのウェブサイトでダウンロードができます。無断複写・引用はご遠慮ください。
※2. このプリントを活用したオンライン授業のスケジュールは、しながわ・目黒こどもスクールのウェブサイトでご確認ください。

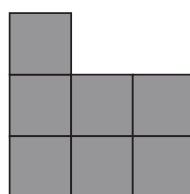

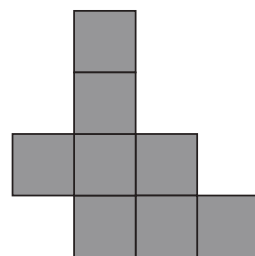

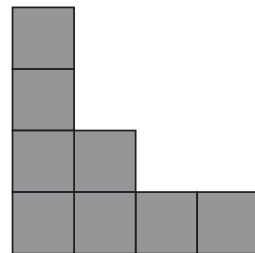

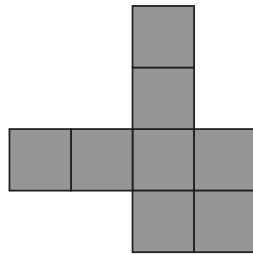

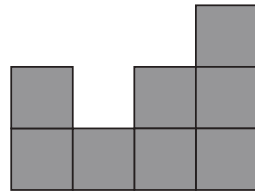



おうちで、やろう。

Study at home. 小学校受験の家庭学習教材

図形：構成 15

一番左のマスのおいてある部分に矢印の右にある形を入れますが、まだ完成しません。灰色のマスのパズルがあと何枚あれば完成しますか。その数だけ右の四角の中に○をかきます。入れる形は回してもいいですが、裏返しにははいけません。



※1. このプリントは、しながわ・目黒こどもスクールのウェブサイトでダウンロードができます。無断複写・引用はご遠慮ください。

※2. このプリントを活用したオンライン授業のスケジュールは、しながわ・目黒こどもスクールのウェブサイトでご確認ください。

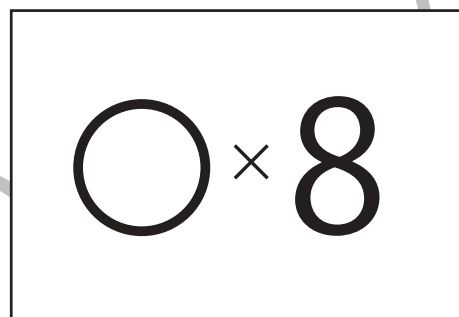
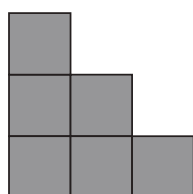

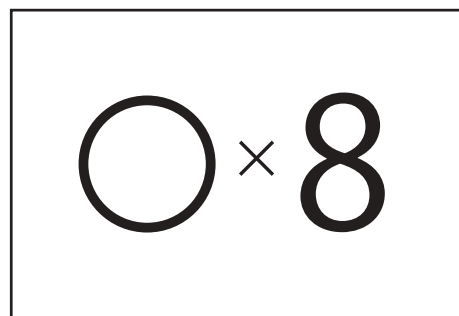
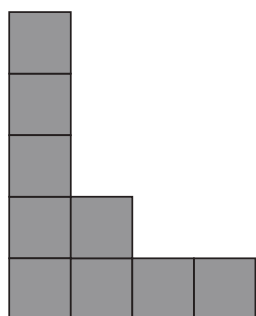

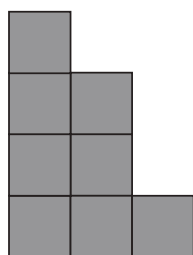

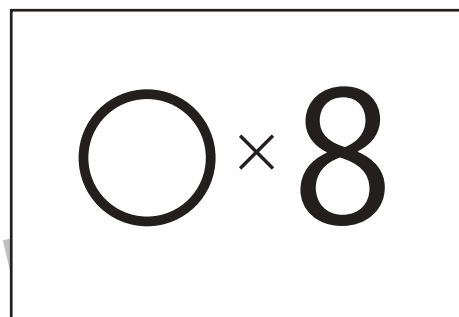



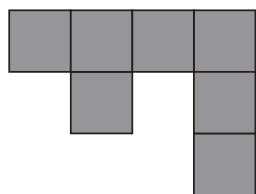



おうちで、やろう。

Study at home. 小学校受験の家庭学習教材

図形：構成 16

一番左のマスのおいてある部分に矢印の右にある形を入れますが、まだ完成しません。灰色のマスのパズルがあと何枚あれば完成しますか。その数だけ右の四角の中に○をかきます。入れる形は回してもいいですが、裏返しにはいけません。



※1. このプリントは、しながわ・目黒こどもスクールのウェブサイトでダウンロードができます。無断複写・引用はご遠慮ください。

※2. このプリントを活用したオンライン授業のスケジュールは、しながわ・目黒こどもスクールのウェブサイトでご確認ください。





おうちで、やろう。


Study at home. 小学校受験の家庭学習教材

推理：観覧車 10

動物たちが観覧車に乗って、観覧車は矢印の方向へ回ります。

①観覧車が回ってブタのゴンドラが一番上に来ました。観覧車が回り始めてから止まるまでに、乗っていたゴンドラが一番下になる動物が3匹います。下の動物の四角に○をかきます。

②観覧車が回ってネコのゴンドラが今のブタの場所に来ました。観覧車が回り始めてから止まるまでに、乗っていたゴンドラが一番上になった動物が3匹います。下の動物の四角に△をかきます。



	○	○		△	○	△	△

※1. このプリントは、しながわ・目黒こどもスクールのウェブサイトでダウンロードができます。無断複写・引用はご遠慮ください。

※2. このプリントを活用したオンライン授業のスケジュールは、しながわ・目黒こどもスクールのウェブサイトでご確認ください。


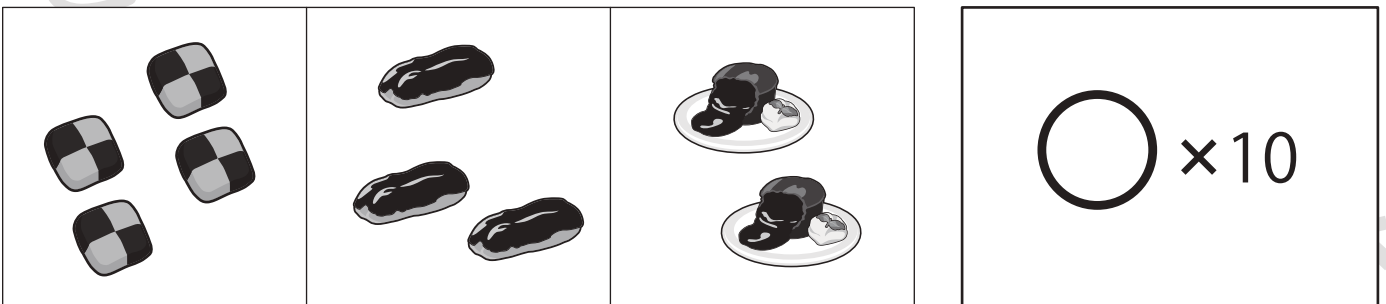


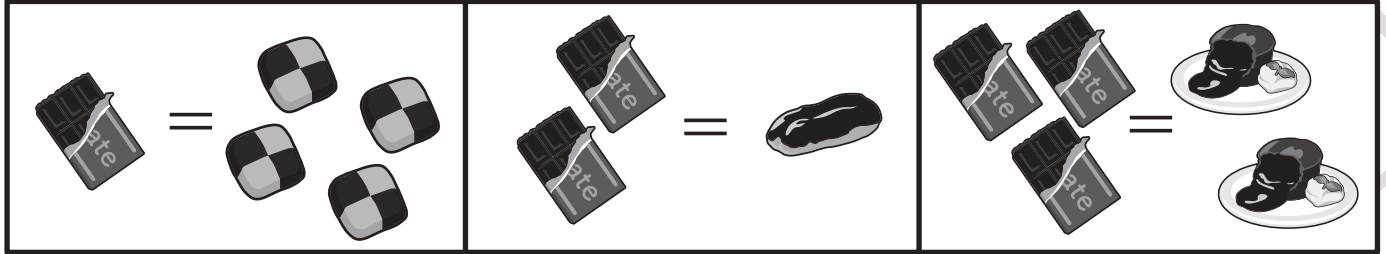


おうちで、やろう。

Study at home. 小学校受験の家庭学習教材

数量：置き換え 6

上の四角が約束です。1枚のチョコレートからはクッキーが4枚できます。2枚のチョコレートからはエクレアが1つできます。チョコレートが3枚使うと、チョコレートケーキが2つ作れます。左の3つの中のお菓子をつくるとき、チョコレートは全部で何枚必要ですか。その数だけ右の四角に○をかきます。



※1. このプリントは、しながわ・目黒こどもスクールのウェブサイトでダウンロードができます。無断複写・引用はご遠慮ください。

※2. このプリントを活用したオンライン授業のスケジュールは、しながわ・目黒こどもスクールのウェブサイトでご確認ください。



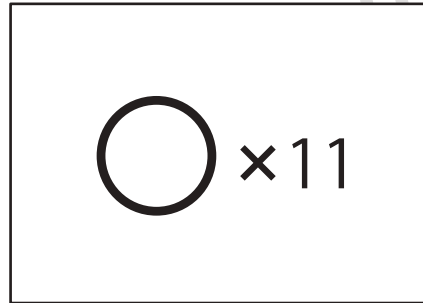
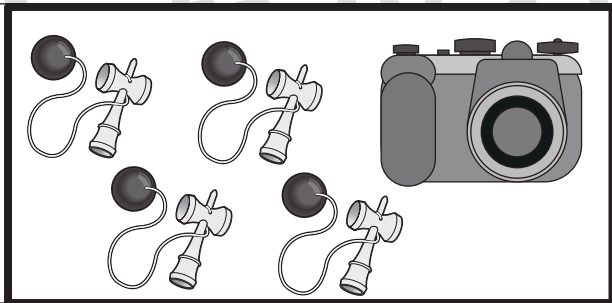

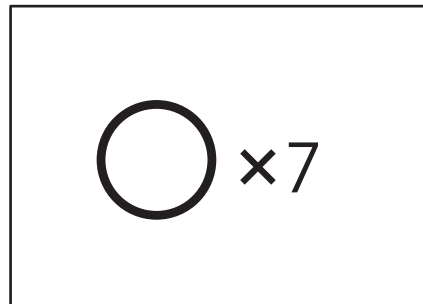
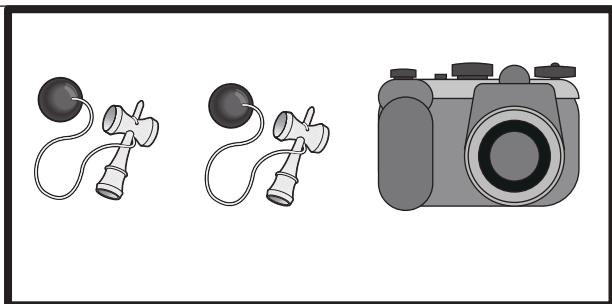

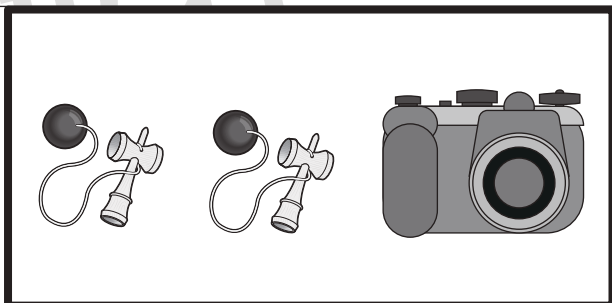

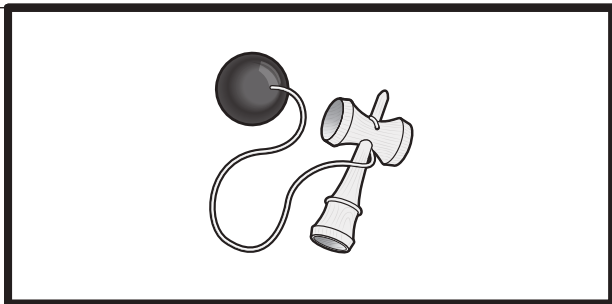



おうちで、やろう。

Study at home. 小学校受験の家庭学習教材

数量：置き換え 7

上の四角が約束です。ペロペロキャンディー 1 本は、飴玉 2 個と同じように使えます。けん玉はペロペロキャンディー 2 つと交換することができ、カメラは飴玉 6 つと交換できます。

真ん中の太い四角の中のものを手に入れたいとき、一番左のお菓子がいくつあれば交換できるでしょうか。その数だけ、一番右の四角の中に○をかきましょう。



※ 1. このプリントは、しながわ・目黒こどもスクールのウェブサイトからダウンロードできます。無断複写・引用はご遠慮ください。

※ 2. このプリントを活用したオンライン授業のスケジュールは、しながわ・目黒こどもスクールのウェブサイトでご確認ください。



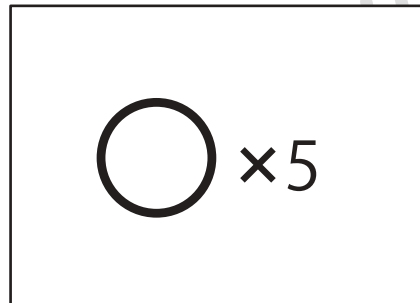
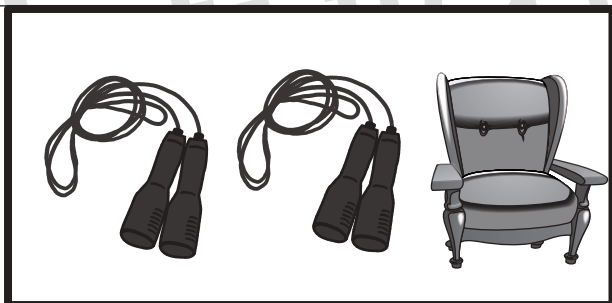

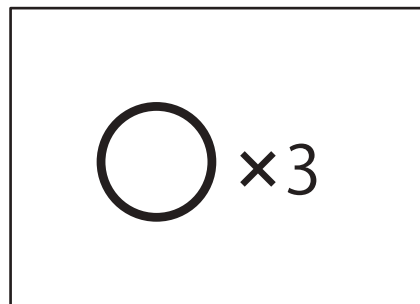

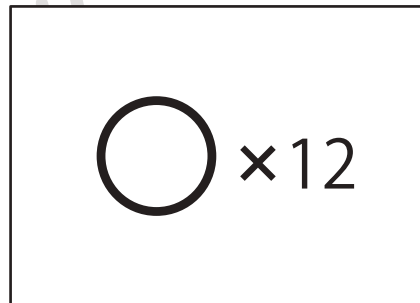


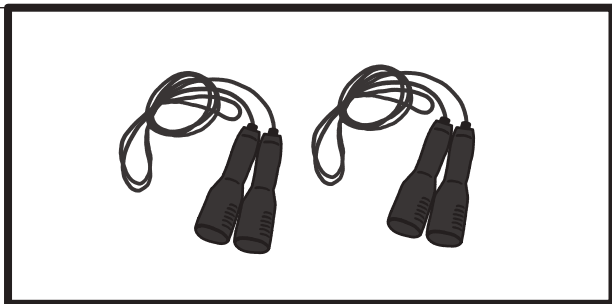

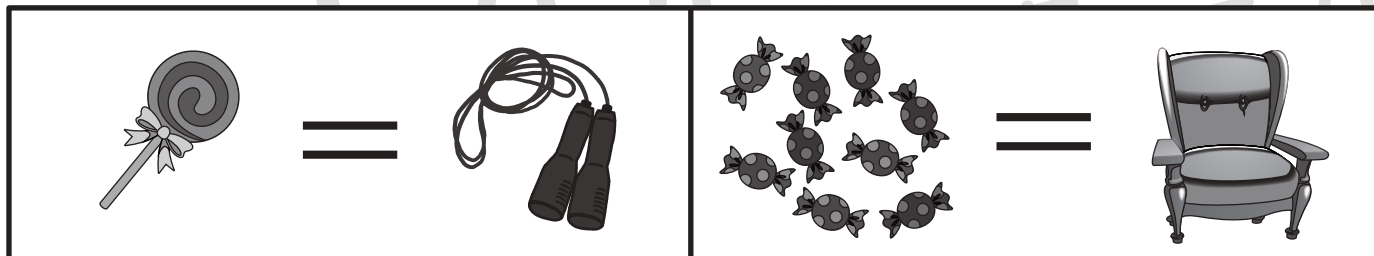
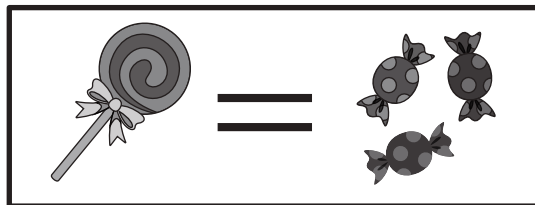


おうちで、やろう。

Study at home. 小学校受験の家庭学習教材

数量：置き換え 7

上の四角が約束です。ペロペロキャンディー 1 本は、飴玉 3 個と同じように使えます。縄跳びの縄はペロペロキャンディー 1 つと交換することができ、ソファは飴玉 9 つと交換できます。真ん中の太い四角の中のものを手に入れたとき、一番左のお菓子がいくつあれば交換できるでしょうか。その数だけ、一番右の四角の中に○をかきましょう。



※1. このプリントは、しながわ・目黒こどもスクールのウェブサイトでダウンロードができます。無断複写・引用はご遠慮ください。
※2. このプリントを活用したオンライン授業のスケジュールは、しながわ・目黒こどもスクールのウェブサイトでご確認ください。

