



おうちで、やろう。

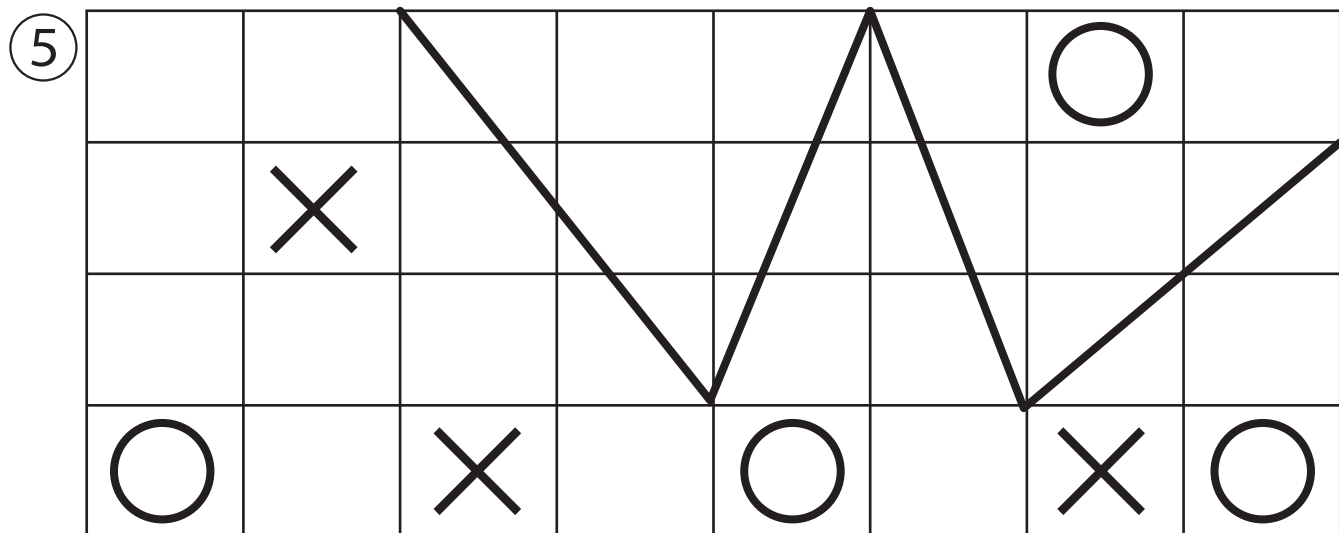
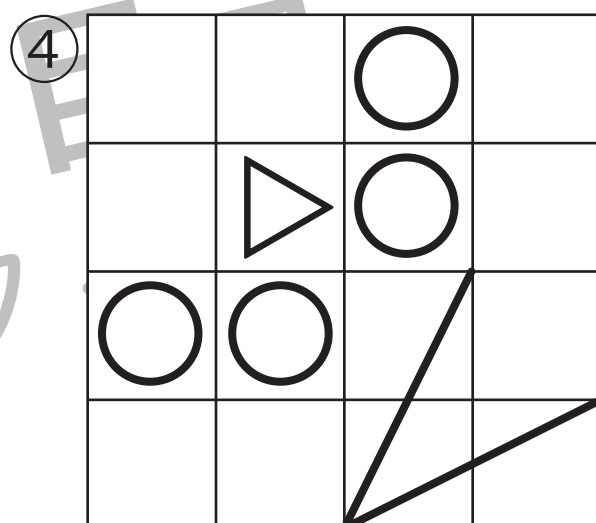
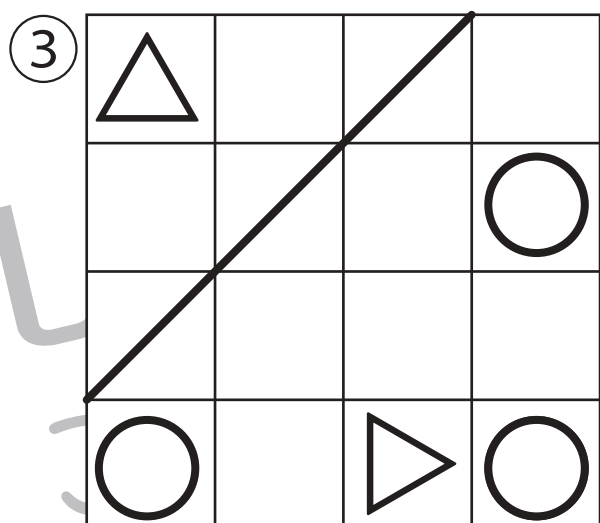

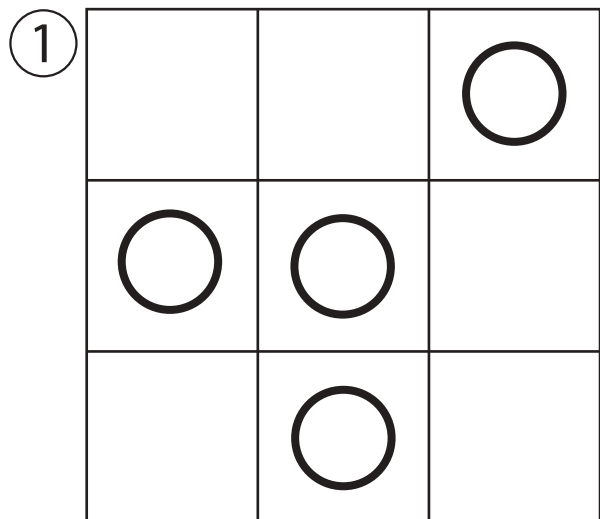
Study at home. 小学校受験の家庭学習教材

運筆：模写4(お手本)

別紙『運筆：模写4』を使用し、お手本と同じになるように描きます。

このプリントを前に掲示して、お手本と同じになるように記号や線をかきます。

※2022年3月24日(木)のオンライン授業ではお手本を1問ずつ画面にうつして取り組みます。



※1. このプリントは、しながわ・目黒こどもスクールのウェブサイトでダウンロードができます。無断複写・引用はご遠慮ください。

※2. このプリントを活用したオンライン授業のスケジュールは、しながわ・目黒こどもスクールのウェブサイトでご確認ください。



おうちで、やろう。

Study at home. 小学校受験の家庭学習教材

運筆：模写4

別紙『運筆：模写4（お手本）』を使用し、お手本と同じになるように描きます。
このプリントには解答はありませんので、お手本のプリントで確認をしてください。
※2022年3月24日（木）のオンライン授業ではお手本を1問ずつ画面にうつして取り組みます。

①

②

③

④

⑤

※1. このプリントは、しながわ・目黒こどもスクールのウェブサイトでダウンロードができます。無断複写・引用はご遠慮ください。
※2. このプリントを活用したオンライン授業のスケジュールは、しながわ・目黒こどもスクールのウェブサイトでご確認ください。

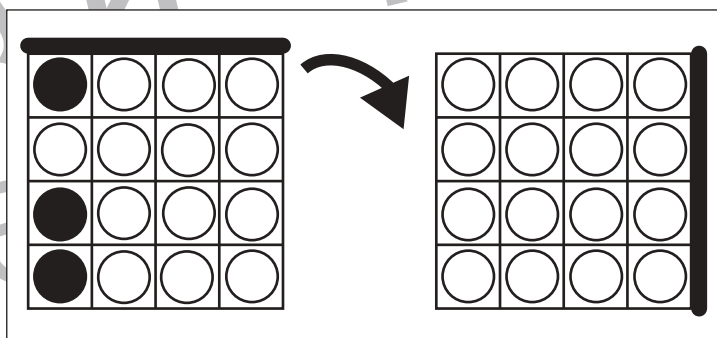
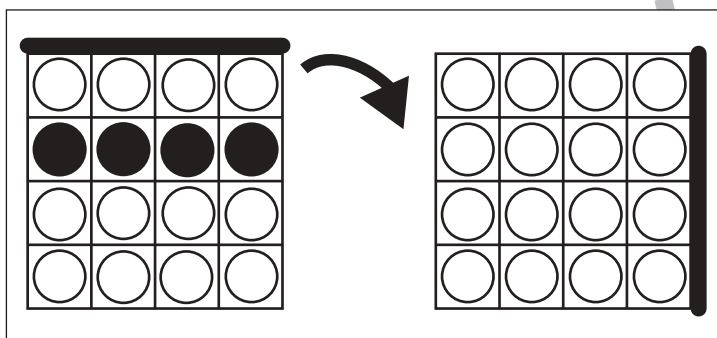
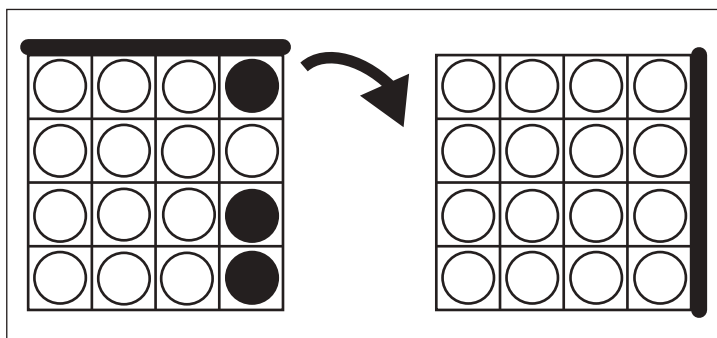
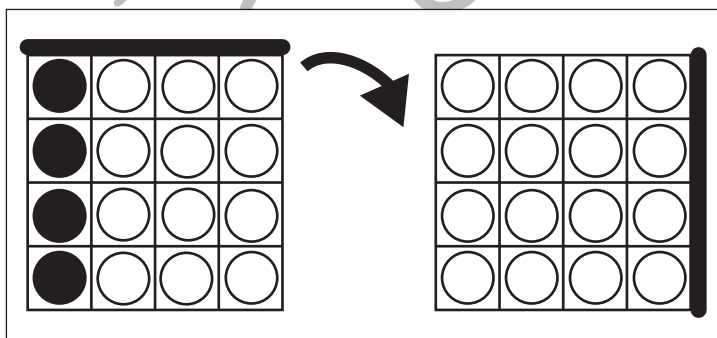
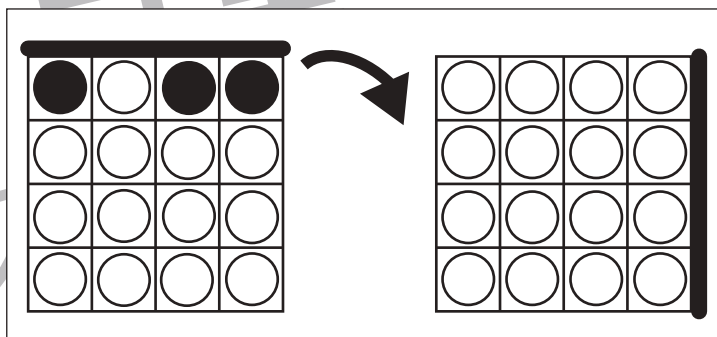
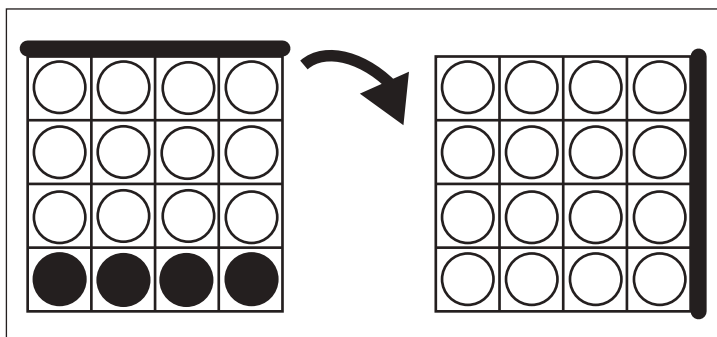
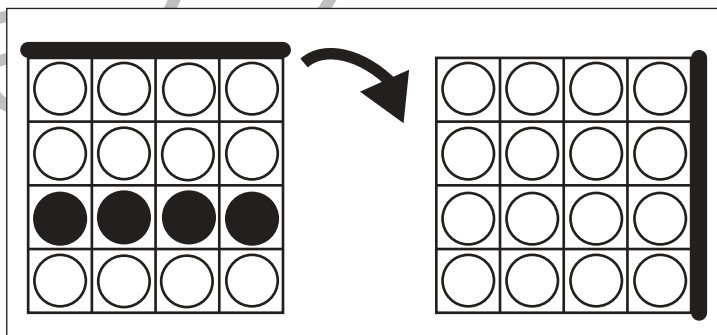
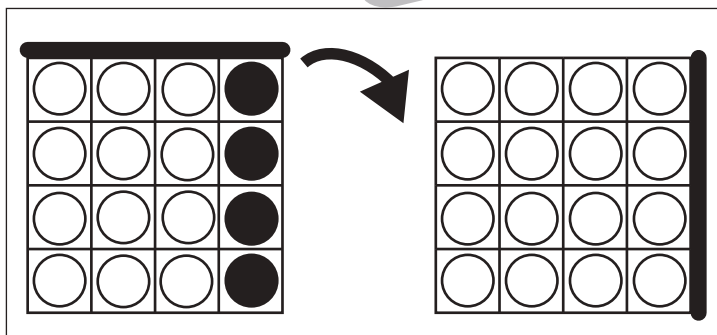
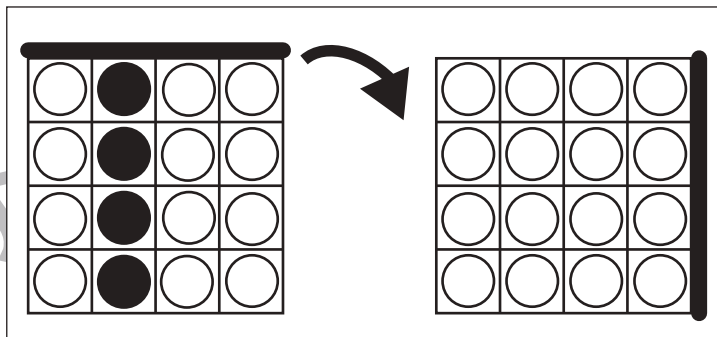
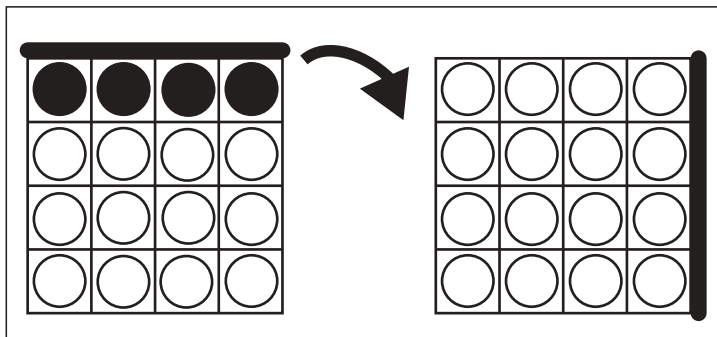


おうちで、よろう。

Study at home. 小学校受験の家庭学習教材

図形：回転 26

左のお手本を矢印の方向へ 1 回倒した時の見え方を考えて右の四角にかきます。



※ 1. このプリントは、しながわ・目黒こどもスクールのウェブサイトからダウンロードできます。無断複写・引用はご遠慮ください。
※ 2. このプリントを活用したオンライン授業のスケジュールは、しながわ・目黒こどもスクールのウェブサイトでご確認ください。



おうちで、やろう。

Study at home. 小学校受験の家庭学習教材

図形：回転 27

左のお手本を矢印の方向へ 1 回倒した時の見え方を考えて右の四角にかきます。

Figure 27: A 4x4 grid rotation exercise. Each row contains a 4x4 grid of circles. An arrow points from the original grid to a rotated grid. The rotation is 90 degrees clockwise.

●	●	○	○	○	○	○	○
○	○	○	○	○	○	○	○
○	○	○	○	○	○	○	○
○	○	●	●	○	○	○	○

○	○	○	○	○	○	○	○
○	○	○	○	○	○	○	○
○	○	○	○	○	○	○	○
○	○	○	○	○	○	○	○

○	○	○	○	○	○	○	○
○	○	○	○	○	○	○	○
○	○	○	○	○	○	○	○
○	○	○	○	○	○	○	○

○	○	○	○	○	○	○	○
○	○	○	○	○	○	○	○
○	○	○	○	○	○	○	○
○	○	○	○	○	○	○	○

○	○	○	○	○	○	○	○
○	○	○	○	○	○	○	○
○	○	○	○	○	○	○	○
○	○	○	○	○	○	○	○

○	○	○	○	○	○	○	○
○	○	○	○	○	○	○	○
○	○	○	○	○	○	○	○
○	○	○	○	○	○	○	○

○	○	○	○	○	○	○	○
○	○	○	○	○	○	○	○
○	○	○	○	○	○	○	○
○	○	○	○	○	○	○	○

○	○	○	○	○	○	○	○
○	○	○	○	○	○	○	○
○	○	○	○	○	○	○	○
○	○	○	○	○	○	○	○

○	○	○	○	○	○	○	○
○	○	○	○	○	○	○	○
○	○	○	○	○	○	○	○
○	○	○	○	○	○	○	○

○	○	○	○	○	○	○	○
○	○	○	○	○	○	○	○
○	○	○	○	○	○	○	○
○	○	○	○	○	○	○	○

※ 1. このプリントは、しながわ・目黒こどもスクールのウェブサイトからダウンロードできます。無断複写・引用はご遠慮ください。

※ 2. このプリントを活用したオンライン授業のスケジュールは、しながわ・目黒こどもスクールのウェブサイトでご確認ください。



おうちで、よろう。

Study at home. 小学校受験の家庭学習教材

図形：回転 28

左のお手本を矢印の方向へ 1 回倒した時の見え方を考えて右の四角にかきます。

Figure 28: Rotation. This section contains 10 pairs of 4x4 grids. Each pair shows a 4x4 grid on the left with a thick black bar at the top, and a 4x4 grid on the right with a thick black bar on the right. An arrow points from the left grid to the right grid, indicating a 90-degree clockwise rotation. The black circles in the left grids are as follows:

- Pair 1: (1,3), (2,3), (3,2), (3,3)
- Pair 2: (1,2), (1,3), (1,4), (2,2)
- Pair 3: (1,4), (2,4), (3,3), (3,4)
- Pair 4: (1,3), (1,4), (2,2), (2,3)
- Pair 5: (1,2), (2,2), (3,3), (3,4)
- Pair 6: (1,3), (1,4), (2,2), (4,1)
- Pair 7: (1,4), (2,3), (3,2), (4,1)

※ 1. このプリントは、しながわ・目黒こどもスクールのウェブサイトからダウンロードできます。無断複写・引用はご遠慮ください。

※ 2. このプリントを活用したオンライン授業のスケジュールは、しながわ・目黒こどもスクールのウェブサイトでご確認ください。








おうちで、やろう。

Study at home. 小学校受験の家庭学習教材

推理：水量8

それぞれの四角の中のコップには水が入っています。4つのコップには黒いボールが入っています。ボールをコップの中から取り出した後、水の量が一番多いコップに○をつけます。



※1. このプリントは、しながわ・目黒こどもスクールのウェブサイトでダウンロードができます。無断複写・引用はご遠慮ください。

※2. このプリントを活用したオンライン授業のスケジュールは、しながわ・目黒こどもスクールのウェブサイトでご確認ください。








おうちで、やろう。

Study at home. 小学校受験の家庭学習教材

推理：水量 9

それぞれの四角の中のコップには水が入っています。4つのコップには黒いボールが入っています。ボールをコップの中から取り出した後、水の量が一番少ないコップに○をつけます。



※1. このプリントは、しながわ・目黒こどもスクールのウェブサイトでダウンロードができます。無断複写・引用はご遠慮ください。
 ※2. このプリントを活用したオンライン授業のスケジュールは、しながわ・目黒こどもスクールのウェブサイトでご確認ください。








おうちで、やろう。

Study at home. 小学校受験の家庭学習教材

推理：水量 10

それぞれの四角の中のコップには水が入っています。4つのコップには黒いボールが入っています。ボールをコップの中から取り出した後、2番目に水の量が多いコップに○、2番目に水の量が一番少ないコップに×をつけます。



※1. このプリントは、しながわ・目黒こどもスクールのウェブサイトでダウンロードができます。無断複写・引用はご遠慮ください。
※2. このプリントを活用したオンライン授業のスケジュールは、しながわ・目黒こどもスクールのウェブサイトでご確認ください。



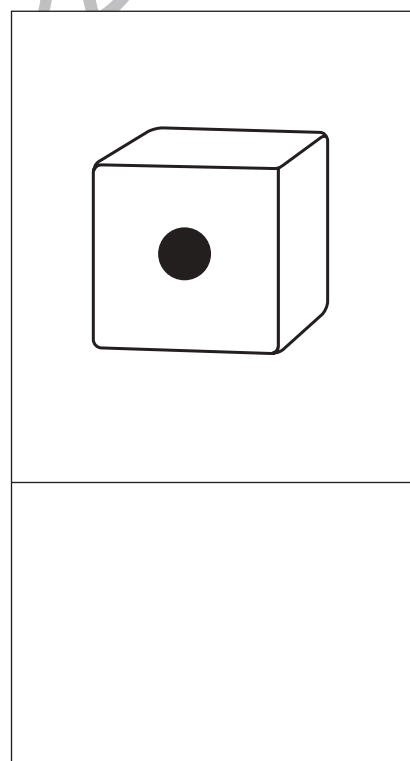

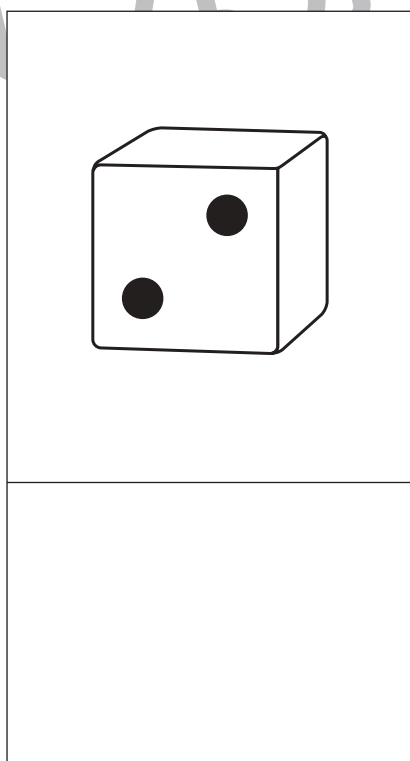

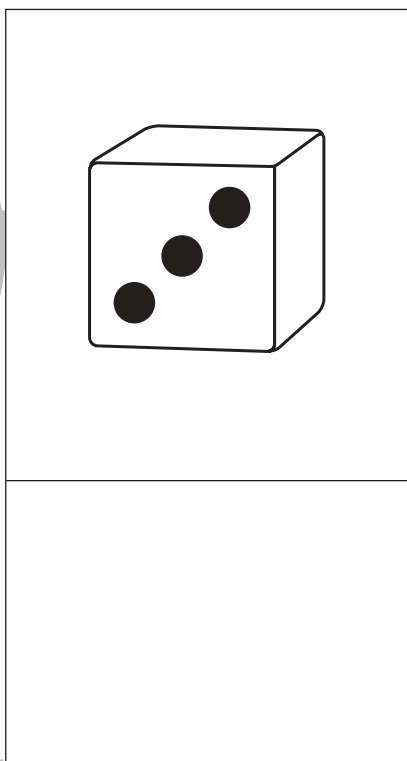



おうちで、やろう。

Study at home. 小学校受験の家庭学習教材

数量：サイコロ2

サイコロは表の目と裏の目の数を合わせると7になります。それぞれの四角の中のサイコロの目が表のとき、裏の目を考えてその数だけ下の四角に○をかきます。



※1. このプリントは、しながわ・目黒こどもスクールのウェブサイトでダウンロードができます。無断複写・引用はご遠慮ください。
※2. このプリントを活用したオンライン授業のスケジュールは、しながわ・目黒こどもスクールのウェブサイトでご確認ください。





おうちで、やろう。

Study at home. 小学校受験の家庭学習教材

数量：サイコロ3

サイコロは表の目と裏の目の数を合わせると7になります。それぞれの四角の中の2つのサイコロの目が表のとき、裏の目を合わせるといくつになりますか。その数だけ下の四角に○をかきます。

※1. このプリントは、しながわ・目黒こどもスクールのウェブサイトでダウンロードができます。無断複写・引用はご遠慮ください。
 ※2. このプリントを活用したオンライン授業のスケジュールは、しながわ・目黒こどもスクールのウェブサイトでご確認ください。



おうちで、やろう。

Study at home. 小学校受験の家庭学習教材

図形：点図形 33

左のお手本と同じになるように右の四角に線をかきます。 ※このプリントに解答はありません。

※1. このプリントは、しながわ・目黒こどもスクールのウェブサイトでダウンロードができます。無断複写・引用はご遠慮ください。
 ※2. このプリントを活用したオンライン授業のスケジュールは、しながわ・目黒こどもスクールのウェブサイトでご確認ください。