








# おうちで、やろう。

Study at home. 小学校受験の家庭学習教材

推理：水量 11

それぞれの四角の中のコップには水が入っています。4つのコップには黒いボールが入っています。ボールをコップの中から取り出した後、水の量が一番多いコップに○をつけます。



※1. このプリントは、しながわ・目黒こどもスクールのウェブサイトでダウンロードができます。無断複写・引用はご遠慮ください。  
※2. このプリントを活用したオンライン授業のスケジュールは、しながわ・目黒こどもスクールのウェブサイトでご確認ください。








# おうちで、やろう。

Study at home. 小学校受験の家庭学習教材

推理：水量 12

それぞれの四角の中のコップには水が入っています。4つのコップには黒いボールが入っています。ボールをコップの中から取り出した後、水の量が一番少ないコップに○をつけます。



※1. このプリントは、しながわ・目黒こどもスクールのウェブサイトでダウンロードができます。無断複写・引用はご遠慮ください。  
※2. このプリントを活用したオンライン授業のスケジュールは、しながわ・目黒こどもスクールのウェブサイトでご確認ください。








# おうちで、やろう。

Study at home. 小学校受験の家庭学習教材

推理：水量 13

それぞれの四角の中のコップには水が入っています。4つのコップには黒いボールが入っています。ボールをコップの中から取り出した後、水の量が2番目に多いコップに○、2番目に少ないコップに×をつけます。



※1. このプリントは、しながわ・目黒こどもスクールのウェブサイトでダウンロードができます。無断複写・引用はご遠慮ください。

※2. このプリントを活用したオンライン授業のスケジュールは、しながわ・目黒こどもスクールのウェブサイトでご確認ください。





# おうちで、やろう。

Study at home. 小学校受験の家庭学習教材

数量：サイコロ4

サイコロは表の目と裏の目の数を合わせると7になります。それぞれの四角の中の2つのサイコロの目が表のとき、裏の目を合わせるといくつになりますか。その数だけ下の四角に○をかきます。







※1. このプリントは、しながわ・目黒こどもスクールのウェブサイトでダウンロードができます。無断複写・引用はご遠慮ください。  
 ※2. このプリントを活用したオンライン授業のスケジュールは、しながわ・目黒こどもスクールのウェブサイトでご確認ください。



# おうちで、やろう。

Study at home. 小学校受験の家庭学習教材

## 数量：サイコロ5

サイコロは表の目と裏の目の数を合わせると7になります。それぞれの四角の中の2つのサイコロの目が表のとき、裏の目を合わせるといくつになりますか。左と右の四角で、合わせた数が多い方に○をつけます。

--	--	--	--

--	--	--	--

--	--	--	--

※1. このプリントは、しながわ・目黒こどもスクールのウェブサイトでダウンロードができます。無断複写・引用はご遠慮ください。  
 ※2. このプリントを活用したオンライン授業のスケジュールは、しながわ・目黒こどもスクールのウェブサイトでご確認ください。



# おうちで、やろう。

Study at home. 小学校受験の家庭学習教材

## 数量：サイコロ6

サイコロは表の目と裏の目の数を合わせると7になります。それぞれの四角の中の3つのサイコロの目が表のとき、裏の目を合わせるといくつになりますか。左と右の四角で、合わせた数が多い方に○をつけます。

--	--	--	--

--	--	--	--

--	--	--	--

※1. このプリントは、しながわ・目黒こどもスクールのウェブサイトでダウンロードができます。無断複写・引用はご遠慮ください。  
 ※2. このプリントを活用したオンライン授業のスケジュールは、しながわ・目黒こどもスクールのウェブサイトでご確認ください。




# おうちで、やろう。

Study at home. 小学校受験の家庭学習教材

## □頭試問 1

いろいろな料理の絵を見て下の質問に答えましょう。お子さまが答えたことは保護者の方が記入してください。  
※この問題に解答はありません。



①上の料理の中で、食べたい料理はなんですか。どうしてその料理が食べたいですか。

②上の料理の中で、嫌いな料理はなんですか。どうしてその料理が嫌いですか。

③上の料理の中で、おうちの人が作ってくれる料理はなんですか。

④上の料理の中で、自分で作ってみたい料理はなんですか。

※1. このプリントは、しながわ・目黒こどもスクールのウェブサイトからダウンロードできます。無断複写・引用はご遠慮ください。

※2. このプリントを活用したオンライン授業のスケジュールは、しながわ・目黒こどもスクールのウェブサイトでご確認ください。




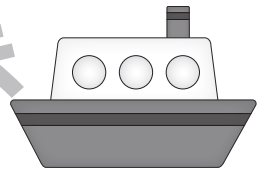







# おうちで、やろう。

Study at home. 小学校受験の家庭学習教材

## □頭試問 2

いろいろな乗り物の絵を見て下の質問に答えましょう。お子さまが答えたことは保護者の方が記入してください。  
※この問題に解答はありません。



①上の乗り物の中で、一番好きな乗り物は何ですか。それはどうしてですか。

②上の乗り物の中で、運転してみたい乗り物は何ですか。それはどうしてですか。

③上の乗り物の中で、家族で旅行に行くときに乗りたい乗り物は何ですか。その乗り物でどこに行きますか。

④上の乗り物の中で、サイレンをならしながら走る乗り物を1つ教えてください。  
その乗り物はどんなときにサイレンをならしますか。

※1. このプリントは、しながわ・目黒こどもスクールのウェブサイトでダウンロードができます。無断複写・引用はご遠慮ください。

※2. このプリントを活用したオンライン授業のスケジュールは、しながわ・目黒こどもスクールのウェブサイトでご確認ください。







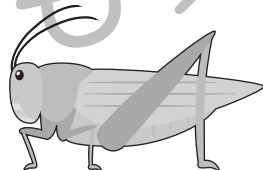






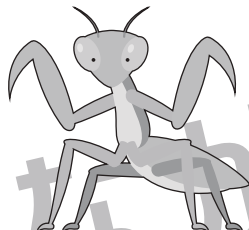

# おうちで、やろう。

Study at home. 小学校受験の家庭学習教材

## □頭試問3

いろいろな虫の絵を見て下の質問に答えましょう。お子さまが答えたことは保護者の方が記入してください。

※この問題に解答はありません。



①上の虫の中で、一番好きな虫は何ですか。どうしてその虫が好きですか。

②上の虫の中で、嫌いな虫は何ですか。どうしてその虫が嫌いですか。

③上の虫の中で、見たことがない虫はありますか。その虫はどうしたら見れると思いますか。

④上の虫の中で、手で触ってみたい虫はありますか。触ったらどんな感じだと思いますか。

※1. このプリントは、しながわ・目黒こどもスクールのウェブサイトでダウンロードができます。無断複写・引用はご遠慮ください。

※2. このプリントを活用したオンライン授業のスケジュールは、しながわ・目黒こどもスクールのウェブサイトでご確認ください。





# おうちで、やろう。

Study at home. 小学校受験の家庭学習教材

## 図形：点図形 34

左のお手本と同じになるように右の四角に線をかきます。 ※このプリントに解答はありません。


※1. このプリントは、しながわ・目黒こどもスクールのウェブサイトでダウンロードができます。無断複写・引用はご遠慮ください。

※2. このプリントを活用したオンライン授業のスケジュールは、しながわ・目黒こどもスクールのウェブサイトでご確認ください。