



おうちで、やろう。

Study at home. 小学校受験の家庭学習教材

指示の聞き取り 11

それぞれの設問に答えましょう。指示は1度ですべて読み上げます。しっかり聞いて取り組みましょう。

- ①一番下の段の右端のマスに緑のクーピーで○をかきます。
- ②上から3段目の左から5番目のマスに青のクーピーで○をかきます。
- ③下から4段目の右から3番目のマスに茶色のクーピーで△をかきます。
- ④上から2段目の左から4番目のマスに橙のクーピーで□をかきます。
- ⑤下から5段目の左端のマスを鉛筆で薄く塗ります。

鉛筆で 薄く塗る			□ (橙)	
		△ (茶)		○ (青)
				○ (緑)

※1. このプリントは、しながわ・目黒こどもスクールのウェブサイトでダウンロードができます。無断複写・引用はご遠慮ください。

※2. このプリントを活用したオンライン授業のスケジュールは、しながわ・目黒こどもスクールのウェブサイトでご確認ください。

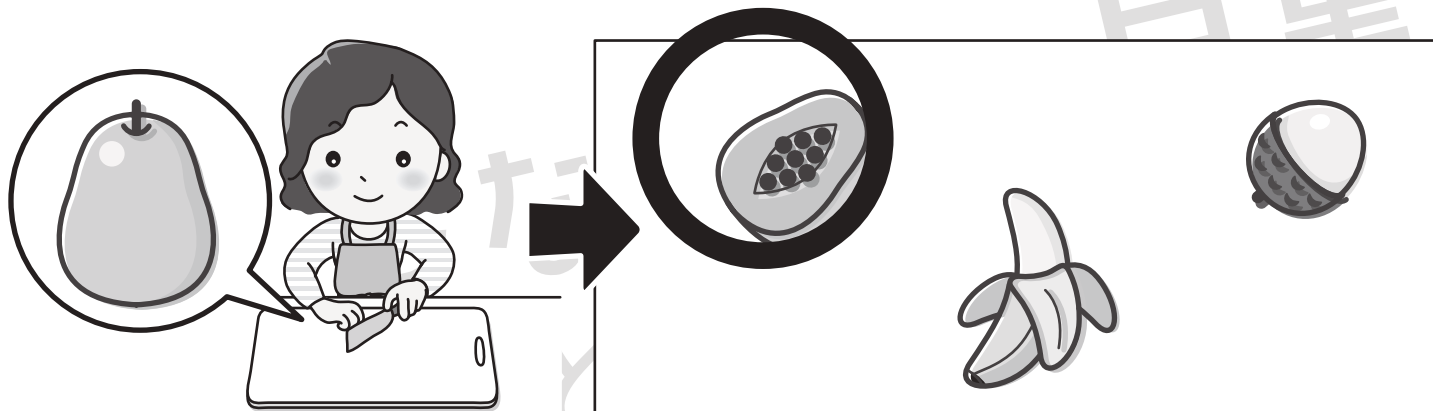
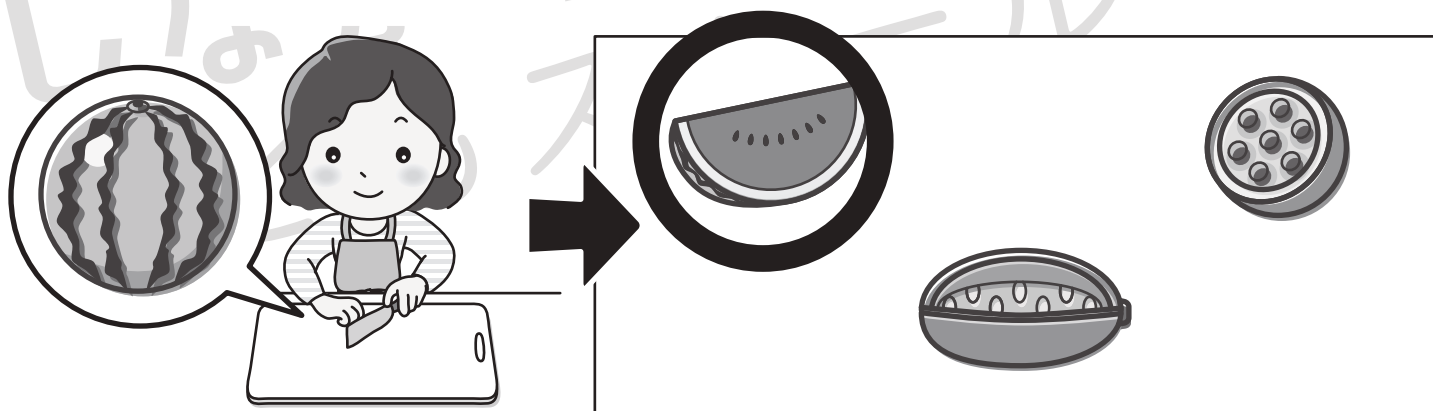
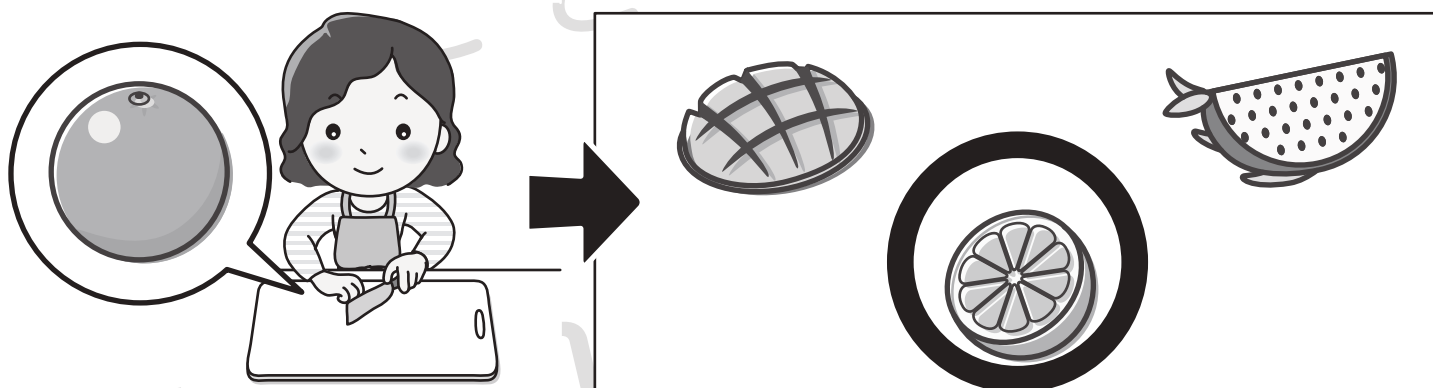
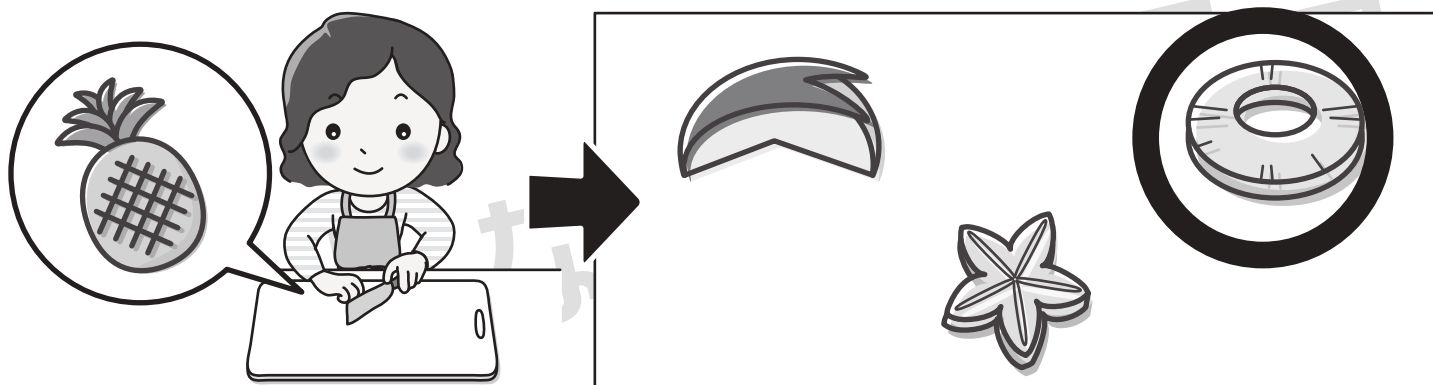


おうちで、やろう。

Study at home. 小学校受験の家庭学習教材

常識：断面図7

まな板の上にある果物をお母さんが包丁で食べやすい大きさに切りました。お母さんが用意した果物を右から選んで○をつけましょう。



※1. このプリントは、しながわ・目黒こどもスクールのウェブサイトからダウンロードできます。無断複写・引用はご遠慮ください。

※2. このプリントを活用したオンライン授業のスケジュールは、しながわ・目黒こどもスクールのウェブサイトでご確認ください。

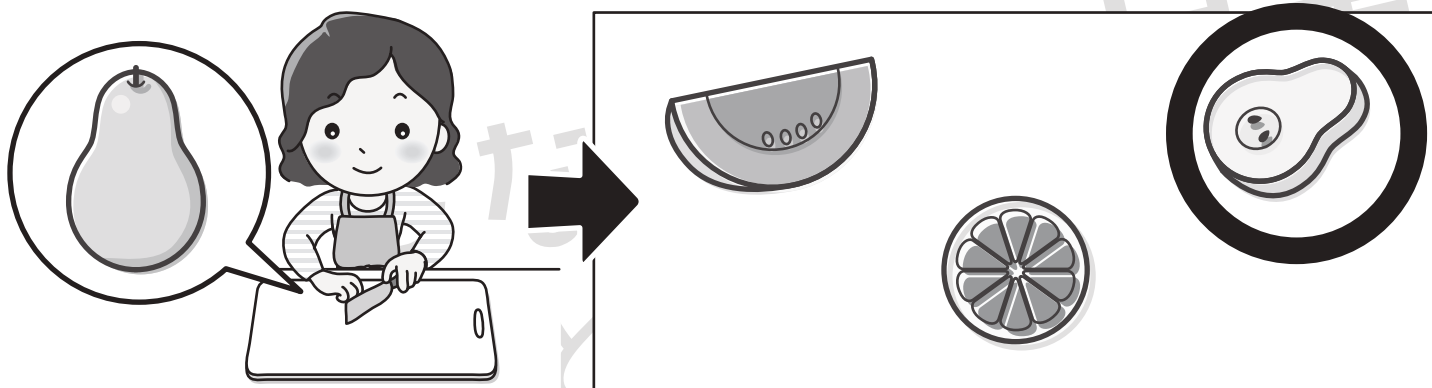
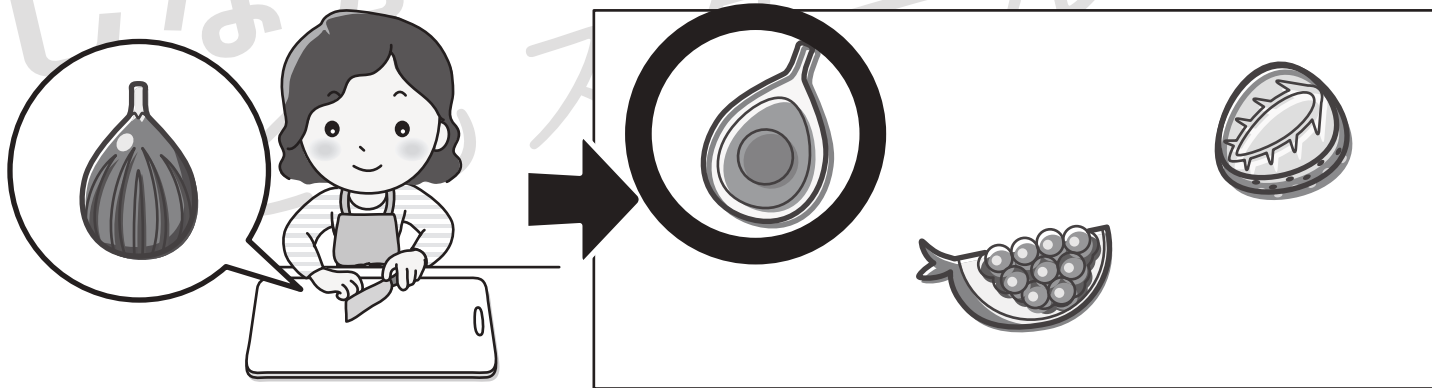
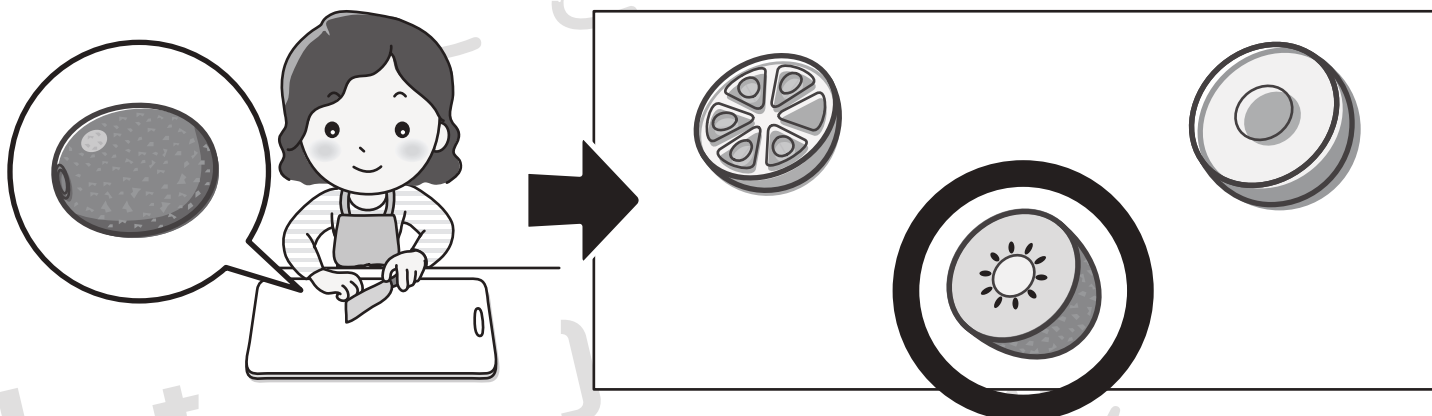
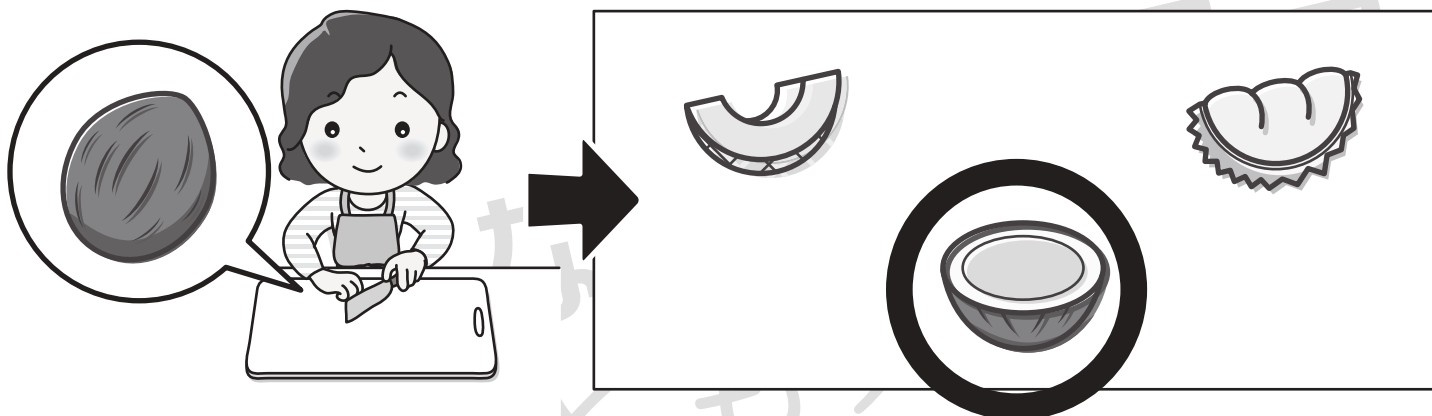


おうちで、やろう。

Study at home. 小学校受験の家庭学習教材

常識：断面図8

まな板の上にある果物をお母さんが包丁で食べやすい大きさに切りました。お母さんが用意した果物を右から選んで○をつけましょう。



※1. このプリントは、しながわ・目黒こどもスクールのウェブサイトダウンロードができます。無断複写・引用はご遠慮ください。

※2. このプリントを活用したオンライン授業のスケジュールは、しながわ・目黒こどもスクールのウェブサイトでご確認ください。

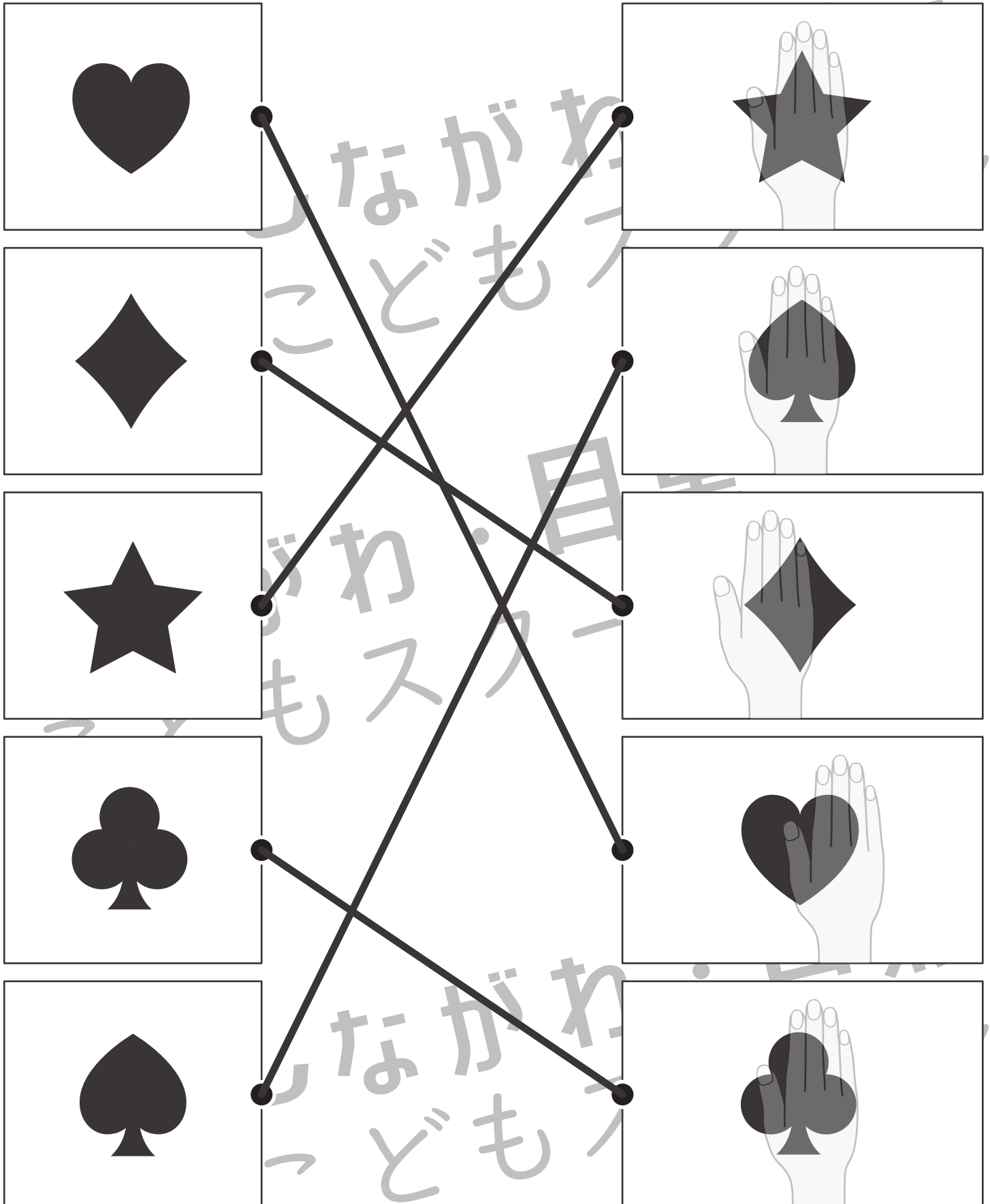


おうちで、やろう。

Study at home. 小学校受験の家庭学習教材

図形：観察力9

左に並んでいる形がお手本です。この形を手で隠したものが右の四角にあります。正しい組み合わせで線を結びましょう。



※1. このプリントは、しながわ・目黒こどもスクールのウェブサイトからダウンロードできます。無断複写・引用はご遠慮ください。

※2. このプリントを活用したオンライン授業のスケジュールは、しながわ・目黒こどもスクールのウェブサイトでご確認ください。

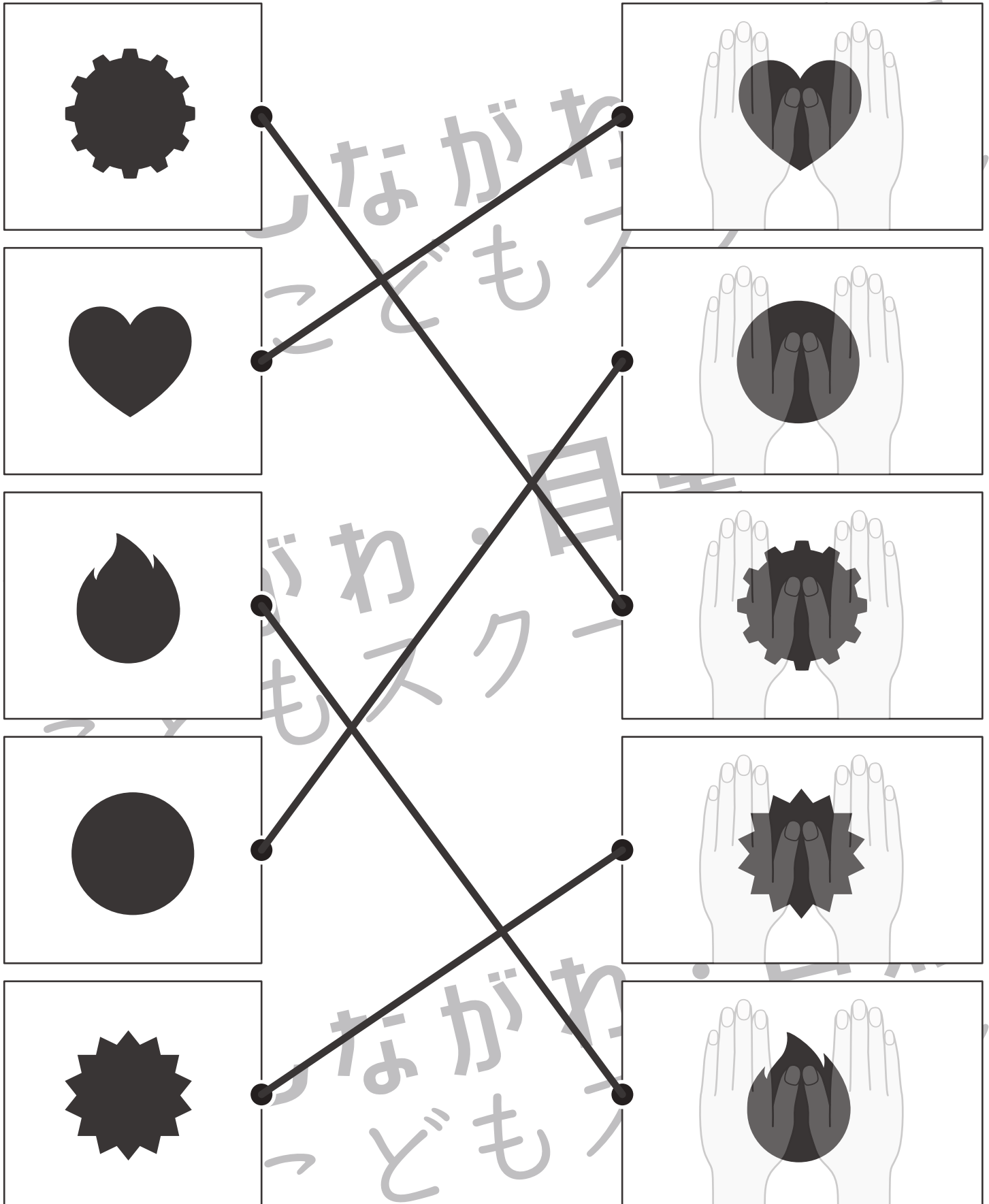


おうちで、やろう。

Study at home. 小学校受験の家庭学習教材

図形：観察力 10

左に並んでいる形がお手本です。この形を手で隠したものが右の四角にあります。正しい組み合わせで線を結びましょう。



※1. このプリントは、しながわ・目黒こどもスクールのウェブサイトでダウンロードができます。無断複写・引用はご遠慮ください。

※2. このプリントを活用したオンライン授業のスケジュールは、しながわ・目黒こどもスクールのウェブサイトでご確認ください。



おうちで、やろう。

Study at home. 小学校受験の家庭学習教材

図形：観察力 11

左に並んでいる形がお手本です。この形を手で隠したものが右の四角にあります。正しい組み合わせで線を結びましょう。

The image shows a matching exercise. On the left, there are five boxes containing geometric shapes: a hexagon, a starburst, a square, an arrow, and a triangle. On the right, there are five boxes showing hands holding the same shapes. Lines connect the shapes on the left to their counterparts on the right: the hexagon to the hands holding a hexagon, the starburst to the hands holding a starburst, the square to the hands holding a square, the arrow to the hands holding an arrow, and the triangle to the hands holding a triangle.

※1. このプリントは、しながわ・目黒こどもスクールのウェブサイトでダウンロードができます。無断複写・引用はご遠慮ください。

※2. このプリントを活用したオンライン授業のスケジュールは、しながわ・目黒こどもスクールのウェブサイトでご確認ください。

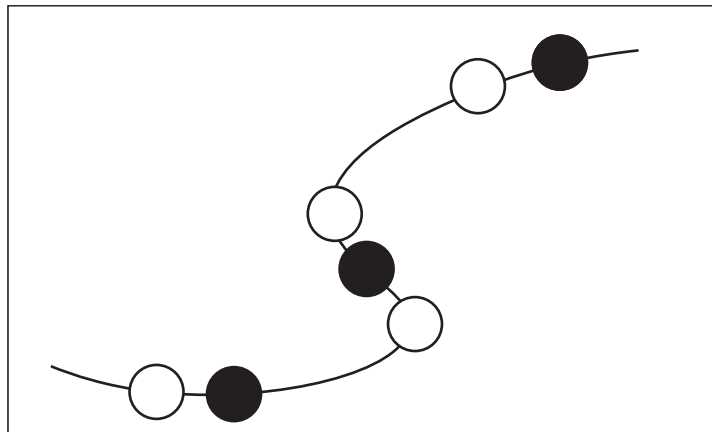


おうちで、やろう。

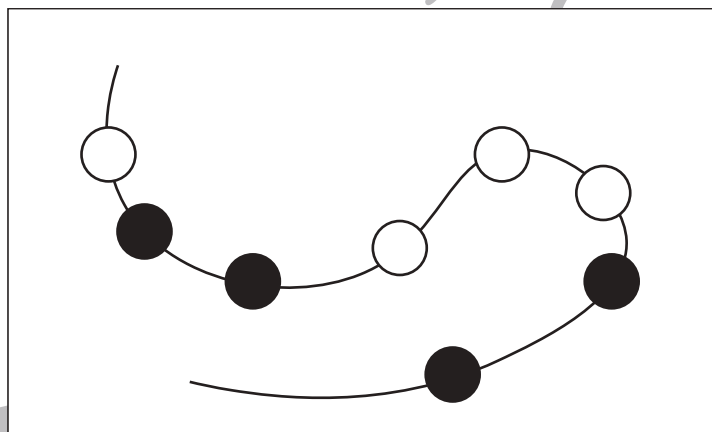
Study at home. 小学校受験の家庭学習教材

数量：計数 10

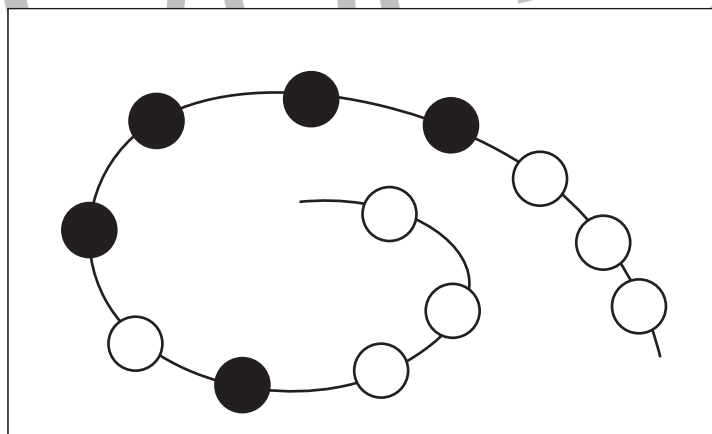
紐に通してある白いビーズの数をかぞえて、その数だけ右の四角に△をかきます。



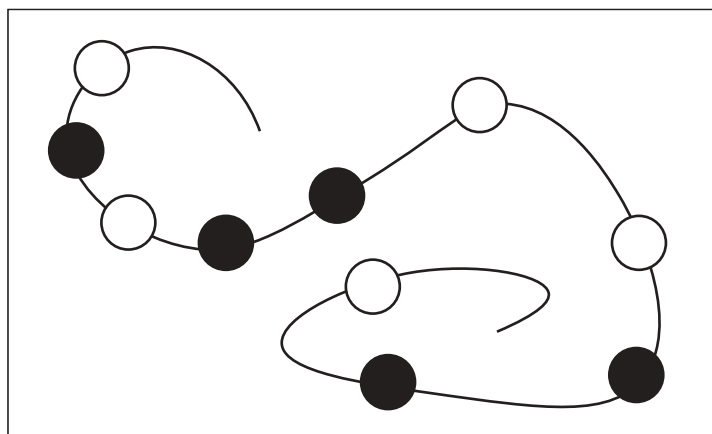
$$\triangle \times 4$$



$$\triangle \times 4$$



$$\triangle \times 7$$



$$\triangle \times 5$$

※1. このプリントは、しながわ・目黒こどもスクールのウェブサイトでダウンロードができます。無断複写・引用はご遠慮ください。

※2. このプリントを活用したオンライン授業のスケジュールは、しながわ・目黒こどもスクールのウェブサイトでご確認ください。





おうちで、やろう。


Study at home. 小学校受験の家庭学習教材

数量：計数 11

紐に通してある白いビーズの数をかぞえて、その数だけ右の四角に△をかきます。

	$\triangle \times 5$
---	----------------------

	$\triangle \times 7$
--	----------------------

	$\triangle \times 6$
---	----------------------

	$\triangle \times 8$
---	----------------------

※1. このプリントは、しながわ・目黒こどもスクールのウェブサイトでダウンロードができます。無断複写・引用はご遠慮ください。

※2. このプリントを活用したオンライン授業のスケジュールは、しながわ・目黒こどもスクールのウェブサイトでご確認ください。



おうちで、やろう。

Study at home. 小学校受験の家庭学習教材

数量：計数 12

紐に通してある白いビーズの数をかぞえて、その数だけ右の四角に△をかきます。

	$\triangle \times 6$
--	----------------------

	$\triangle \times 9$
--	----------------------

	$\triangle \times 5$
--	----------------------

	$\triangle \times 7$
--	----------------------

※1. このプリントは、しながわ・目黒こどもスクールのウェブサイトからダウンロードできます。無断複写・引用はご遠慮ください。

※2. このプリントを活用したオンライン授業のスケジュールは、しながわ・目黒こどもスクールのウェブサイトでご確認ください。

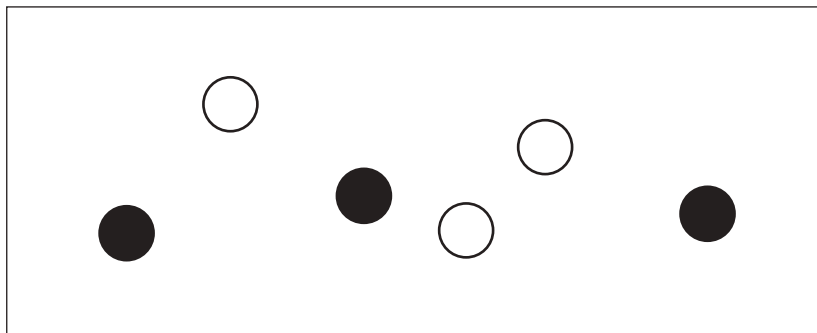


おうちで、やろう。

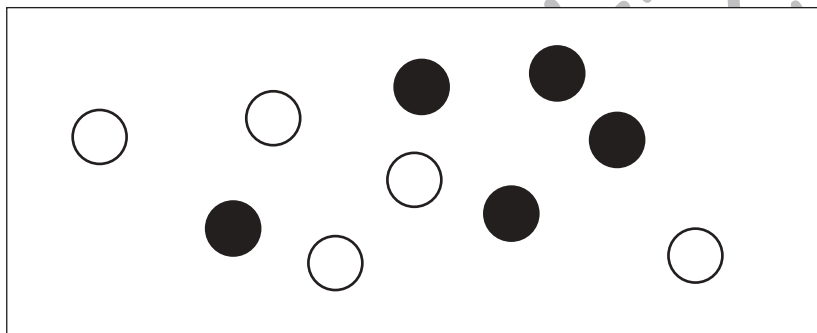
Study at home. 小学校受験の家庭学習教材

処理：加減3


左の中の形を、白いものは二つ増やし、黒いものは一つ減らします。いくつになるか考えて、その数だけ右の四角に○をかきます。
この問題はスピードを意識して取り組む練習をしてみましょう。(1分～1分30秒)



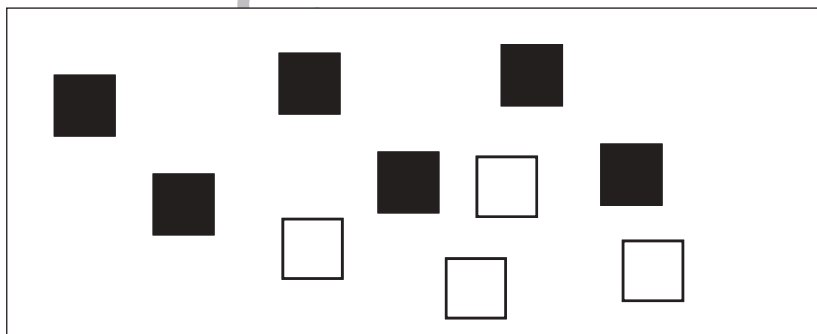
○	○ × 5
●	○ × 2



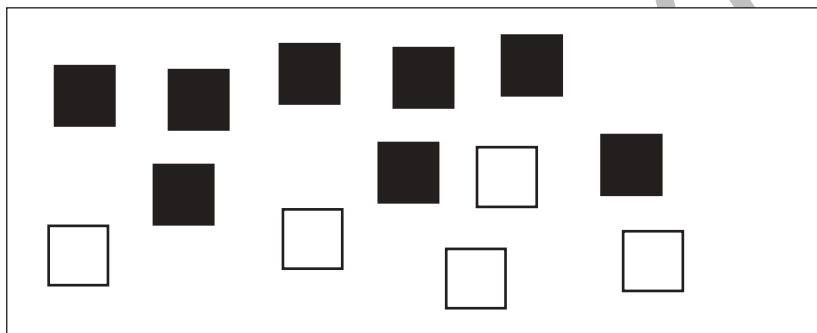
○	○ × 7
●	○ × 4



☆	○ × 6
★	○ × 4



□	○ × 6
■	○ × 5



□	○ × 7
■	○ × 7

※1. このプリントは、しながわ・目黒こどもスクールのウェブサイトでダウンロードができます。無断複写・引用はご遠慮ください。

※2. このプリントを活用したオンライン授業のスケジュールは、しながわ・目黒こどもスクールのウェブサイトでご確認ください。