



おうちで、やろう。 年中児版

Study at home. 小学校受験の家庭学習教材

推理：なぞなぞ5

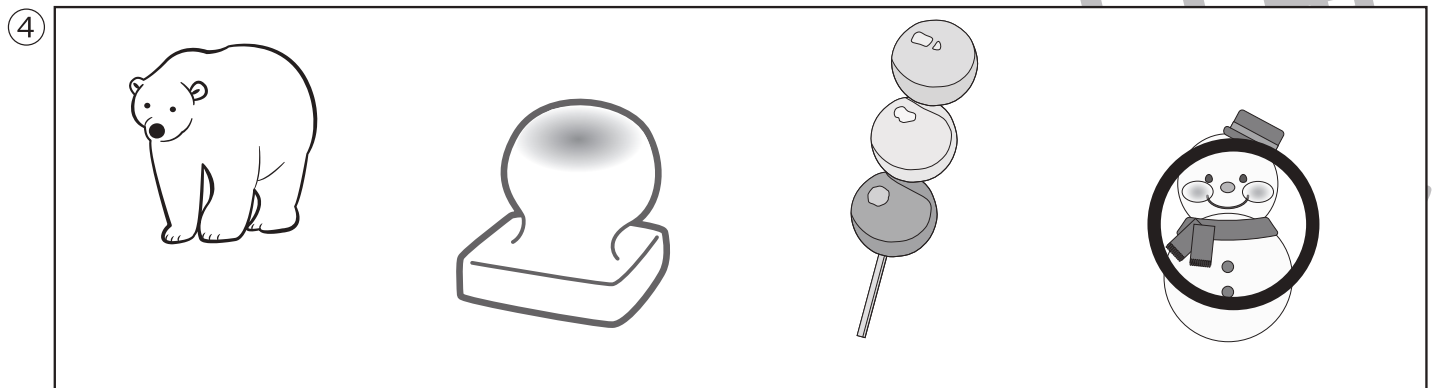

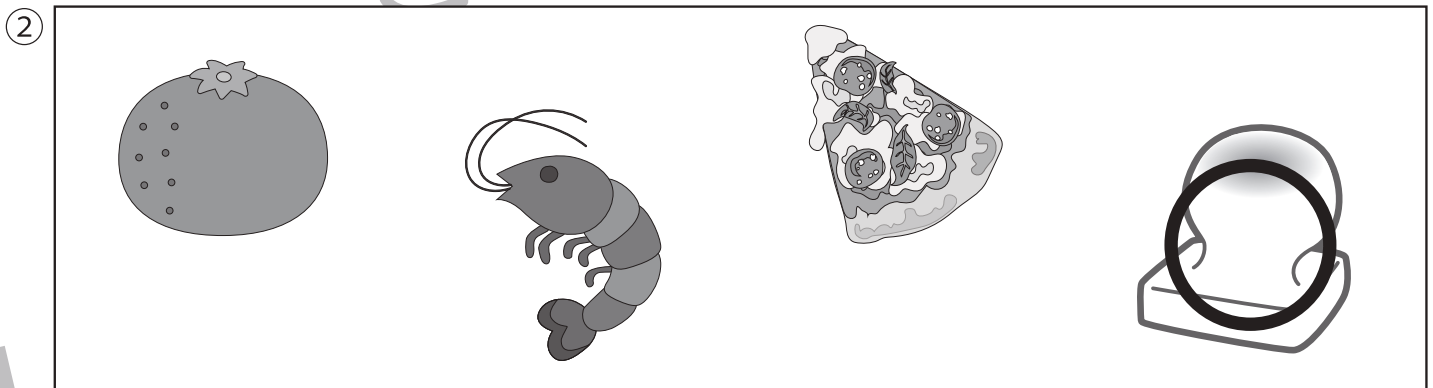
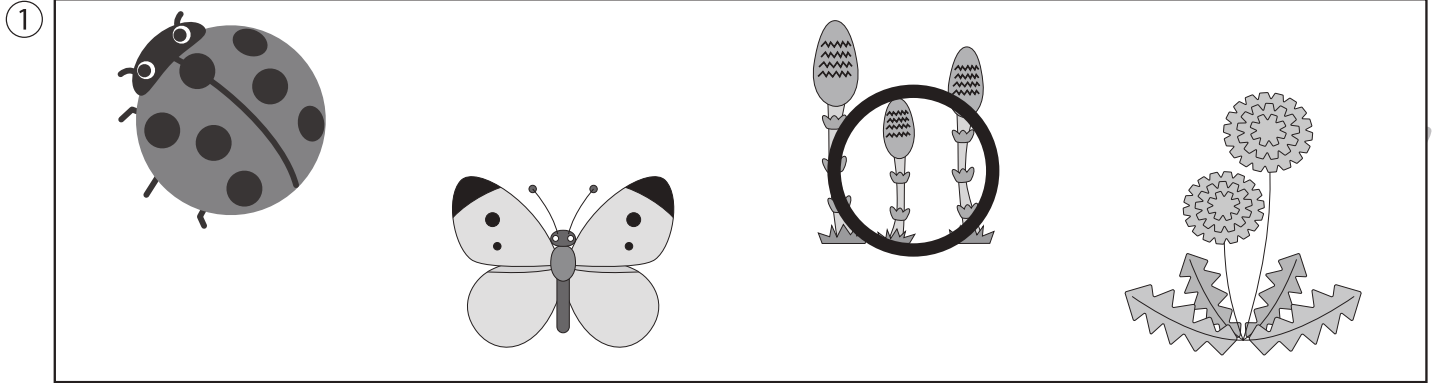
①～④のなぞなぞをといて、答えに○をつけましょう。

①はるになると みるこが できる くしは なんでしょう。

②おしょうがつに「ぷーっ」と ふくれる たべものは なんでしょう。

③はるになると なく いすは なんでしょう。

④あつくなると きえてしまう あたまもからだも しろくて つめたい まるいものは なんでしょう。



※1. このプリントは、しながわ・目黒こどもスクールのウェブサイトダウンロードできます。無断複写・引用はご遠慮ください。

※2. このプリントを活用したオンライン授業のスケジュールは、しながわ・目黒こどもスクールのウェブサイトでご確認ください。











おうちで、やろう。 年中児版

Study at home. 小学校受験の家庭学習教材



指示の聞き取り 1

- ①ゾウさんの上のマスに○、キリンさんの横のマスに△、クマさんの左のマスに□、ライオンさんの右のマスに×をかきます。
 ②上から一段目の右から二番目のマスに○、下から二段目の右から一番目のマスに×をかきます。

①

②

※1. このプリントは、しながわ・目黒こどもスクールのウェブサイトでダウンロードができます。無断複写・引用はご遠慮ください。
 ※2. このプリントを活用したオンライン授業のスケジュールは、しながわ・目黒こどもスクールのウェブサイトでご確認ください。


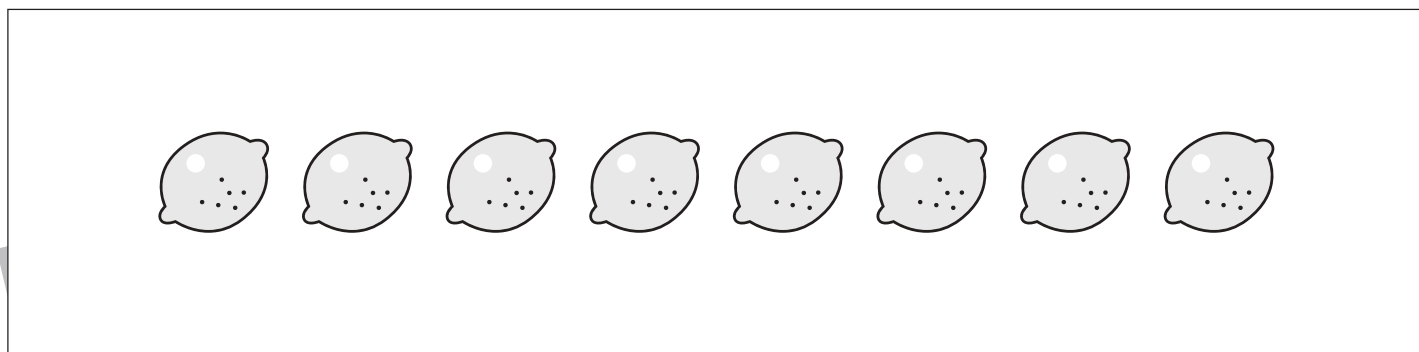
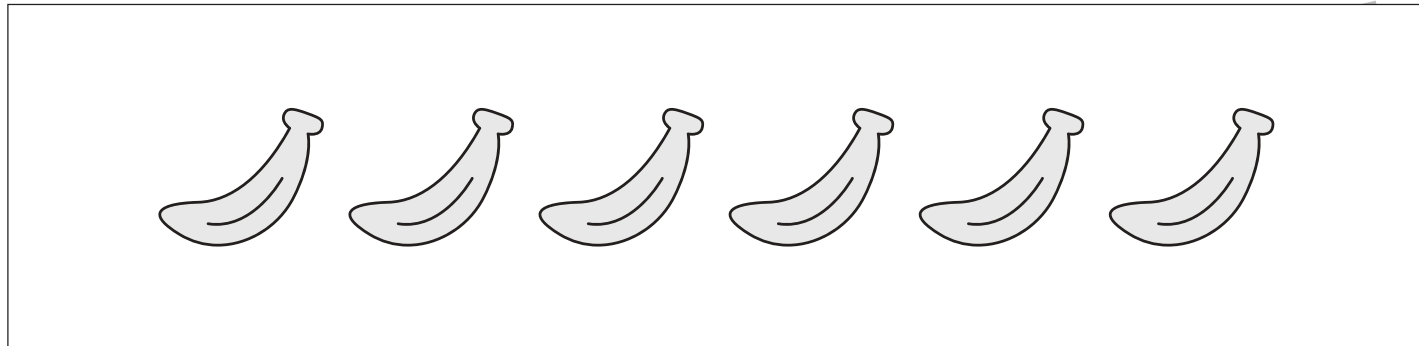


おうちで、やろう。 年中児版

Study at home. 小学校受験の家庭学習教材

数量：分割 1

四角の中のくだものを、男の子と女の子の二人で同じ数になるように分けるとき、一人分はいくつになりますか。それぞれがもらえるくだもの数だけ四角の中に○をかきます。




※1. このプリントは、しながわ・目黒こどもスクールのウェブサイトでダウンロードができます。無断複写・引用はご遠慮ください。
※2. このプリントを活用したオンライン授業のスケジュールは、しながわ・目黒こどもスクールのウェブサイトでご確認ください。



おうちで、やろう。年中児版 推理：まちがいさがし5

Study at home. 小学校受験の家庭学習教材

上下の絵を見比べて、変わっているところを5つ探します。見つけたら、下の絵の変わっている部分に丸をつけます。



※1. このプリントは、しながわ・目黒こどもスクールのウェブサイトからダウンロードできます。無断複写・引用はご遠慮ください。

※2. このプリントを活用したオンライン授業のスケジュールは、しながわ・目黒こどもスクールのウェブサイトでご確認ください。





おうちで、やろう。年中児版

Study at home. 小学校受験の家庭学習教材

言語：音の数 1

- ①太い四角の中の絵とはじめの音が同じものを全て見つけて○をつけます。
- ②太い四角の中の絵と終わりの音が同じものを全て見つけて○をつけます。
- ③太い四角の中の絵と音の数が同じものを全て見つけて○をつけます。

①

②

③

※1. このプリントは、しながわ・目黒こどもスクールのウェブサイトダウンロードができます。無断複写・引用はご遠慮ください。
 ※2. このプリントを活用したオンライン授業のスケジュールは、しながわ・目黒こどもスクールのウェブサイトでご確認ください。



左にある2つの四角をぴったり重ねた時の見え方を考えて、矢印の右の四角に鉛筆で線をかきます。

※1. このプリントは、しながわ・目黒こどもスクールのウェブサイトでダウンロードができます。無断複写・引用はご遠慮ください。

※2. このプリントを活用したオンライン授業のスケジュールは、しながわ・目黒こどもスクールのウェブサイトでご確認ください。