

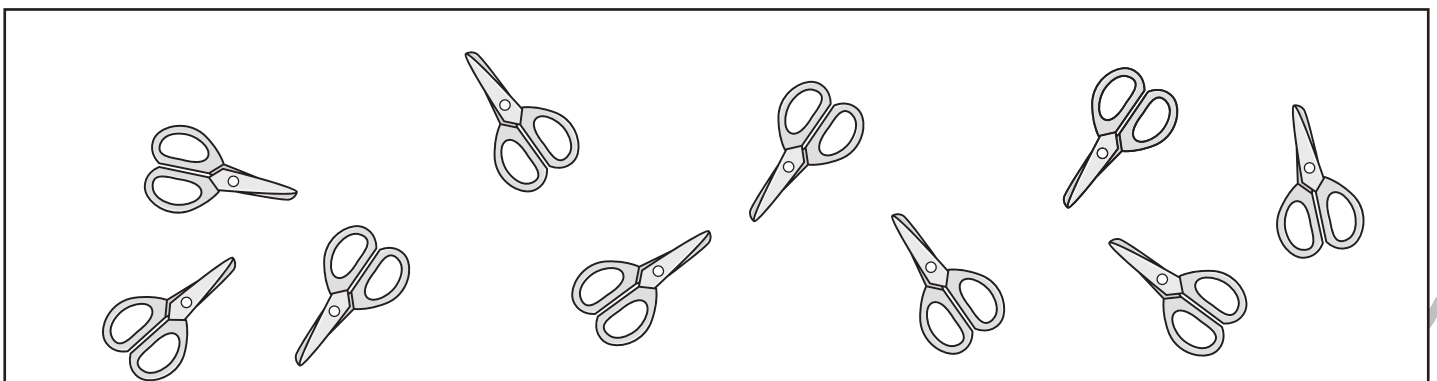
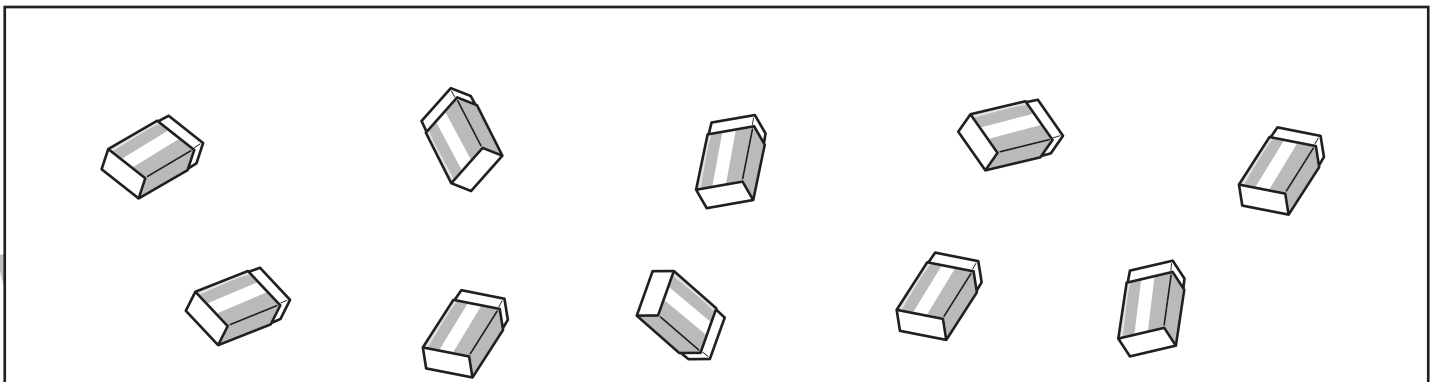




# おうちで、やろう。 年中児版

Study at home. 小学校受験の家庭学習教材

図形：分割2

四角の中の文房具を、ふたりで同じ数になるように分けるとき、ひとり分はいくつになりますか。  
それぞれがもらえる文房具の数だけ四角の中に○をかきます。



※1. このプリントは、しながわ・目黒こどもスクールのウェブサイトからダウンロードできます。無断複写・引用はご遠慮ください。  
※2. このプリントを活用したオンライン授業のスケジュールは、しながわ・目黒こどもスクールのウェブサイトでご確認ください。








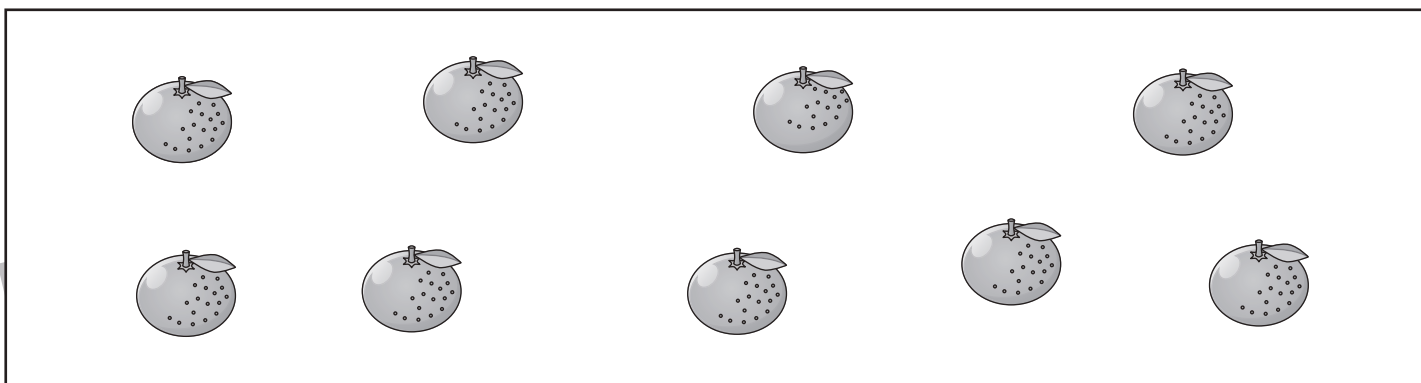


# おうちで、やろう。 年中児版

Study at home. 小学校受験の家庭学習教材

図形：分割3

四角の中のくだものを、さんにんで同じ数になるように分けるとき、ひとり分はいくつになりますか。

それぞれがもらえるくだもの数だけ四角の中に○をかきます。



※1. このプリントは、しながわ・目黒こどもスクールのウェブサイトでダウンロードができます。無断複写・引用はご遠慮ください。

※2. このプリントを活用したオンライン授業のスケジュールは、しながわ・目黒こどもスクールのウェブサイトでご確認ください。





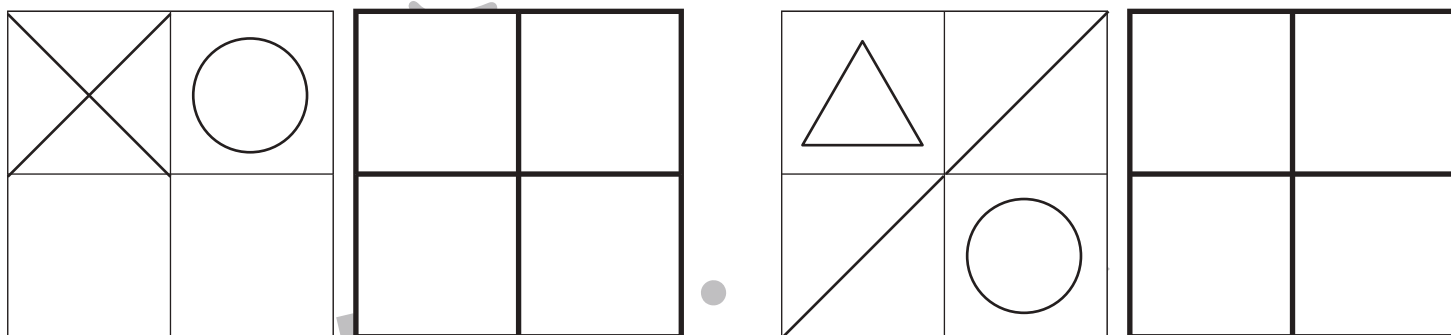
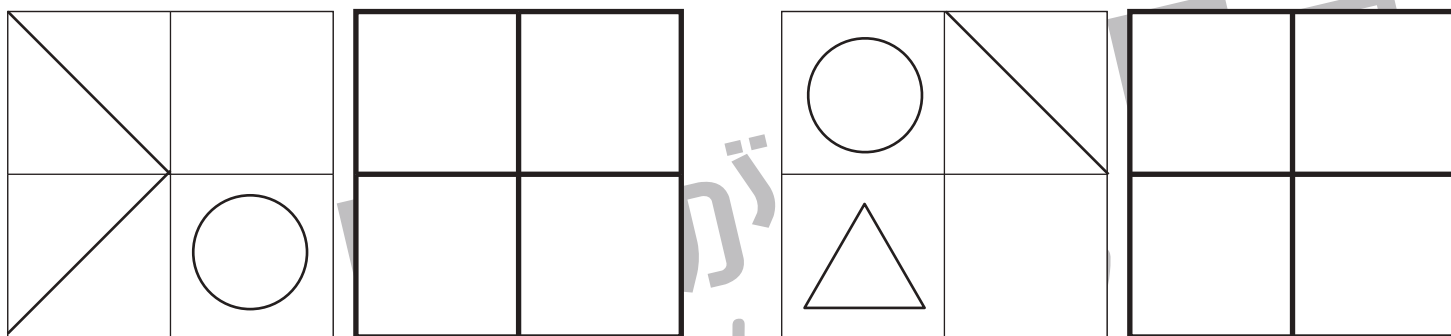


# おうちで、やろう。 年中児版

Study at home. 小学校受験の家庭学習教材

図形：模写3

左のお手本を見ながら、同じ形をかきます。(この問題に解答はありません)



※1. このプリントは、しながわ・目黒こどもスクールのウェブサイトでダウンロードができます。無断複写・引用はご遠慮ください。  
 ※2. このプリントを活用したオンライン授業のスケジュールは、しながわ・目黒こどもスクールのウェブサイトでご確認ください。



# おうちで、やろう。 年中児版

Study at home. 小学校受験の家庭学習教材

図形：模写 4

上のお手本を見ながら、下の四角に同じ線をかきます。(この問題に解答はありません)

The form consists of six horizontal rectangular sections. The top section contains a zigzag line pattern. The second section is empty. The third section contains a wavy line pattern. The fourth section is empty. The fifth section contains a square-wave pattern. The sixth section is empty.

※1. このプリントは、しながわ・目黒こどもスクールのウェブサイトからダウンロードできます。無断複写・引用はご遠慮ください。  
※2. このプリントを活用したオンライン授業のスケジュールは、しながわ・目黒こどもスクールのウェブサイトでご確認ください。


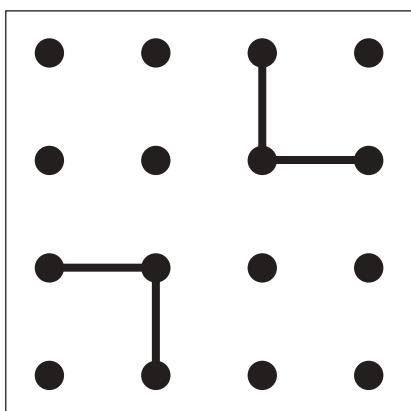
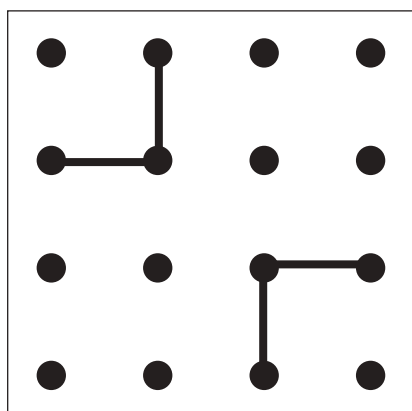

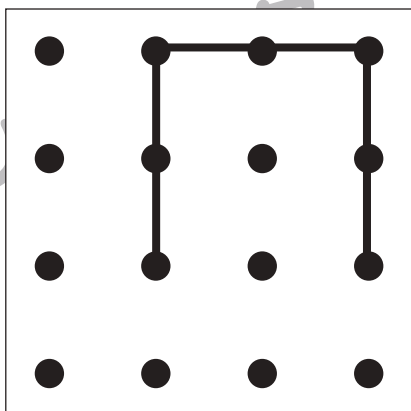
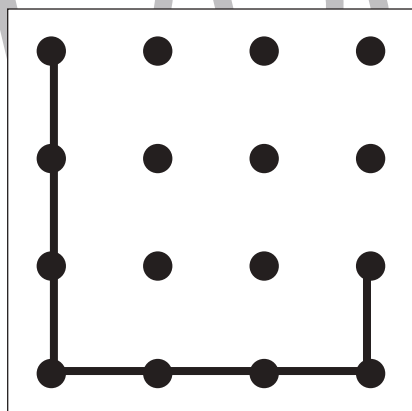

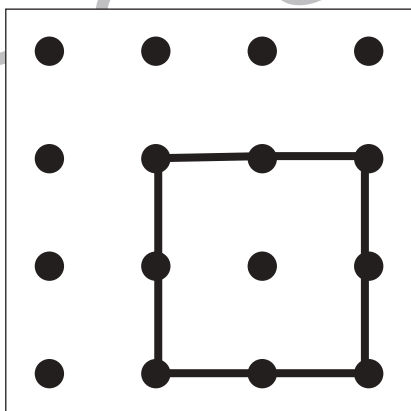
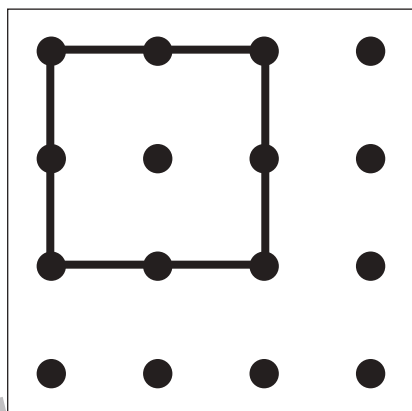

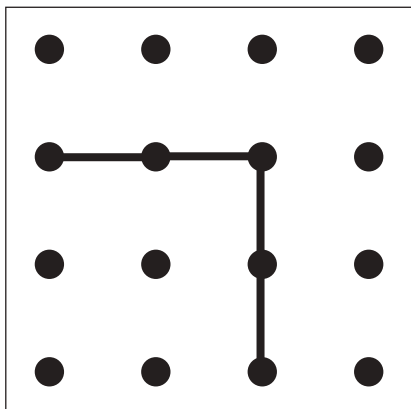
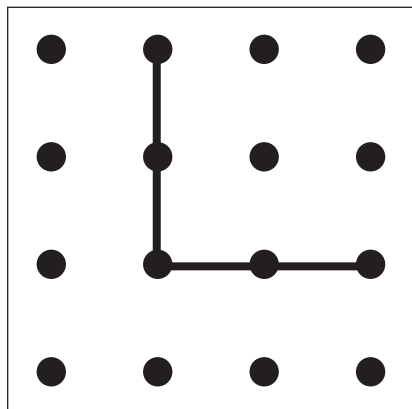


# おうちで、やろう。 年中児版

Study at home. 小学校受験の家庭学習教材

## 図形：重ね点図形3

左にある2つの四角をぴったり重ねた時の見え方を考えて、矢印の右の四角に鉛筆で線をかきます。


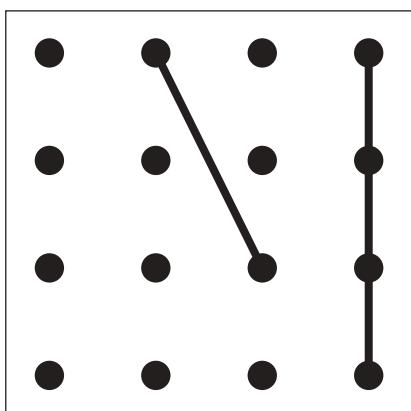
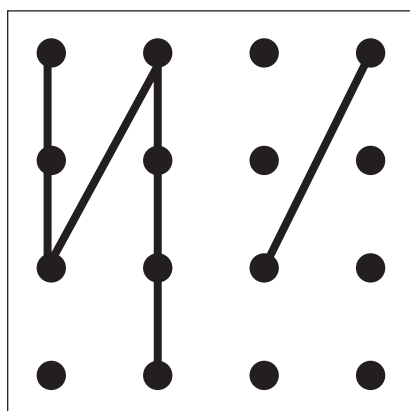

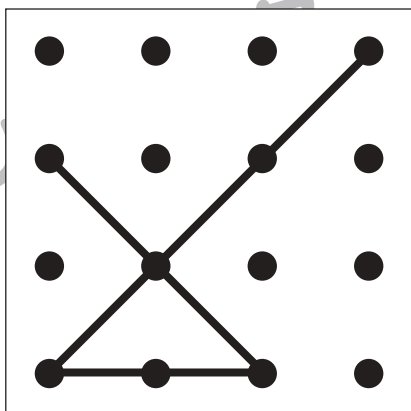
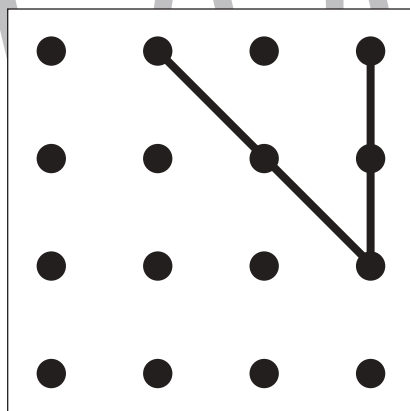

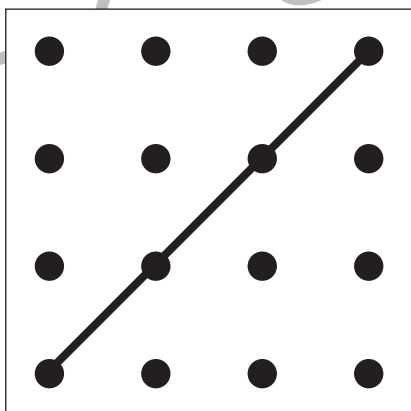


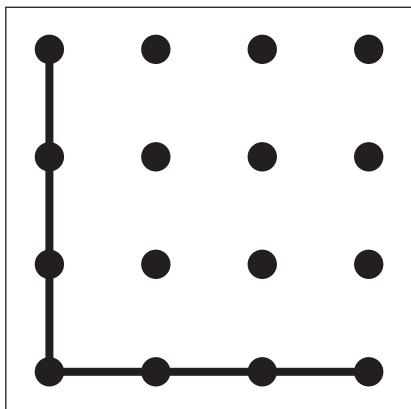
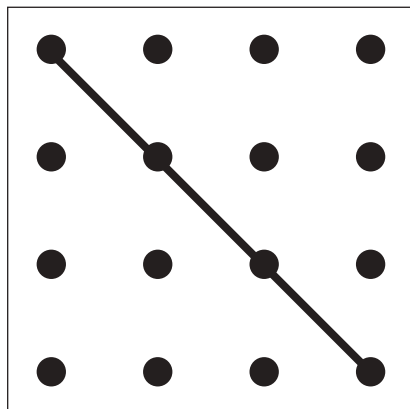


※1. このプリントは、しながわ・目黒こどもスクールのウェブサイトでダウンロードができます。無断複写・引用はご遠慮ください。

※2. このプリントを活用したオンライン授業のスケジュールは、しながわ・目黒こどもスクールのウェブサイトでご確認ください。



左にある2つの四角をぴったり重ねた時の見え方を考えて、矢印の右の四角に鉛筆で線をかきます。



※1. このプリントは、しながわ・目黒こどもスクールのウェブサイトでダウンロードができます。無断複写・引用はご遠慮ください。  
※2. このプリントを活用したオンライン授業のスケジュールは、しながわ・目黒こどもスクールのウェブサイトでご確認ください。





# おうちで、やろう。年中児版

Study at home. 小学校受験の家庭学習教材

## 言語：音の理解 2

- ① 太い四角の中の絵とはじめの音が同じものを全て見つけて○をつけます。
- ② 太い四角の中の絵と終わりの音が同じものを全て見つけて○をつけます。
- ③ 太い四角の中の絵と音の数が同じものを全て見つけて○をつけます。

①

②

③

※1. このプリントは、しながわ・目黒こどもスクールのウェブサイトからダウンロードできます。無断複写・引用はご遠慮ください。  
 ※2. このプリントを活用したオンライン授業のスケジュールは、しながわ・目黒こどもスクールのウェブサイトでご確認ください。



# おうちで、やろう。年中児版

Study at home. 小学校受験の家庭学習教材

## 言語：音の理解 3

- ①太い四角の中の絵とはじめの音が同じものを全て見つけて○をつけます。
- ②太い四角の中の絵と終わりの音が同じものを全て見つけて○をつけます。
- ③太い四角の中の絵と音の数が同じものを全て見つけて○をつけます。

①

②

③

※1. このプリントは、しながわ・目黒こどもスクールのウェブサイトからダウンロードできます。無断複写・引用はご遠慮ください。  
 ※2. このプリントを活用したオンライン授業のスケジュールは、しながわ・目黒こどもスクールのウェブサイトでご確認ください。