




おうちで、やろう。 年中児版

Study at home. 小学校受験の家庭学習教材

図形：分割2

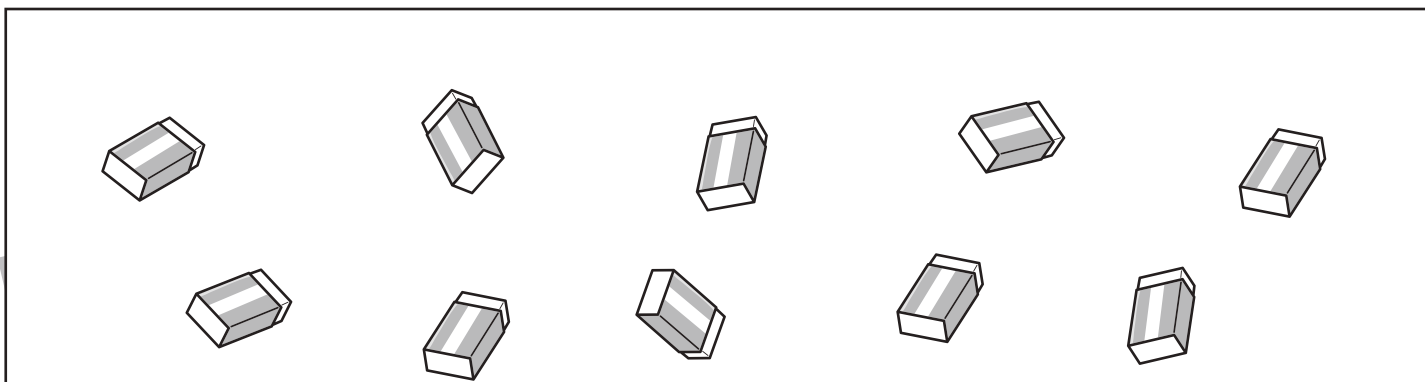
四角の中の文房具を、ふたりで同じ数になるように分けるとき、ひとり分はいくつになりますか。

それぞれがもらえる文房具の数だけ四角の中に○をかきます。



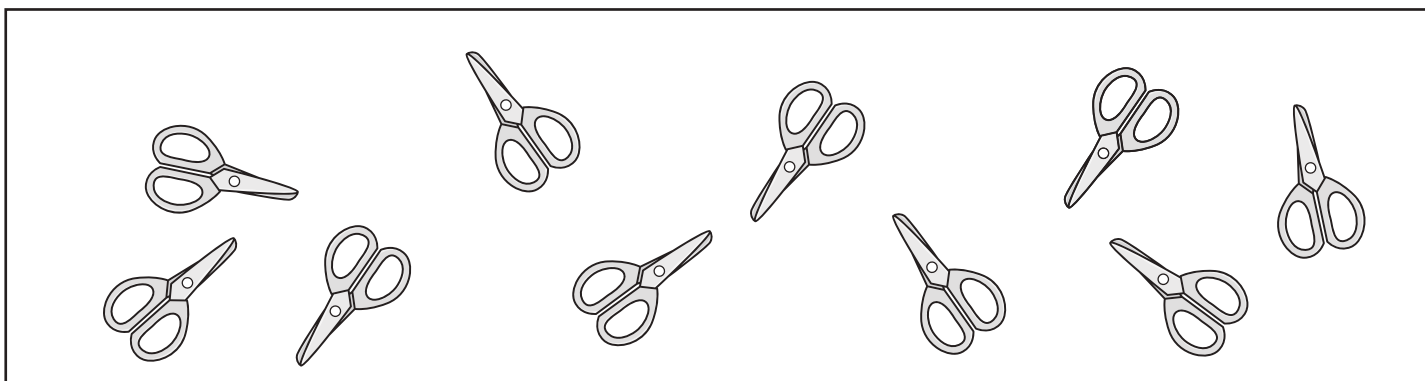
 ○ × 4

 ○ × 4



 ○ × 5

 ○ × 5



 ○ × 5

 ○ × 5

※1. このプリントは、しながわ・目黒こどもスクールのウェブサイトでダウンロードができます。無断複写・引用はご遠慮ください。

※2. このプリントを活用したオンライン授業のスケジュールは、しながわ・目黒こどもスクールのウェブサイトでご確認ください。




おうちで、やろう。 年中児版

Study at home. 小学校受験の家庭学習教材

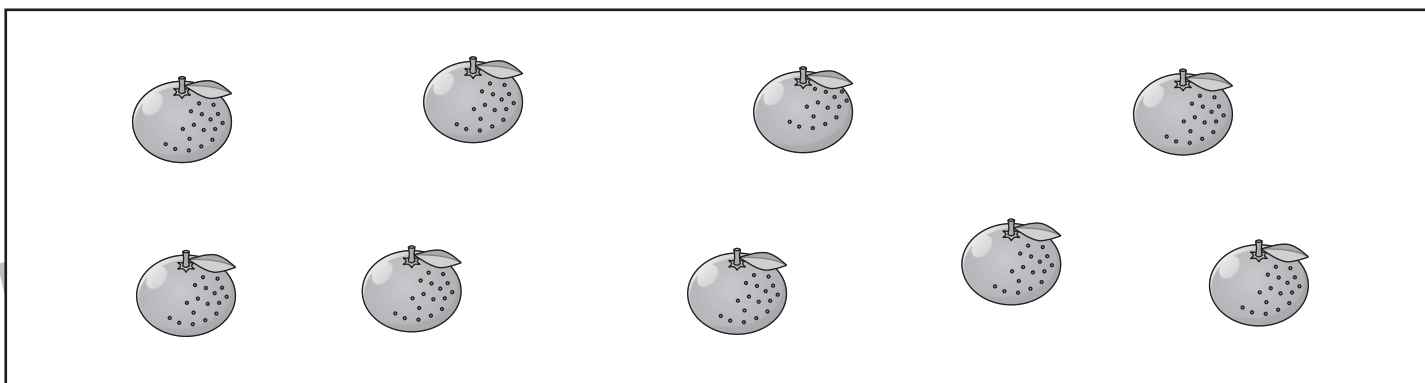
図形：分割3

四角の中のくだものを、さんいんで同じ数になるように分けるとき、ひとり分はいくつになりますか。


それぞれがもらえるくだもの数だけ四角の中に○をかきます。



 ○ × 2	 ○ × 2	 ○ × 2
---	---	---



 ○ × 3	 ○ × 3	 ○ × 3
---	---	---



 ○ × 4	 ○ × 4	 ○ × 4
---	---	---

※1. このプリントは、しながわ・目黒こどもスクールのウェブサイトでダウンロードができます。無断複写・引用はご遠慮ください。

※2. このプリントを活用したオンライン授業のスケジュールは、しながわ・目黒こどもスクールのウェブサイトでご確認ください。

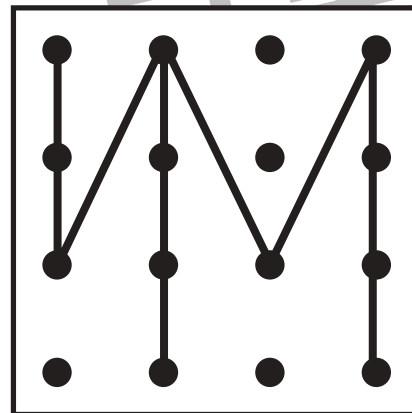
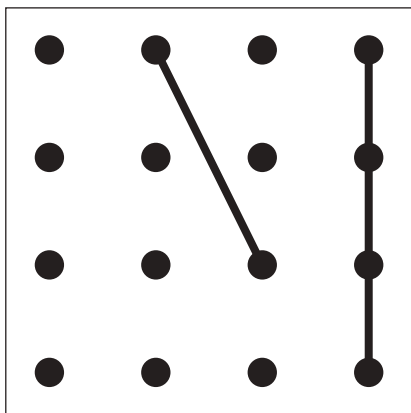
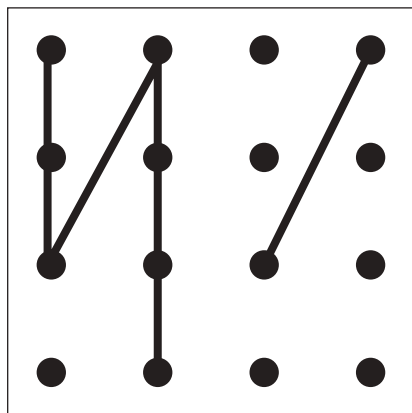
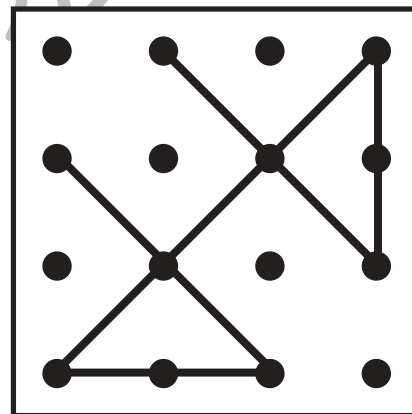
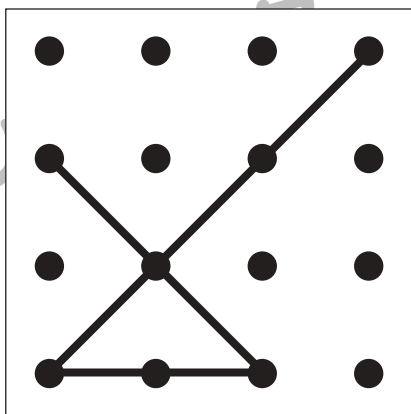
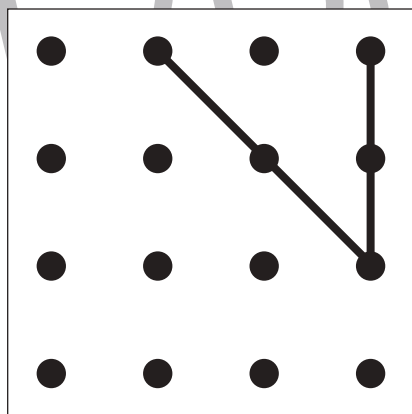
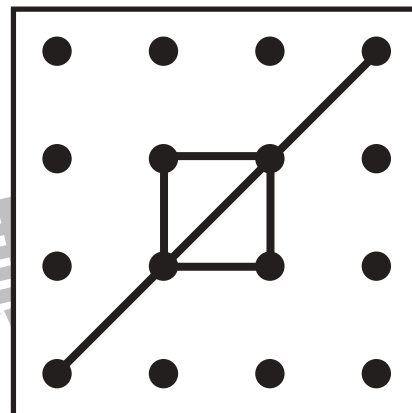
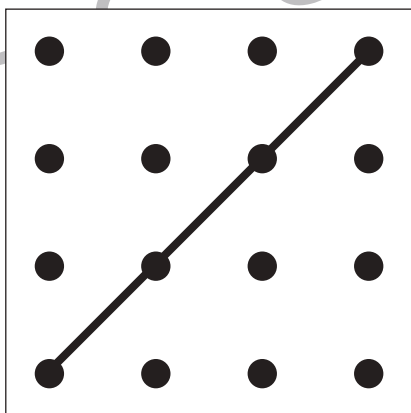

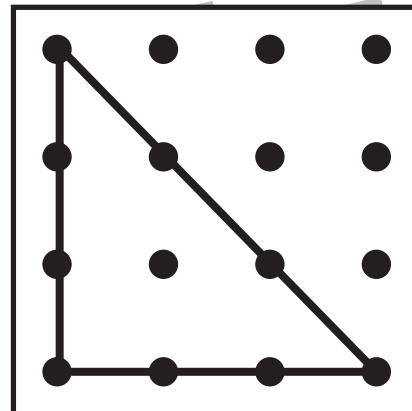
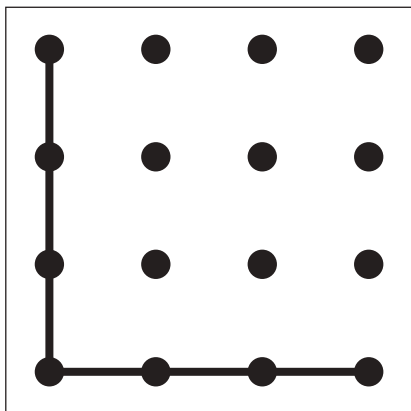
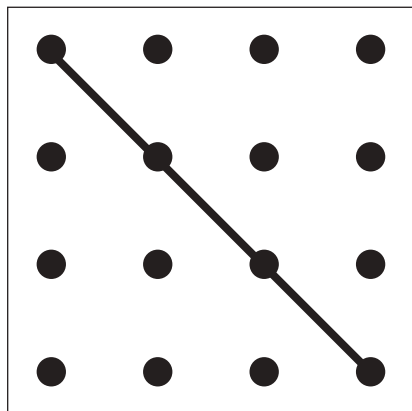


左にある2つの四角をぴったり重ねた時の見え方を考えて、矢印の右の四角に鉛筆で線をかきます。

※1. このプリントは、しながわ・目黒こどもスクールのウェブサイトでダウンロードができます。無断複写・引用はご遠慮ください。
 ※2. このプリントを活用したオンライン授業のスケジュールは、しながわ・目黒こどもスクールのウェブサイトでご確認ください。



左にある2つの四角をぴったり重ねた時の見え方を考えて、矢印の右の四角に鉛筆で線をかきます。



※1. このプリントは、しながわ・目黒こどもスクールのウェブサイトでダウンロードができます。無断複写・引用はご遠慮ください。

※2. このプリントを活用したオンライン授業のスケジュールは、しながわ・目黒こどもスクールのウェブサイトでご確認ください。





おうちで、やろう。年中児版

Study at home. 小学校受験の家庭学習教材

言語：音の理解 2

- ① 太い四角の中の絵とはじめの音が同じものを全て見つけて○をつけます。
- ② 太い四角の中の絵と終わりの音が同じものを全て見つけて○をつけます。
- ③ 太い四角の中の絵と音の数が同じものを全て見つけて○をつけます。

①

②

③

※1. このプリントは、しながわ・目黒こどもスクールのウェブサイトからダウンロードできます。無断複写・引用はご遠慮ください。
 ※2. このプリントを活用したオンライン授業のスケジュールは、しながわ・目黒こどもスクールのウェブサイトでご確認ください。



おうちで、やろう。年中児版

Study at home. 小学校受験の家庭学習教材

言語：音の理解 3

- ①太い四角の中の絵とはじめの音が同じものを全て見つけて○をつけます。
- ②太い四角の中の絵と終わりの音が同じものを全て見つけて○をつけます。
- ③太い四角の中の絵と音の数が同じものを全て見つけて○をつけます。

①

②

③

※1. このプリントは、しながわ・目黒こどもスクールのウェブサイトからダウンロードできます。無断複写・引用はご遠慮ください。
 ※2. このプリントを活用したオンライン授業のスケジュールは、しながわ・目黒こどもスクールのウェブサイトでご確認ください。