







おうちで、やろう。 年中児版

Study at home. 小学校受験の家庭学習教材

推理：なぞなぞ6

- ①～④のなぞなぞをといて、答えに○をつけましょう。
- ①いつも まんとをつけて わらっている どうぶつは なんでしょう。
- ②たべると あんしんする ケーキは なんでしょう。
- ③かきはかきでも かじのときに やくにたつ かきは なんでしょう。
- ④てがみが だいこうぶつの あかいものは なんでしょう。



※1. このプリントは、しながわ・目黒こどもスクールのウェブサイトからダウンロードできます。無断複写・引用はご遠慮ください。
 ※2. このプリントを活用したオンライン授業のスケジュールは、しながわ・目黒こどもスクールのウェブサイトでご確認ください。





おうちで、やろう。 年中児版


Study at home. 小学校受験の家庭学習教材


図形：移動 1

パンダが上の四角の中に並んだ矢印の方向へマス目を1マスずつ移動していき、最後に着いたマス目を青のクーピーで塗ります。矢印は左から順番に見ていきます。

↓ ← ↓ → → ↑ ↑				
			青	

↑ ↑ → ↑ ← ← ↓				
	青			
				

↘ → ↓ ↓ ← ↓ →				
				
			青	

← ← ↑ ↖ ↓ ↓ ↘				
				
	青			

※1. このプリントは、しながわ・目黒こどもスクールのウェブサイトでダウンロードができます。無断複写・引用はご遠慮ください。
※2. このプリントを活用したオンライン授業のスケジュールは、しながわ・目黒こどもスクールのウェブサイトでご確認ください。





おうちで、やろう。 年中児版


Study at home. 小学校受験の家庭学習教材


図形：移動2

うさぎが上の四角の中に並んだ矢印の方向へマスを1マスずつ移動していき、最後に着いたマスを青のクーピーで塗ります。
矢印は左から順番に見ていきます。

↓ ↓ → ↓ ↘ ↑ ↘				
				
			青	

↑ ↗ → ↑ ↑ ↗ ↓				
			青	
				

↘ → ↓ ↓ ↗ ↓ →				
				
				青

↗ ← ↑ ↖ ↓ ↓ ←				
		青		
				

※1. このプリントは、しながわ・目黒こどもスクールのウェブサイトでダウンロードができます。無断複写・引用はご遠慮ください。
 ※2. このプリントを活用したオンライン授業のスケジュールは、しながわ・目黒こどもスクールのウェブサイトでご確認ください。



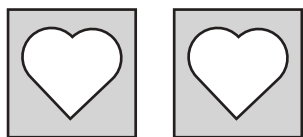
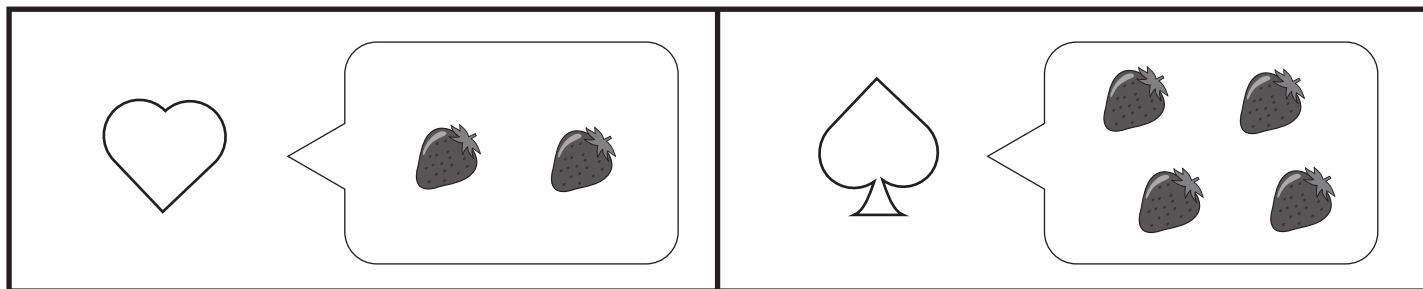


おうちで、やろう。年中児版


Study at home. 小学校受験の家庭学習教材

数量：数の推理 1

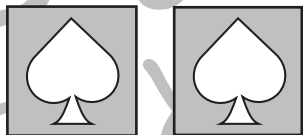
上の四角がお約束です。それぞれの箱には右の吹き出しの中の数だけイチゴが入っています。このとき、下の左にある箱の中のイチゴを合わせると全部でいくつになりますか。その数だけ右の四角に○をかきます。




$$\bigcirc \times 4$$




$$\bigcirc \times 6$$



$$\bigcirc \times 8$$



$$\bigcirc \times 8$$



$$\bigcirc \times 12$$

※1. このプリントは、しながわ・目黒こどもスクールのウェブサイトでダウンロードができます。無断複写・引用はご遠慮ください。

※2. このプリントを活用したオンライン授業のスケジュールは、しながわ・目黒こどもスクールのウェブサイトでご確認ください。



おうちで、やろう。年中児版 推理：まちがいさがし6

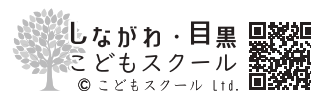
Study at home. 小学校受験の家庭学習教材

上下の絵を見比べて、変わっているところを5つ探します。見つけたら、下の絵の変わっている部分に丸をつけます。



ICT教育の小学校受験

※1. このプリントは、しながわ・目黒こどもスクールのウェブサイトでダウンロードができます。無断複写・引用はご遠慮ください。
※2. このプリントを活用したオンライン授業のスケジュールは、しながわ・目黒こどもスクールのウェブサイトでご確認ください。






おうちで、やろう。年中児版

Study at home. 小学校受験の家庭学習教材

常識：生物 1




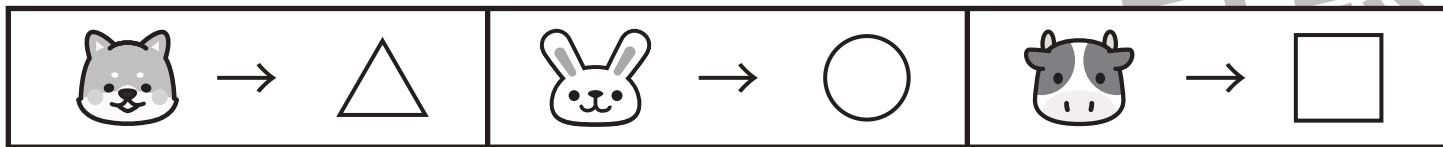
左側は大人の姿で、右側は子どもときの姿です。正しい組み合わせになるように点と点を線で結びます。



※1. このプリントは、しながわ・目黒こどもスクールのウェブサイトでダウンロードができます。無断複写・引用はご遠慮ください。
※2. このプリントを活用したオンライン授業のスケジュールは、しながわ・目黒こどもスクールのウェブサイトでご確認ください。



上の太い四角の中が約束です。四角の中の絵がいぬの時は△、うさぎの時は○、うしの時は□に置き換えて下の四角にそれぞれの記号を鉛筆で描きます。左上から矢印の方向へ進み、右端まできたら次の段の左から右へと順番に進みます。



※1. このプリントは、しながわ・目黒こどもスクールのウェブサイトでダウンロードができます。無断複写・引用はご遠慮ください。
 ※2. このプリントを活用したオンライン授業のスケジュールは、しながわ・目黒こどもスクールのウェブサイトでご確認ください。