








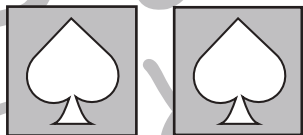

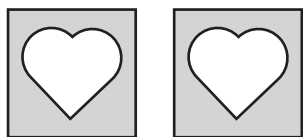
おうちで、やろう。年中児版

Study at home. 小学校受験の家庭学習教材

数量：数の推理 2

上の四角がお約束です。それぞれの箱には右の吹き出しの中の数だけイチゴが入っています。このとき、下の左にある箱の中のイチゴを合わせると全部でいくつになりますか。その数だけ右の四角に○をかきます。

 	 
---	--



※1. このプリントは、しながわ・目黒こどもスクールのウェブサイトでダウンロードができます。無断複写・引用はご遠慮ください。
 ※2. このプリントを活用したオンライン授業のスケジュールは、しながわ・目黒こどもスクールのウェブサイトでご確認ください。




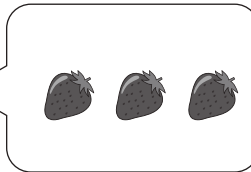






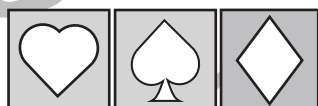
おうちで、やろう。 年中児版

Study at home. 小学校受験の家庭学習教材

数量：数の推理 3

上の四角がお約束です。それぞれの箱には右の吹き出しの中の数だけイチゴが入っています。このとき、下の左にある箱の中のイチゴを合わせると全部でいくつになりますか。その数だけ右の四角に○をかきます。

 	 	 
---	--	---



※1. このプリントは、しながわ・目黒こどもスクールのウェブサイトでダウンロードができます。無断複写・引用はご遠慮ください。

※2. このプリントを活用したオンライン授業のスケジュールは、しながわ・目黒こどもスクールのウェブサイトでご確認ください。





おうちで、やろう。 年中児版


Study at home. 小学校受験の家庭学習教材


図形：移動 3

うさぎが上の四角の中に並んだ矢印の方向へマス目を1マスずつ移動していきます。最後に着くマスを考えて、そのマスに○をかきます。矢印は左から順番に見ていきます。

↖ ↓ ↖ ↑ ← ↑ ↑				
				

↑ ↖ ↓ ↓ ← ↖ ↓				
				

↘ → ↓ ↓ ↗ ↓ →				
				

→ ↑ ↑ ↘ ↓ → ↙				
				

※1. このプリントは、しながわ・目黒こどもスクールのウェブサイトでダウンロードができます。無断複写・引用はご遠慮ください。
※2. このプリントを活用したオンライン授業のスケジュールは、しながわ・目黒こどもスクールのウェブサイトでご確認ください。



おうちで、やろう。 年中児版

Study at home. 小学校受験の家庭学習教材

図形：移動 4

うさぎが上の四角の中に並んだ矢印の方向へマス目を1マスずつ移動していきます。最後に着くマスを考えて、そのマスに○をかきます。矢印は左から順番に見ていきます。

↓ ↗ ↓ ↓ ↗ ↑ ↗ ↗				
🐰				

↙ ↙ ↓ ↙ ↑ ↑ ↙ ↑				
				🐰

↘ ← ↘ ← ↘ ← →				
	🐰			

→ → ← ↗ ↘ ↘ ↗				
🐰				

※1. このプリントは、しながわ・目黒こどもスクールのウェブサイトでダウンロードができます。無断複写・引用はご遠慮ください。
 ※2. このプリントを活用したオンライン授業のスケジュールは、しながわ・目黒こどもスクールのウェブサイトでご確認ください。



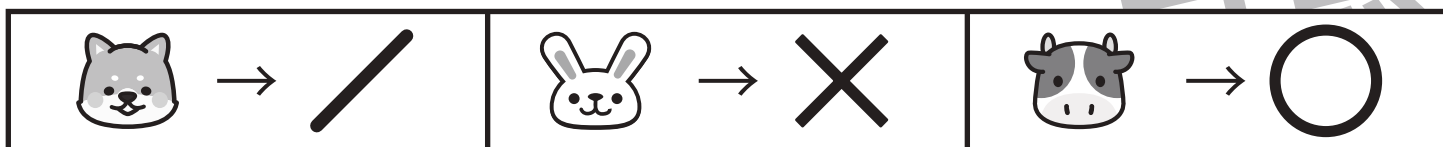


おうちで、やろう。 年中児版

Study at home. 小学校受験の家庭学習教材

処理能力：置き換え2

上の太い四角の中がお約束です。下の四角にそれぞれの記号を鉛筆で描きます。左上から矢印の方向へ進み、右端まできたら次の段の左から右へと順番に進みます。



※1. このプリントは、しながわ・目黒こどもスクールのウェブサイトでダウンロードができます。無断複写・引用はご遠慮ください。
 ※2. このプリントを活用したオンライン授業のスケジュールは、しながわ・目黒こどもスクールのウェブサイトでご確認ください。

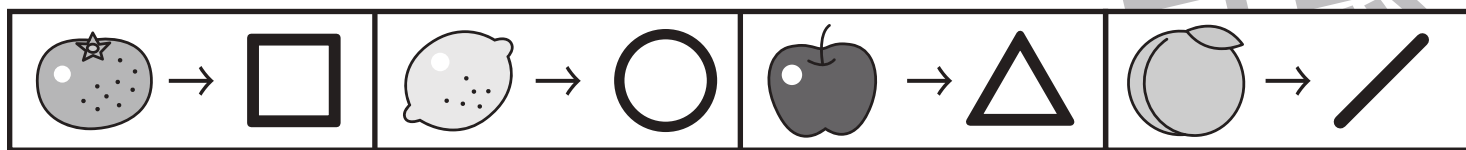








おうちで、やろう。 年中児版







Study at home. 小学校受験の家庭学習教材







処理能力：置き換え 3

上の太い四角の中がお約束です。下の四角にそれぞれの記号を鉛筆で描きます。左上から矢印の方向へ進み、右端まできたら次の段の左から右へと順番に進みます。



※1. このプリントは、しながわ・目黒こどもスクールのウェブサイトでダウンロードができます。無断複写・引用はご遠慮ください。
 ※2. このプリントを活用したオンライン授業のスケジュールは、しながわ・目黒こどもスクールのウェブサイトでご確認ください。



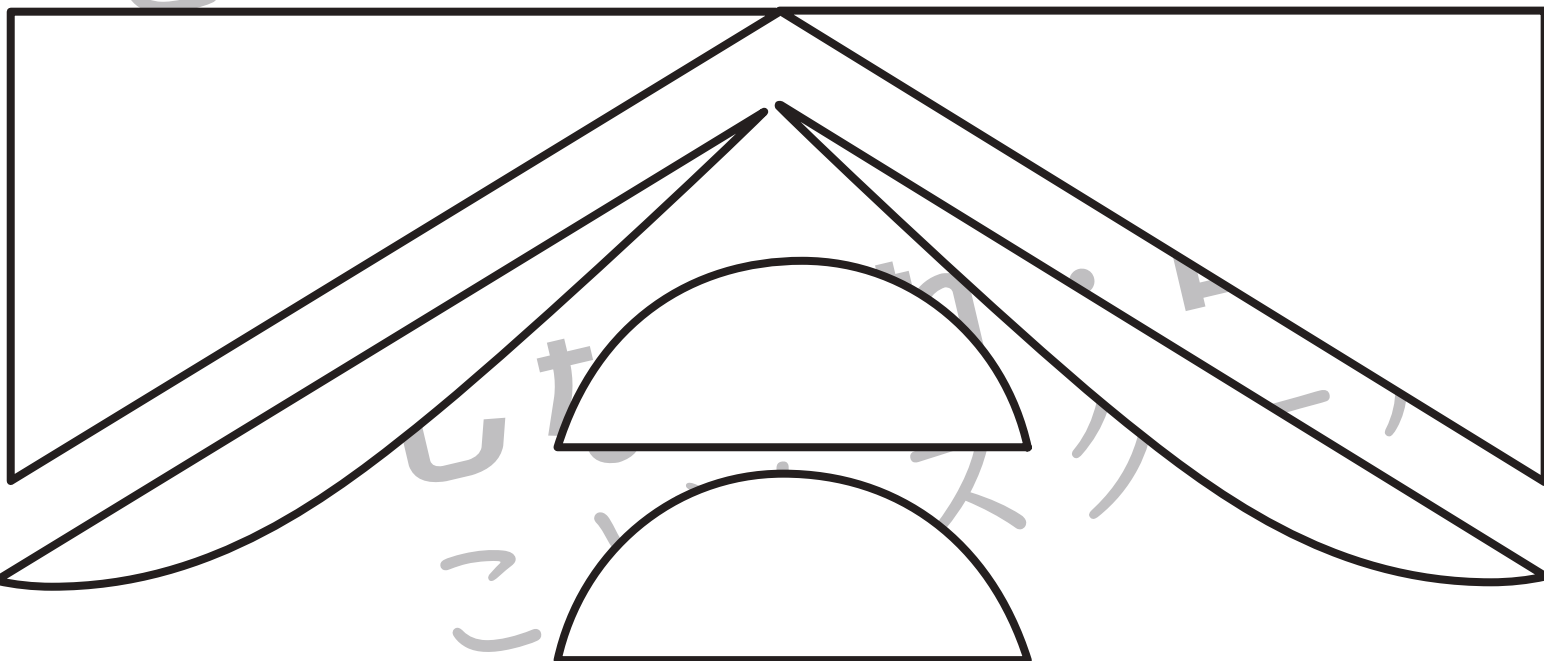
おうちで、やろう。 年中児版

Study at home. 小学校受験の家庭学習教材

図形：構成3

【このプリントはハサミを使用します】

- ①プリントを点線で切ります。
- ②切り離れた下のプリントにかいてある形を、さらに線で切ります。
- ③上の心の中に、②でつくった形を隙間ができないように並べます。



※1. このプリントは、しながわ・目黒こどもスクールのウェブサイトからダウンロードできます。無断複写・引用はご遠慮ください。
※2. このプリントを活用したオンライン授業のスケジュールは、しながわ・目黒こどもスクールのウェブサイトでご確認ください。





おうちで、やろう。年中児版

Study at home. 小学校受験の家庭学習教材

図形：構成 4

【このプリントはハサミを使用します】

- ①プリントを点線で切ります。
- ②切り離れた下のプリントにかいてある形を、さらに線で切ります。
- ③上の形の中に、②でつくった形を少し重なるように並べます。(この問題に解答はありません)



※1. このプリントは、しながわ・目黒こどもスクールのウェブサイトでダウンロードができます。無断複写・引用はご遠慮ください。
※2. このプリントを活用したオンライン授業のスケジュールは、しながわ・目黒こどもスクールのウェブサイトでご確認ください。

