



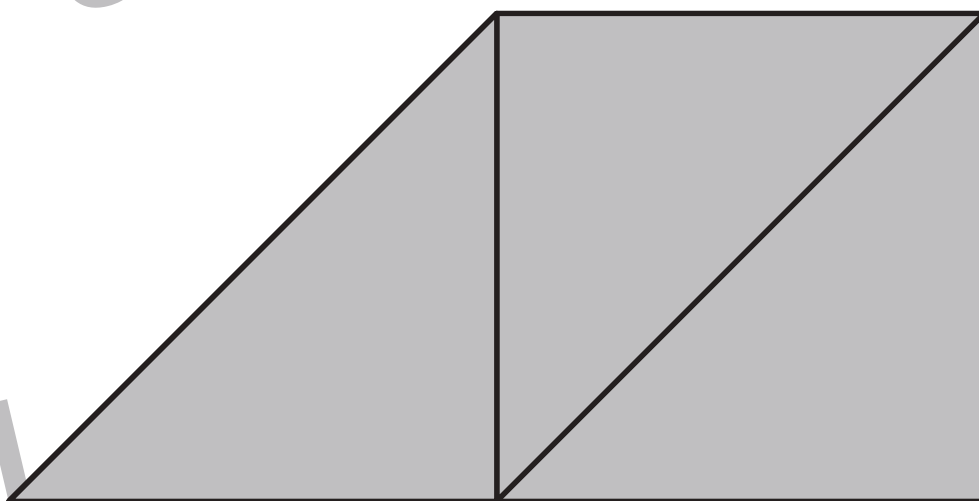
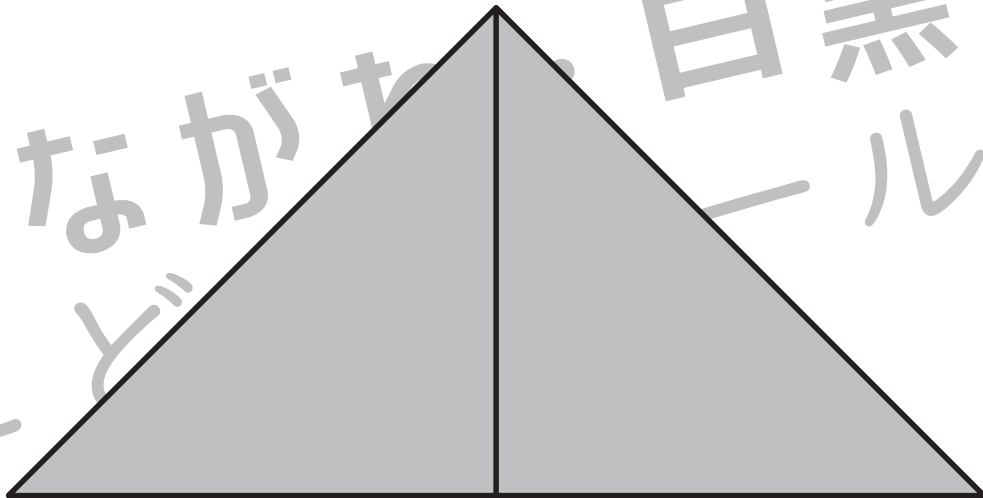
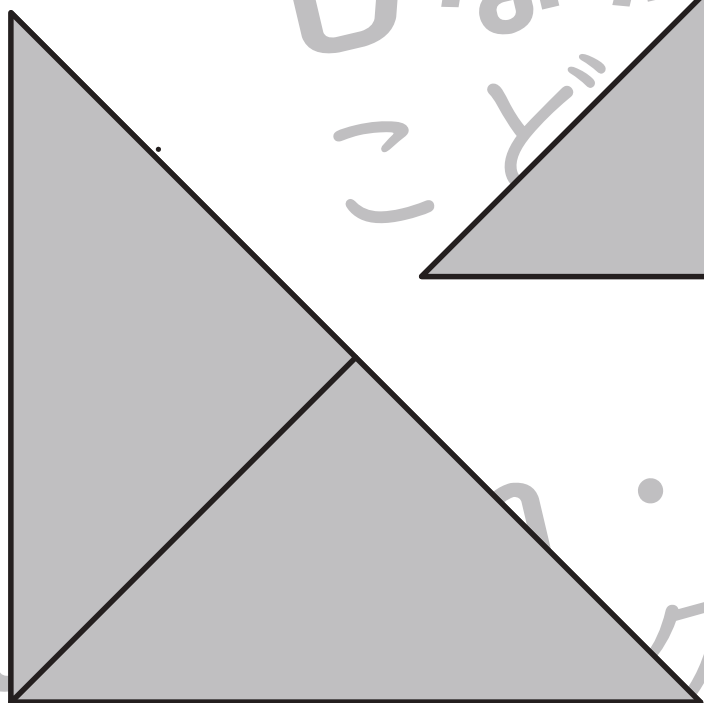
おうちで、やろう。

Study at home. 小学校受験の家庭学習教材

図形：三角パズル 7-2

※別紙「図形：三角パズル 7-1」の三角パズルを用意してください。
下の形を自分で作った三角パズルで作ります。形ができたらのりで貼り付けましょう。

解答は一例です。
他の置き方でも正解となります。



※1. このプリントは、しながわ・目黒こどもスクールのウェブサイトでダウンロードができます。無断複写・引用はご遠慮ください。
※2. このプリントを活用したオンライン授業のスケジュールは、しながわ・目黒こどもスクールのウェブサイトでご確認ください。



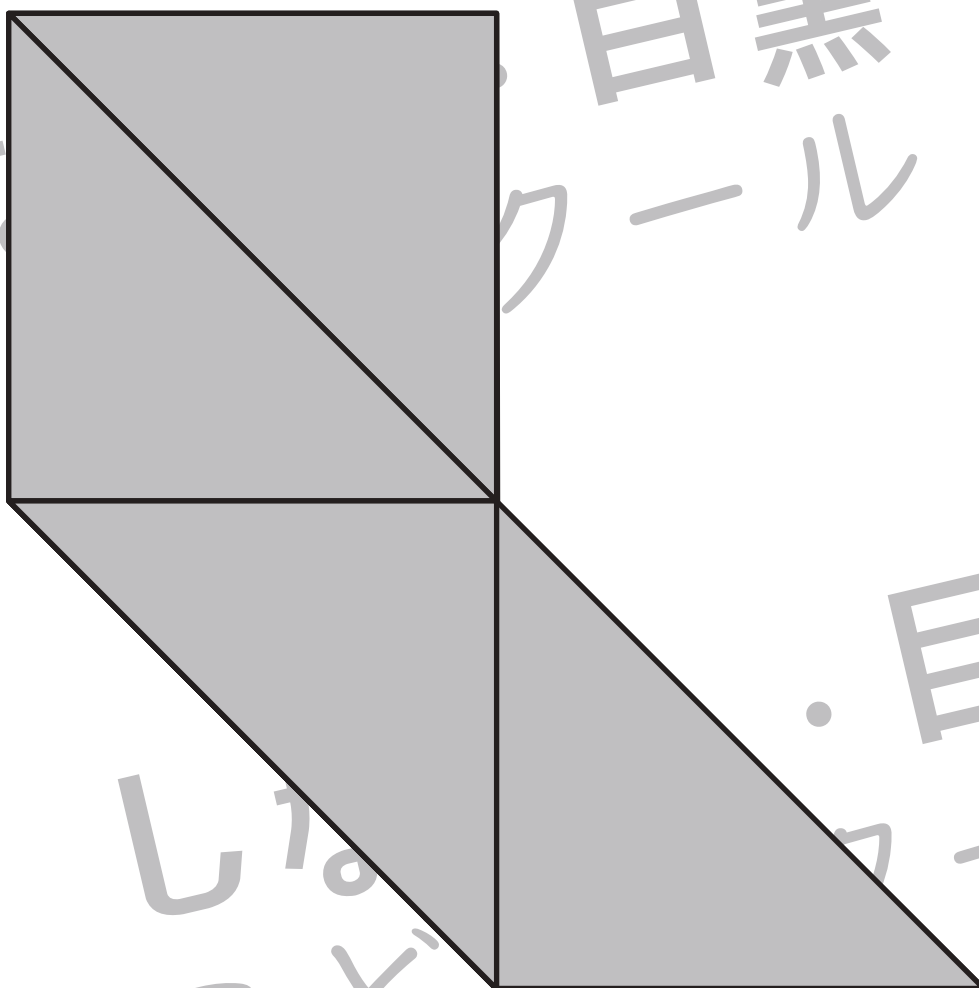
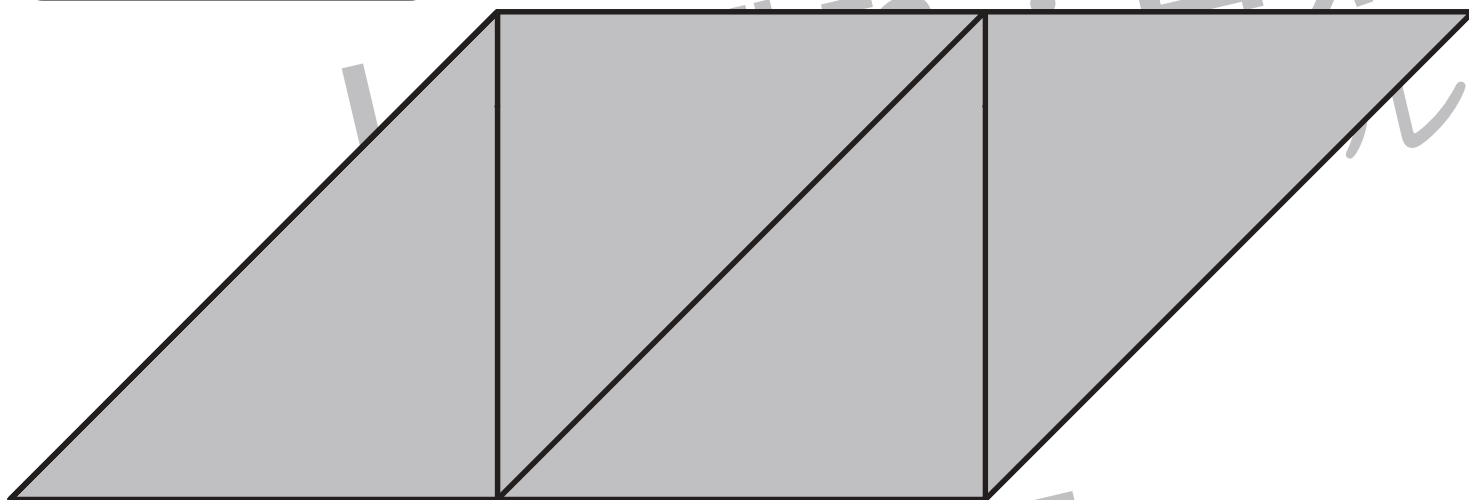
おうちで、やろう。

Study at home. 小学校受験の家庭学習教材

図形：三角パズル 7-3

※別紙「図形：三角パズル 7-1」の三角パズルを用意してください。
下の形を自分で作った三角パズルで作ります。形ができたらのりで貼り付けましょう。

解答は一例です。
他の置き方でも正解となります。



※1. このプリントは、しながわ・目黒こどもスクールのウェブサイトでダウンロードができます。無断複写・引用はご遠慮ください。
※2. このプリントを活用したオンライン授業のスケジュールは、しながわ・目黒こどもスクールのウェブサイトでご確認ください。



おうちで、やろう。

Study at home. 小学校受験の家庭学習教材

図形：折り重ね 26

真ん中の太い線で折り重ねたときの見え方を考えます。このとき黒のマスに隠れないで見えている○を見つけて、下の四角に○をかきます。

※1. このプリントは、しながわ・目黒こどもスクールのウェブサイトでダウンロードができます。無断複写・引用はご遠慮ください。
 ※2. このプリントを活用したオンライン授業のスケジュールは、しながわ・目黒こどもスクールのウェブサイトでご確認ください。



おうちで、やろう。

Study at home. 小学校受験の家庭学習教材

図形：折り重ね 27

真ん中の太い線で折り重ねたときの見え方を考えます。このとき黒のマスの隠れないで見えている○を見つけて、下の四角に○をかきます。

※1. このプリントは、しながわ・目黒こどもスクールのウェブサイトでダウンロードができます。無断複写・引用はご遠慮ください。

※2. このプリントを活用したオンライン授業のスケジュールは、しながわ・目黒こどもスクールのウェブサイトでご確認ください。



おうちで、やろう。

Study at home. 小学校受験の家庭学習教材

図形：折り重ね 28

真ん中の太い線で折り重ねたときの見え方を考えます。このとき黒のマスの隠れないで見えている○を見つけて、下の四角に○をかきます。

※1. このプリントは、しながわ・目黒こどもスクールのウェブサイトでダウンロードができます。無断複写・引用はご遠慮ください。
※2. このプリントを活用したオンライン授業のスケジュールは、しながわ・目黒こどもスクールのウェブサイトでご確認ください。



おうちで、やろう。

Study at home. 小学校受験の家庭学習教材

数量：サイコロ7

左の太い四角の中の3つのサイコロの目を合わせると8になります。このとき、？マークのサイコロの目はいくつですか。右の中から選び○をつけます。

--	--	--	--	--

--	--	--	--	--

--	--	--	--	--

--	--	--	--	--

--	--	--	--	--

※1. このプリントは、しながわ・目黒こどもスクールのウェブサイトでダウンロードができます。無断複写・引用はご遠慮ください。
 ※2. このプリントを活用したオンライン授業のスケジュールは、しながわ・目黒こどもスクールのウェブサイトでご確認ください。



おうちで、やろう。

Study at home. 小学校受験の家庭学習教材

数量：サイコロ8

左の太い四角の中の3つのサイコロの目を合わせると10になります。このとき、？マークのサイコロの目はいくつですか。
右の中から選び○をつけます。

※1. このプリントは、しながわ・目黒こどもスクールのウェブサイトでダウンロードができます。無断複写・引用はご遠慮ください。

※2. このプリントを活用したオンライン授業のスケジュールは、しながわ・目黒こどもスクールのウェブサイトでご確認ください。



おうちで、やろう。

Study at home. 小学校受験の家庭学習教材

数量：サイコロ9

左の太い四角の中の3つのサイコロの目を合わせると12になります。このとき、？マークのサイコロの目はいくつですか。
右の中から選び○をつけます。

--	--	--	--

--	--	--	--

--	--	--	--

--	--	--	--

--	--	--	--

※1. このプリントは、しながわ・目黒こどもスクールのウェブサイトでダウンロードができます。無断複写・引用はご遠慮ください。
 ※2. このプリントを活用したオンライン授業のスケジュールは、しながわ・目黒こどもスクールのウェブサイトでご確認ください。