



おうちで、やろう。

Study at home. 小学校受験の家庭学習教材

指示の聞き取り 14

マンションに動物たちが住んでいます。指示は1度ですべて読み上げます。しっかり聞いて、問題に答えましょう。

- ①一番上の階の右から3番目の部屋に住んでいる動物に緑のクーピーで○をかきます。
- ②4階の左から2番目の部屋に住んでいる動物にオレンジ色のクーピーで○をかきます。
- ③3階の左から4番目の部屋に住んでいる動物に青のクーピーで△をかきます。
- ④一番下の階の右から2番目の部屋に住んでいる動物に桃色のクーピーで△をかきます。
- ⑤4階の右から2番目の部屋に住んでいる動物に茶色のクーピーで△をかきます。



※1. このプリントは、しながわ・目黒こどもスクールのウェブサイトでダウンロードができます。無断複写・引用はご遠慮ください。
 ※2. このプリントを活用したオンライン授業のスケジュールは、しながわ・目黒こどもスクールのウェブサイトでご確認ください。






おうちで、やろう。

Study at home. 小学校受験の家庭学習教材

言語：言葉 3

それぞれの問題の言葉に合う絵を選んで○をつけます。

①「ぴよんぴよん」という言葉に合う絵に○をつけます。 ②「はらはら」という言葉に合う絵に○をつけます。 ③「ゴーンゴーン」という言葉に合う絵に○をつけます。 ④「ふわふわ」という言葉に合う絵に○をつけます。 ⑤「ザーザー」という言葉に合う絵に○をつけます。



※1. このプリントは、しながわ・目黒こどもスクールのウェブサイトからダウンロードできます。無断複写・引用はご遠慮ください。
 ※2. このプリントを活用したオンライン授業のスケジュールは、しながわ・目黒こどもスクールのウェブサイトでご確認ください。


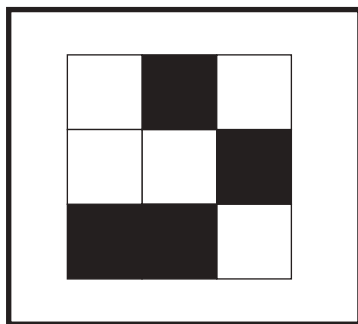
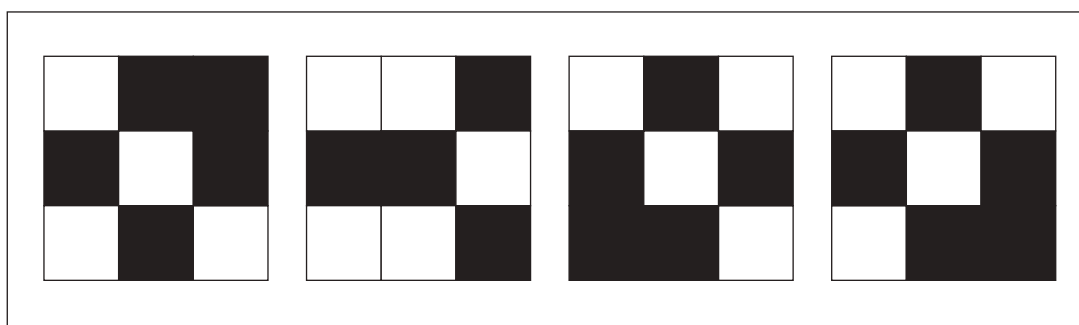


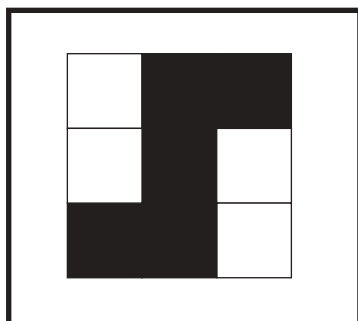
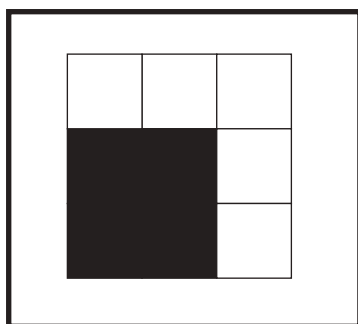
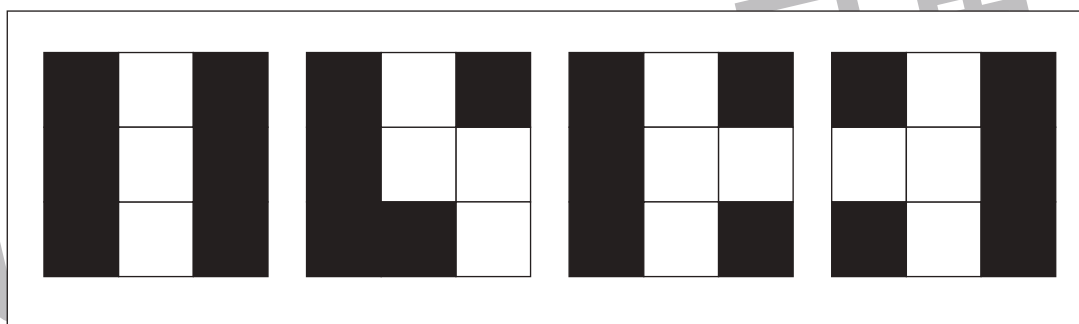



おうちで、やろう。

Study at home. 小学校受験の家庭学習教材

図形：置き換え8

左の四角の中がお手本の形です。このお手本の黒い四角を白い四角にかえます。白い四角は黒い四角にかえます。この約束で色をかえたとき、正しいものを右の4つの中から選んで○をつけます。



※1. このプリントは、しながわ・目黒こどもスクールのウェブサイトでダウンロードができます。無断複写・引用はご遠慮ください。

※2. このプリントを活用したオンライン授業のスケジュールは、しながわ・目黒こどもスクールのウェブサイトでご確認ください。

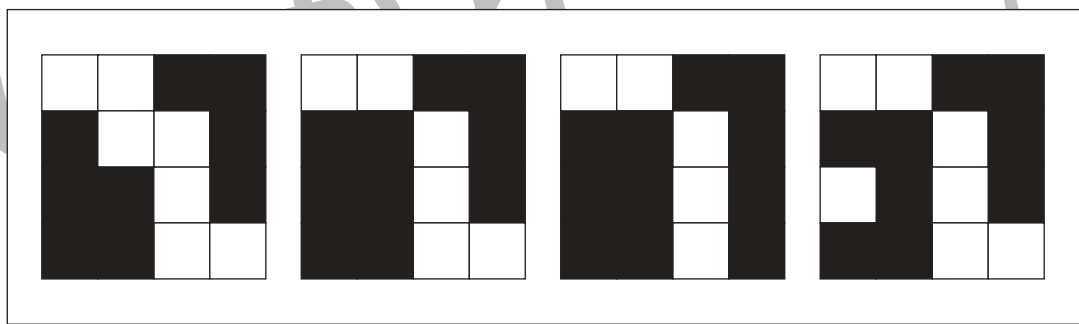

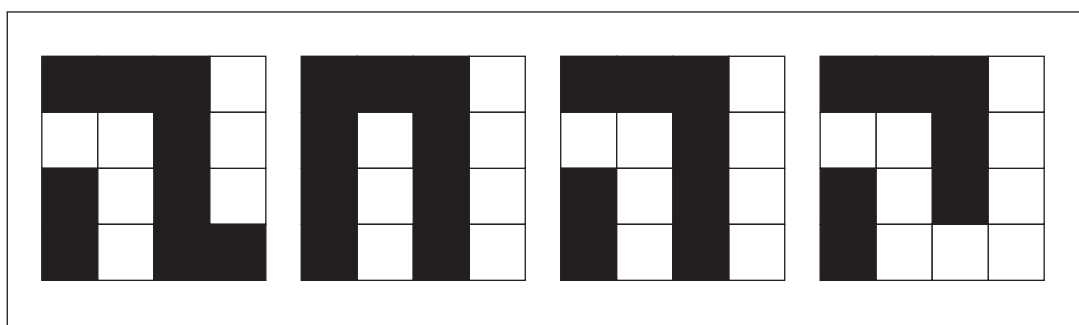

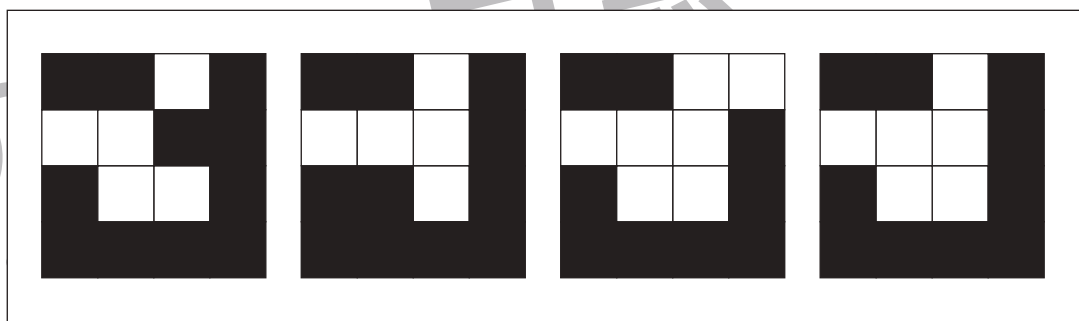
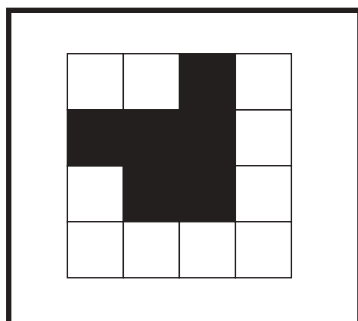
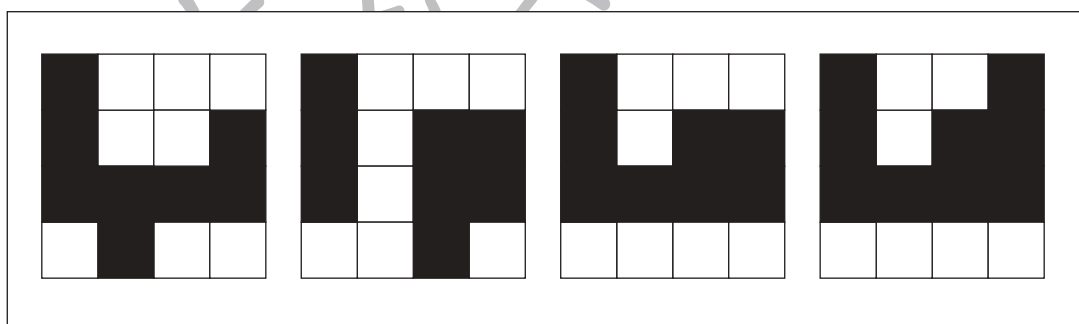

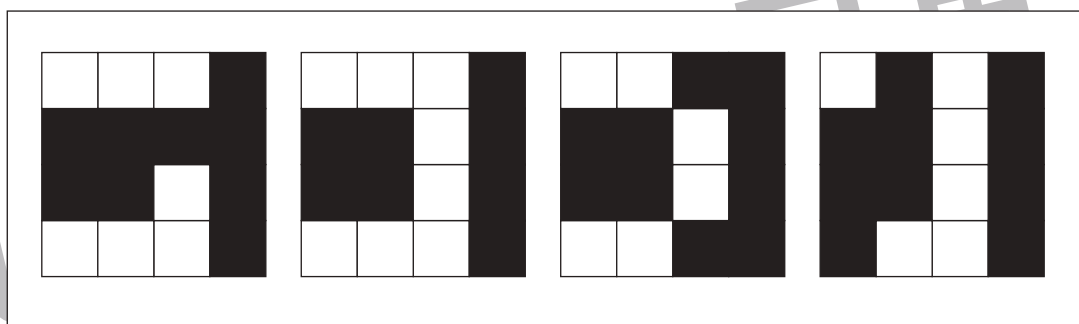
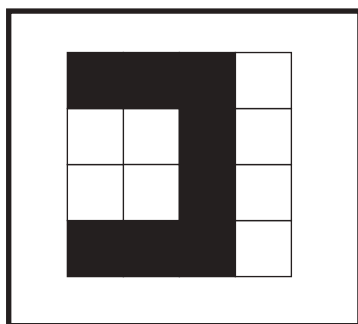


おうちで、やろう。

Study at home. 小学校受験の家庭学習教材

図形：置き換え9

左の四角の中がお手本の形です。このお手本の黒い四角を白い四角にかえます。白い四角は黒い四角にかえます。この約束で色をかえたとき、正しいものを右の4つの中から選んで○をつけます。



※1. このプリントは、しながわ・目黒こどもスクールのウェブサイトでダウンロードができます。無断複写・引用はご遠慮ください。

※2. このプリントを活用したオンライン授業のスケジュールは、しながわ・目黒こどもスクールのウェブサイトでご確認ください。





おうちで、やろう。

Study at home. 小学校受験の家庭学習教材

図形：置き換え 10

左の四角の中がお手本の形です。このお手本の黒い丸を白い丸にかえます。白い丸は黒い丸にかえます。この約束で色をかえたとき、正しいものを右の4つの中から選んで○をつけます。

Figure 10: A 5x5 grid of circles. The original pattern is as follows:

○	○	○	●	○
●	●	○	●	○
●	○	○	●	○
●	●	●	●	○
○	○	○	○	○

Figure 10 consists of five rows of visual puzzles. Each row contains a 5x5 grid of circles on the left, followed by four 5x5 grids on the right. The circles in the grids are either black (●) or white (○). The goal is to identify which of the four options on the right is the result of swapping all black circles to white and all white circles to black in the original grid.

※1. このプリントは、しながわ・目黒こどもスクールのウェブサイトでダウンロードができます。無断複写・引用はご遠慮ください。
※2. このプリントを活用したオンライン授業のスケジュールは、しながわ・目黒こどもスクールのウェブサイトでご確認ください。



おうちで、やろう。

Study at home. 小学校受験の家庭学習教材

推理：四方観察 15

上の四角の中の積み木を矢印の方向（上）から見ます。このとき、見える積み木はいくつですか。その数だけ下の四角に○をかきます。

↓

↓

↓

↓

↓

↓

※1. このプリントは、しながわ・目黒こどもスクールのウェブサイトでダウンロードができます。無断複写・引用はご遠慮ください。
 ※2. このプリントを活用したオンライン授業のスケジュールは、しながわ・目黒こどもスクールのウェブサイトでご確認ください。



おうちで、やろう。

Study at home. 小学校受験の家庭学習教材

推理：四方観察 16

上の四角の中の積み木を矢印の方向（上）から見ます。このとき、見える積み木はいくつですか。その数だけ下の四角に○をかきます。

↓

↓

↓

↓

↓

↓

※1. このプリントは、しながわ・目黒こどもスクールのウェブサイトでダウンロードができます。無断複写・引用はご遠慮ください。
 ※2. このプリントを活用したオンライン授業のスケジュールは、しながわ・目黒こどもスクールのウェブサイトでご確認ください。



おうちで、やろう。

Study at home. 小学校受験の家庭学習教材

推理：四方観察 17

上の四角の中の積み木を矢印の方向（左）から見ます。このとき、見える積み木はいくつですか。その数だけ下の四角に○をかきます。

→

→

→

→

→

→

※1. このプリントは、しながわ・目黒こどもスクールのウェブサイトでダウンロードができます。無断複写・引用はご遠慮ください。
 ※2. このプリントを活用したオンライン授業のスケジュールは、しながわ・目黒こどもスクールのウェブサイトでご確認ください。



おうちで、やろう。

Study at home. 小学校受験の家庭学習教材

推理：四方観察 18

上の四角の中の積み木を矢印の方向（左）から見ます。このとき、見える積み木はいくつですか。その数だけ下の四角に○をかきます。

→

→

→

→

→

→

※1. このプリントは、しながわ・目黒こどもスクールのウェブサイトでダウンロードができます。無断複写・引用はご遠慮ください。
 ※2. このプリントを活用したオンライン授業のスケジュールは、しながわ・目黒こどもスクールのウェブサイトでご確認ください。

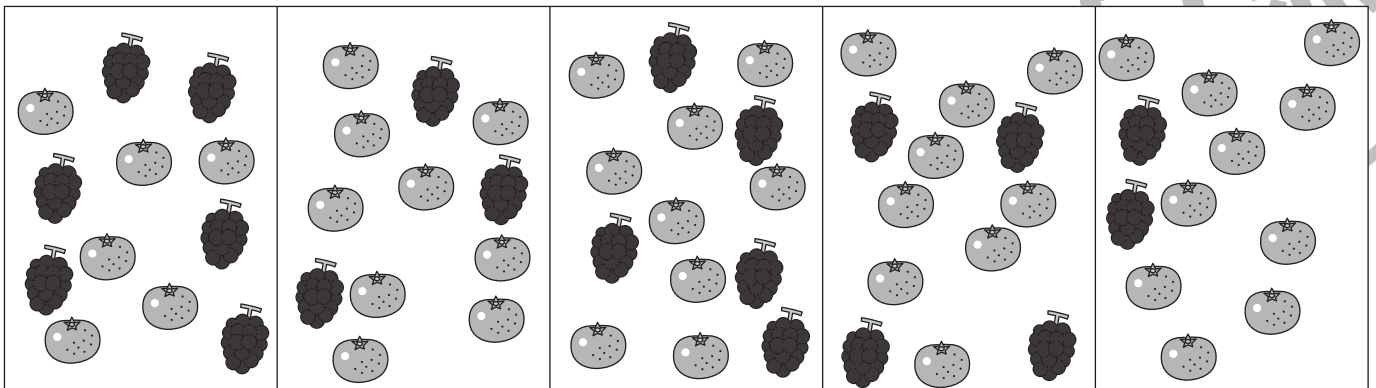
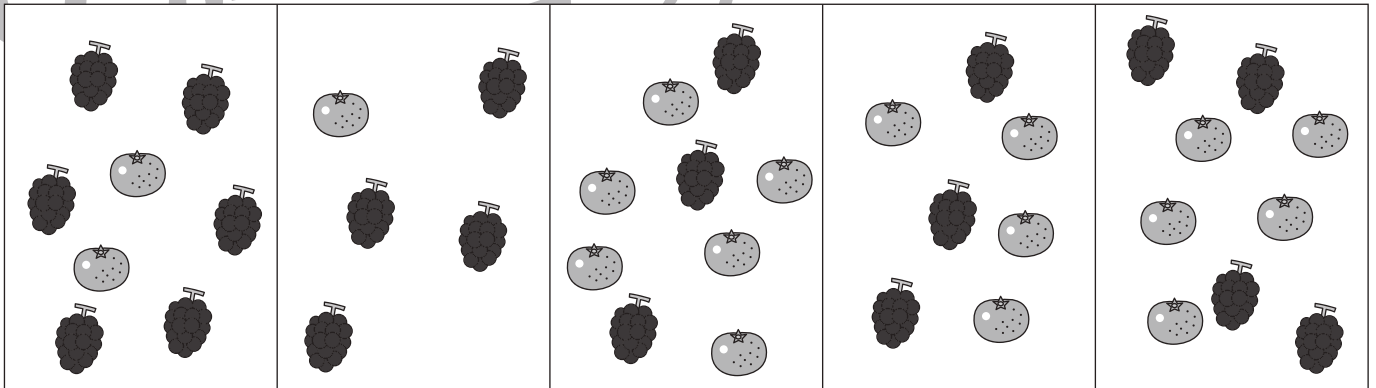
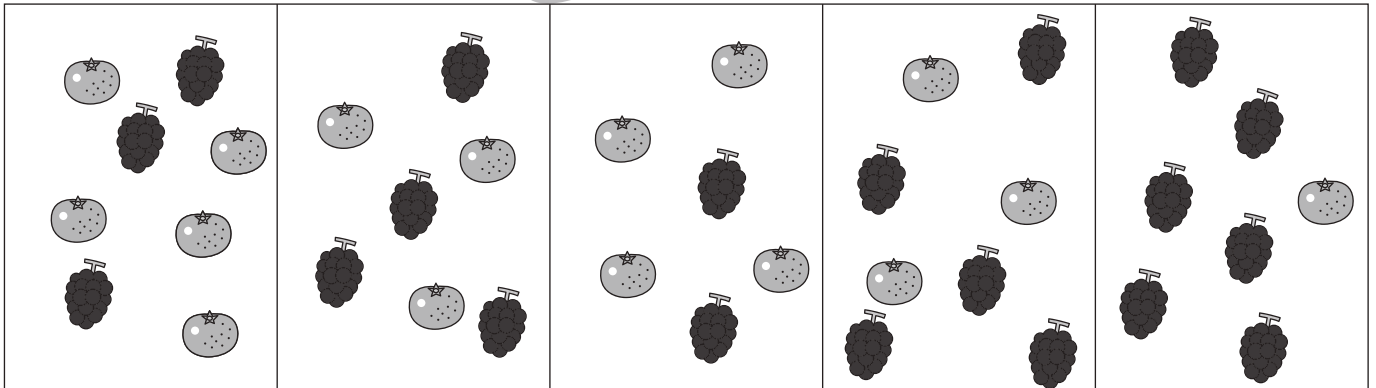
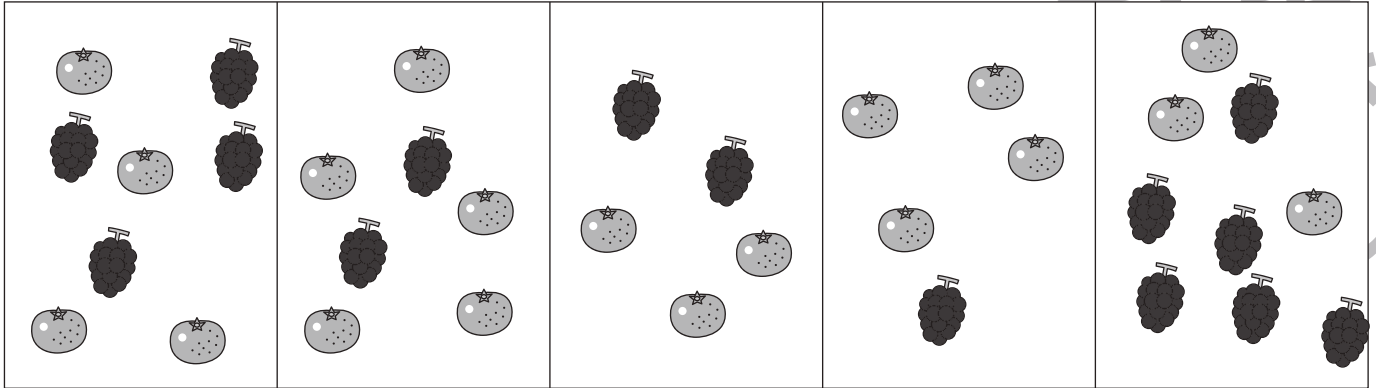


おうちで、やろう。

Study at home. 小学校受験の家庭学習教材

処理：多少4

横に並んだ5つの四角の中には、みかんとぶどうがあります。このうち、みかんの数が一番多いものに○をつけましょう。
この問題はスピードを意識して取り組む練習をしてみましょう。(1分30秒～2分)



※1. このプリントは、しながわ・目黒こどもスクールのウェブサイトでダウンロードができます。無断複写・引用はご遠慮ください。
 ※2. このプリントを活用したオンライン授業のスケジュールは、しながわ・目黒こどもスクールのウェブサイトでご確認ください。